



Atlas de México

Cuarto grado

ATLAS DE MÉXICO



EDUCACIÓN
SECRETARÍA DE EDUCACIÓN PÚBLICA

Secretaría de Educación Pública

Delfina Gómez Álvarez

Subsecretaría de Educación Básica

Martha Velda Hernández Moreno

Dirección General de Materiales Educativos

Marx Arriaga Navarro

Coordinación de serie

Lino Contreras Becerril

Coordinación de contenidos

Alberto Sánchez Cervantes, Estanislao Hernández Figueroa, César Alberto Campos Velasco, Eduardo Pérez Sosa, Ricardo Flores Cuevas

Coordinación editorial

Alejandro Portilla de Buen

Cuidado de la edición

Alejandro Correa Sandoval, José Pulido Mata

Diseño y formación

Eduardo Águila González

Producción editorial

Martín Aguilar Gallegos

Preprensa

Citlali María del Socorro Rodríguez Merino

Iconografía

Diana Mayén Pérez, Irene León Coxtinica, Emmanuel Adamez Téllez

Portada

Diseño: Martín Aguilar Gallegos

Iconografía: Irene León Coxtinica

Imagen: *El tractor* (detalle), 1928, Diego Rivera (1886-1957), fresco,

4.34 x 1.89 m, ubicado en el Patio de las Fiestas, segundo nivel,
D. R. © Secretaría de Educación Pública, Dirección General de Proyectos Editoriales y Culturales/fotografía de Gerardo Landa Rojano;
D. R. © 2021 Banco de México, Fiduclario en el Fideicomiso relativo a los Museos Diego Rivera y Frida Kahlo. Av. 5 de Mayo No. 2, col. Centro, Cuauhtémoc, C. P. 06059, Ciudad de México; reproducción autorizada por el Instituto Nacional de Bellas Artes y Literatura, 2021.

Información estadística, geográfica y cartográfica: Inegi

Dirección General de Vinculación y Servicio Público de Información

Dirección General de Geografía y Medio Ambiente

Dirección General de Estadísticas

Dirección General de Estadísticas Económicas

Dirección General de Estadísticas de Gobierno, Seguridad Pública y Justicia

Colaboradores

Leticia Ruiz Mendoza, J. Trinidad Carrillo Martínez, Honorio Juárez Hernández, J. Jesús Villalpando Esparza, Tirso Velázquez Navarro, José Adolfo Gómez Mendoza, Ana Violeta Zamora Gallegos, Edgar Padilla García, Mariana Flores Mendoza, César González López, Fabiola Palacios Borbón, Araceli Chávez Luna, Damián Alarcón Marín

Apoyos institucionales para la información estadística, geográfica y cartográfica:

Centro Nacional de Prevención de Desastres (Cenapred)

Comisión Nacional de Áreas Naturales Protegidas (Conanp)

Comisión Nacional de Hidrocarburos (CNH)

Comisión Nacional del Agua (Conagua)

Comisión Nacional para el Conocimiento y Uso de la Biodiversidad (Conabio)

Consejo Nacional de Evaluación de la Política de Desarrollo Social (Coneval)

Consejo Nacional de Población (Conapo)

El Colegio de México (Colmex)

Fondo Nacional para el Fomento de las Artesanías (Fonart)

Instituto Nacional de Antropología e Historia (INAH)

Instituto Nacional de los Pueblos Indígenas (INPI)

Instituto Nacional Electoral (INE)

Instituto Nacional de Estadística y Geografía (INEGI)

Secretaría de Economía (SE)

Secretaría de Energía (SENER)

Secretaría de Medio Ambiente y Recursos Naturales (SEMARNAT)

Secretaría de Salud (Salud)

Secretaría de Turismo (SECTUR)

Servicio de Información Agroalimentaria y Pesquera (SIAP)

Universidad Nacional Autónoma de México (UNAM)

Primera edición, 2019

Primera reimpresión, 2021 (ciclo escolar 2021-2022)

D. R. © Secretaría de Educación Pública, 2019,
Argentina 28, Centro,
06020, Ciudad de México

ISBN: 978-607-551-314-0

Impreso en México

DISTRIBUCIÓN GRATUITA-PROHIBIDA SU VENTA

Presentación

El *Atlas de México* fue elaborado para cumplir con el anhelo compartido de que en el país se ofrezca una educación con equidad y calidad, en la que todos los alumnos aprendan, sin importar su origen, su condición personal, económica o social, y en la que se promueva una formación centrada en la dignidad humana, la solidaridad, el amor a la patria, el respeto y cuidado de la salud, así como la preservación del medio ambiente.

En su elaboración han participado maestras y maestros, especialistas y académicos; gracias a ellos es posible que este material llegue a las manos de todos los estudiantes del país. Con las opiniones y propuestas de mejora que surjan de su uso en el aula se enriquecerán sus contenidos, por lo mismo invitamos a compartir observaciones y sugerencias a la Dirección General de Materiales Educativos de la Secretaría de Educación Pública y al correo electrónico: librosdetexto@nube.sep.gob.mx.

Índice

1

Naturaleza

8

México en el mundo	10	Precipitación anual	17
Placas tectónicas, regiones sísmicas y principales volcanes	11	Fenómenos y peligros hidrometeorológicos	18
Relieve	12	Regiones naturales	19
Principales ríos, lagos, lagunas y presas	13	Plantas endémicas	20
Aguas subterráneas	14	Animales endémicos	21
Climas	15	Biodiversidad (infografía)	22
Temperatura	16	Áreas Naturales Protegidas federales	23

2

Sociedad

24

Población total	26	Principales enfermedades en niños de 10 a 14 años (infografía)	37
Densidad poblacional	27	Mortalidad	38
Emigración interna	28	Principales causas de muerte en México (infografía)	39
Inmigración interna	29	Discriminación	40
Emigración internacional	30	Trabajo infantil	41
Escolaridad	31	Fecundidad en adolescentes	42
Alfabetización	32	Impacto ambiental	43
Pueblos indígenas	33	Calidad del agua de los ríos	44
Rezago social	34	Desarrollo humano	45
Pobreza	35		
Malnutrición infantil	36		

3

Economía

46

Agricultura	48	Comercio	59
Ganadería	49	Corredores carreteros	60
Pesca y acuicultura	50	Vías férreas, aeropuertos y puertos de altura	61
Producción forestal maderable	51	Servicios	62
Minería	52	Servicios de salud	63
Extracción de petróleo y gas natural	53	Población económicamente activa	64
Industria	54	Población no económicamente activa	65
Consumo de energía eléctrica	55	Desigualdad económica	66
Generación de energía eléctrica	56	Destinos turísticos	67
Generación de energía eléctrica (infografía)	57	Turismo de naturaleza	68
Manufactura	58	Principales tratados comerciales	69

4 Política 70

División antigua (provincias y reinos), 1550–1776	72	División territorial	76
División territorial, 1843-1846	73	Límites territoriales, islas y mares	77
Mapa de los Estados Unidos de Méjico, 1828	74	Ciudadanos con credencial para votar	78
La invasión norte-americana, 1846-1848	75	Censo de Población y Vivienda (infografía)	79

5 Cultura 80

México antiguo y sus tres superáreas culturales	82	Vestimenta indígena	87
Mesoamérica y sus áreas culturales	83	Patrimonio Mundial	88
Zonas arqueológicas	84	Museos	89
Comunidades afroamericanas (infografía)	85	Gastronomía (infografía)	90
Hablantes de lenguas indígenas	86	Artesanías (infografía)	91

6 Entidades federativas 92

Actividades con los mapas estatales	94	Morelos	112
Aguascalientes	96	Nayarit	113
Baja California	97	Nuevo León	114
Baja California Sur	98	Oaxaca	115
Campeche	99	Puebla	116
Chiapas	100	Querétaro	117
Chihuahua	101	Quintana Roo	118
Ciudad de México	102	San Luis Potosí	119
Coahuila de Zaragoza	103	Sinaloa	120
Colima	104	Sonora	121
Durango	105	Tabasco	122
Estado de México	106	Tamaulipas	123
Guanajuato	107	Tlaxcala	124
Guerrero	108	Veracruz	125
Hidalgo	109	Yucatán	126
Jalisco	110	Zacatecas	127
Michoacán	111		

Conoce tu Atlas

El *Atlas de México* es una fuente de consulta que te ayudará a comprender y a entender con mayor precisión nuestro país y el espacio que compartes con tu familia y tus amigos.

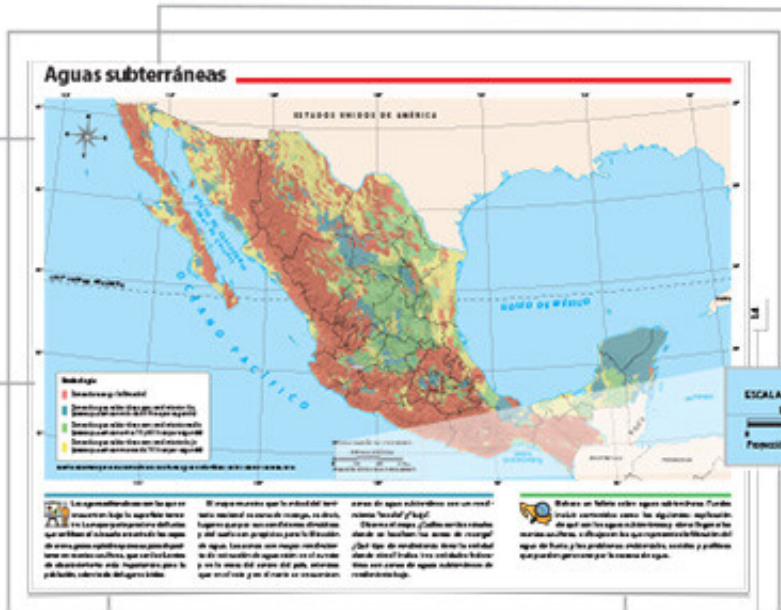
Se divide en seis capítulos: **Naturaleza, Sociedad, Economía, Política, Cultura y Entidades federativas**. Los primeros cinco contienen mapas nacionales y en el último hallarás los mapas de las 32 entidades federativas de los Estados Unidos Mexicanos.

Además de ubicar nuestro país en el mundo, el *Atlas* te aporta información acerca del clima, las plantas, los animales, la temperatura, los ríos y los lagos de México, así como de algunos fenómenos hidrometeorológicos y geológicos que nos afectan. También te mostrará aspectos sobre la población en el país y un panorama de la distribución de recursos a nivel nacional, así como de las principales actividades productivas.

Como este libro está conformado en su mayoría por mapas, es preciso que conozcas cuáles son sus elementos para que puedas leerlos e interpretarlos adecuadamente.

Un aspecto importante que debes considerar al estudiar los mapas de las entidades y el nacional de "Relieve" es una barra de colores que indica los **rangos de elevación**, que se refieren a la altura del terreno respecto al nivel del mar. Los colores verdes indican poca elevación, mientras que los café-rojizos señalan las zonas de mayor altitud, como sierras, volcanes y cerros.

Elementos del mapa nacional



El **título** te ayudará a identificar cuál es el tema o contenido.

La **escala numérica** te servirá para conocer cuánto se redujeron las dimensiones reales del terreno en el mapa. La **escala gráfica** es una línea recta graduada en la que se muestra la relación entre la longitud en el mapa y la real. Su objetivo es medir la distancia entre dos puntos para aproximarse a la distancia real.

El **sistema de proyección** es un método utilizado para trasladar los elementos de la esfera terrestre a una superficie plana.

En la **descripción general** encontrarás definiciones, datos y actividades que te permitirán conocer mejor cada mapa.

En este apartado encontrarás un **reto** que te llevará a investigar y aplicar tus conocimientos sobre tu país y la entidad donde vives.

La **rosa de los vientos** es un símbolo que sirve para señalar los puntos cardinales en el mapa.

La **simbología** representa la información del mapa mediante figuras, signos, líneas, colores o puntos.

Elementos del mapa estatal

En esta parte encontrarás el **nombre** de cada entidad federativa.

En la **pirámide poblacional** encontrarás la estructura de la población de cada estado: cuántas mujeres y hombres viven ahí, sus edades, y si hay más niños y jóvenes o personas mayores.

Las **localidades más pobladas** se presentan como una lista en orden ascendente de los lugares con mayor número de habitantes.

En el recuadro de **principales actividades económicas** encontrarás la actividad productiva preponderante, ya sea industrial, agrícola, pesquera o minera, entre otras.

La entidad federativa denominada México aparece con el nombre de Estado de México, como se le conoce comúnmente, incluso cuando su nombre oficial es México, de acuerdo con el artículo 43 de la Constitución Política de los Estados Unidos Mexicanos.



Las escalas **numérica y gráfica** indican la reducción a la que se sometieron los elementos representados en el mapa y su equivalencia en distancia real de un punto a otro.

Los **rangos de elevación** muestran qué tan alto se encuentra el terreno respecto al nivel del mar.

La **simbología general** es información relevante de cada entidad. Incluye su capital, límites estatales, aspectos culturales y turísticos, así como elementos naturales representativos.

Los límites estatales del *Atlas de México* corresponden a la delimitación de las Áreas Geoestadísticas Estatales que representan a las 32 entidades federativas del país.

La delimitación se apega en lo posible a los límites político-administrativos con sustento legal. Si éstos no existen, o no hay documentación disponible, la delimitación considera los rasgos físicos o culturales identificables en el terreno y que sean perdurables en el tiempo.

Nota: Los datos de superficies fueron obtenidos de las Áreas Geoestadísticas Estatales en su parte continental, así como de las islas Cozumel y Mujeres, y se basan en el sistema de coordenadas proyectadas *World Cylindrical Equal Area*.
Fuente: Instituto Nacional de Estadística y Geografía (INEGI), Marco Geoestadístico, Censo de Población y Vivienda 2020.

Elementos de una infografía

Los **textos introductorios** presentan un panorama general de un tema tratado.



Las **infografías** son una representación visual informativa que resume o explica figurativamente un contenido determinado.

El **título** te ayudará a identificar cuál es el tema o contenido desarrollado.

Las **gráficas** te permitirán interpretar de manera clara, visual y resumida algunos aspectos relevantes del tema.



Naturaleza



Todos los días, al salir de tu casa, percibes la luz del Sol, la temperatura, la humedad y el viento. En ciertos lugares pueden admirarse montañas, valles, animales, plantas, ríos y lagos. Todo esto, en conjunto, es lo que conocemos como naturaleza.

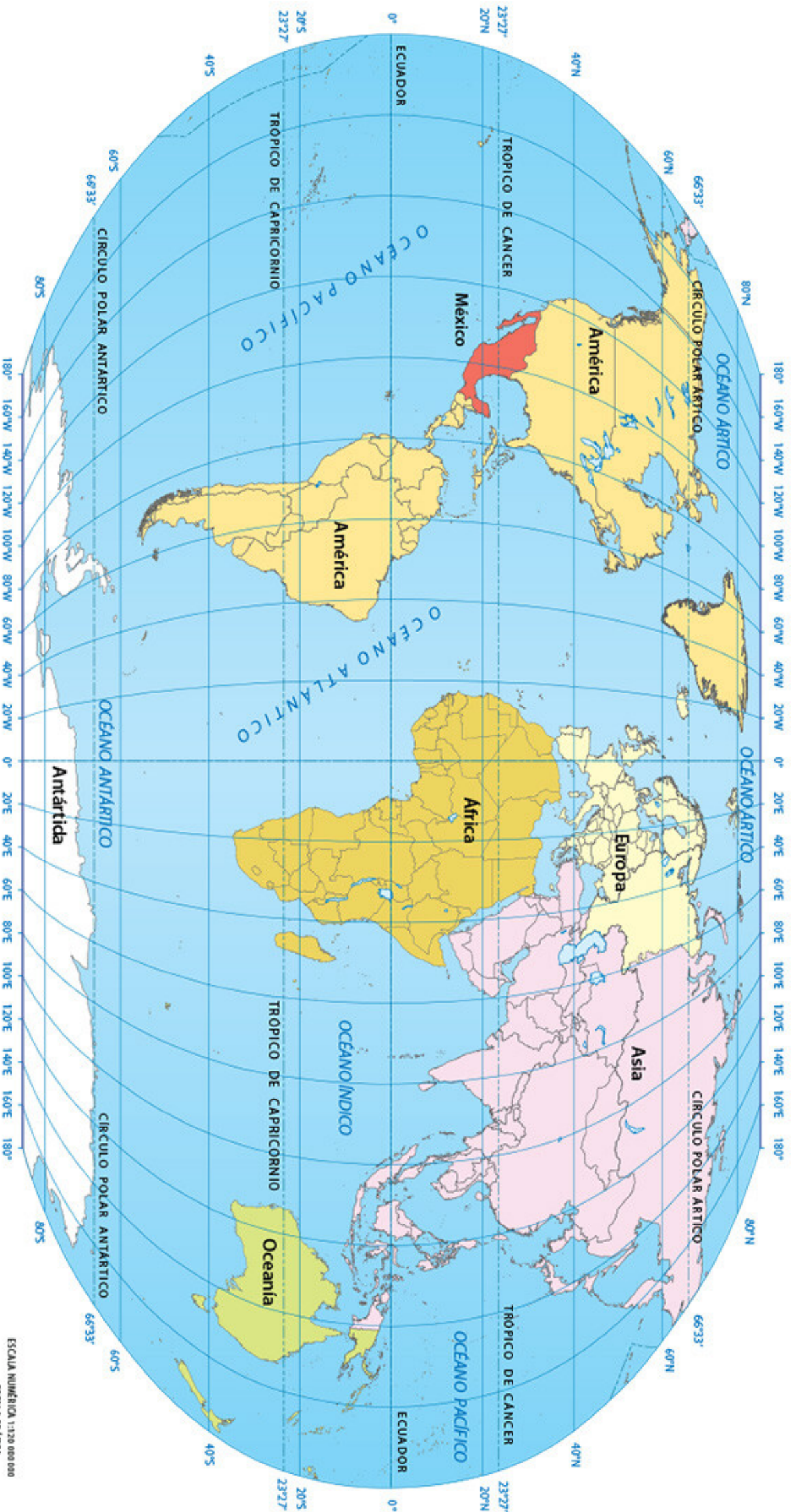
A la naturaleza la integran los **elementos** (ríos, montañas, animales) y los **procesos naturales** (lluvia, huracanes, heladas, sismos) cuya existencia es independiente a la presencia de los seres humanos.

Conocer cómo se originan y se manifiestan estos elementos y procesos nos permite identificar los beneficios económicos, ambientales y culturales que nos proporcionan, así como los posibles riesgos que generan.


La naturaleza nos provee de alimentos, regula la temperatura del ambiente y regenera el oxígeno que respiramos, entre muchos otros beneficios que nos aporta. Por ello, es importante valorarla y conservarla.

En este capítulo encontrarás mapas con los procesos de la naturaleza que ocurren en el territorio nacional, así como de la distribución de los elementos naturales que hay en nuestro país.

México en el mundo



Fuente: Elaborado por línea con datos de la base cartográfica ARCSIS v.10.6, ESRI.
Hoja de trabajo N° 54 del Grupo de Expertos de las Naciones Unidas en Nombres Geográficos, 2011.

 Nuestro país es parte de un territorio más amplio denominado continente americano. Si tomamos en cuenta el ecuador, se localiza en el hemisferio norte y, en relación con el meridiano cero o de Greenwich, se encuentra en el hemisferio occidental.

En el mapa se observa que el mundo está dividido en cinco continentes: América, Europa, Asia, África y Oceanía. México se ubica en la región norte del primero. También se aprecian los cinco océanos que rodean a las masas continentales: Pacífico, Atlántico, Índico, Ártico y Antártica.

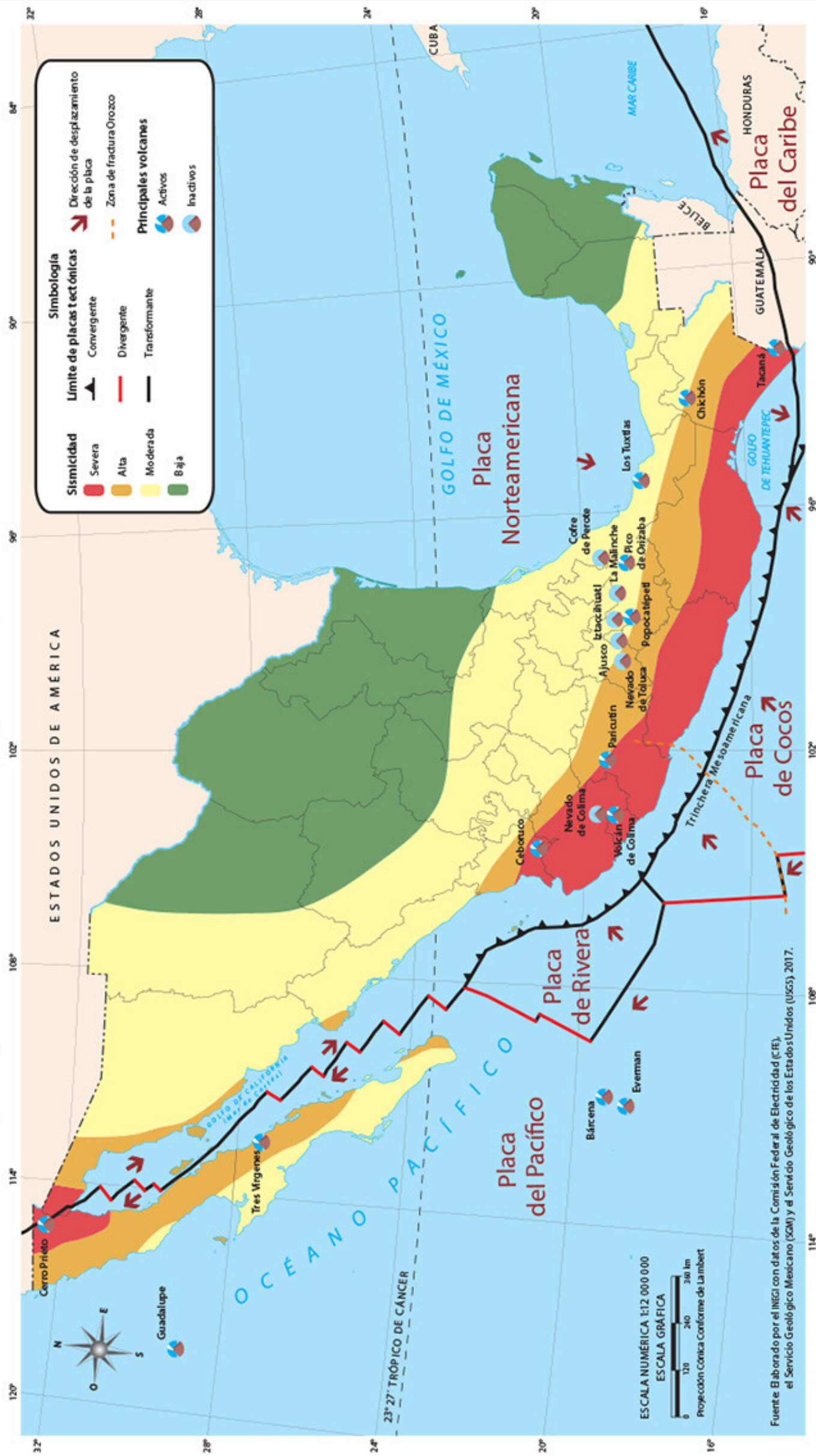
Observa el mapa y responde: ¿cuáles son los dos grandes océanos que rodean al continente americano y, por lo tanto, a México?, ¿cuál es el nombre del trópico que atraviesa el territorio nacional?



Identifica cuáles son los límites territoriales de México en cada punto cardinal, haz una lista de ellos, dibuja un mapa de nuestro país y marca en él todos sus límites.



Placas tectónicas, regiones sísmicas y principales volcanes



Las placas tectónicas son fragmentos de la corteza terrestre que están en constante movimiento. Cuando éstas se acomodan dan origen al relieve, a los volcanes y a los sismos.

El territorio nacional se ubica sobre cinco placas tectónicas, la de mayor extensión es la Nor-

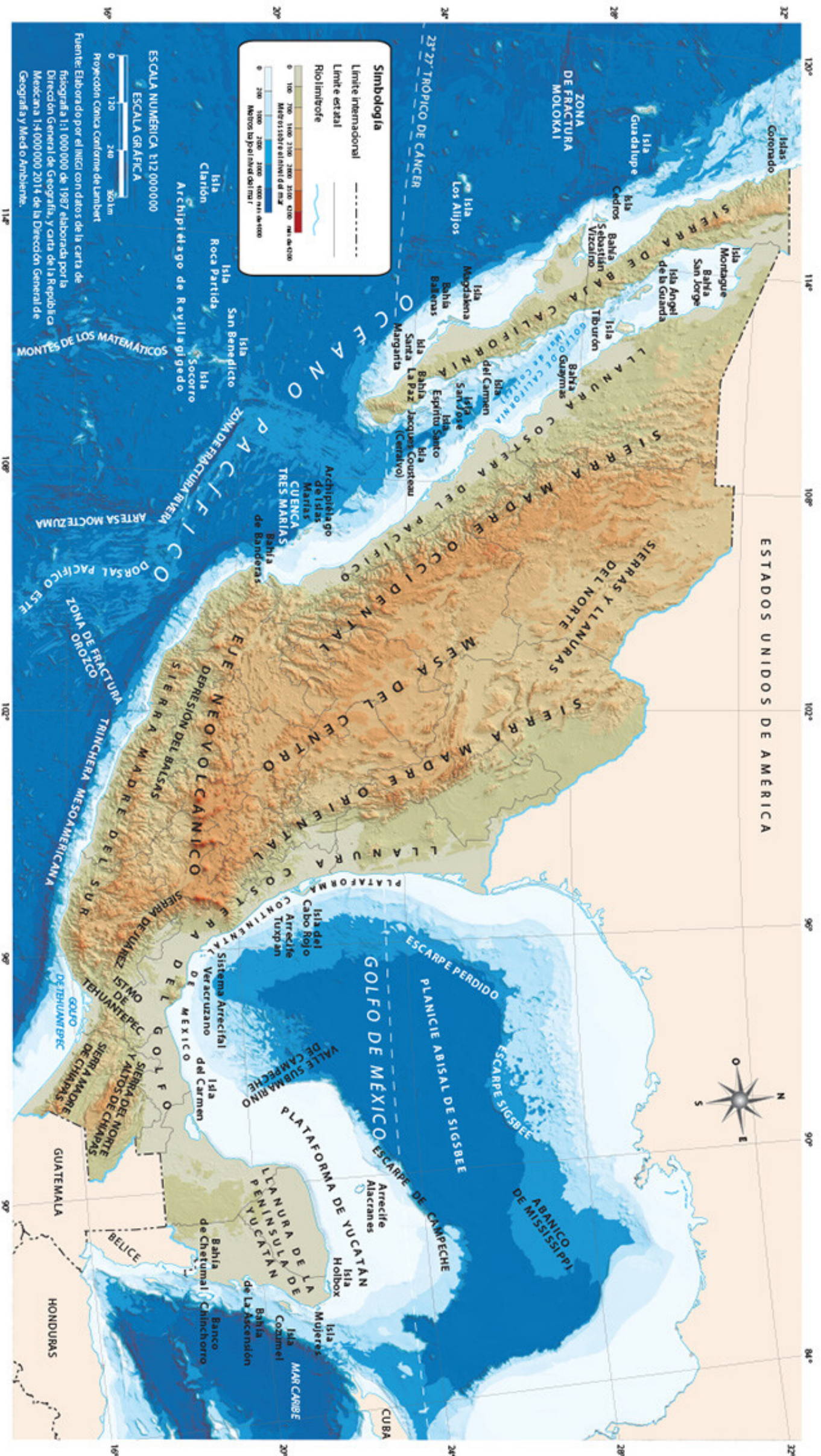
teamericana. La línea de color negro es el límite de las placas donde se genera la mayor cantidad de sismos. El choque entre las placas de Norteamérica y de Cocos crea el vulcanismo del centro del país y los sismos de mayor magnitud.

Observa el mapa: primero identifica el grado de sismicidad de tu entidad; segundo, re-

visa si hay volcanes ahí o en los estados vecinos; por último, interpreta a qué atribuyes que las zonas en verde en el mapa cuenten con baja sismicidad y no tengan volcanes.

Las características de nuestro país nos exigen ser cuidadosos y tener un plan para reducir riesgos. Por ello, elabora una lista con 10 acciones que debes seguir ante el riesgo de actividad sísmica o volcánica. Amplia tu lista con el *Manual de protección civil* del Centro Nacional de Prevención de Desastres (Cenapred).

Relieve



El relieve es el conjunto de formas en la superficie de la Tierra, por ejemplo, montañas, llanuras, mesetas y depresiones. Las montañas son partes elevadas que al alinearse forman sierras; las llanuras son planicies cercanas a la costa; las mesetas, mesas o altiplanos son superficies planas y elevadas, y las depresiones son

porciones de terreno hundidas respecto a otras circundantes.

El relieve del territorio mexicano es variado: tiene grandes sierras, extensas llanuras costeras cerca del golfo de México, del Pacífico y en la península de Yucatán. Las mesetas se encuentran en el centro y norte, en tanto que la depresión más amplia,

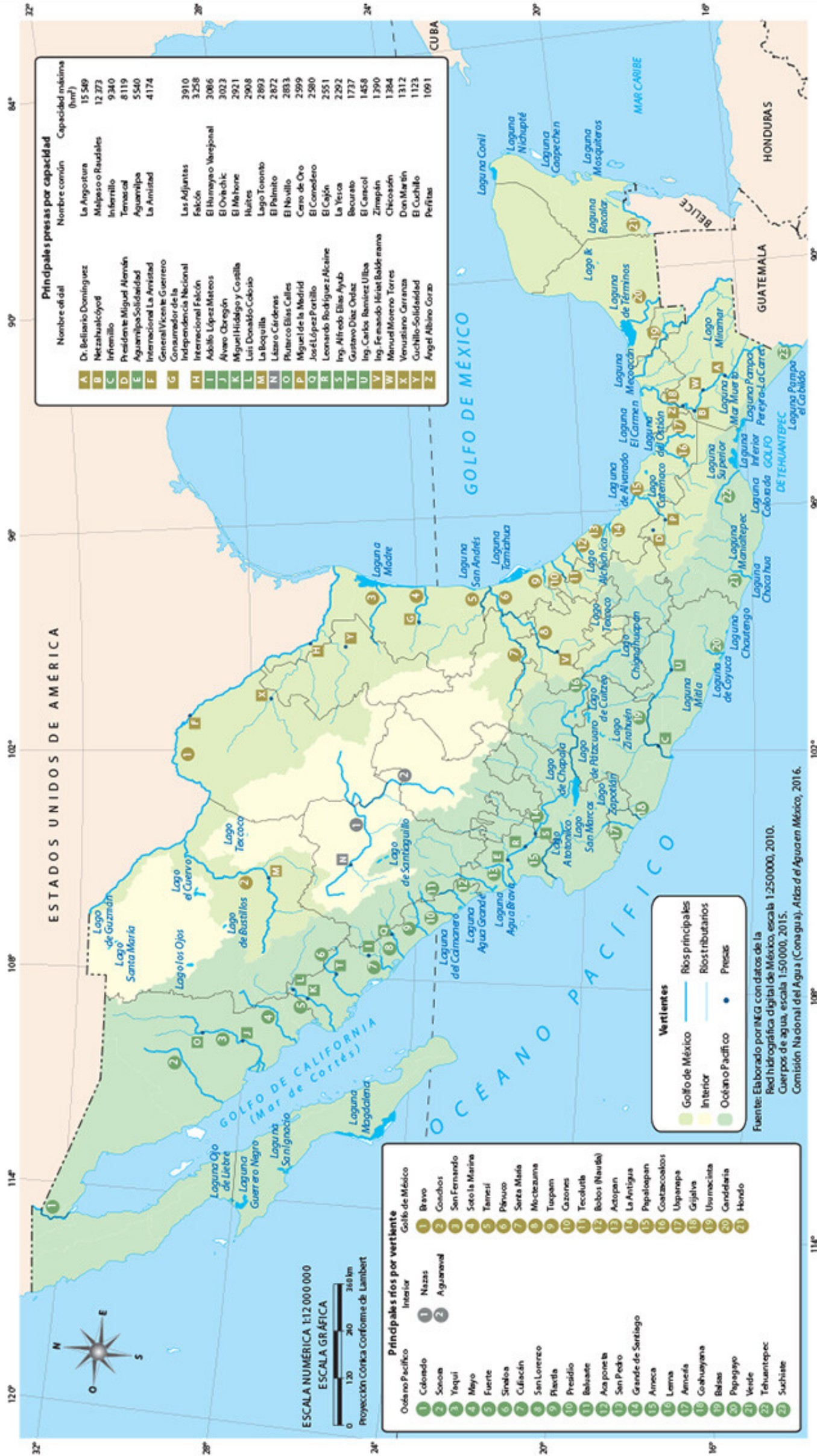
que es la del río Balsas, se localiza en el sur del país.

Observa el mapa. ¿Cuál es la forma de relieve predominante en el territorio mexicano? Anota el nombre de tres sierras que destaquen en México y de tres entidades en las que el relieve plano sea el más común.



Con plastilina u otro material moldeable, elabora una maqueta del relieve de México. Representa las principales sierras, mesetas, planicies y depresiones con los nombres que les corresponden. Identifica las principales formas del relieve de tu estado. Reflexiona sobre la importancia de estas formas de la superficie terrestre en las actividades humanas.

Principales ríos, lagos, lagunas y presas



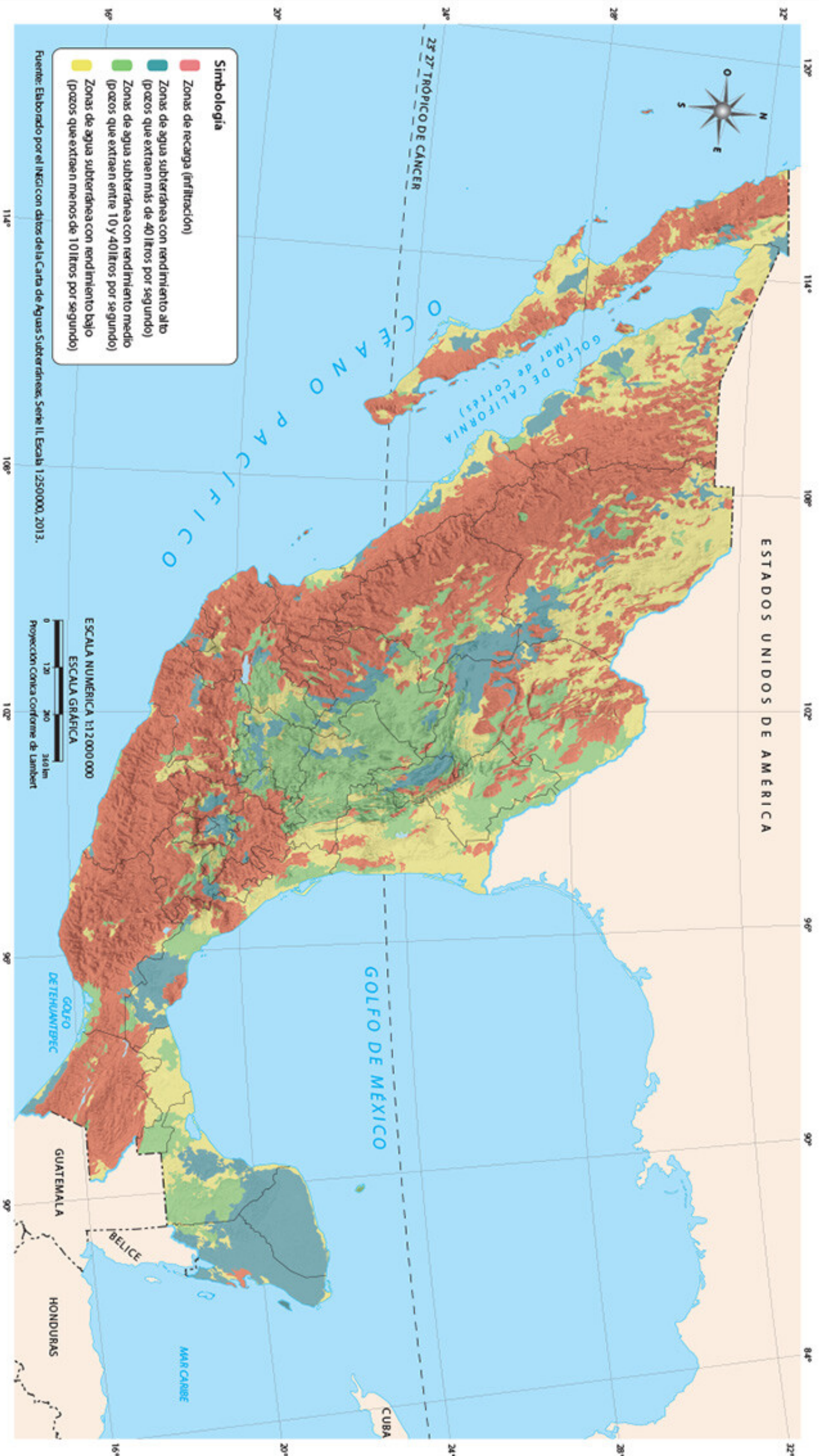
El agua superficial se encuentra en distintas formas dentro del territorio, principalmente, en corrientes llamadas "ríos", así como en cuerpos que cuando están lejos del mar se llaman "lagos" y cuando se hallan cerca de la costa reciben el nombre de "lagunas". También hay presas, que son grandes construcciones para almacenar agua.

México cuenta con tres vertientes por las que fluyen sus ríos: la vertiente del océano Pacífico, con alrededor de cien ríos; la vertiente del golfo de México, con 46 ríos; y la vertiente Interior, con dos ríos que no tienen salida al mar. Además, cuenta con importantes lagos, como Chapala y Pátzcuaro, y lagunas como las de Bacalar, Tamiahua y de Cuyuca.

Identifica la vertiente en la que desembocan los ríos de tu estado o, en su caso, los ríos de la vertiente Interior. Elabora una tabla con los ríos, lagos, lagunas y presas que se encuentran en él. Para hacer esta actividad, también puedes consultar la sección de "Entidades federativas", que se encuentra en la página 92.

Generalmente, los ríos, lagos y lagunas tienen problemas de contaminación. Elige un cuerpo de agua de tu entidad e indaga cuál es su grado de contaminación, los efectos que tiene sobre los seres vivos y cuál es la fuente contaminante; escribe cinco acciones para recuperarlo y preservarlo. Para realizar esta actividad te puedes apoyar en el mapa "Calidad del agua de los ríos", de la página 44. Con base en la información obtenida, elabora una historieta sobre la contaminación de los cuerpos de agua.

Aguas subterráneas



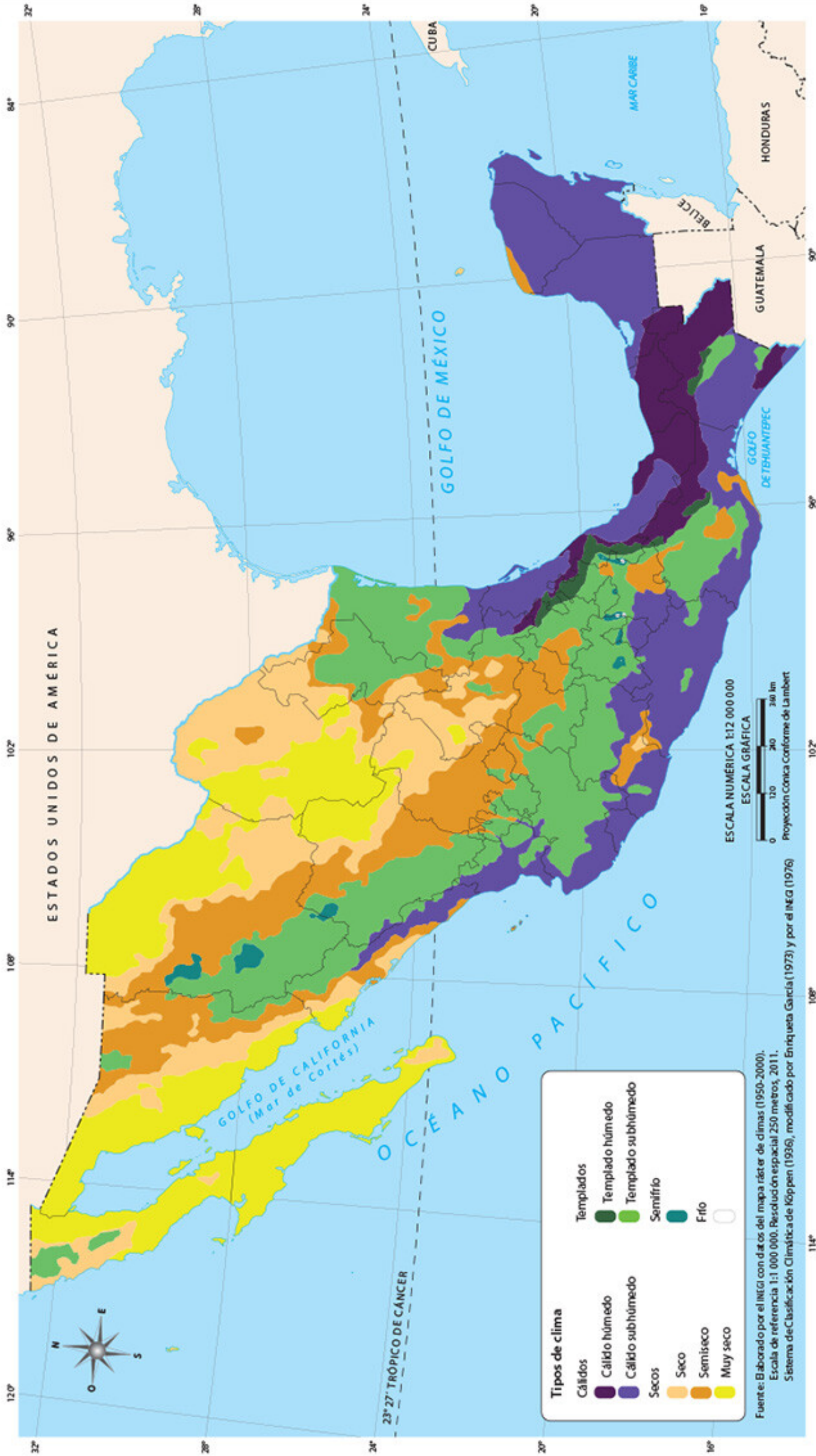
Las aguas subterráneas son las que se encuentran bajo la superficie terrestre. La mayor parte proviene de lluvias que se filtran al subsuelo a través de las capas de arena, grava o piedras porosas para depositarse en mantos acuíferos, que son las fuentes de abastecimiento más importantes para la población, sobre todo de lugares áridos.

El mapa muestra que la mitad del territorio nacional es zona de recarga, es decir, lugares que por sus condiciones climáticas y del suelo son propicios para la filtración de agua. Las zonas con mayor rendimiento de extracción de agua están en el sureste y en la mesa del centro del país, mientras que en el este y en el norte se encuentran

zonas de agua subterránea con un rendimiento "medio" y "bajo".
 Observa el mapa. ¿Cuáles son los estados donde se localizan las zonas de recarga? ¿Qué tipo de rendimiento tiene la entidad donde vives? Indica tres entidades federales con zonas de aguas subterráneas de rendimiento bajo.

Elabora un folleto sobre aguas subterráneas. Puedes incluir contenidos como los siguientes: explicación de qué son las aguas subterráneas y cómo llegan a los mantos acuíferos, o dibujos en los que representes la filtración del agua de lluvia y los problemas ambientales, sociales y políticos que pueden generarse por la escasez de agua.

Climas



El clima es el conjunto de condiciones y características atmosféricas de una región a partir de la observación e información meteorológica obtenida durante al menos 10 años. Los factores que determinan el clima son los siguientes: la latitud, la altitud, el relieve, la distancia al mar y las corrientes marinas.

En México, existe una gran variedad de climas. En el norte del país, predominan los secos; al sur, los cálidos; al este, los cálidos y los templados, y, al oeste, los cálidos, templados y secos.

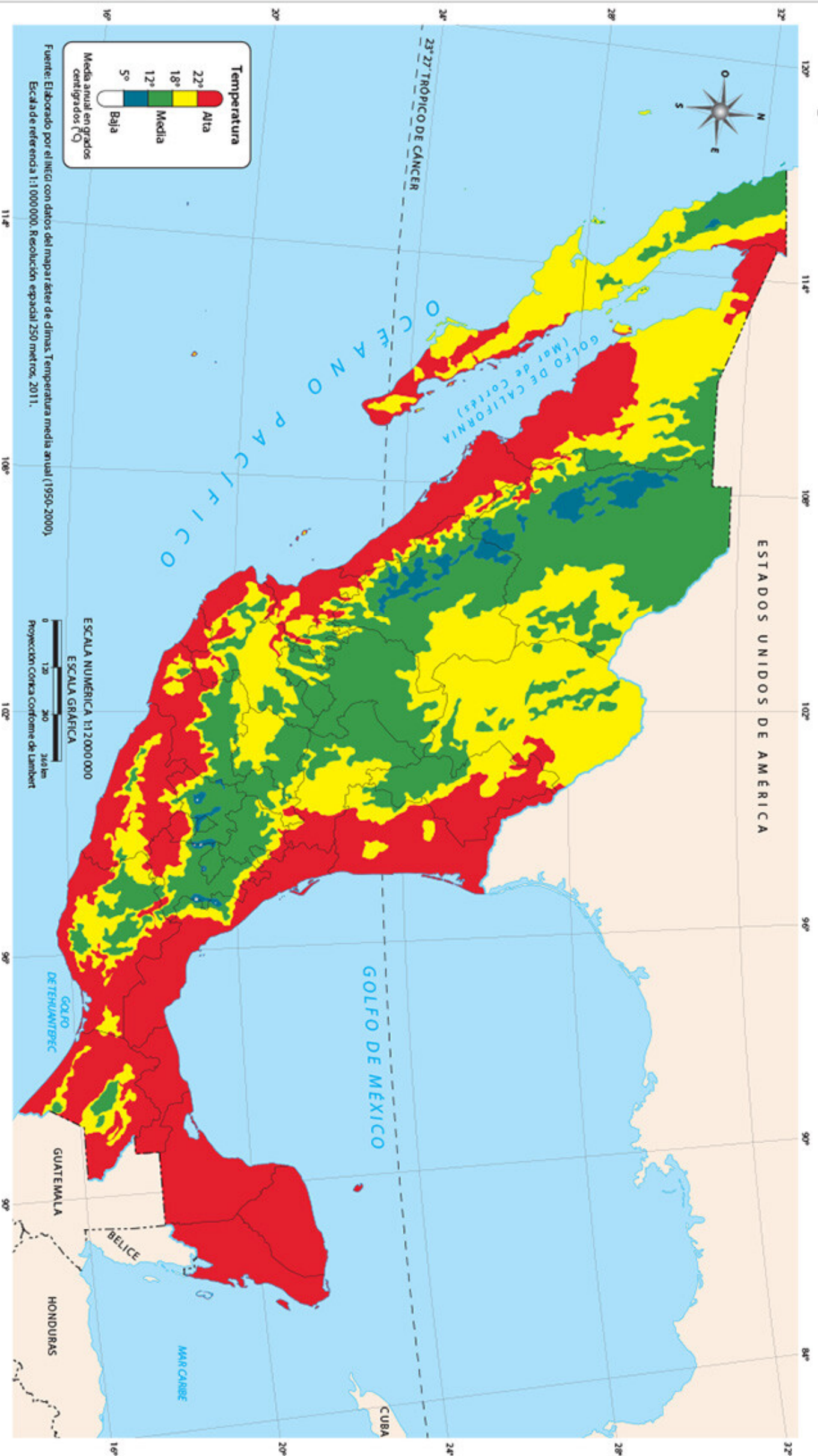
Con ayuda del mapa de "Relieve" de la página 12, encuentra la relación que hay entre las sierras Madre Oriental y Madre

Occidental con el clima templado subhúmedo. ¿Qué factor del clima relacionado con el relieve es determinante en esta relación?



Describe cómo percibes los siguientes elementos del clima en tu localidad: temperatura, lluvia, humedad, viento y nubosidad. Comenta si hay relación con el tipo de clima predominante en el lugar donde vives, de acuerdo con este mapa.

Temperatura



La temperatura indica el grado de calor de un objeto, persona o animal. En el caso del clima, se mide la temperatura del aire. El instrumento utilizado para medir la temperatura es el termómetro que se encuentra en las estaciones meteorológicas. Por ello sabemos, cuando salimos de casa, si hace frío o calor.

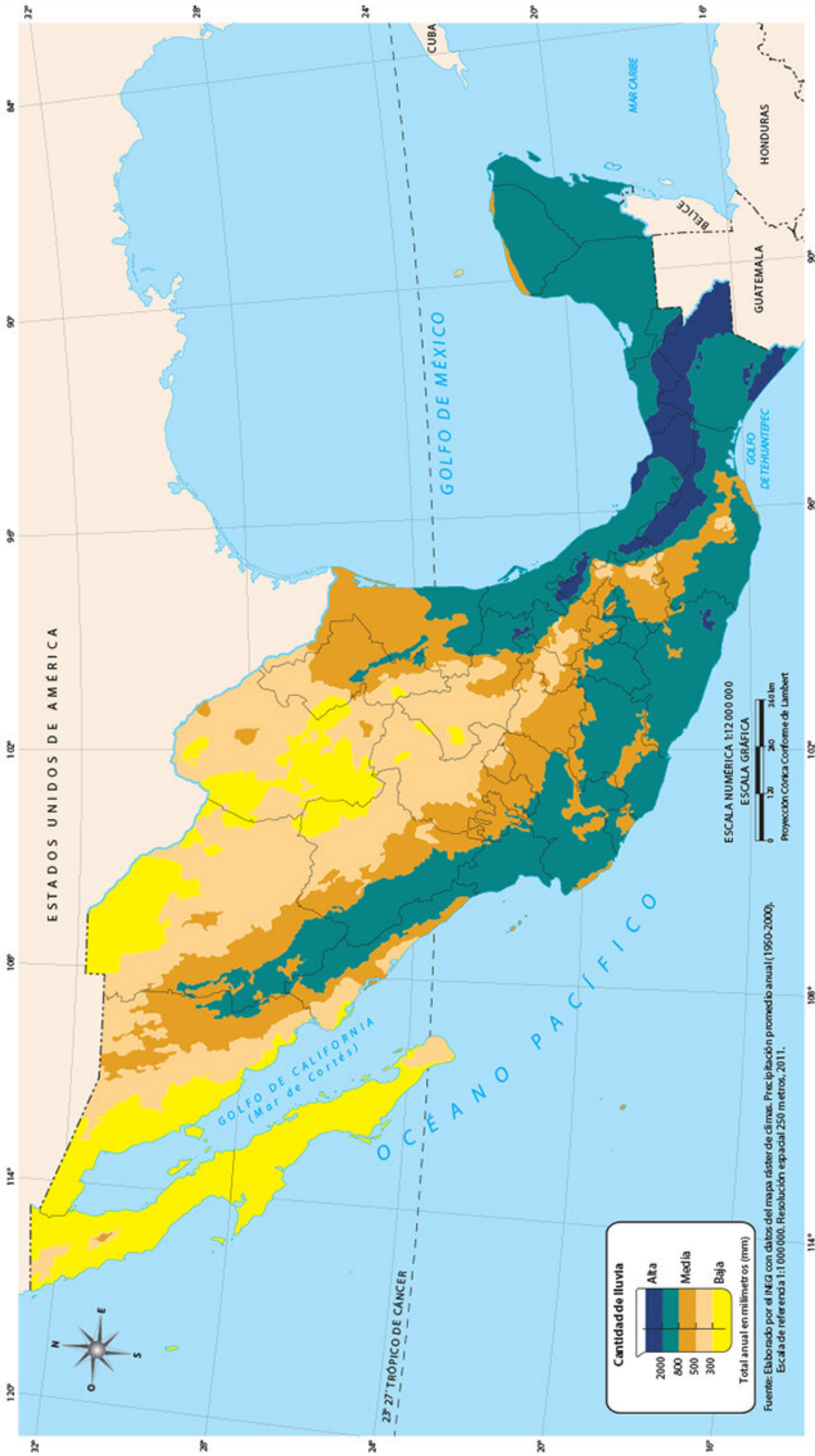
En el mapa se observa la temperatura media (promedio) anual de las distintas zonas de nuestro país. La temperatura alta (mayor de 22 °C) corresponde, principalmente, a los estados con zonas costeras, mientras que la temperatura con valores medios predomina en las partes norte y centro.

Ubica en el mapa las zonas que tienen temperatura menor de 12 °C y anota los estados que abarcan. ¿Por qué crees que estos lugares son fríos?

Ahora escribe el nombre de cinco estados que tengan temperaturas altas. ¿Qué temperaturas presenta tu entidad?

Compara el mapa con el de "Relieve" de la página 12. Observa con qué tipo de relieve coinciden las temperaturas altas y qué formas hay en las zonas donde las temperaturas son más bajas. Investiga y explica la relación entre el relieve y la temperatura del aire.

Precipitación anual



La **precipitación** es la caída de agua líquida (lluvia) o sólida (nieve o granizo) a la superficie terrestre, como resultado de la condensación del vapor de agua presente en la atmósfera. La lluvia se mide en milímetros (mm) utilizando un instrumento llamado pluviómetro.



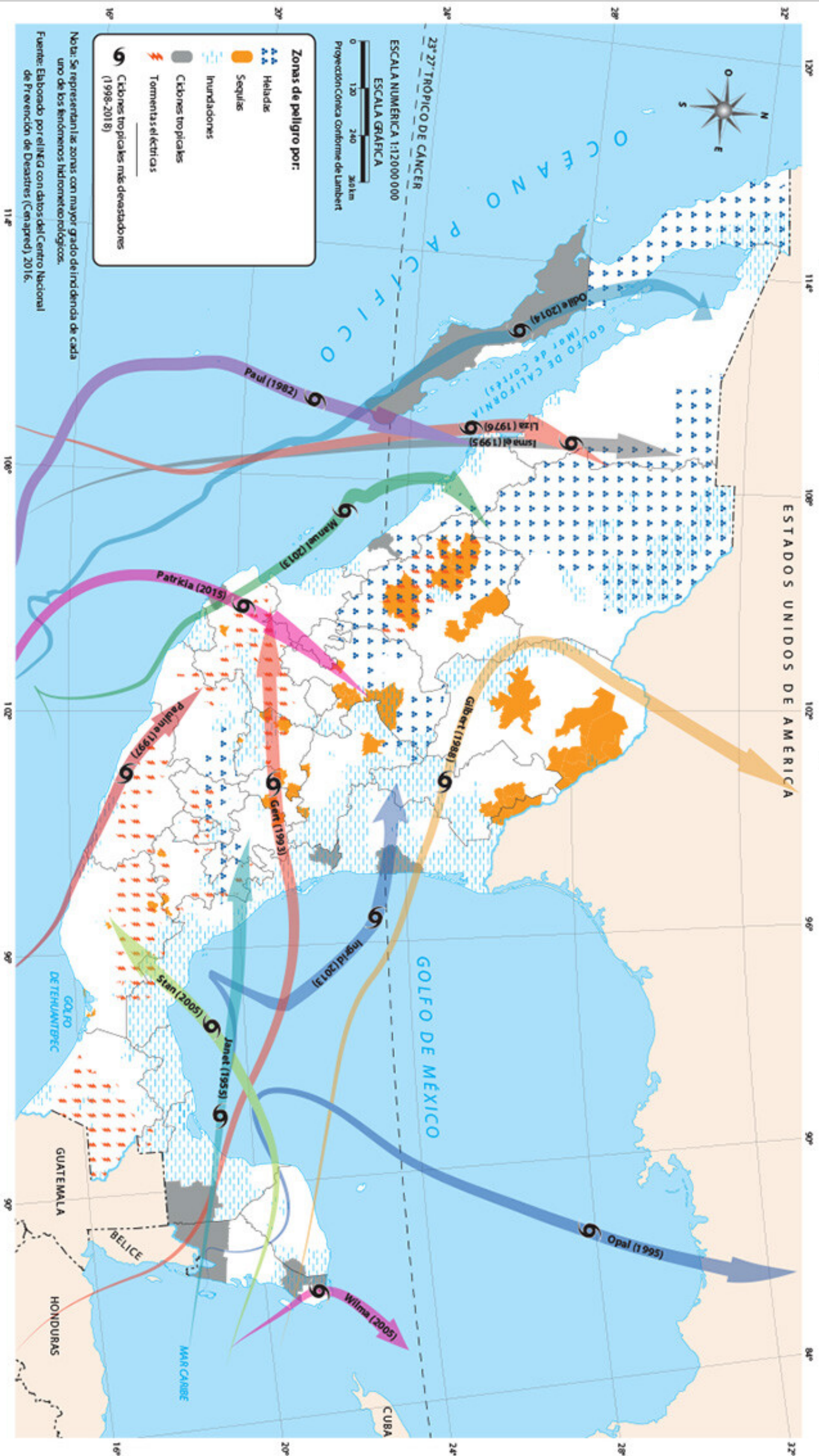
La precipitación anual en México es diferente en cada región. Algunas entidades costeras del golfo de México y del Pacífico registran cantidades de lluvia superiores a 800 mm anuales, siendo el norte de Chiapas y de Oaxaca, así como el sur de Veracruz y de Tabasco, las zonas donde la cantidad de lluvia es alta, con más de 2 000 mm al año.

Observa el mapa e identifica las zonas o los estados donde la cantidad de lluvia es menor a los 300 mm anuales. ¿Por qué crees que llueve poco en esas zonas? Apóyate en el mapa de "Climas", en la página 15 y compara ambos mapas. ¿Qué relación encuentras?



¿Te gustaría calcular la cantidad de lluvia que cae en tu localidad? Investiga en la biblioteca o en internet cómo se construye un pluviómetro casero con una botella de plástico. De esta manera podrás medir la cantidad de agua que cae cada día en la temporada de lluvias.

Fenómenos y peligros hidrometeorológicos



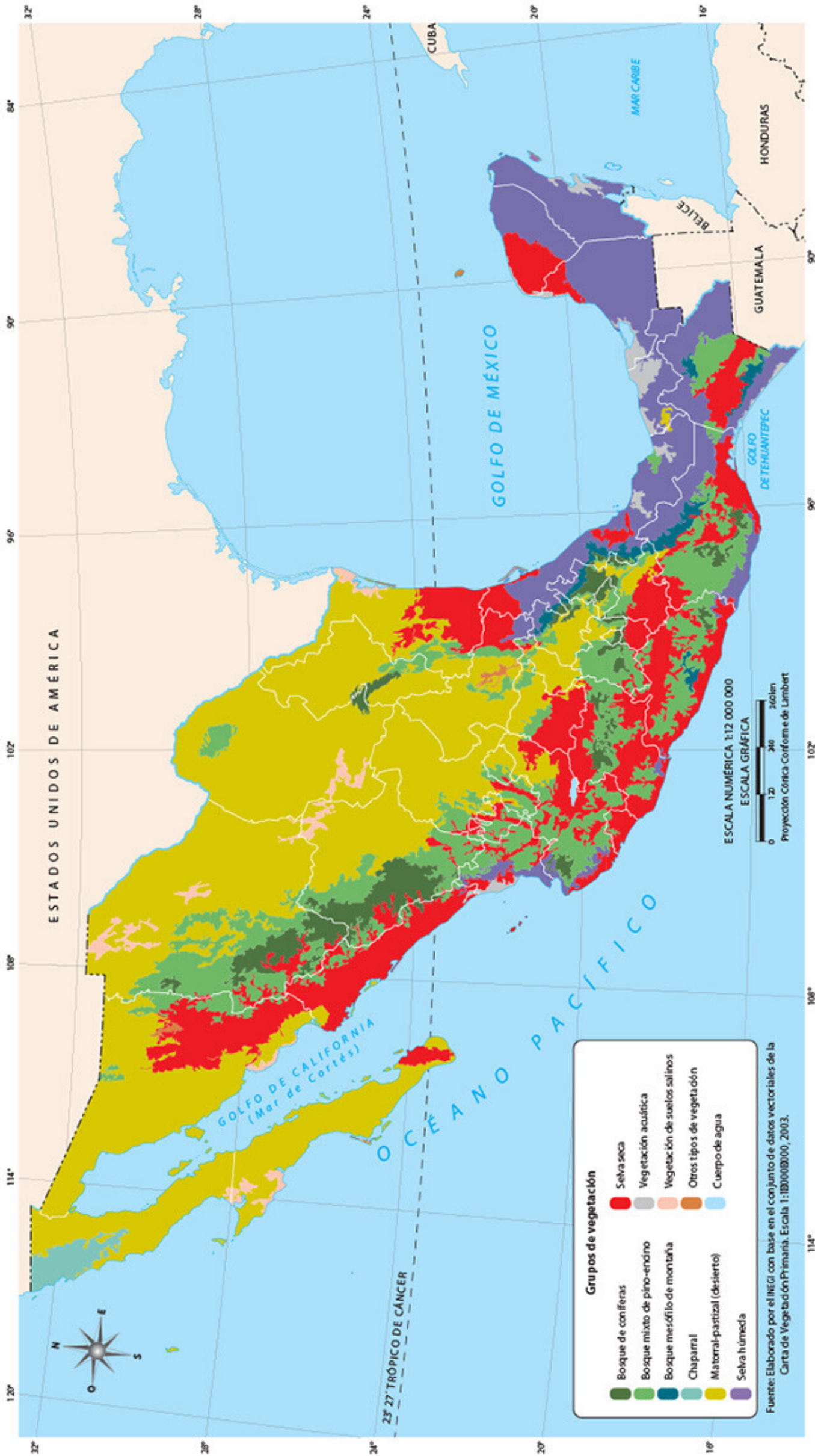
Un fenómeno hidrometeorológico es un evento natural que se genera por la acción de agentes atmosféricos (temperatura, humedad, precipitación y viento) que provocan: lluvias extremas, ciclones tropicales, granizo, tormentas eléctricas, inundaciones, heladas, sequías y tornados. Estos fenómenos se convierten en un peligro

para la población cuando ésta no cuenta con medidas de protección civil para enfrentarlos. El mapa muestra las trayectorias de los ciclones tropicales más devastadores que han ocurrido en nuestro país. Además, puede notarse que las principales heladas y sequías ocurren en el norte, las inundaciones en la zona del golfo de México y las tormentas

eléctricas en los estados del centro y sur del país. Registra en tu cuaderno qué fenómenos hidrometeorológicos son los más recurrentes en tu entidad y estados vecinos. Conversa con tus compañeros qué medidas servirán para responder de la mejor manera a posibles situaciones de desastre.

Cuando un fenómeno hidrometeorológico impacta en una localidad y causa inundaciones o daños graves, se considera un desastre. Consulta en internet el *Manual de protección civil* del Cenapred. Escribe en una cartulina qué hacer en caso de lluvia o inundación. Pégala en tu salón junto con la lista de acciones en caso de un sismo o actividad volcánica. ¿Por qué se debe tener un plan de acción ante estas situaciones?

Regiones naturales



Se conoce como *región natural* a las zonas geográficas con características particulares de clima, suelo, latitud y relieve que posibilitan el desarrollo de conjuntos diferentes de plantas y animales.

En México, existen 10 regiones naturales diferentes. La de mayor superficie es el desierto, que se distribuye principalmente en

el norte y centro del país. La diversidad de regiones naturales contribuye a que exista gran variedad de plantas y animales, por lo cual, México es considerado un país megadiverso.

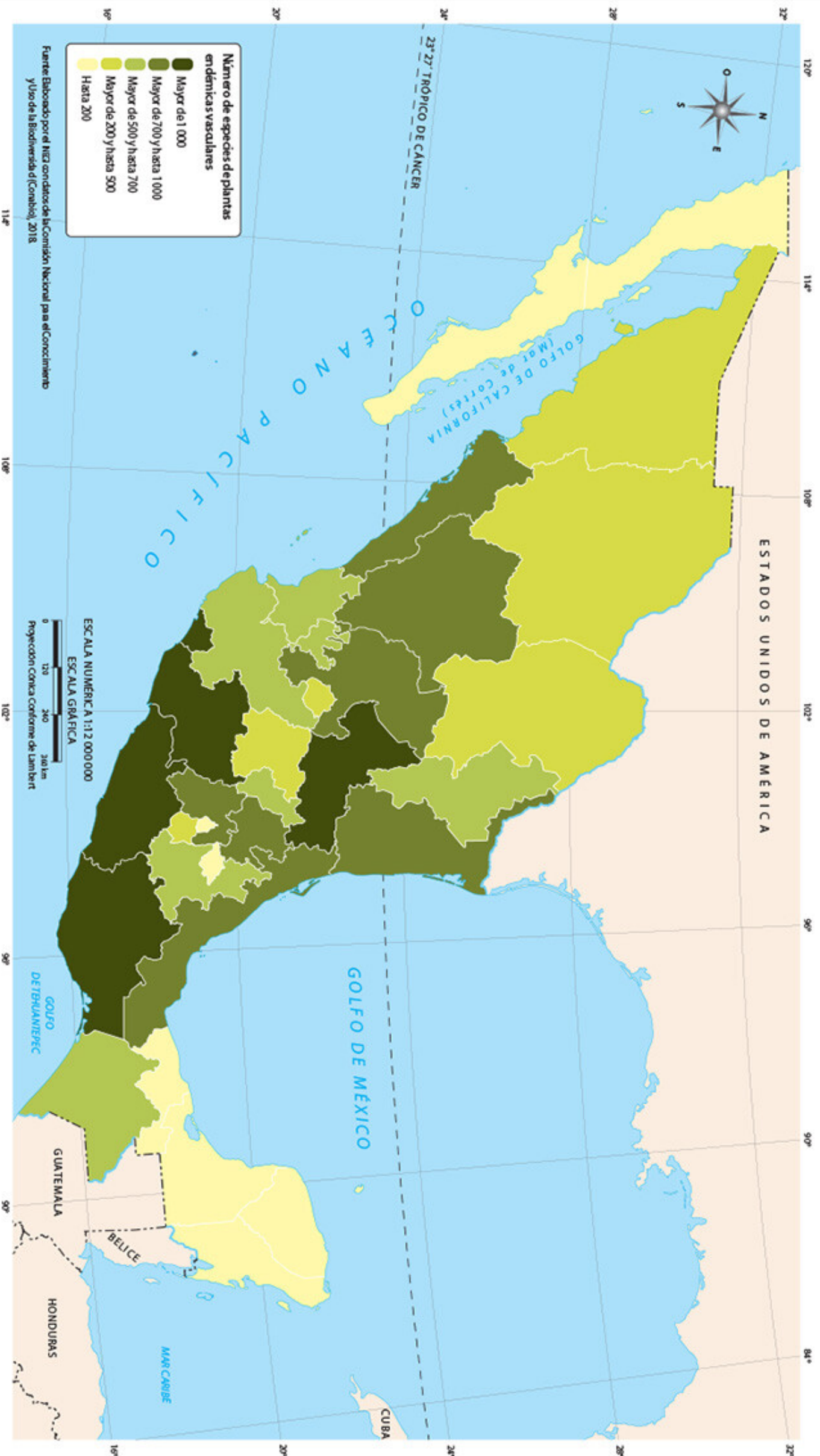
Observa el mapa y responde: ¿qué regiones naturales hay en tu entidad?, ¿cuál es la de mayor extensión? Ubica Coahuila de Za-


ragoza y Nuevo León; además de matorral (desierto), poseen pequeñas áreas de bosque. Utiliza el mapa de "Relieve", de la página 12, y explica a qué se debe la presencia de bosque de coníferas en estas entidades.



Ubica de manera aproximada tu municipio en el mapa e identifica la vegetación predominante. Investiga y describe las características de esa región natural. En una tabla de cinco columnas, coloca la información que recopilaste: en la primera columna sitúa la región natural; en la segunda, los animales; en la tercera, las plantas; en la cuarta, el clima, y en la quinta, el tipo de relieve. Incluye ilustraciones.


Plantas endémicas



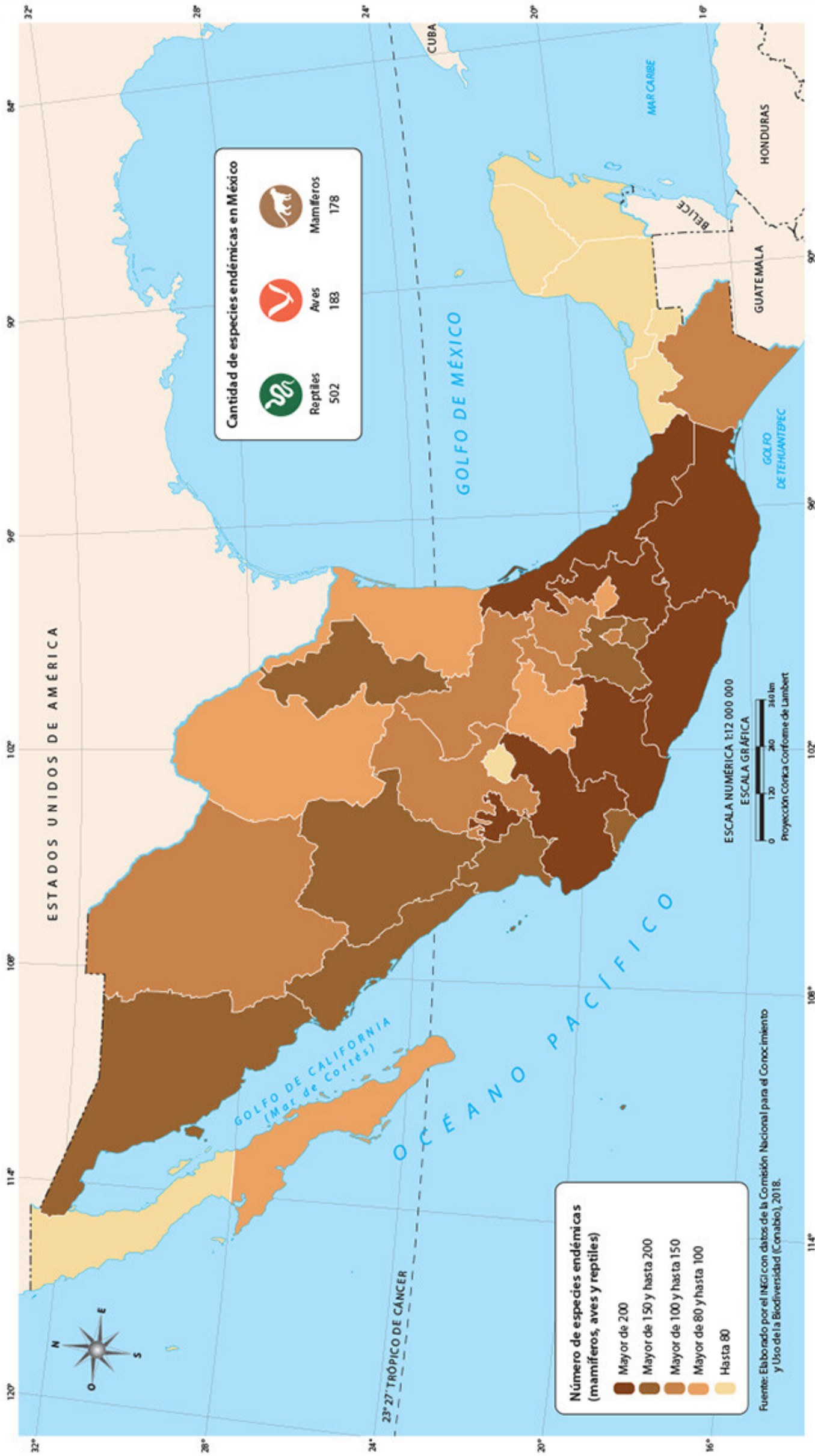
 Una especie endémica es aquella que sólo habita en un lugar y su distribución está restringida a un espacio determinado. Las especies endémicas pueden ser de plantas o animales. Las plantas vasculares son un ejemplo de especies endémicas. Se caracterizan por tener raíz, tallo y hojas.

En México, la cantidad de plantas vasculares endémicas más alta se localiza en la costa del Pacífico sur (más de 1 000 especies), mientras en las penínsulas de Baja California y Yucatán el número es menor (hasta 200 especies). México tiene una gran variedad de plantas endémicas vasculares, a nivel municipal ocupa uno de los primeros cinco lugares.

¿Crees que a mayor cantidad de regiones naturales en una zona es mayor la probabilidad de especies endémicas? Para saberlo, identifica los estados con mayor cantidad de plantas endémicas y compara el mapa con el de "Regiones naturales", de la página 19. ¿Qué observas?

 Como has visto, en México existe un gran número de plantas endémicas vasculares. Haz un herbario con hojas de este tipo de plantas, sean o no endémicas. Al momento de recolectar recuerda que estas plantas tienen raíz, tallo y hojas.

Animales endémicos



O Una especie endémica es aquella que sólo habita en un lugar y cuya distribución está restringida a un espacio determinado, como desiertos, laderas de montaña, cuevas o islas. México es un país "megadiverso", pues tiene una gran cantidad y diversidad de animales y plantas.

El mayor número de animales endémicos (más de 200) se localiza en los estados de Jalisco, Michoacán, Guerrero, Oaxaca, Puebla y Veracruz. Debido a su aislamiento, las islas también son lugares importantes para los animales endémicos, como el caso de la Isla Tiburón, en las costas de Sonora.

Ubica en el mapa la isla de Cozumel y el estado de Baja California. Observa la superficie que ocupan y compara la superficie de ambos lugares y el número de animales endémicos. Reflexiona: ¿el tamaño de la superficie de un territorio determina el número de especies endémicas? Escribe tu conclusión en el cuaderno.



Investiga acerca de un animal endémico de tu entidad. Con la información obtenida elabora un texto que explique cómo es y cómo vive el animal elegido. Ilústralo con fotos, recortes o dibujos. ¿Por qué es importante conocer acerca de los animales endémicos de tu entidad?

Biodiversidad

La *biodiversidad*, o diversidad biológica, alude a la variedad de vida que hay en el planeta Tierra. Ésta comprende a las múltiples especies de plantas, animales, hongos, algas y microorganismos que viven en una región geográfica determinada. La biodiversidad también incluye a los diferentes tipos de genes, hábitats y ecosistemas.

México es considerado un país "megadiverso", ya que forma parte del selecto grupo de naciones poseedoras de la mayor cantidad y variedad de animales y plantas.

México es un país megadiverso. A nivel mundial, se ubica en las siguientes posiciones:



ACCIONES PARA CONSERVAR LA BIODIVERSIDAD

- Consumir responsablemente y reducir el impacto negativo en el ambiente.
- Depositar los desechos tóxicos en lugares seguros para que no contaminen el aire, el suelo o el agua.
- Evitar el uso de empaques, bolsas y otros productos de plástico o unikel.
- Minimizar la emisión de gases de efecto invernadero a la atmósfera mediante el uso de las llamadas energías limpias.
- Cuidar y respetar las plantas y los animales, así como el hábitat donde viven.
- Evitar consumir carne o adquirir pieles de animales protegidos o en riesgo de extinción, así como tenerlos como mascotas.

Más de 17 000 especies de plantas y animales de todo el mundo están en riesgo de extinguirse. En México, podrían desaparecer en el corto plazo 2 600.

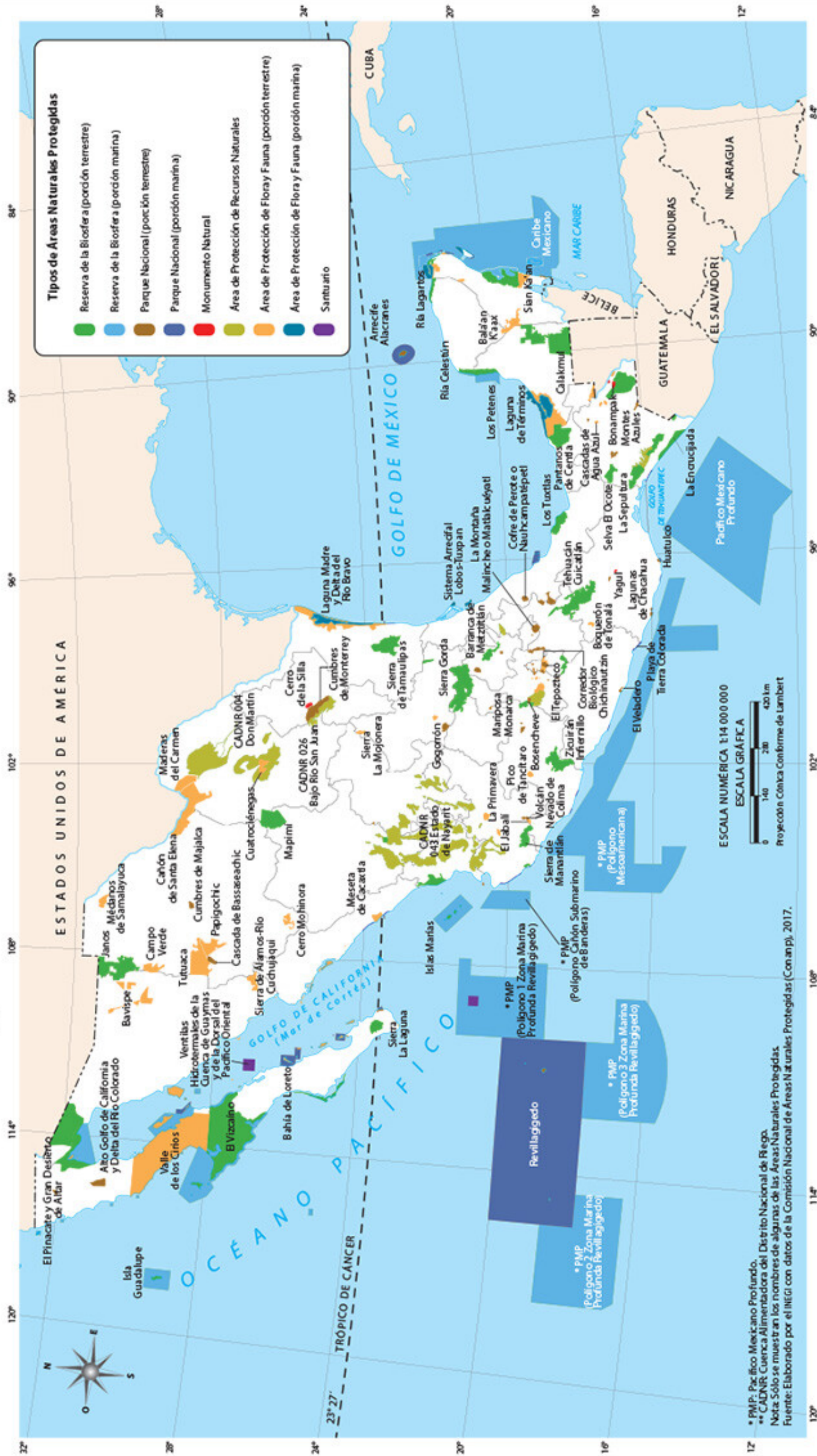
ALGUNAS DE LAS ESPECIES DE PLANTAS Y ANIMALES EN RIESGO SON LAS SIGUIENTES:

- 1 Mariposa monarca, oso negro, mono araña, zorrina del desierto, berrendo, quezal, ocelote, murciélago, ballena jorobada, lobo marino de California, ajolote, arrecifes de coral, manglar, pino, cactáceas, ciprés y muchos otros más.
- 2 Dentro de este grupo de atención prioritaria, de manera particular se están realizando acciones para proteger el maíz criollo, al jaguar, al lobo mexicano, al águila real, a la vaquita marina y a la tortuga laúd, entre otras.

Fuente: Elaborado por la Secretaría de Educación Pública (SEP) con datos de la Comisión Nacional para el Conocimiento y Uso de la Biodiversidad (Conabio), 2018.
 Secretaría de Medio Ambiente y Recursos Naturales (Semarnat) "Acuerdo por el que se da a conocer la lista de especies y poblaciones prioritarias para la conservación", Diario Oficial de la Federación, 5 de marzo de 2014.



Áreas Naturales Protegidas federales



Las áreas naturales protegidas (ANP) son zonas continentales y marinas del territorio nacional en donde la flora y la fauna no han sido alteradas por actividades humanas, o donde el deterioro estatal que requieren ser preservadas o restauradas. Existen diferentes tipos de ANP, cada una tiene su reglamento y su plan de conserva-

ción y manejo. Su extensión es variable. Las más grandes en la porción terrestre son el Área de Protección de Flora y Fauna Valle de los Cirios, en Baja California, y la Reserva de la Biosfera El Vizcaíno, en Baja California Sur. En la porción marina destaca el Área de Protección de Flora y Fauna Revillagigedo, en el océano Pacífico. Compara este mapa


con el de "Impacto ambiental" de la página 43. Encuentra la relación que guarda el número de ANP con las entidades que tienen un nivel de afectación "Muy alto" y escribe una conclusión.



Investiga acerca de una ANP de tu entidad (si es posible visita una de ellas) y redacta una carta dirigida a un amigo o familiar en la que le describas cómo es el área protegida y la importancia que tiene su conservación.



Sociedad

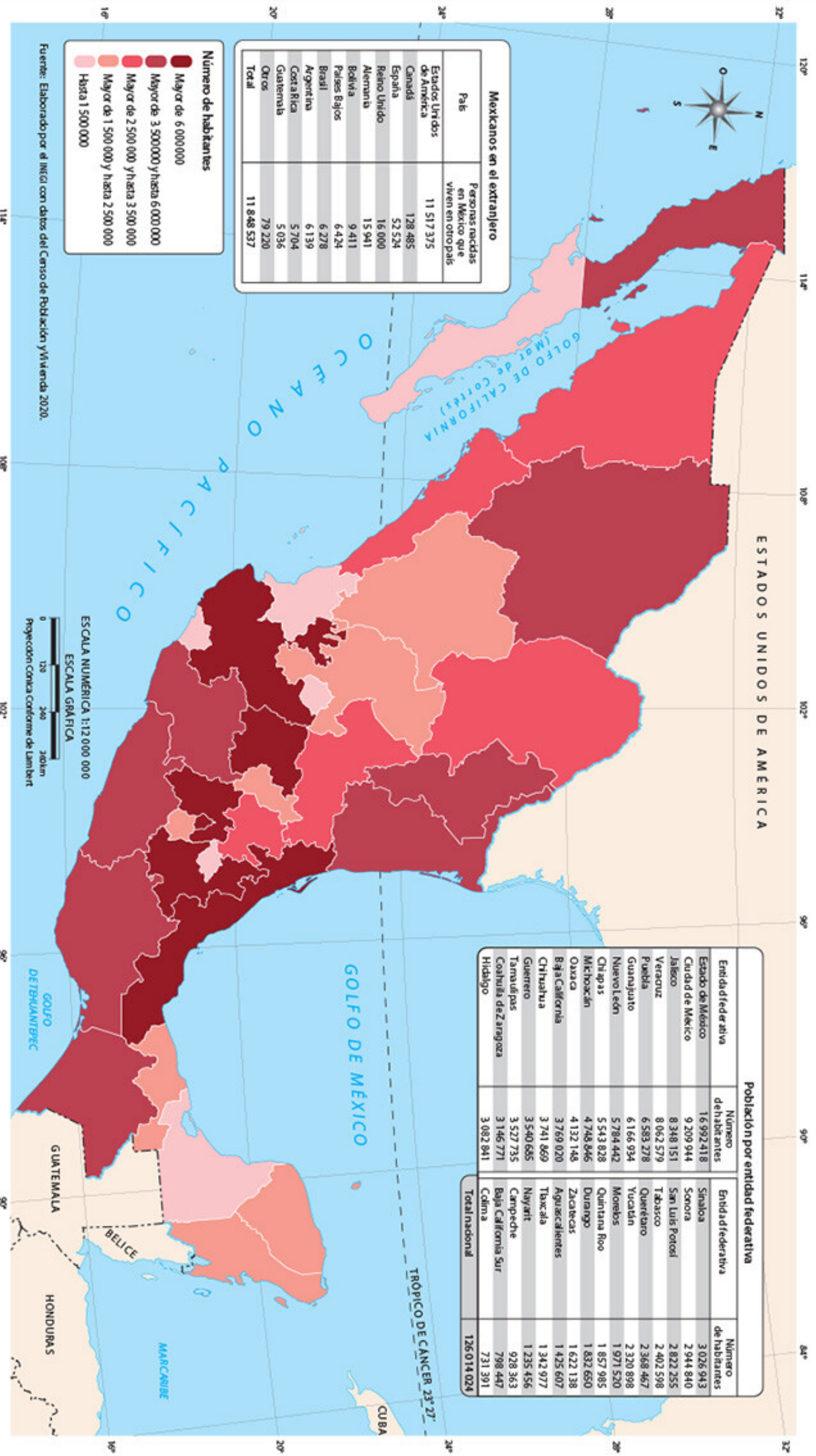


La sociedad está constituida por **grupos de personas o individuos** que se relacionan entre sí y viven de manera organizada para algún fin. Tú y cada uno de los parientes con quien vives forman parte de un grupo llamado familia. A su vez, el conjunto de familias y otros grupos que integran los pueblos y las entidades son la base de lo que conocemos como sociedad.

La sociedad mexicana, a la cual perteneces, tiene muchas **características**: en algunos lugares las personas viven muy juntas, mientras que en otros están muy dispersas; hay sitios en los que el nivel de estudios es alto y en otros bajo, hay grupos con buenos ingresos y otros que viven en la pobreza. ¿Sabes cuál es el número de habitantes de tu entidad o del país?, ¿cuántas niñas y niños hay en México o cómo se distribuye la población?

En las siguientes páginas encontrarás información sobre la sociedad mexicana, desde el número de habitantes hasta las principales causas de muerte en México. Conocer las características particulares de cada grupo de la población facilita la toma de decisiones, así como la creación de estrategias de participación ciudadana para superar los problemas y mejorar la convivencia social.

Población total



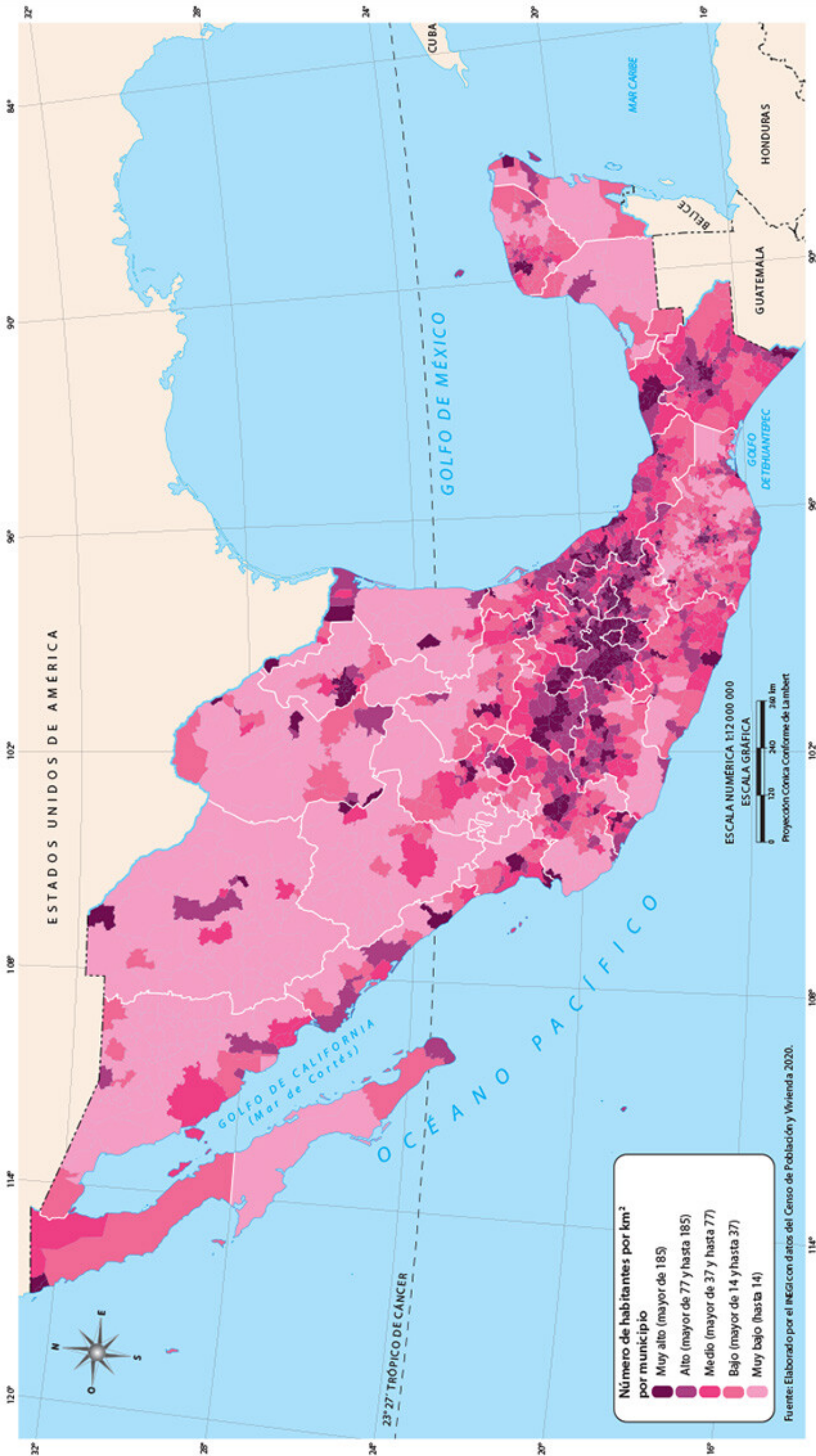
La población total de un país, llamada también población absoluta, está conformada por todas las personas que viven en él y se obtiene mediante un Censo o una Encuesta Intercensal. Las personas que migran y deciden quedarse a vivir de forma permanente en un país también son parte de su población total.


En 2020, según el INEGI, México tenía una población total de 126 014 024 habitantes, ocupa el 10° lugar a nivel mundial y es el segundo país más poblado de Latinoamérica. El mapa muestra que los estados con mayor población absoluta se localizan en la parte media de México, en tanto, que las dos penínsulas tienen estados con poca población.

Identifica en el mapa los seis estados del país que tienen el menor número de habitantes. Ahora, apóyate en la tabla de población por entidad federativa y responde: ¿qué lugar ocupa, a nivel nacional, el estado donde vives?, ¿cuál estado de los que limitan con el tuyo tiene más población?

Elabora una tabla de tres columnas. En la columna izquierda, escribe el nombre de los siguientes estados: Ciudad de México, Chihuahua, Campeche y Baja California Sur, en la del centro, anota la extensión territorial (este dato está en la sección de "Entidades federativas"), y en la columna derecha, el número de habitantes de cada una. Observa con atención los datos de la tabla y explica si la cantidad de población total de un estado tiene relación directa con su tamaño o extensión territorial.


Densidad de población



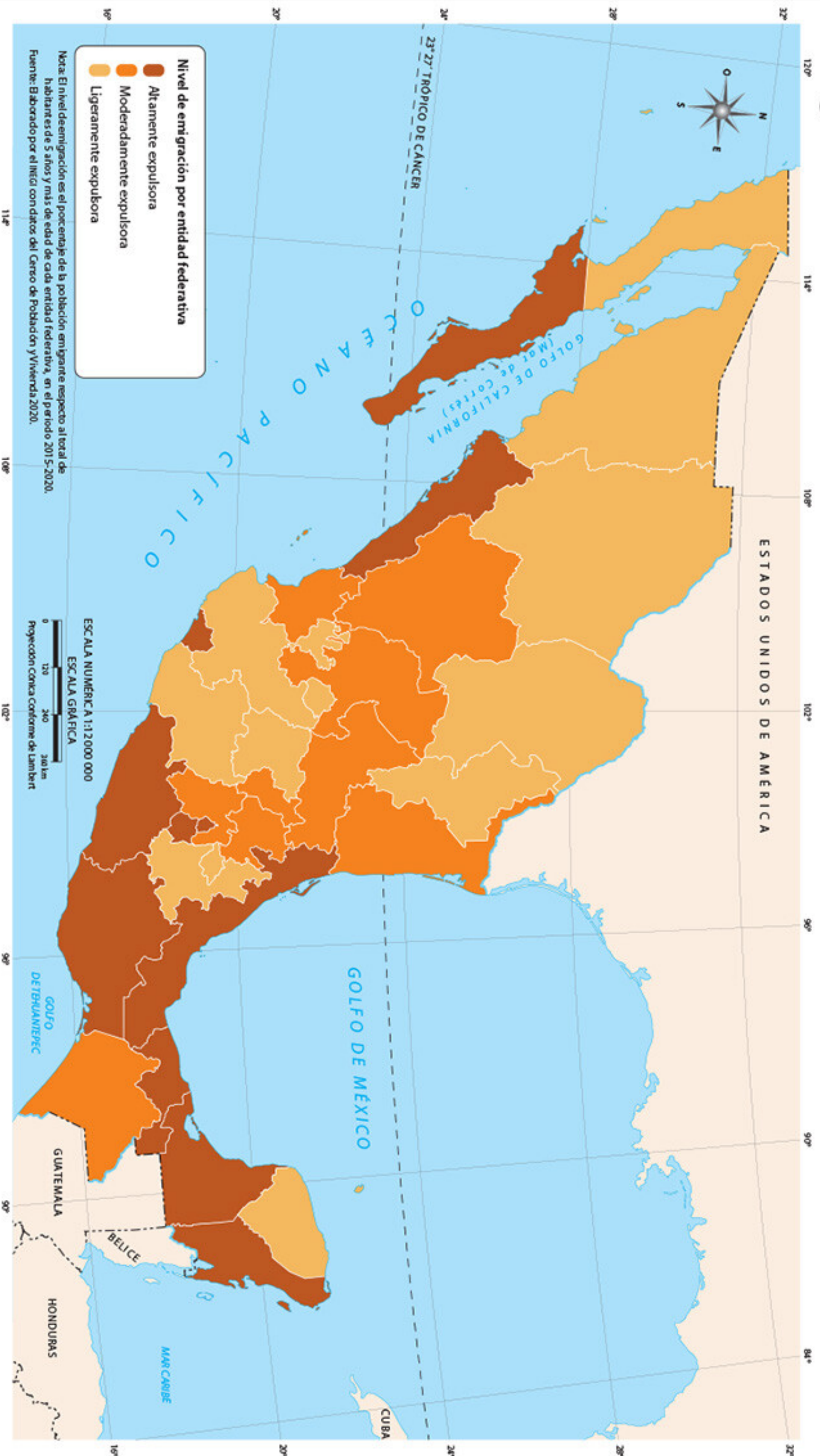
 La densidad de población es el número de habitantes que hay en un kilómetro cuadrado. Este dato sirve para conocer cuántas personas hay en un espacio delimitado y si la población está concentrada o dispersa. Se calcula dividiendo el número de habitantes entre la cantidad de kilómetros cuadrados de un territorio.


En el mapa se observa que las zonas centro y sur del país son las de mayor densidad poblacional. Generalmente, los municipios con muy alta densidad poblacional corresponden a lugares de comercio y servicios abundantes, como las ciudades de Puebla y Oaxaca, o a grandes áreas urbanas, como la Ciudad de México o Monterrey.

Localiza el municipio donde vives, identifica cuál es su densidad poblacional y qué densidad predomina en tu entidad. Por último, distingue a qué se debe que haya diferentes niveles de densidad poblacional en tu estado.

 Investiga las ventajas de vivir en un municipio con muy alta y muy baja densidad poblacional. Con esta información, elabora una tabla comparativa (con al menos cinco ventajas). Analiza tu tabla y responde en tu cuaderno la siguiente pregunta: ¿qué es más conveniente, vivir en lugar con densidad poblacional alta o baja?


Emigración interna



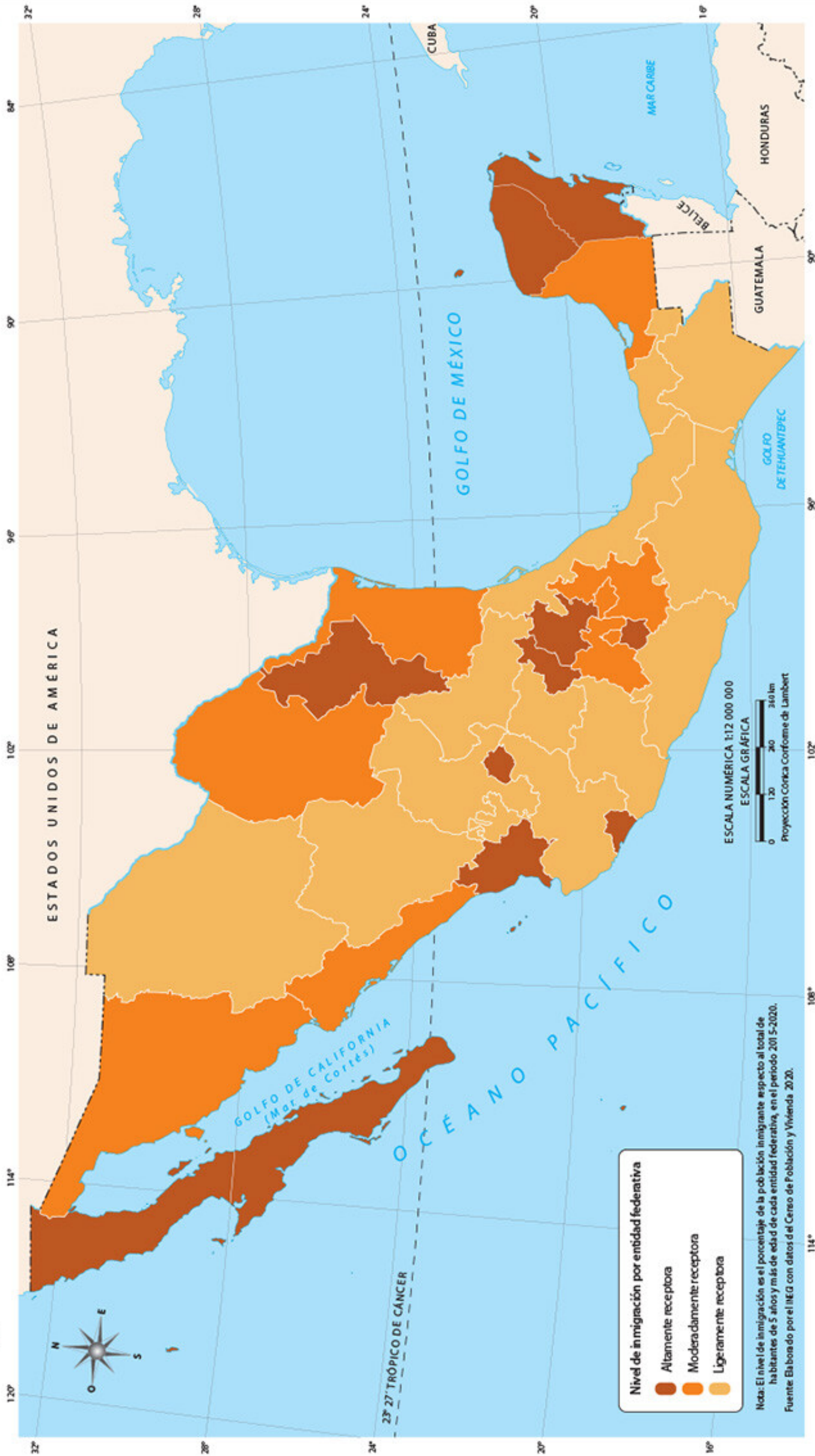
 La emigración interna es la salida de personas de su estado o comunidad de origen para trasladarse a otro lugar dentro de las fronteras nacionales. Las razones del desplazamiento son diversas, tales como la inseguridad, la falta de empleo, los desastres de origen natural, la búsqueda de mejorar la calidad de vida, entre otras.

El mapa muestra que hay 11 entidades altamente expulsoras de población hacia otros estados, entre ellas, Sinaloa, Ciudad de México, Veracruz, Oaxaca y Guerrero. Mientras que Sonora y Chihuahua en el norte, así como Guanajuato y Puebla en el centro, presentan una baja emigración interna. Identifica en el mapa todos los estados alta-

mente expulsores y los que expulsan menos personas. ¿Qué nivel de emigración interna presenta el estado donde vives?, ¿a qué atribuyes ese nivel?

 Elabora una lista de las principales razones por las que la gente deja su lugar de origen, y haz un dibujo relativo a cada caso. Preguenta a alguna persona que haya emigrado: ¿por qué dejó su lugar de origen?, ¿cómo fue su experiencia?

Inmigración interna



O La *inmigración interna* consiste en la acción por la cual una persona (inmigrante) se establece en un lugar diferente al que nació dentro del territorio nacional. Diversas situaciones provocan este cambio, tales como la búsqueda de oportunidades de trabajo, seguridad y mejores servicios de salud y educación.

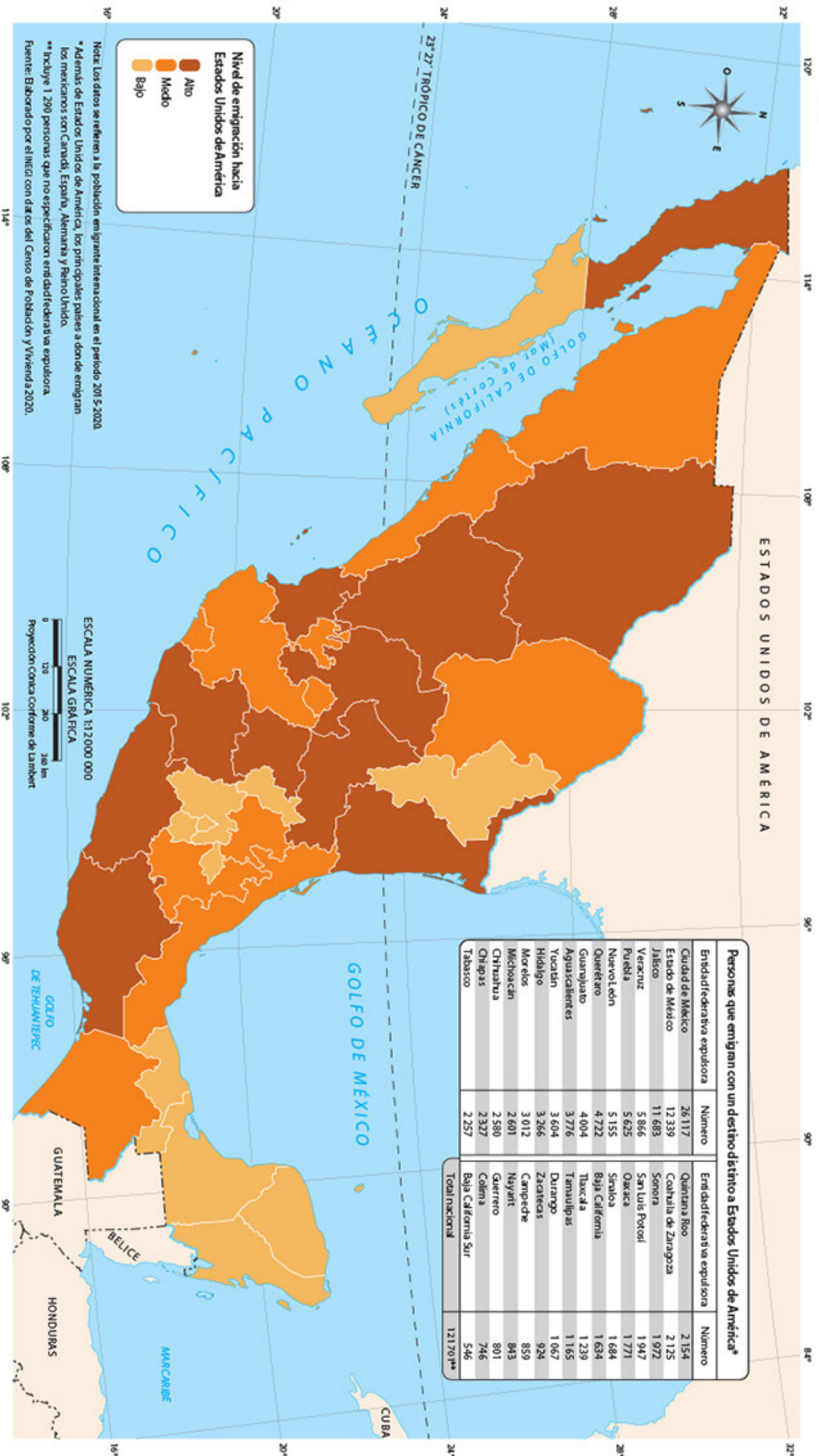
El mapa muestra que Quintana Roo, Yucatán, Morelos, Hidalgo, Querétaro, Colima, Nayarit, Aguascalientes, Nuevo León y los estados de la península de Baja California son entidades con alta recepción de inmigrantes, mientras que hay estados del norte y del sur que tienen una baja recepción de personas.

Observa el mapa y señala los 12 estados que tienen el nivel más bajo de inmigración interna. ¿Cuál es la situación de tu entidad respecto a la recepción de inmigrantes?, ¿por qué?



Investiga las causas por las que una entidad se vuelve atractiva para que la gente se establezca. Con esa información elabora una lista de cuatro principales causas. Si conoces a algún vecino o amigo que sea inmigrante, pídele que te platique su experiencia. ¿Por qué se estableció en un lugar distinto al que nació?

Emigración internacional



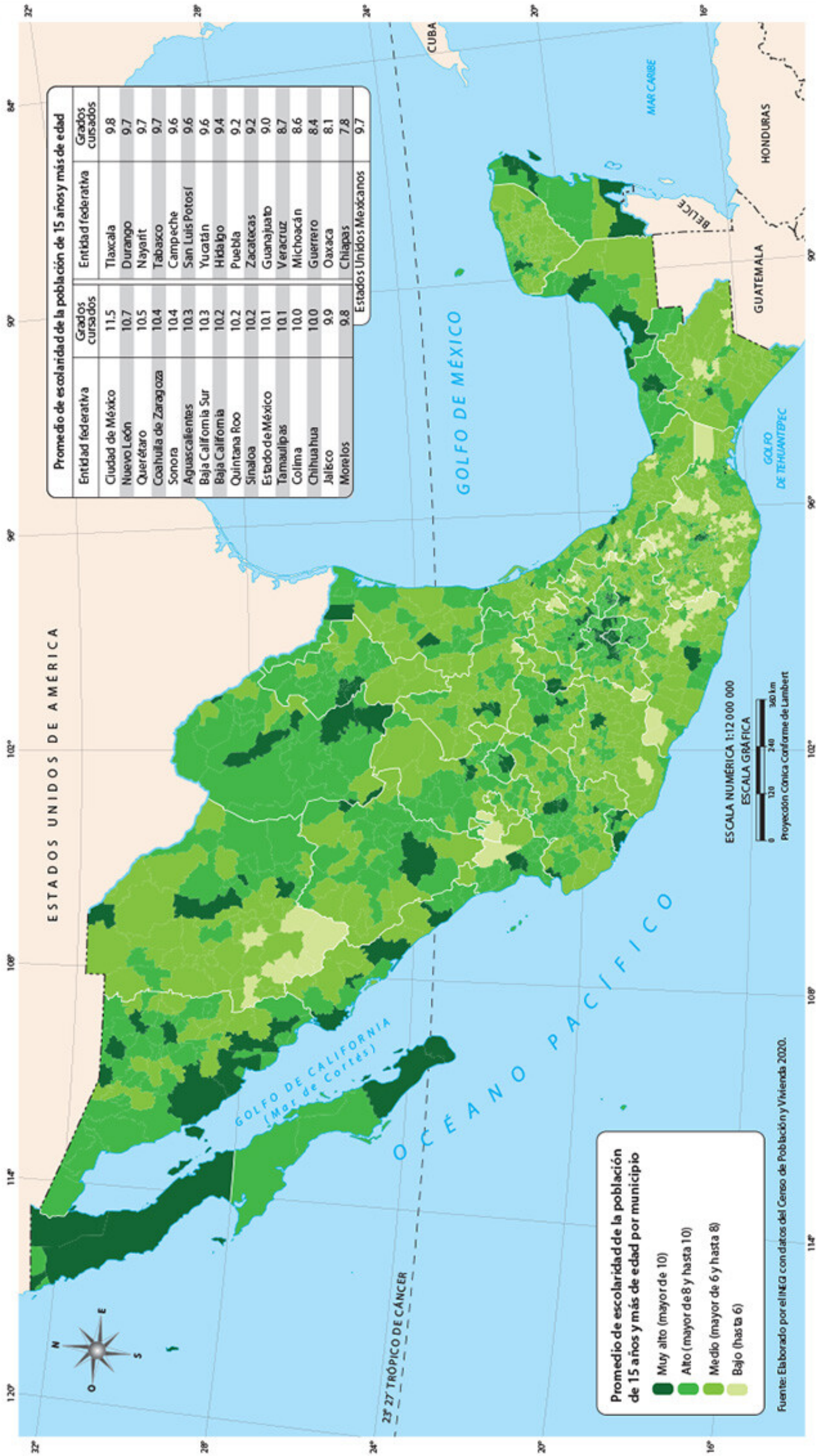
La emigración internacional es el cambio de residencia de las personas de su país de origen a otro, de manera temporal o definitiva. La gente emigra por diversas razones, pero en general, lo hace para mejorar sus condiciones de vida; por ejemplo, mediante la búsqueda de empleo o mayor acceso a servicios sociales.

El mapa muestra la emigración hacia Estados Unidos de América, principal destino de los migrantes mexicanos que cruzan la frontera. Son 11 estados con mayor expulsión hacia el país vecino del norte. La tabla que acompaña al mapa incluye a la población de cada entidad que emigra hacia otros países diferentes a Estados Unidos.

Localiza en el mapa los estados con la menor emigración: ¿qué entidades son? En tu entidad, ¿qué nivel de emigración hacia Estados Unidos de América existe? Anota en tu cuaderno las entidades que presentan un alto nivel de emigración hacia ese país.

Ponte en contacto con un familiar o alguna persona que haya emigrado a otro país o que conozca a alguien que lo haya hecho. Práctica con él para investigar las razones por las que se fue de México, si mejoró sus condiciones de vida y cuáles fueron los principales problemas que enfrentó. Si quieres informarte más, en internet también puedes encontrar testimonios de migrantes.

Escolaridad



La escolaridad es el nivel de educación de una población determinada, es decir, el promedio de grados aprobados desde primero de primaria hasta el último año cursado. En México, la escolaridad de los habitantes de 15 años y más es, en promedio, de nueve grados, que equivale a la educación secundaria concluida.

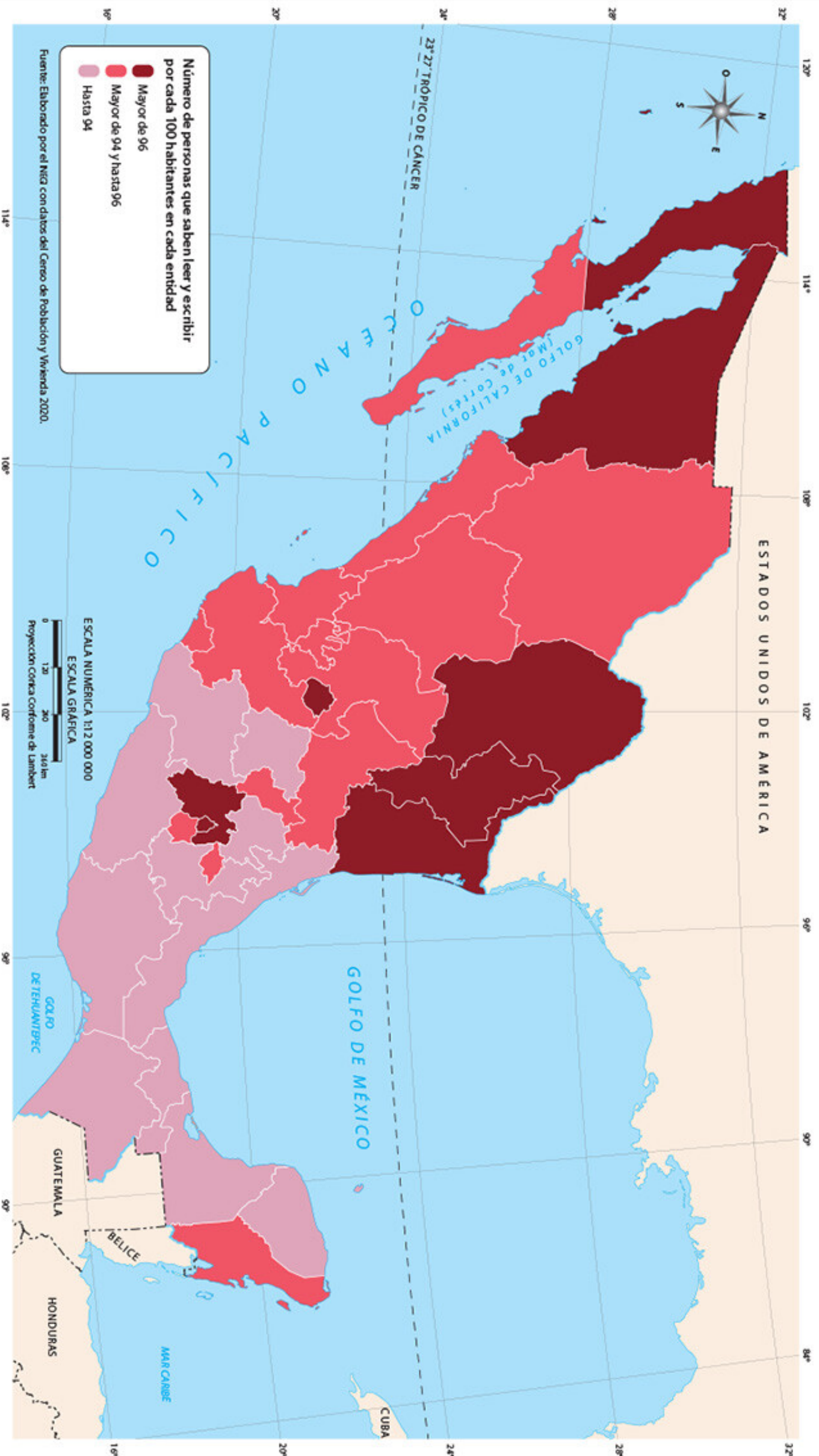
La información del grado promedio de escolaridad de la población de 15 años y más está representada a nivel municipal. Se aprecia que en ocho entidades la mayoría de sus municipios cuentan con un grado Alto y Muy alto, tal es el caso de la península de Baja California, Sonora, Coahuila de Zaragoza y la Ciudad de México.

Identifica en qué entidades hay municipios con el grado de escolaridad Bajo (hasta 6), lo que significa que, en promedio, tienen concluida la educación primaria. Tu entidad en su conjunto, ¿en qué promedio de escolaridad se encuentra?



Calcula el promedio de escolaridad de tu familia: suma los grados aprobados desde primero de primaria hasta el último año cursado por cada integrante, luego divide el resultado de la suma entre el número de integrantes. ¿Cuál es el promedio de escolaridad de tu familia?

Alfabetización



O La alfabetización es la habilidad mínima de leer y escribir. Según la Organización de las Naciones Unidas para la Educación, la Ciencias y la Cultura (Unesco, por sus siglas en inglés), la alfabetización contribuye a mejorar la calidad de

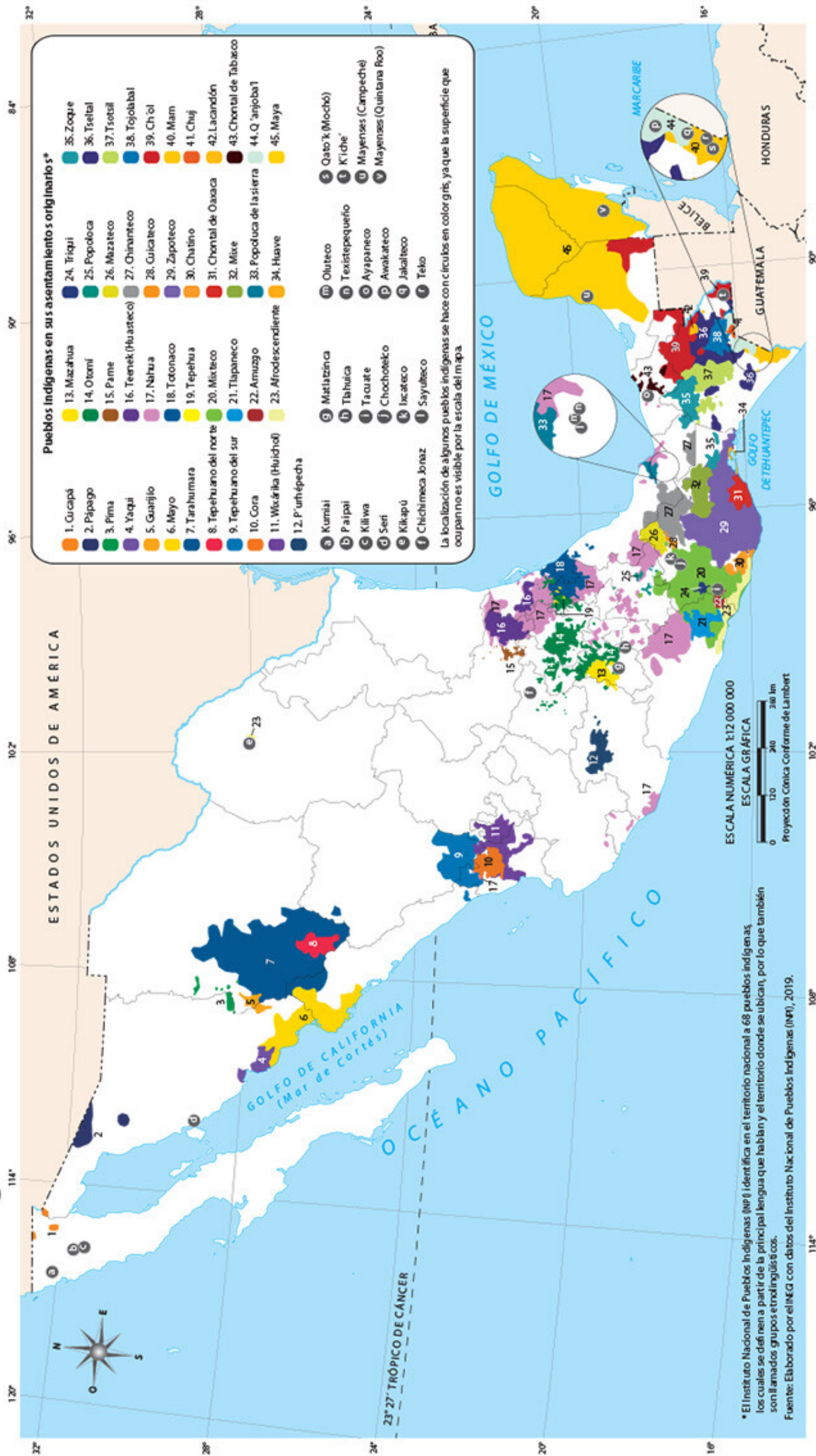
vida de los pueblos, brinda a las personas oportunidades para participar en el mercado laboral y contribuye a reducir la pobreza. En el norte del país se encuentra el nivel más alto de personas alfabetizadas de 15 años o más de edad, en comparación con los

estados del sur y sureste. Compara este mapa con el de "Rezago social", de la página 34. ¿Qué observas?, ¿qué relación encuentras entre ambos mapas? Escribe tus conclusiones.



Indaga con tus vecinos cuántas personas han adquirido la habilidad de leer y escribir y cuántas no. Clasifícalas por sexo y edad. Elabora una gráfica de barras en la que representes el número de personas alfabetizadas y analifabetizadas en tu localidad. ¿Qué acciones pondrías en juego para alfabetizar a las personas que no saben leer ni escribir?

Pueblos indígenas



Los pueblos indígenas se caracterizan porque sus integrantes se expresan en lenguas distintas al español y tienen rasgos culturales que les dan identidad, como la indumentaria, las fiestas, las tradiciones o la forma de elegir a sus autoridades. En este mapa se representa la distribución de la población indígena en sus asentamientos

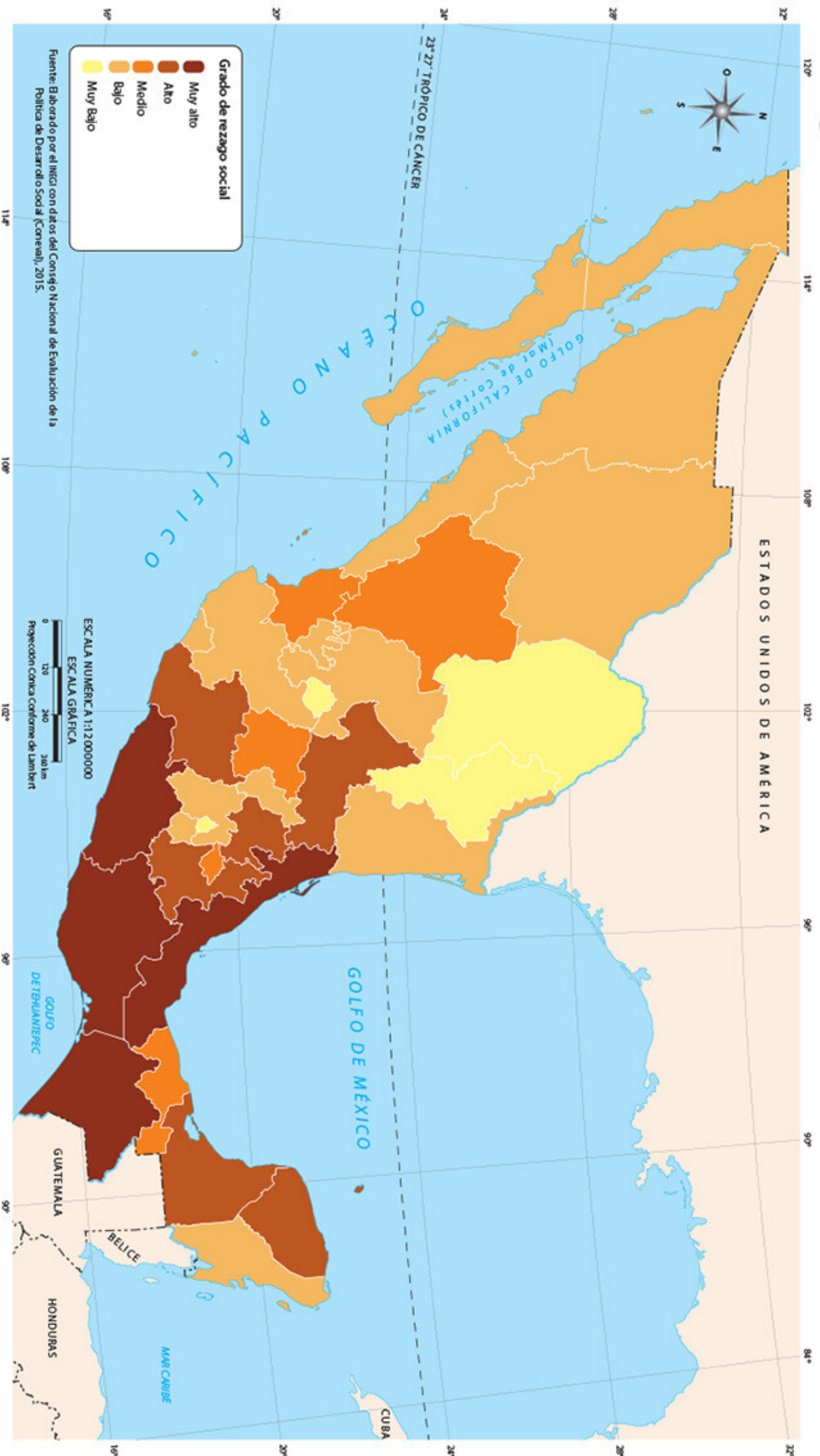
los originarios, los cuales forman parte de la República Mexicana. La mayor parte de los pueblos indígenas se ubica en lo que fue Mesoamérica, territorio que abarcó desde el centro hasta el sur del país, e incluso algunos países de Centroamérica. En este vasto territorio se desarrollaron las grandes culturas agrícolas indígenas del México antiguo.

Observa el mapa, luego escribe en tu cuaderno el nombre de los estados donde se ubica la población maya e indica en cuáles habitan los siguientes pueblos: tarahumaras, zapotecas y tzeltales. Compara el mapa con el de "Hablantes de lenguas indígenas", de la página 86, ¿qué relación encuentras entre ambos mapas?



Elije un pueblo indígena e investiga sus características principales, por ejemplo, ubicación, población, lengua, tradiciones y costumbres, así como los problemas que enfrentan en la actualidad. Con la información recabada elabora un folleto. Escribe una reflexión acerca de la importancia de conocer, preservar, respetar y enriquecer la diversidad cultural y lingüística de México.

Rezago social



El rezago social es un indicador que incorpora aspectos de carencia social, tales como: 1) educación, 2) acceso a servicios de salud, 3) servicios básicos de la vivienda (agua, electricidad, drenaje), 4) características y espacios de la vivienda (calidad de los materiales de construcción y número de cuartos en relación con los ha-

bitantes) y 5) activos en el hogar (lavadora, refrigerador).

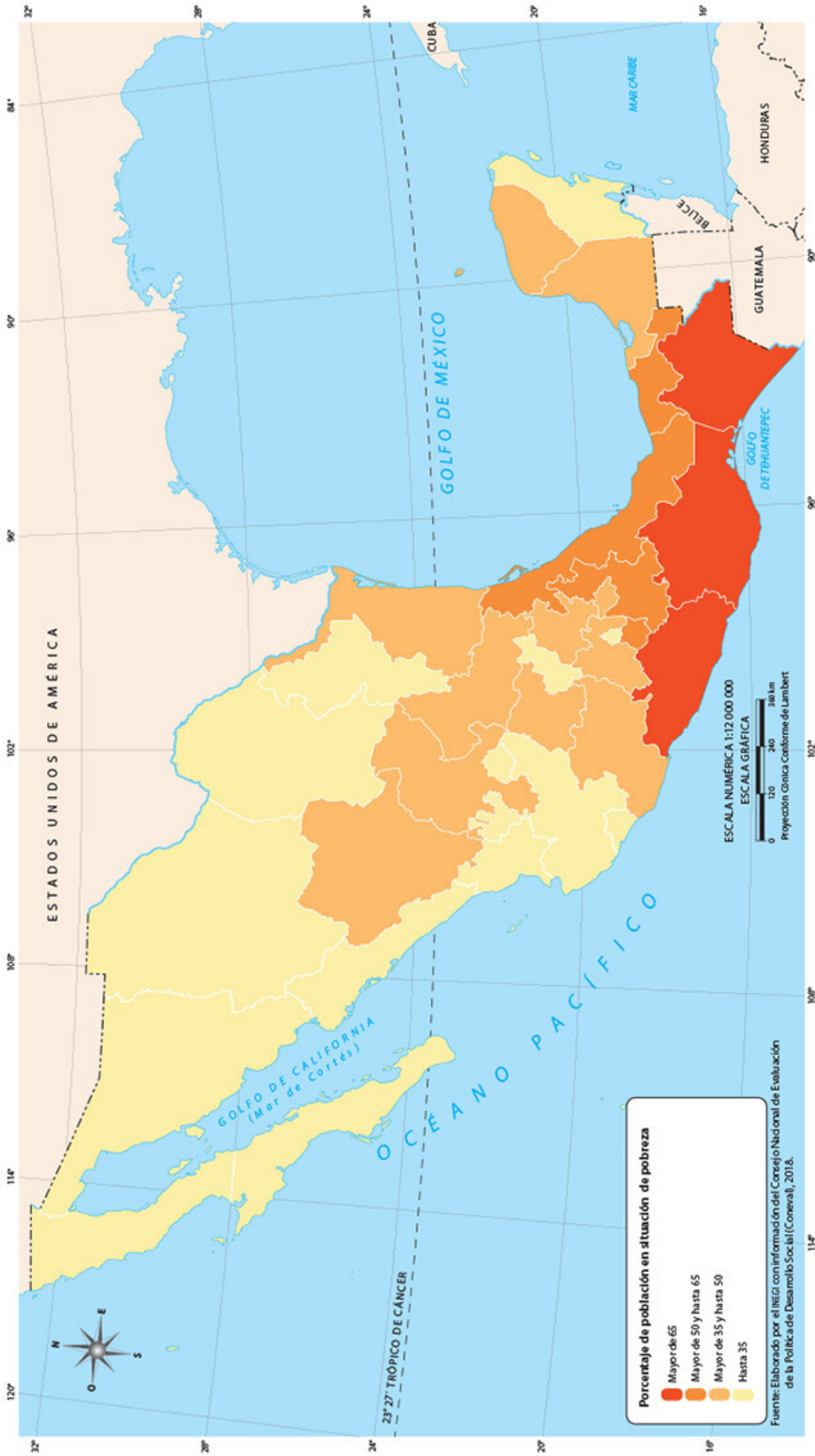
El grado más alto de rezago social se localiza en Veracruz, Chiapas, Oaxaca, y Guerrero. En contraste, Coahuila de Zaragoza, Nuevo León, Aguascalientes y Ciudad de México tienen el nivel más bajo.

Con base en la información que muestra el mapa, elabora una gráfica de barras sobre el número de estados que se encuentra en cada grado de rezago social. ¿Qué grado de rezago social predomina en el país? ¿A qué atribuyes que Nuevo León, Aguascalientes, Ciudad de México y Coahuila de Zaragoza sean las entidades con el grado más bajo?

Investiga si en el lugar donde vives se tienen dificultades para acceder a la educación y a los servicios de salud. También indaga cómo son los servicios básicos y la calidad de las viviendas.

De acuerdo con la información obtenida, identifica cuál es el grado de rezago social de tu localidad: Muy alto, Alto, Medio, Bajo o Muy bajo.

Pobreza



La pobreza es la condición de las personas cuyo ingreso es insuficiente para acceder a los bienes y servicios que satisfacen sus necesidades básicas: alimentación, salud, educación, seguridad social y vivienda.

Los estados con un mayor número de personas en situación de pobreza se con-

centran en el sur del país, mientras que las entidades con menor número de población en situación de pobreza tienden a estar en el norte. Según datos de 2018, casi la mitad de la población de México (52.4 millones de personas) vivía en condiciones de pobreza.

Identifica en qué situación de pobreza se encuentra tu entidad. ¿A qué crees que se

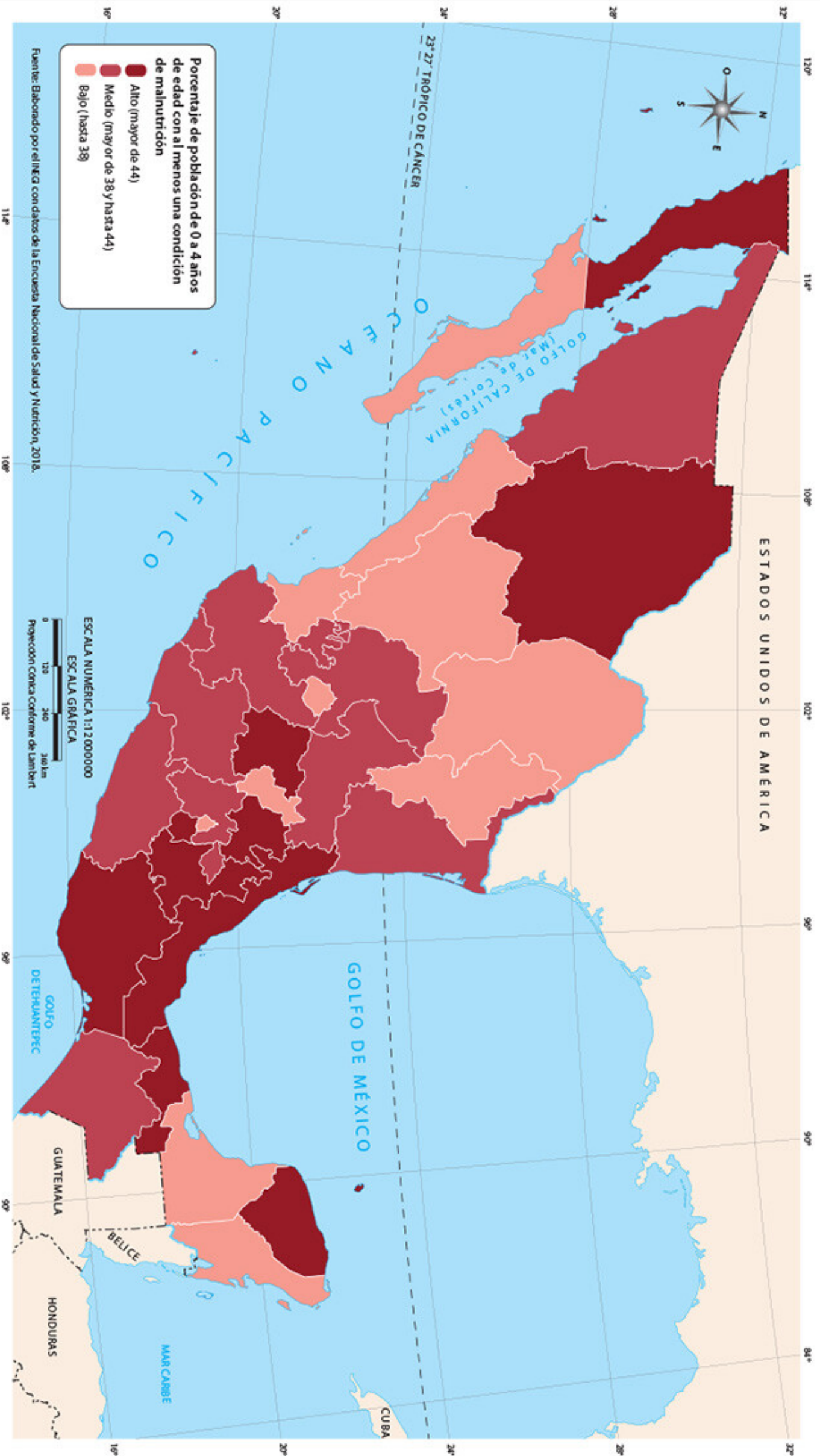
deba esto? Compara este mapa con el de "Desarrollo humano" de la página 45 y responde: ¿los estados con desarrollo humano bajo coinciden con los que tienen mayor número de población en situación de pobreza?, ¿a qué se debe?



Escribe un texto en el que propongas ideas para que las niñas y los niños mexicanos no vivan en situación de pobreza. ¿Qué harías?

Para hacer tus propuestas, toma en cuenta los bienes o servicios cuyo acceso limitado o nulo son expresión de la pobreza.

Malnutrición infantil



Por malnutrición se entienden las carencias, los excesos o los desequilibrios de la ingesta de alimentos de una persona. Abarca dos grupos, uno es la desnutrición, que comprende el retraso del crecimiento (baja estatura), la emaciación (peso inferior al que corresponde a la estatura), y las carencias o insuficiencias de vitam-

nas y minerales; el otro es la obesidad o riesgo de sobrepeso. En el mapa se observa que 10 entidades registran niveles altos con alguna condición de malnutrición en niños de 0 a 4 años. La pobreza, la desigualdad, la escasa educación de los padres y la falta de servicios de salud son factores que agravan la malnutrición infantil.

A su vez, hay 11 estados con nivel bajo de malnutrición. Registra en tu cuaderno cuáles entidades tienen un valor "Alto" y "Bajo" de malnutrición. Compara esta información con el mapa de "Pobreza", de la página 35. ¿Qué observas?, ¿qué relación encuentras entre ambos mapas?

Elabora una lista de los alimentos que consumes en la escuela. Compara tus resultados para hacer una lista grupal de los cinco alimentos de mayor consumo. Investiga si esos alimentos son nutritivos o no. Realiza propuestas para mejorar la calidad de los alimentos que se comen en la escuela. Con ayuda de tu maestro entrega tus propuestas al Consejo Escolar de Participación Social.

Principales enfermedades en niños de 10 a 14 años

Infecciones respiratorias agudas

Se trata de enfermedades que pueden afectar los oídos, la nariz, la garganta o los pulmones. Son ocasionadas por virus, bacterias o parásitos que se transmiten de persona a persona o por contacto con superficies contaminadas.

Síntomas: tos, dolor de cabeza, fiebre, nariz tapada e irritación.



Infección de vías urinarias

Es un trastorno del sistema urinario en el que existe un proceso inflamatorio por la presencia de un agente infeccioso.

Síntomas: necesidad constante de orinar y sensación de ardor, signos de sangre y olor fuerte en la orina; dolor pélvico en el caso de las mujeres.



Úlceras, gastritis y duodenitis

Consiste en la lesión de la superficie mucosa del estómago o del duodeno (parte del intestino delgado). Son causadas por el estilo de vida (café, fármacos antiinflamatorios), el estrés o la dieta.

Síntomas: náusea, hinchazón, eructos, náuseas, vómito, poco apetito, cansancio y debilidad.



Gingivitis y enfermedades periodontales

Son enfermedades infecciosas causadas por la placa bacteriana bucal, afectan los tejidos de soporte de todos los dientes.

Síntomas: encías rojas, hinchadas y sensibles.



Intoxicación por picadura de alacrán

Es el estado de envenenamiento causado por la inyección de veneno mediante la picadura de este arácnido.

Síntomas: dolor intenso, adormecimiento del sitio de la picadura, irritación, secreción nasal, salivación abundante, ceguera temporal, dolor abdominal, dificultad para respirar, vómito y, en casos graves, cambios en el ritmo y frecuencia cardíaca, trastorno del habla y palidez en los labios.



Infecciones intestinales por otros organismos y las mal definidas

Son enfermedades que atacan el estómago y los intestinos ocasionadas por bacterias, parásitos, virus y algunos alimentos como leche y grasas.

Síntomas: diarrea y, por consecuencia, deshidratación.



Otitis media aguda

Enfermedad del oído medio, generalmente la precede una infección respiratoria.

Síntomas: inflamación, fiebre, irritabilidad, anorexia, otalgia (dolor de oído) y vómito.



Conjuntivitis

Es la inflamación de la superficie ocular. Puede ser clasificada como infecciosa y no infecciosa, y como aguda, crónica o recurrente.

Síntomas: ojos enrojecidos, aumento del lagrimeo, prurito (picor) u hormigueo que provoca el deseo de rascarse), hinchazón de la conjuntiva y los párpados.



Obesidad

Es una enfermedad que se define como la acumulación excesiva de grasa corporal, que puede generar riesgos para la salud, entre ellos: diabetes, hipertensión, ataques cardíacos, algunos cánceres, entre otros.

Síntomas: sudoración excesiva, fatiga, sensación de falta de aire (disnea), dificultad para dormir, dolor de espalda o en articulaciones y depresión.



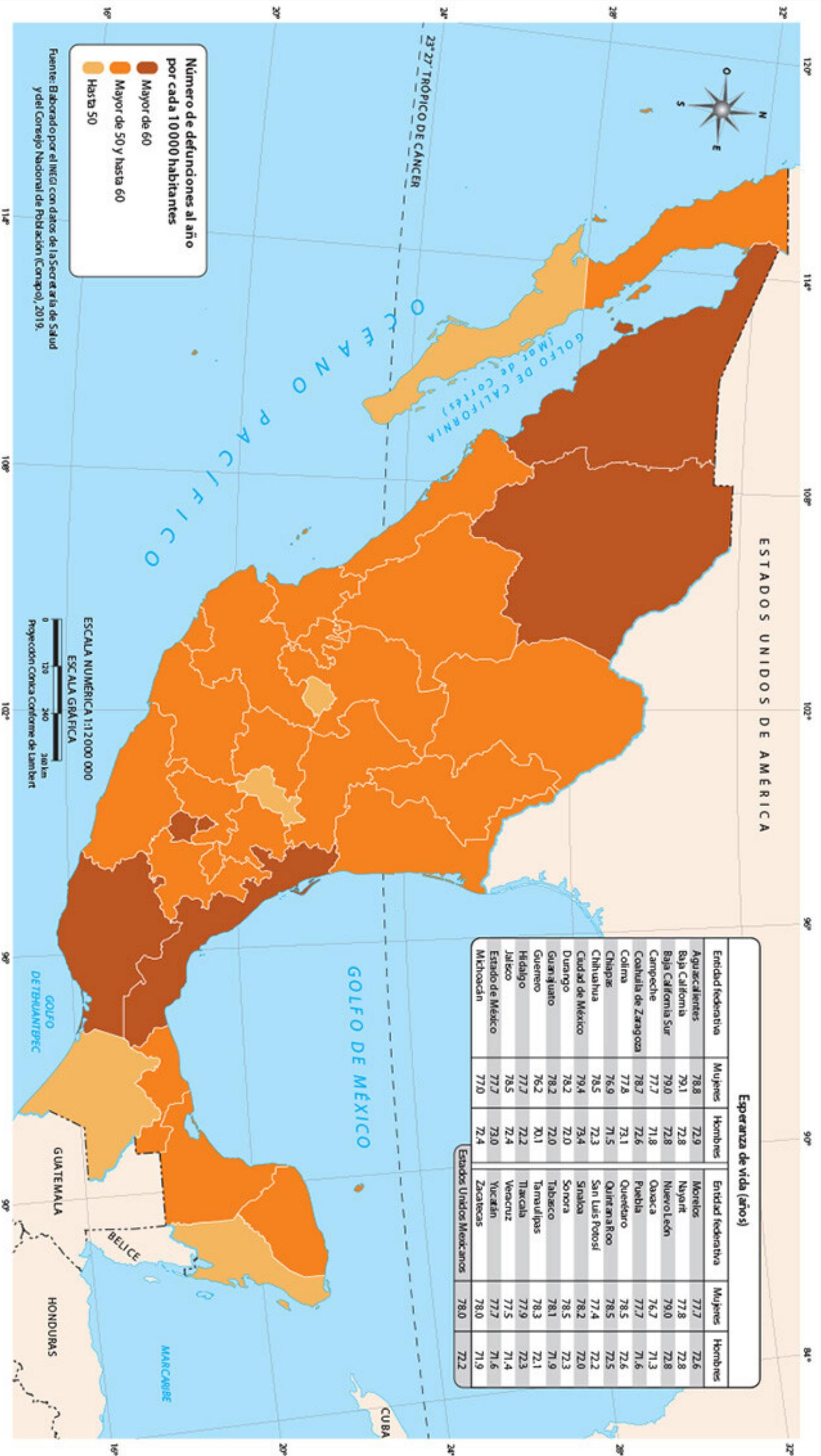
Asma y estado asmático

Es una enfermedad inflamatoria crónica, no contagiosa, de las vías respiratorias. Sin embargo, si existen antecedentes familiares de asma, es alta la probabilidad de presentar este padecimiento.

Síntomas: es común que se presente con falta de aire, sibilido o sensación de opresión en el pecho y tos.



Mortalidad



La mortalidad se refiere a la cantidad de personas que mueren por diversas causas en un lugar y en un periodo determinado. Comúnmente, se calcula a partir del número de defunciones por cada 1000 o 10000 habitantes.

En México, el mayor número de defunciones se registra en las entidades de Sonora,

Chihuahua, Ciudad de México, Morelos, Veracruz y Oaxaca, mientras que los estados que reportan una menor cantidad son Baja California Sur, Aguascalientes, Querétaro, Chiapas y Quintana Roo. Los estados restantes, que son más de la mitad, tienen un nivel mediod de defunciones.

Observa el mapa y escribe el nombre de los estados que presentan un nivel medio de mortalidad (mayor de 50 y hasta 60). ¿Tu entidad en qué situación se encuentra? A partir de la información de la tabla, identifica los cinco estados que tienen mayor esperanza de vida. ¿Qué relación existe entre la mortalidad y la esperanza de vida?

Busca información en este Atlas y en otras fuentes acerca de las principales causas de defunción en México. Elabora una lista con las tres causas más comunes y escribe un texto breve sobre las acciones que consideras necesarias para que se reduzcan las defunciones.

Principales causas de muerte en México

MORTALIDAD

La *mortalidad* se refiere al número de defunciones en la población de un lugar determinado, en un periodo establecido y con la indicación de las causas que las provocaron.



PRINCIPALES CAUSAS DE MUERTE

Las principales causas de muerte son:

- 

1. Enfermedades del corazón

Las enfermedades del corazón, o cardiovasculares, son un conjunto de trastornos de este órgano y de los vasos sanguíneos. Se clasifican en: hipertensión arterial, infarto de miocardio, enfermedad cerebrovascular, insuficiencia cardíaca, entre otras.
- 

2. COVID-19

Es una enfermedad provocada por el virus SARS-CoV-2, que puede causar diversas afecciones, desde el resfriado común hasta enfermedades más graves como neumonía, síndrome respiratorio agudo severo, insuficiencia renal e incluso la muerte.
- 

3. Diabetes

Es una enfermedad crónica que aparece cuando el páncreas no produce insulina suficiente o cuando el organismo no utiliza eficazmente la insulina que produce. Esto genera que se acumule de masiada glucosa (azúcar) en la sangre.
- 

4. Tumores malignos

Surgen por la multiplicación y división excesiva de células anormales que se extienden más allá de sus límites habituales y destruyen los tejidos corporales. El término con que se designa a este grupo de enfermedades es "cáncer".



DEFUNCIONES POR SEXO

Mueren más hombre que mujeres del total de las muertes registradas entre enero y agosto del 2020, 59% correspondieron a hombres y 41% a mujeres.



¿DE QUÉ MUEREN LOS MEXICANOS?

La mayor parte de las muertes (poco más del 90%) son provocadas por enfermedades y problemas relacionados con la salud, el resto se deben a causas externas, como accidentes y hechos violentos.



- Enfermedades
- Accidentes

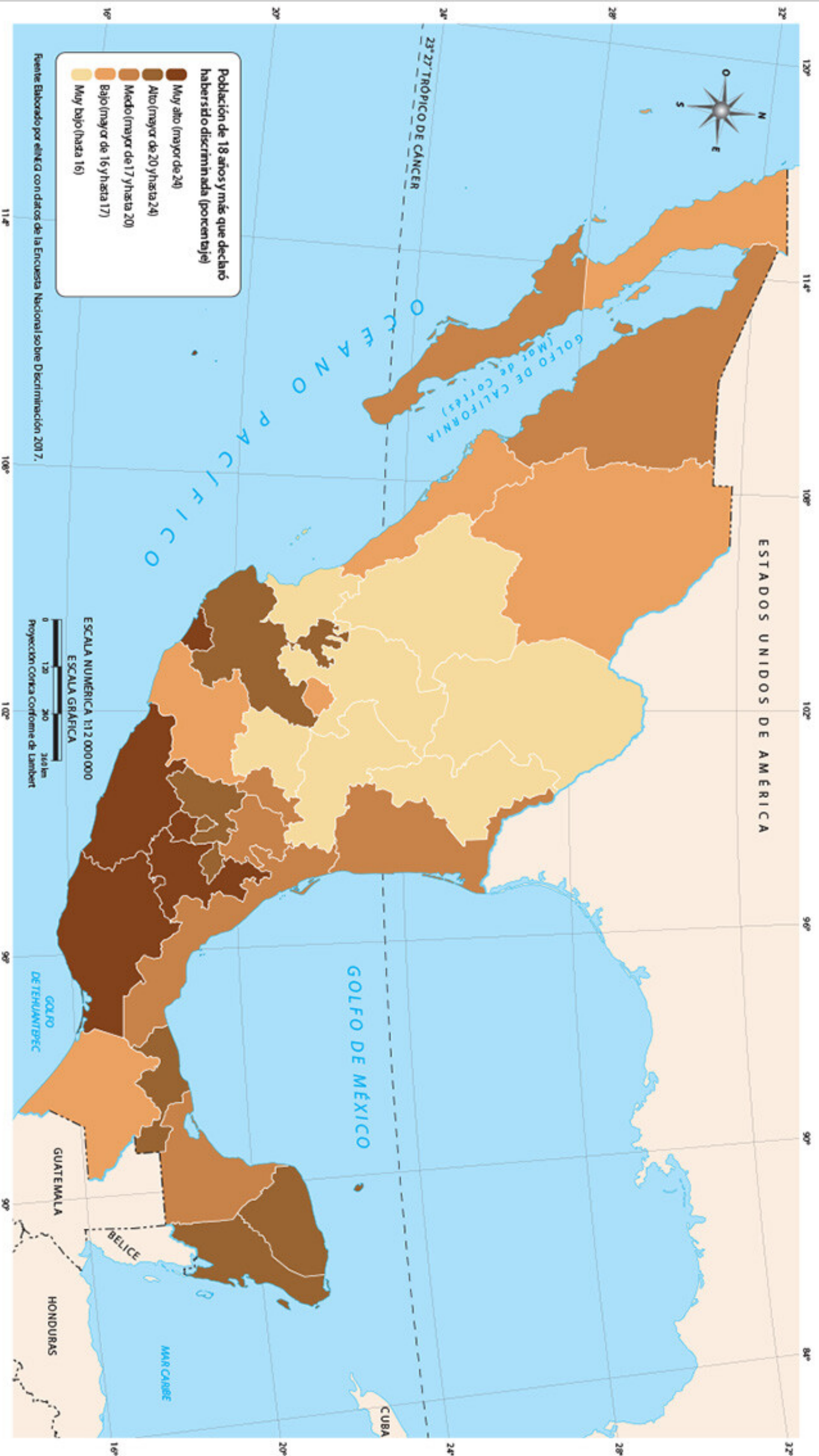
LAS MUERTES POR CAUSAS EXTERNAS OCURREN FUNDAMENTALMENTE EN HOMBRES:



- De cada 100 muertes por accidente (principalmente de tráfico), 78 corresponden a hombres.
- De cada 100 muertes por homicidio, 88 corresponden a hombres.

Fuente: Elaborado por la Secretaría de Educación Pública (SEP) con datos del Instituto Nacional de Estadística y Geografía (INEGI). Características de las defunciones registradas en México durante el mes de agosto de 2020 [Comunicado de prensa], 2021. Disponible en https://www.inegi.org.mx/contenidos/sala_de_prensa/boletines/2021/Es1506odemofuncionesRegistra2020_Philes.pdf

Discriminación



La discriminación es el trato desfavorable o de desprecio hacia una persona o grupo por motivos de edad, sexo, origen, condición económica, orientación sexual, religión o cualquier otro. Esta práctica impide la igualdad de oportunidades y anula el reconocimiento de los derechos de las personas. Sufren mayor

discriminación quienes se encuentran en situación de desventaja: población infantil, migrantes, mujeres, indígenas, afrodescendientes y personas con discapacidad.

En el mapa se observa que 12 entidades registran niveles de discriminación Muy Alto y Alto, de acuerdo con lo declarado en una encuesta por población mayor de 18

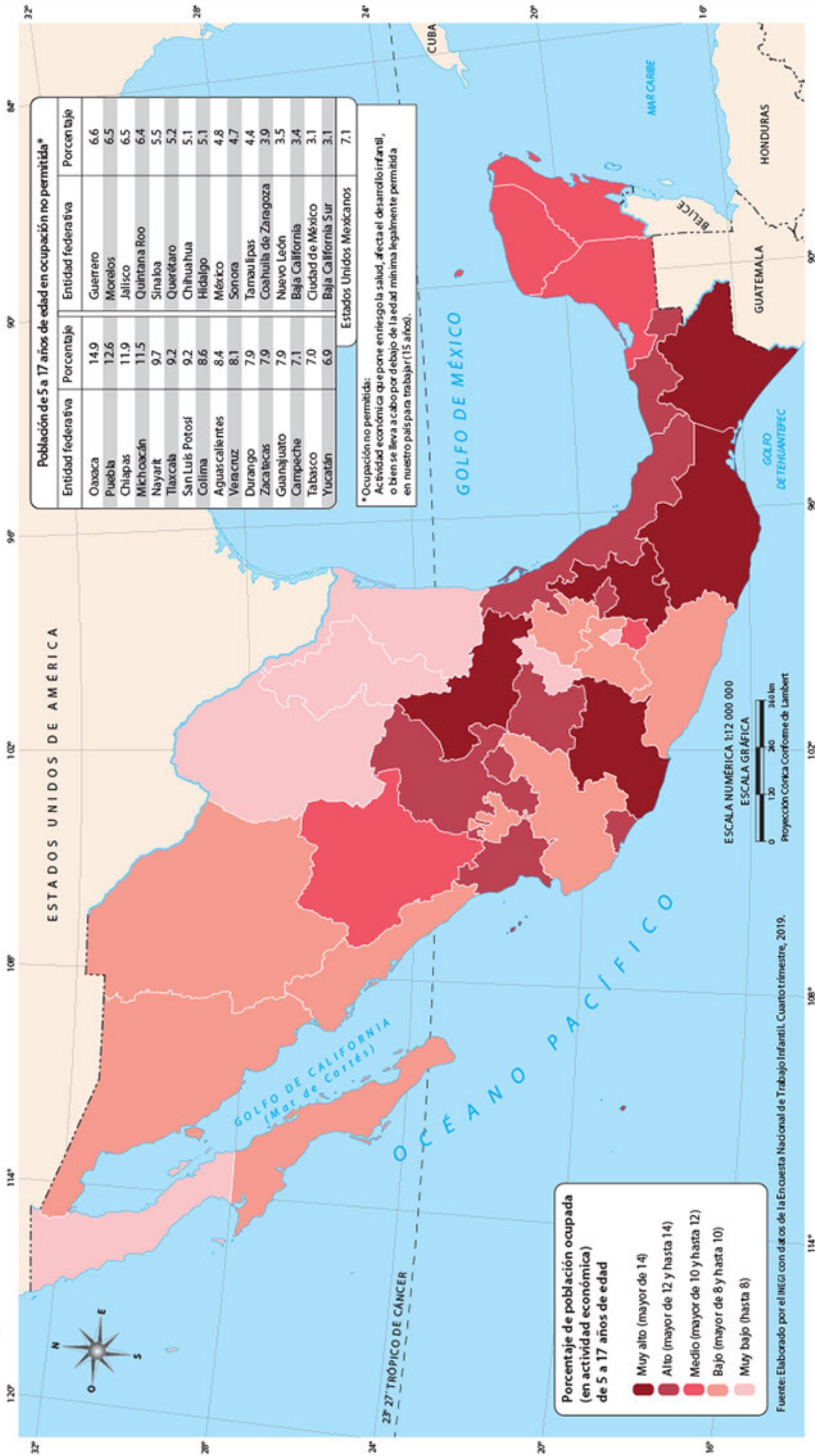
años. En contraste, siete entidades registran el menor porcentaje de discriminación.

Identifica qué entidades cuentan con porcentaje Muy alto de discriminación. Valora qué acciones propondrías para evitarla. Comenta con un adulto si ha sido discriminado y qué derechos se vulneraron con ese hecho.



Entrevista a personas de diferente edad y sexo para conocer si han sido discriminadas, por qué motivo y qué derechos les vulneraron. Con base en los resultados responde: ¿qué impacto tiene la discriminación en tu comunidad?

Trabajo infantil



Porcentaje de población ocupada (en actividad económica) de 5 a 17 años de edad

- Muy alto (mayor de 14)
- Alto (mayor de 12 y hasta 14)
- Medio (mayor de 10 y hasta 12)
- Bajo (mayor de 8 y hasta 10)
- Muy bajo (hasta 8)



El trabajo infantil es el que realizan niñas, niños y adolescentes de 5 a 17 años, el cual puede poner en riesgo su salud y bienestar, alejarlos de la escuela y perjudicar su desarrollo. En México, es muy frecuente en las zonas rurales. El mapa presenta la población infantil que trabaja en cada estado del país. Tam-

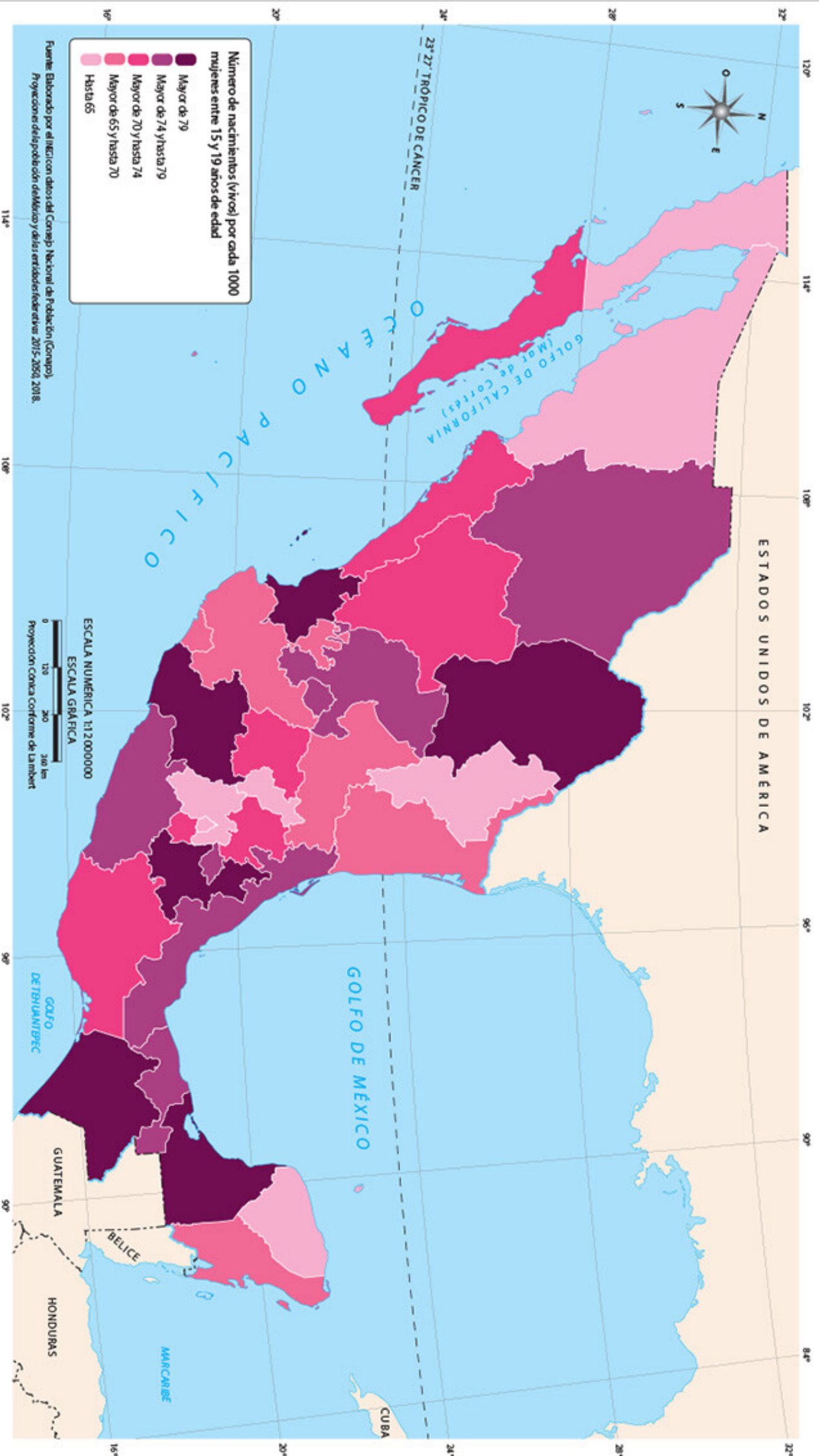
bién ofrece información de la población de 5 a 17 años que realiza actividades no permitidas, las cuales ponen en riesgo la salud o afectan su desarrollo. Sólo seis entidades registran valores de muy baja población infantil trabajadora. En equipo, identifiquen cuáles son las entidades con valor Muy alto de población tra-

bajadora de 5 a 17 años. Compara esta información con la tabla de población infantil en ocupación no permitida. ¿Qué relaciones encuentras? Reflexiona acerca de cómo perjudica a los niños trabajar en actividades de riesgo.



Investiga sobre el trabajo infantil en tu entidad y qué acciones se han llevado a cabo para eliminarlo. Elabora un folleto con la información recabada para sensibilizar a la comunidad escolar sobre el tema. El material debe contener los siguientes puntos: qué es el trabajo infantil, cuál es la situación en tu entidad, qué se ha hecho para combatirlo y cuáles son las consecuencias negativas para los niños que trabajan.

Fecundidad en adolescentes



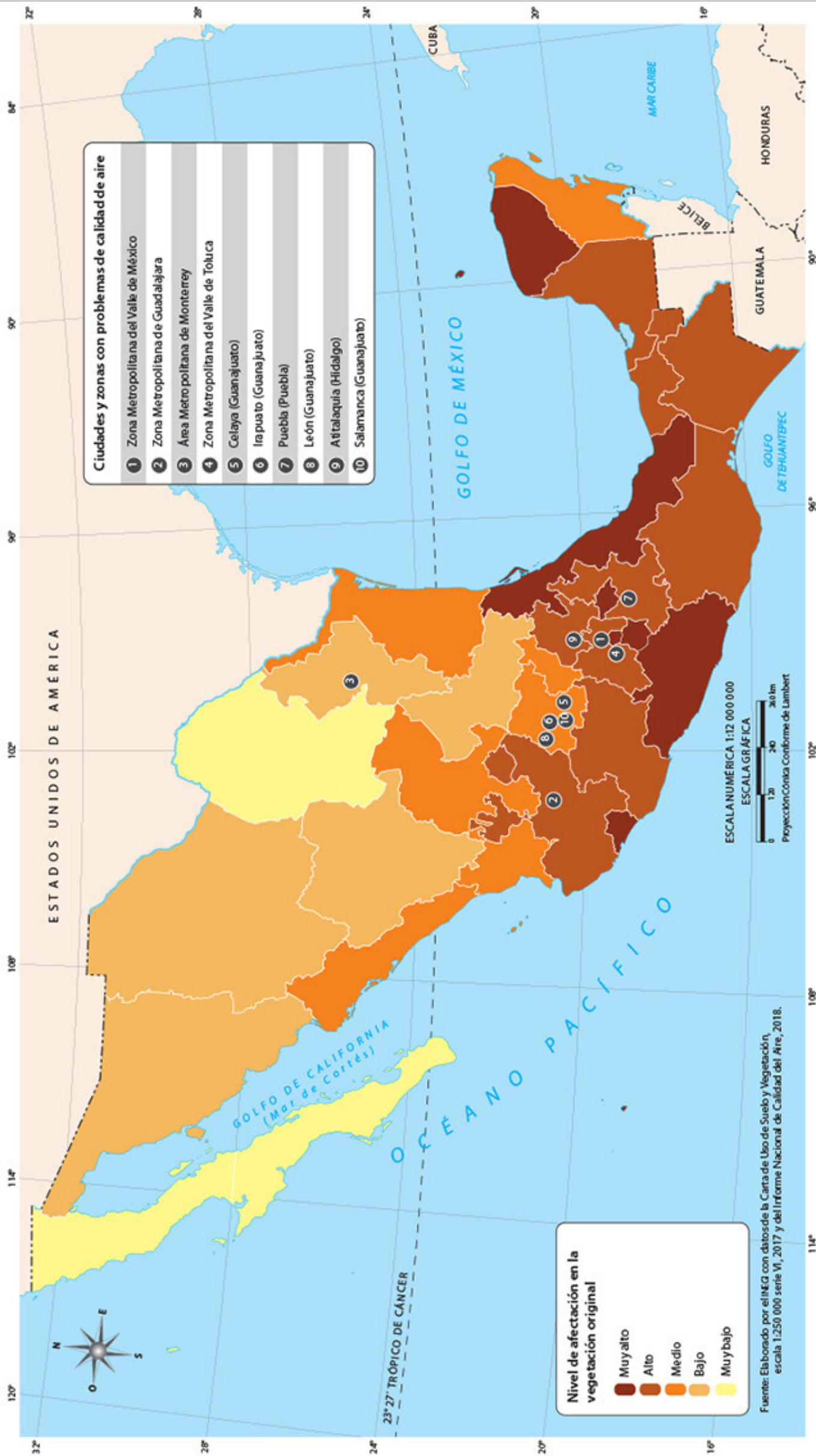
O La fecundidad en adolescentes refiere a los hijos vivos que nacen de mujeres de 15 a 19 años de edad. Las entidades con el mayor número de nacimientos al año, por cada 1 000 mujeres de


la edad referida, son Chiapas, Campeche, Puebla, Michoacán, Nayarit y Coahuila de Zaragoza. Observa el mapa. ¿Qué estados de la República tienen la fecundidad adolescente

más baja?, ¿a qué crees que se deba esto? Identifica qué cantidad de nacimientos hay en tu entidad por cada 1 000 mujeres adolescentes. ¿Te parece alta, media o baja?, ¿por qué lo consideras así?

O Si tuvieras que organizar una campaña para prevenir el embarazo de adolescentes, ¿qué propuestas harías? Elabora un periódico en el que incluyas temas como los siguientes: fecundidad adolescente en México, cómo es la vida de una madre adolescente, propuestas para prevenir este tipo de embarazos, problemas económicos de una pareja adolescente y otros que sean de tu interés.

Impacto ambiental



 El *impacto ambiental* es la transformación favorable o dañina del ambiente a causa de la actividad humana o de los procesos naturales. Puede ser provocado por la ocupación de un territorio, la contaminación, un huracán, la erupción de un volcán o la explotación de recursos naturales. El impacto ambiental

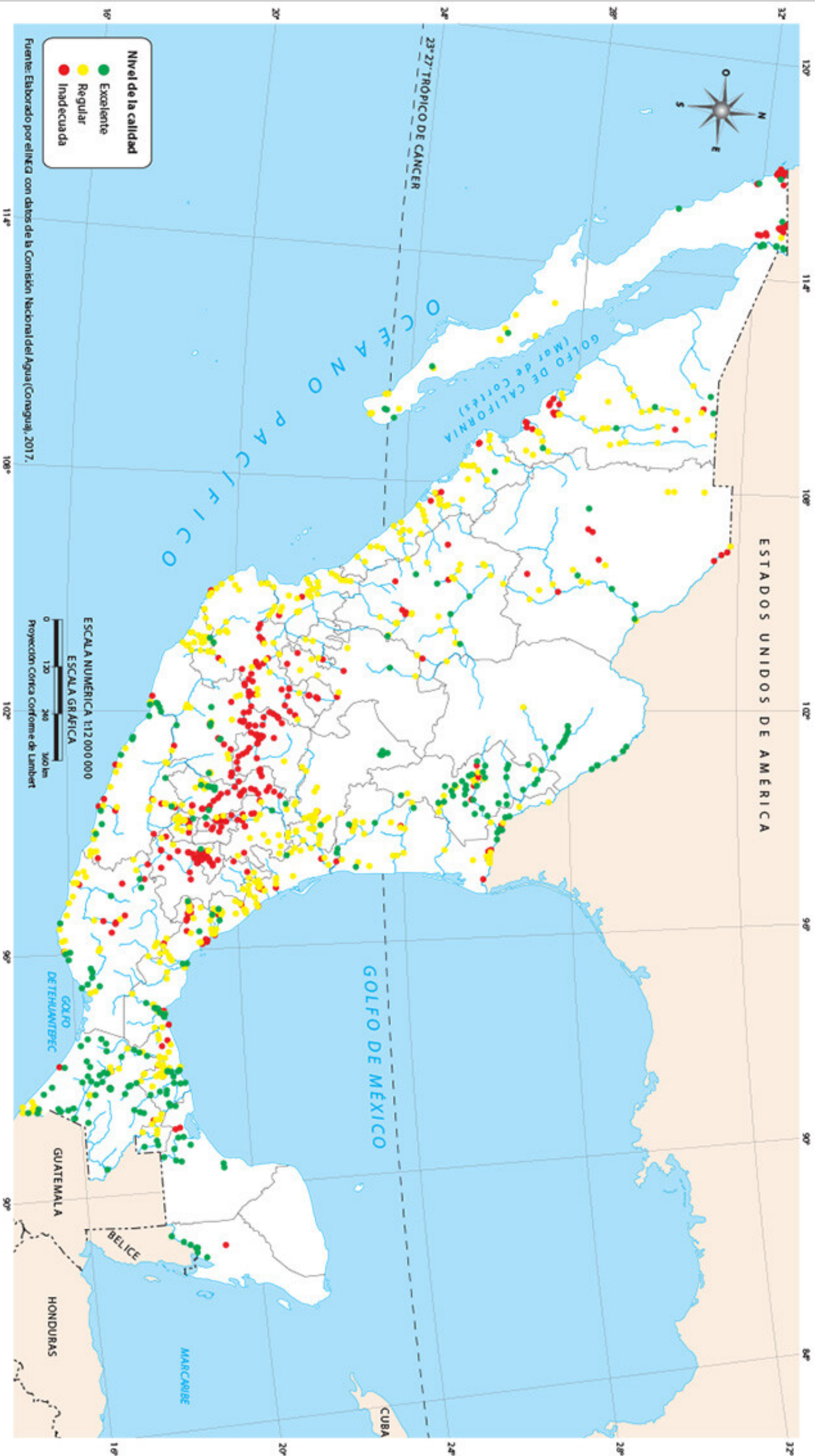
se expresa principalmente en el nivel de afectación de la vegetación original. La mayor cantidad de vegetación original afectada se localiza en los estados del centro, sur y en la costa del golfo de México. En contraste, Coahuila de Zaragoza y la península de Baja California registran niveles de afectación muy bajos.

Observa el mapa y la tabla. Explica por qué la Ciudad de México es una de las entidades con mayor nivel de afectación en la vegetación original y qué relación tiene esto con los problemas en la calidad del aire que enfrenta. ¿En qué parte del país se localiza la mayoría de las ciudades o zonas con problemas de calidad del aire?



Observa detenidamente tu entorno e indaga qué es lo que afecta al medio ambiente en mayor medida. Con esta información, elabora una lista de acciones que podrían ayudar a minimizar el impacto ambiental en tu localidad. Con ayuda de tu maestro, diseña una campaña para promover medidas a favor del medio ambiente.

Calidad del agua de los ríos



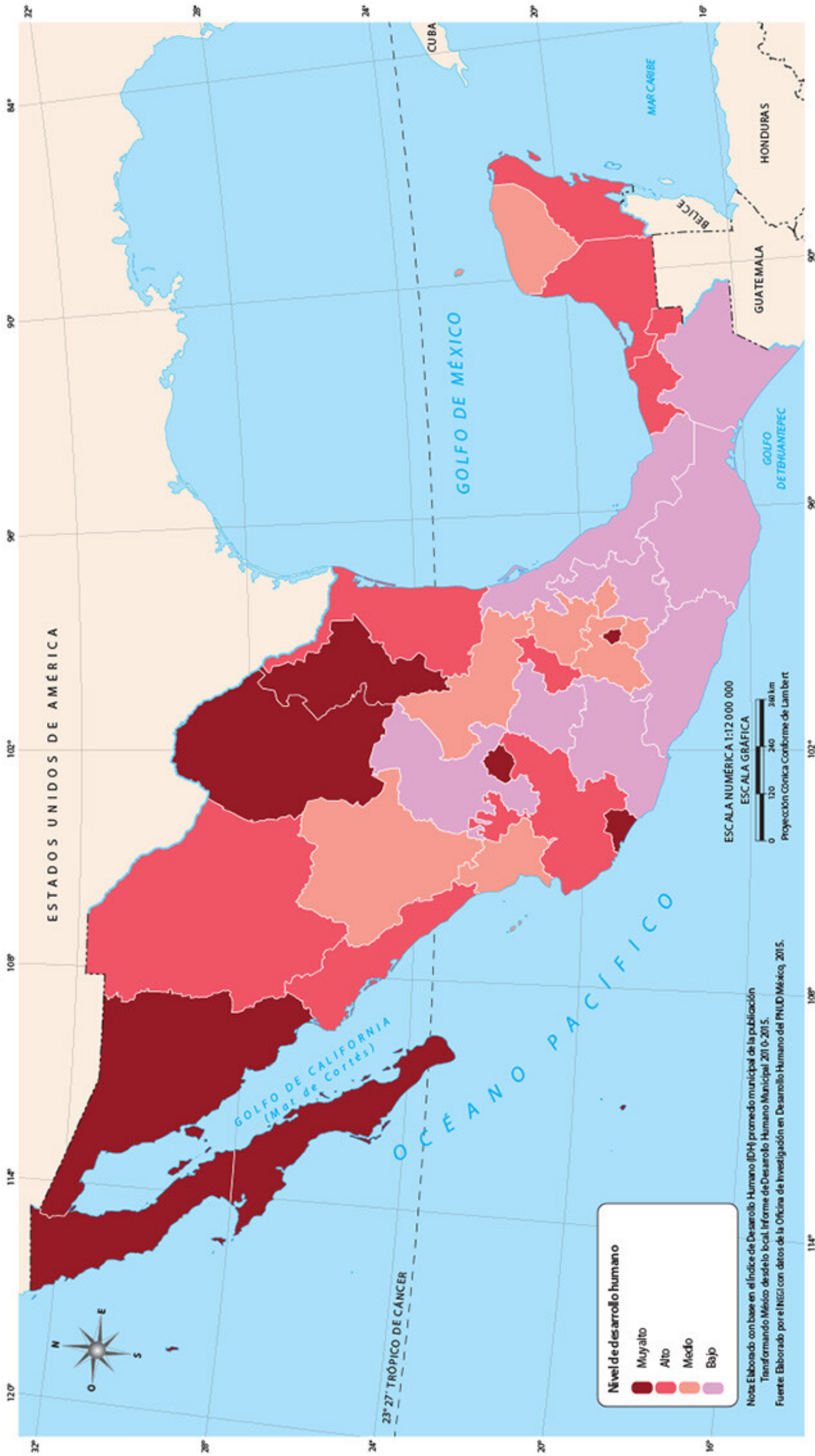
Este mapa se refiere a las características físicas y químicas del agua y si éstas resultan adecuadas para el riego de plantas y el consumo humano o animal. El agua no es apta cuando está contaminada por residuos, sustancias químicas tóxicas, heces fecales o sólidos, como basura u otro tipo de desperdicios.

En el mapa se puede apreciar que los mejores niveles de calidad del agua se localizan al sur de la República Mexicana, particularmente en Chiapas; los niveles regulares de calidad se encuentran al oeste y al sur del país, mientras que en las entidades del centro se encuentran niveles de calidad inadecuados.

Observa en el mapa las entidades que tienen los mejores niveles de calidad del agua. ¿En qué situación se encuentra tu entidad? Compara este mapa con el de "Principales ríos, lagos, lagunas y presas", de la página 13, e indica el nombre de tres ríos con excelente calidad del agua.

Elabora una tabla de dos columnas y cuatro filas. En la primera columna escribe el encabezado "Niveles de calidad" y, abajo, el nombre de los tres niveles de calidad del agua que se indican en el mapa; en la segunda columna, escribe el encabezado "Estados" y, debajo, el nombre de entidades federativas cuyos ríos correspondan a cada nivel.

Desarrollo humano



El *desarrollo humano* es el conjunto de oportunidades que ofrece un país para que sus habitantes disfruten de una vida larga, saludable, y tengan acceso a la educación y a un nivel de vida digno. Para ello, se creó el Índice de Desarrollo Humano (IDH), el cual mide los logros obtenidos por un país o entidad a partir de


tres componentes: el ingreso, la educación y la salud.

En el país, el nivel de desarrollo humano Muy alto se encuentra en ocho entidades y el de Alto se halla en otras ocho. La mitad de los estados tiene un nivel Medio y Bajo, siendo las entidades del sur algunas de las que tienen el menor nivel.

En tu cuaderno, agrupa las entidades según su nivel de desarrollo. ¿Cuál de los tres componentes del IDH crees que sea el más importante? ¿Por qué? Compara este mapa con el de "Rezagos sociales" de la página 34 y escribe las semejanzas y diferencias que encuentres entre ambos mapas.



Con dibujos o recortes, haz un periódico mural en el que expreses las necesidades de los habitantes de tu localidad en relación con la salud, la educación y el trabajo. Luego comenta: ¿qué pasaría si alguno de estos componentes faltara o fuera insuficiente en tu localidad?, ¿cómo afectaría a sus habitantes?



Economía



Desde que te despiertas hasta que anochece, tu entorno está lleno de objetos: la cama, el jabón que usas cuando te bañas, el desayuno que tomas, los libros que usas, la mochila que te acompaña a la escuela... A pesar de estar rodeado de tantas cosas, tal vez no te has preguntado ¿de dónde vienen?, ¿quién las hizo?, ¿cómo llegaron hasta aquí?

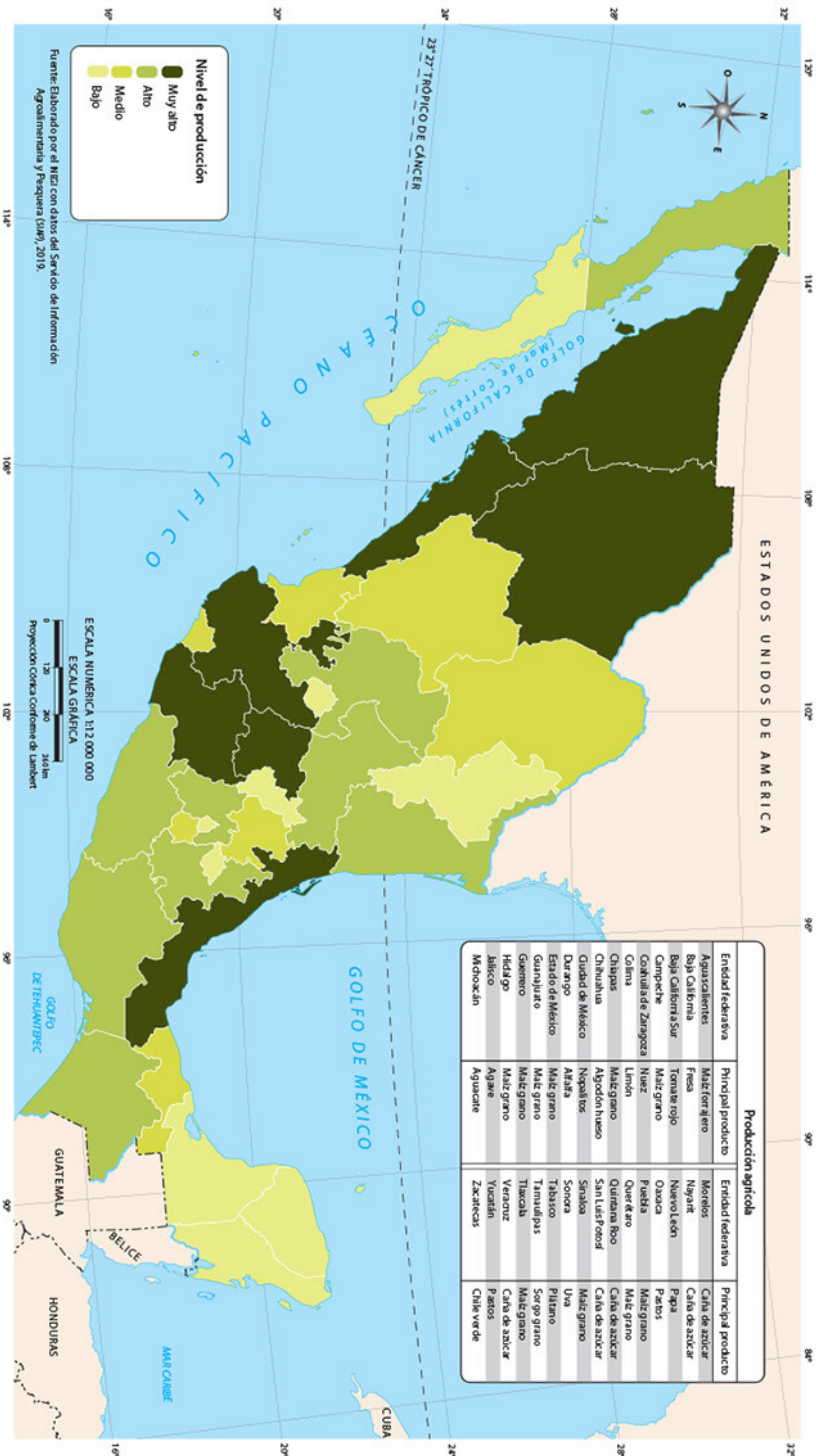
La mayoría de las cosas que hay en tu entorno pasaron por un proceso de producción que transformó algún **recurso de la naturaleza** en algo útil para la sociedad. Los recursos naturales, como la flora, la fauna y los minerales, cambiaron y llegan a ti gracias a las habilidades y el conocimiento de las personas; es decir, de los **recursos humanos** con los que cuenta una nación.

Para elaborar los productos, distribuirlos y consumirlos se requiere edificios, maquinaria, herramientas, puentes, carreteras y medios de transporte, lo que se conoce como **bienes de capital**.

Estos tres tipos de recursos se combinan para tener bienes y servicios que satisfagan las necesidades de las personas. ¿Te imaginas cuántos recursos se necesitan para hacer una torta, un licuado o el huevo con jitomate que muchos desayunamos?

Este capítulo, titulado **Economía**, te permitirá comprender cuáles son los recursos naturales, humanos y financieros de nuestro país.

Agricultura



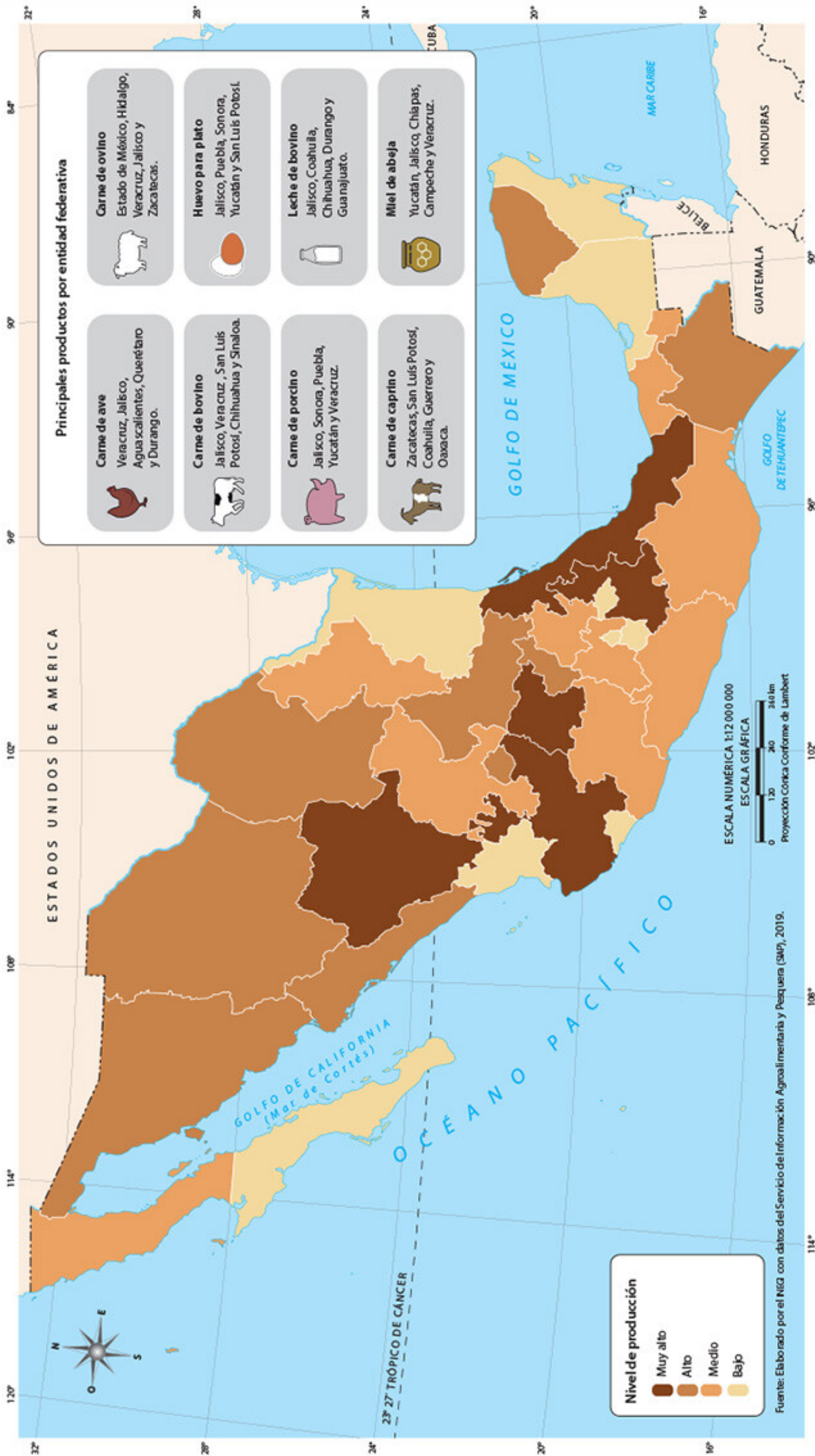
La agricultura es la actividad económica de domesticación y cultivo de plantas que, con base en un conjunto de técnicas y conocimientos, permite la obtención de productos para proveer alimentos a los seres humanos y al ganado, así como de materias primas para la industria.

El mapa muestra la producción agrícola por entidad. Destacan, con un nivel Muy alto, Sonora, Chihuahua, Sinaloa, Jalisco, Michoacán, Guanajuato y Veracruz. El cuadro de la derecha proporciona información sobre el principal producto agrícola de cada entidad federativa.

Elabora una tabla de tres columnas: en la primera escribe, en orden alfabético, el nombre de diez entidades federativas que prefieren agrícola que le corresponde a cada una, y en la tercera, el principal producto acompañado de un dibujo del mismo. ¿Qué producto es el de mayor presencia en el país?

Investiga los productos agrícolas de la entidad donde vives, indica a qué grupo pertenecen (frutos, hortalizas, granos, legumbres, tubérculos o forrajes) y con la información recabada elabora un álbum.

Ganadería



La ganadería es una actividad económica del sector primario que consiste en la reproducción, cuidado y alimentación de vacas, borregos, cerdos, pollos y abejas, entre otros animales, a fin de aprovechar para consumo humano la carne, leche, lana, huevos, miel y otros derivados.

En la mayor parte del país hay producción ganadera, principalmente para obtener carne de bovino, cerdo, cabra, borrego y ave. Destacan en esta actividad Durango, Jalisco, Guanajuato, Puebla y Veracruz.

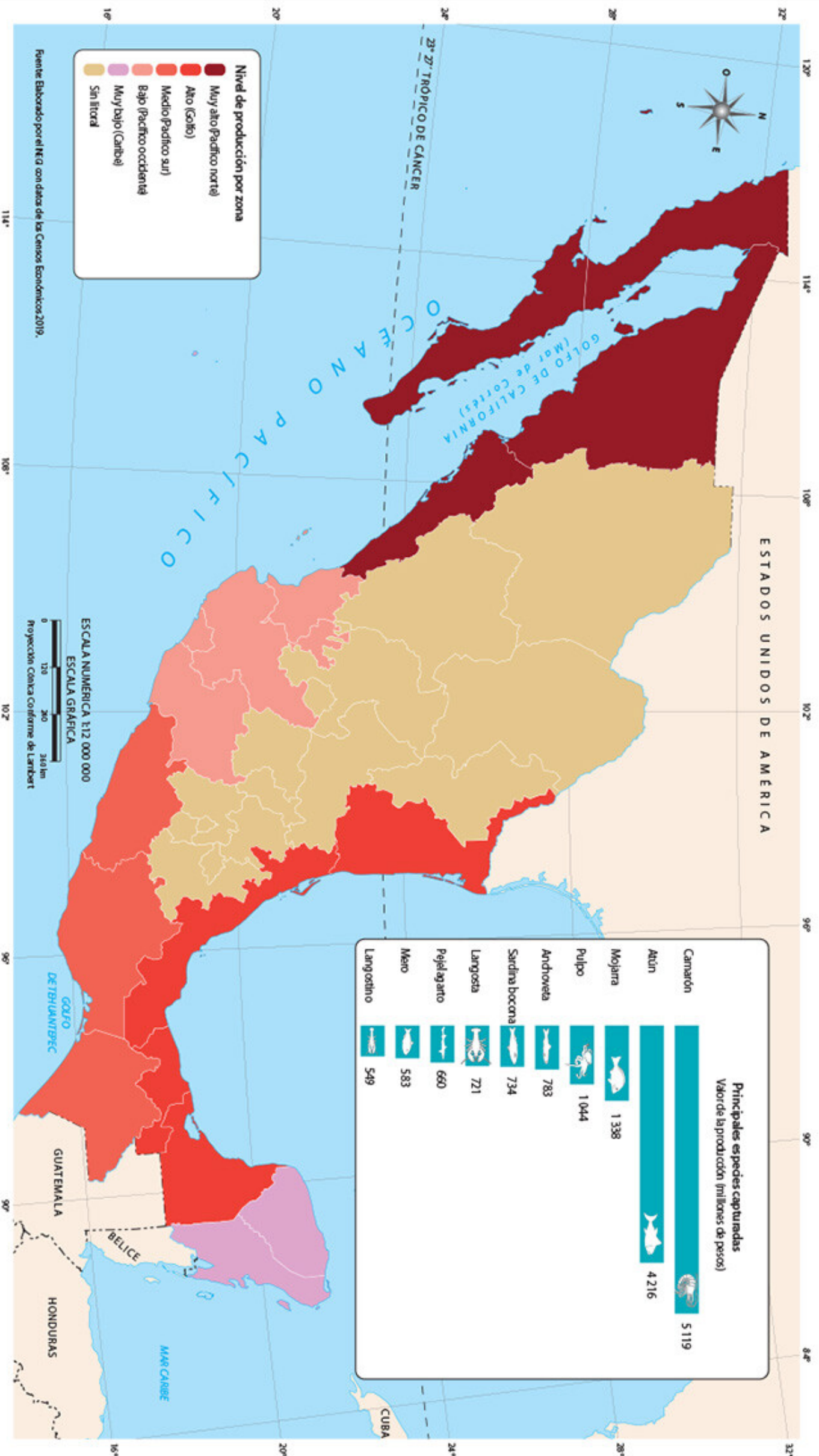
Compara la información del mapa con la información de la tabla. ¿Cuáles son los esta-

dos que más se repiten en la tabla?, ¿coinciden con los estados de nivel Muy alto o Alto, señalados en el mapa? Identifica en qué tipo de producción destacan Chihuahua, Yucatán y Zacatecas.



Selecciona alguno de los animales mostrados en el cuadro. Investiga cómo es su proceso desde que el animal nace, es alimentado y cuidado en la granja, hasta que se comercializa su carne u otros derivados. Averigua qué productos del animal se pueden adquirir en tu localidad. Haz un folleto con esta información y compártelo con amigos y familiares.

Pesca y acuicultura



La pesca es la captura de peces, crustáceos y moluscos, tanto en aguas saladas de los océanos como en aguas dulces de ríos, lagos y presas. Una variante de esta actividad es la acuicultura, que consiste no sólo en la obtención, sino también en la cría de organismos acuáticos. Ambas son actividades que proporcionan

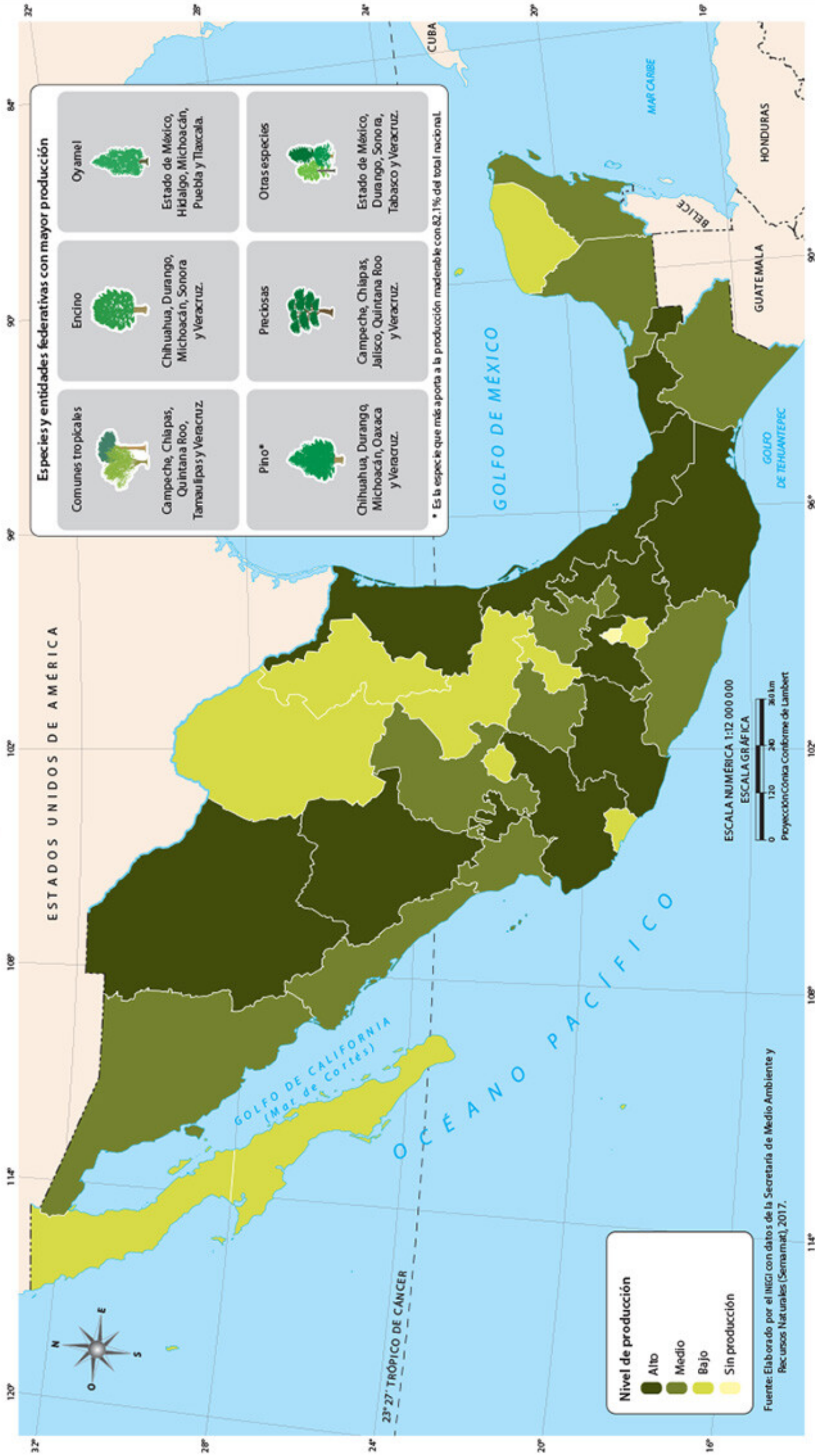
alimento y representan una importante fuente de ingresos.

Los estados del noroeste contribuyen con más de la mitad de la producción pesquera del país. Le siguen las entidades del litoral del golfo de México con una sexta parte de la producción. En contraste, las entidades del norte y centro que no tienen

costas presentan una producción pesquera muy baja. Observa el mapa y menciona los cuatro estados que presentan la mayor producción pesquera del país. ¿Qué tienen en común? Con base en la tabla que acompaña al mapa, nombra las cinco principales especies que se capturan en el país.

¿Cómo es la producción pesquera en tu entidad? Visita el mercado más cercano y pregunta qué animales acuáticos son los que más se venden y si se capturan en tu estado o provienen de otro. Elabora una lista con los cuatro que más se consumen en tu localidad. Reflexiona: ¿qué se tendría que hacer para que las especies acuáticas no se agoten?

Producción forestal maderable



La producción forestal maderable es el aprovechamiento de los bosques para obtener madera y celulosa. Con la primera se fabrican muebles y con la segunda productos como el papel. La producción más alta del país se localiza en Chihuahua, Durango, Michoacán, Veracruz,

Jalisco, Estado de México, Puebla, Oaxaca, Tamaulipas y Tabasco.

La tabla que acompaña el mapa muestra las entidades con mayor producción de acuerdo con el tipo de especie.

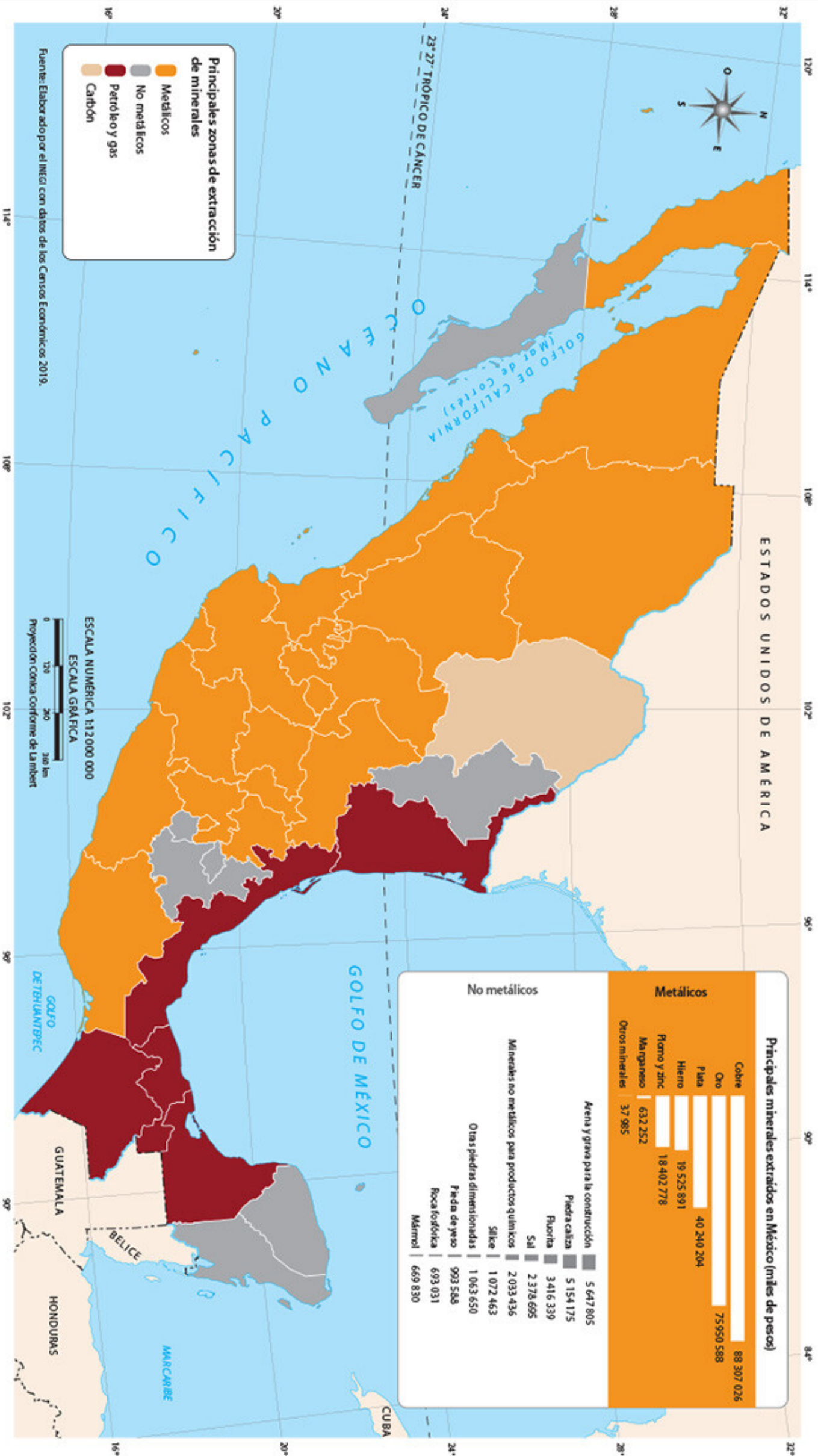
Identifica los estados que cuentan con un nivel Bajo de producción forestal. ¿A qué se

debe que el nivel de producción sea así? Para responder, apóyate en el mapa "Regiones naturales" de la página 19. Por último, localiza la entidad que no tiene producción forestal y piensa cuáles pueden ser las causas de ello.



Investiga qué son las maderas preciosas, de qué tipo de árboles provienen y los usos que reciben. Realiza un álbum con dibujos de objetos hechos con este tipo de maderas.

Minería



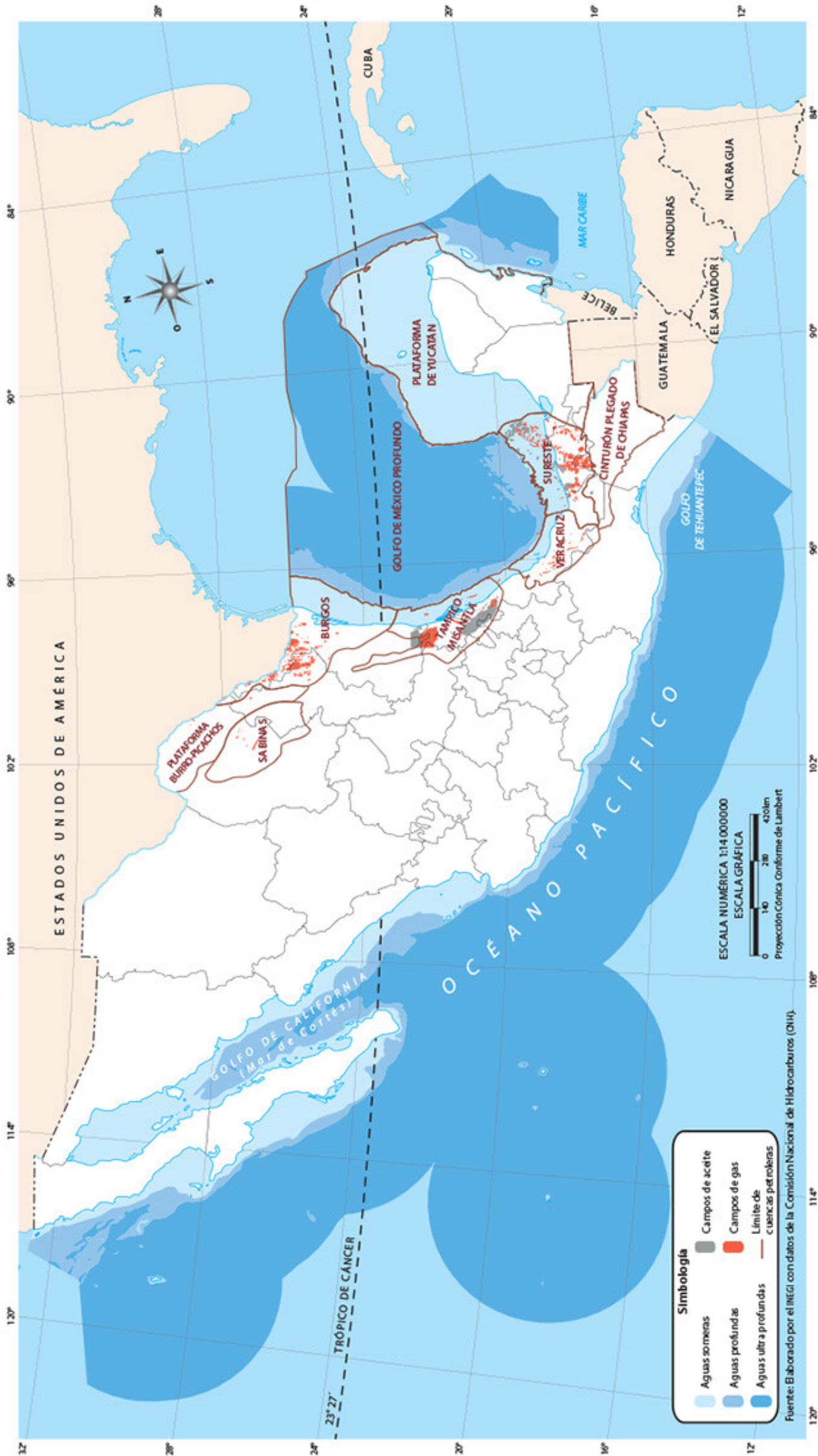
La minería es la actividad económica dedicada a la búsqueda, extracción y aprovechamiento de productos del suelo o subsuelo. Los minerales pueden ser metálicos, como el oro, la plata y el fierro; no metálicos, como la arena, la sal y el yeso, y energéticos, como el petróleo, el carbón mineral y el gas natural.


El mapa muestra que las entidades con mayor extracción de metales se ubican en el centro del país y en las costas del océano Pacífico; las que extraen minerales no metálicos son siete, mientras que las que obtienen energéticos están en las costas del golfo de México y en el estado de Chiapas.

La tabla que acompaña al mapa revela que la minería tiene un alto beneficio económico. Observa el mapa y descubre lo siguiente: ¿cuál es la entidad que produce la mayor cantidad de carbón?, ¿qué tipo de minerales aportan mayores beneficios económicos?, ¿cuál es el principal tipo de minerales que se extrae en tu entidad?

¿Qué productos de origen mineral identifiocas en tu salón, en la escuela, en tu casa, en las calles y en el parque? Elabora tres listas con los minerales que reconociste: una para los metálicos, otra para los no metálicos y la última para los energéticos. ¿Cuál es la importancia de los minerales en la vida cotidiana?

Extracción de petróleo y gas natural



 El petróleo es un recurso no renovable que se forma en el subsuelo durante millones de años a partir de materia orgánica. Se presenta en forma sólida, líquida o gaseosa (gas natural). Para su extracción, primero se comprueba la existencia de un yacimiento rico y luego se perforan pozos.

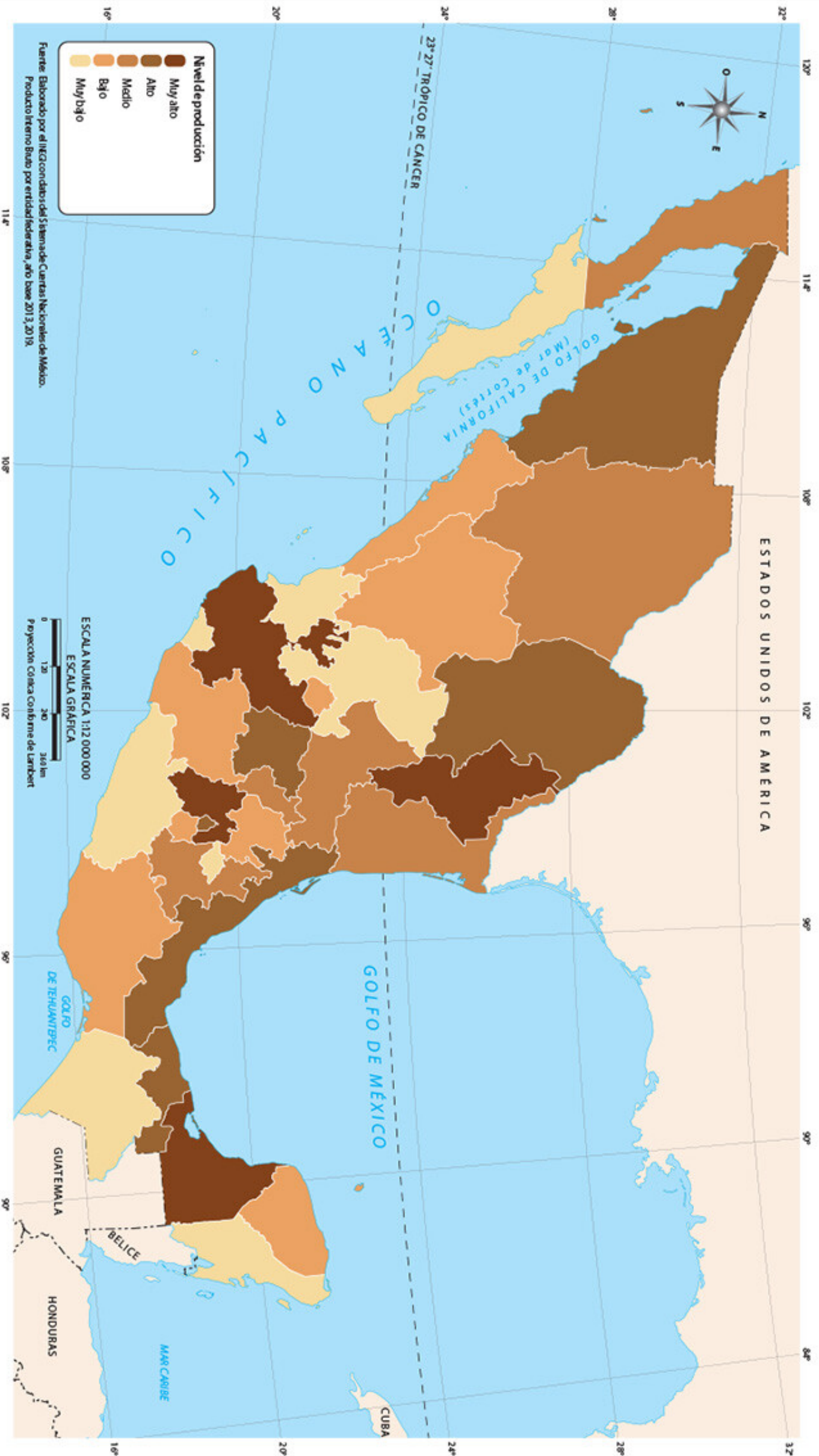
En la región del golfo de México se concentran los mayores campos de extracción de petróleo y gas natural, pues ahí se han descubierto los yacimientos más ricos. Las cuencas más grandes son la de la Plataforma de Yucatán, de aguas someras, y la del mismo golfo de México, de aguas profundas y ultra profundas.

El petróleo y el gas natural producen más de la mitad de la energía consumida en el planeta; sin embargo, como no son renovables, se agotarán en el corto plazo. Escribe en tu cuaderno el nombre de las cuencas petroleras de México y los estados que abarca cada una. Señala los estados que, además de petróleo, extraen gas y aceite.



Investiga con tus compañeros y tu familia qué productos derivados de petróleo utilizan y qué recursos alternativos se podrían emplear en el futuro.

Industria



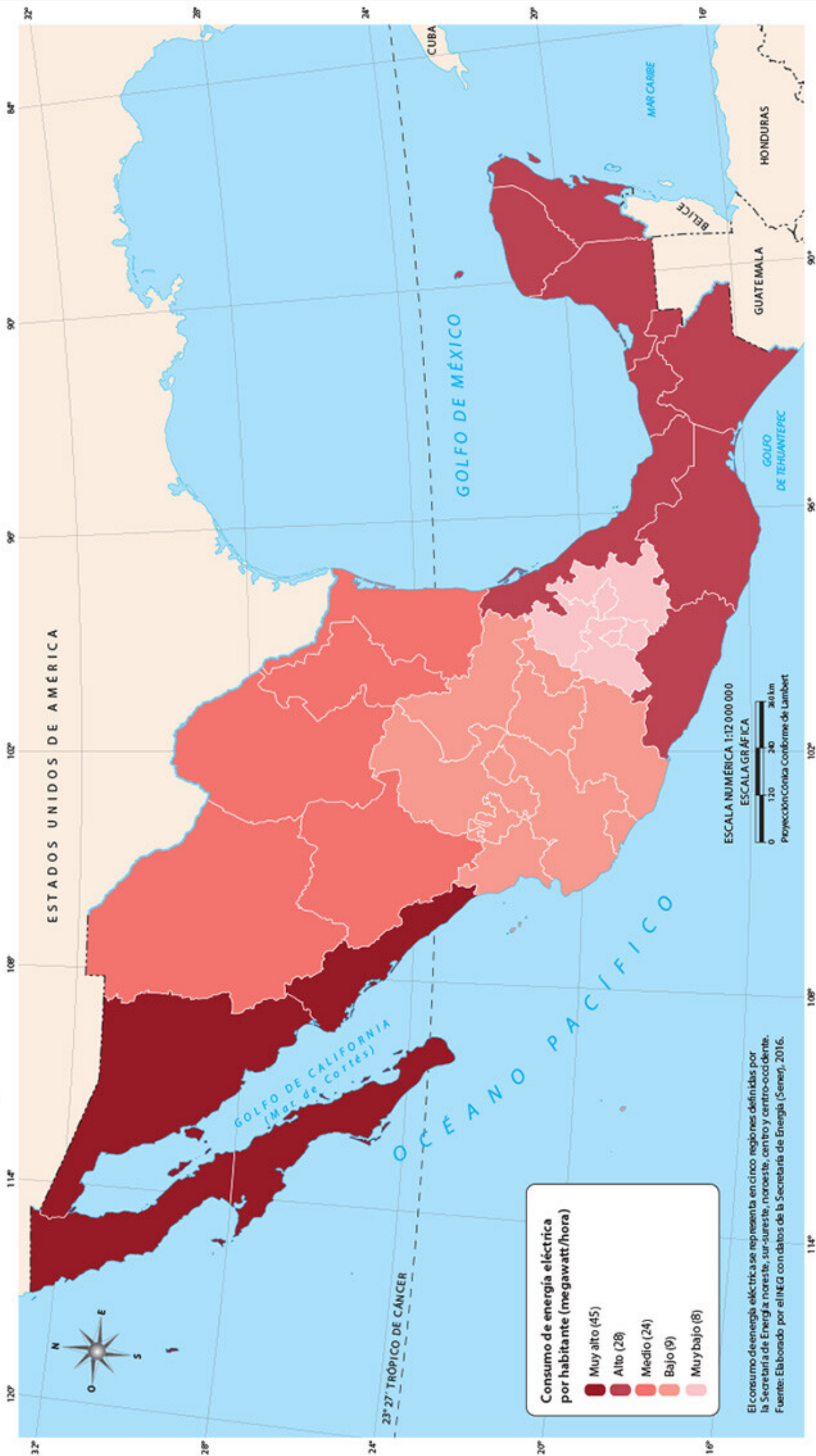
O La industria es una actividad económica secundaria que se caracteriza por desarrollar procesos automatizados y utilizar maquinaria para transformar materias primas. Incluye fábricas, talleres y laboratorios. El sector industrial incluye sectores como el de la construcción, minería, manufactura y generación de electricidad.

Son 10 las entidades con Muy alto o Alto nivel de producción. En éstas se concentra la mayoría de las industrias del país, mientras que ocho registran el nivel Muy bajo. La industria es el segundo sector que más riqueza aporta al país, por debajo de los servicios.

Revisa el nivel de participación de tu entidad en la producción industrial. ¿Qué nivel tiene? Ahora consulta el mapa de tu estado en el capítulo 6, "Entidades federativas", y explica si existe relación entre el tipo de industrias que se desarrolla y el nivel que se indica en el mapa.

O En el capítulo "Entidades federativas" selecciona cinco estados, uno por cada nivel de producción: Muy alto, Alto, Medio, Bajo y Muy bajo. Revisa la información sobre las principales actividades económicas: ¿existe relación entre el nivel de producción que se indica en el mapa y el tipo de industrias que hay en el estado? Escribe cómo relacionaste la información de ambos mapas y di qué se te dificultó más.

Consumo de energía eléctrica



El consumo de energía eléctrica se refiere a la suma de energía empleada para el funcionamiento de las industrias, los transportes y diversos aparatos y sistemas usados en oficinas, negocios y hogares.

El mapa muestra cinco regiones de consumo de energía eléctrica. La de consumo

Muy alto es la del noroeste, donde las condiciones del clima demandan el uso de aparatos con un alto consumo de energía eléctrica (más de 1 400 watts por hora), como el aire acondicionado o los calefactores. En contraste, en la región centro el consumo es Muy bajo (menos de 200 watts por hora), debido a que los aparatos electrónicos de

mayor uso, como computadoras o televisores, requieren poca energía.

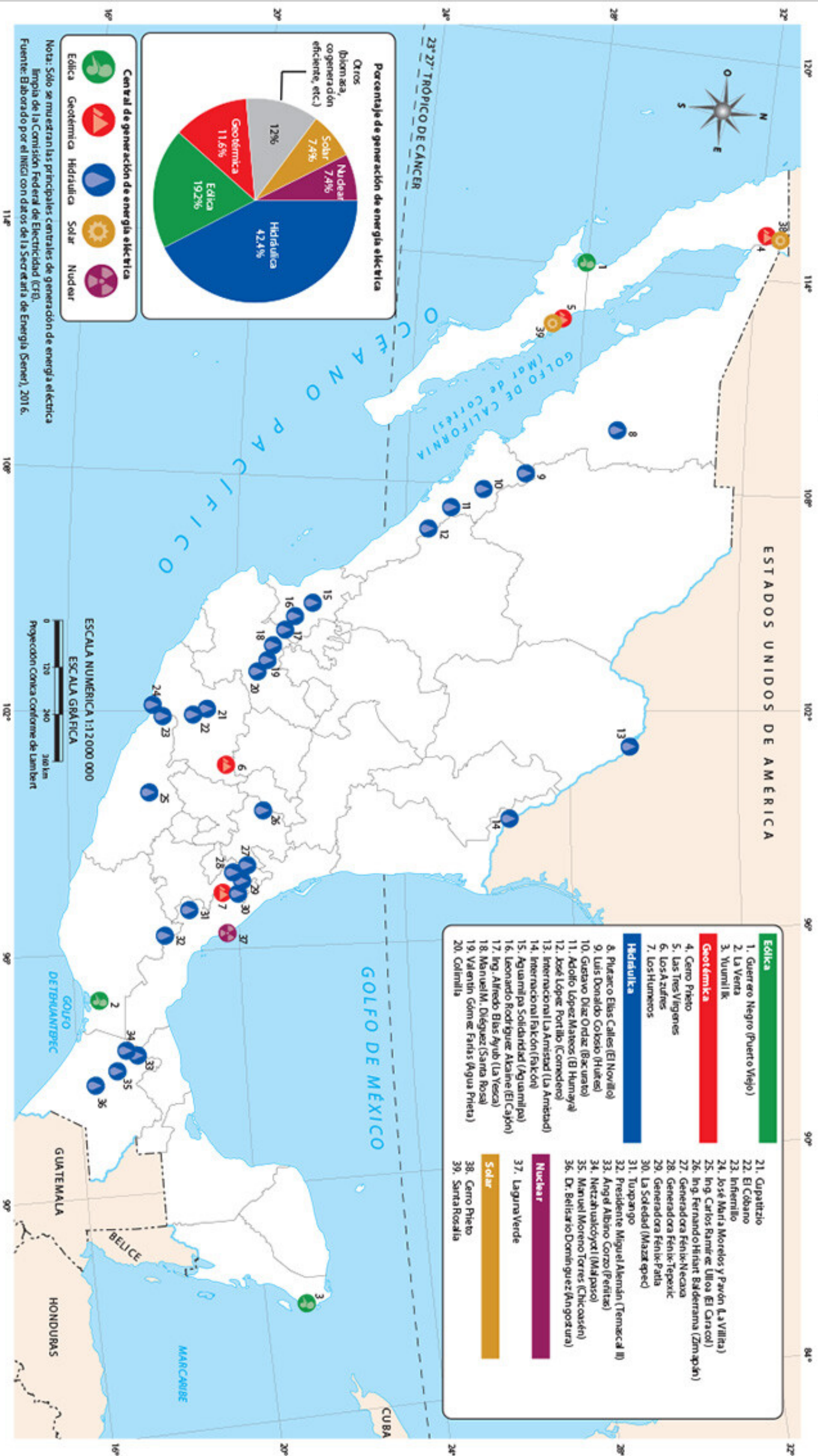
Identifica los climas que propician un alto consumo de energía eléctrica y los que favorecen un consumo bajo. Para ello, compara el mapa con el de "Climas", de la página 15, y responde: ¿qué clima predomina en cada región de consumo?



El clima puede condicionar el tipo de aparatos y sistemas eléctricos que utilizamos en casa, y éstos, a su vez, nuestro grado de consumo de energía eléctrica.

Para saber si tu consumo de electricidad es Alto, Medio o Bajo, reconoce qué clima predomina en tu entidad y relaciónalo con los 10 aparatos eléctricos que se usan en casa. Reflexiona: ¿en qué consiste el consumo responsable de energía eléctrica?

Generación de energía eléctrica



La generación de energía eléctrica hoy se produce a partir de fuentes poco contaminantes, como el agua (hidráulica), el viento (eólica), el sol (solar), el calor del interior de la Tierra (geotérmica) y la producida a partir de minerales radiactivos (nuclear).

La mayoría de las plantas que generan energía eléctrica en nuestro país son cen-

trales hidráulicas y se localizan sobre todo en los estados de la costa del Pacífico. La energía eólica se produce en las penínsulas de Baja California y Yucatán y en el Istmo de Tehuantepec. Las plantas geotérmicas se ubican en Michoacán, Veracruz y en la península de Baja California; en esta última también se aprovecha la energía solar.

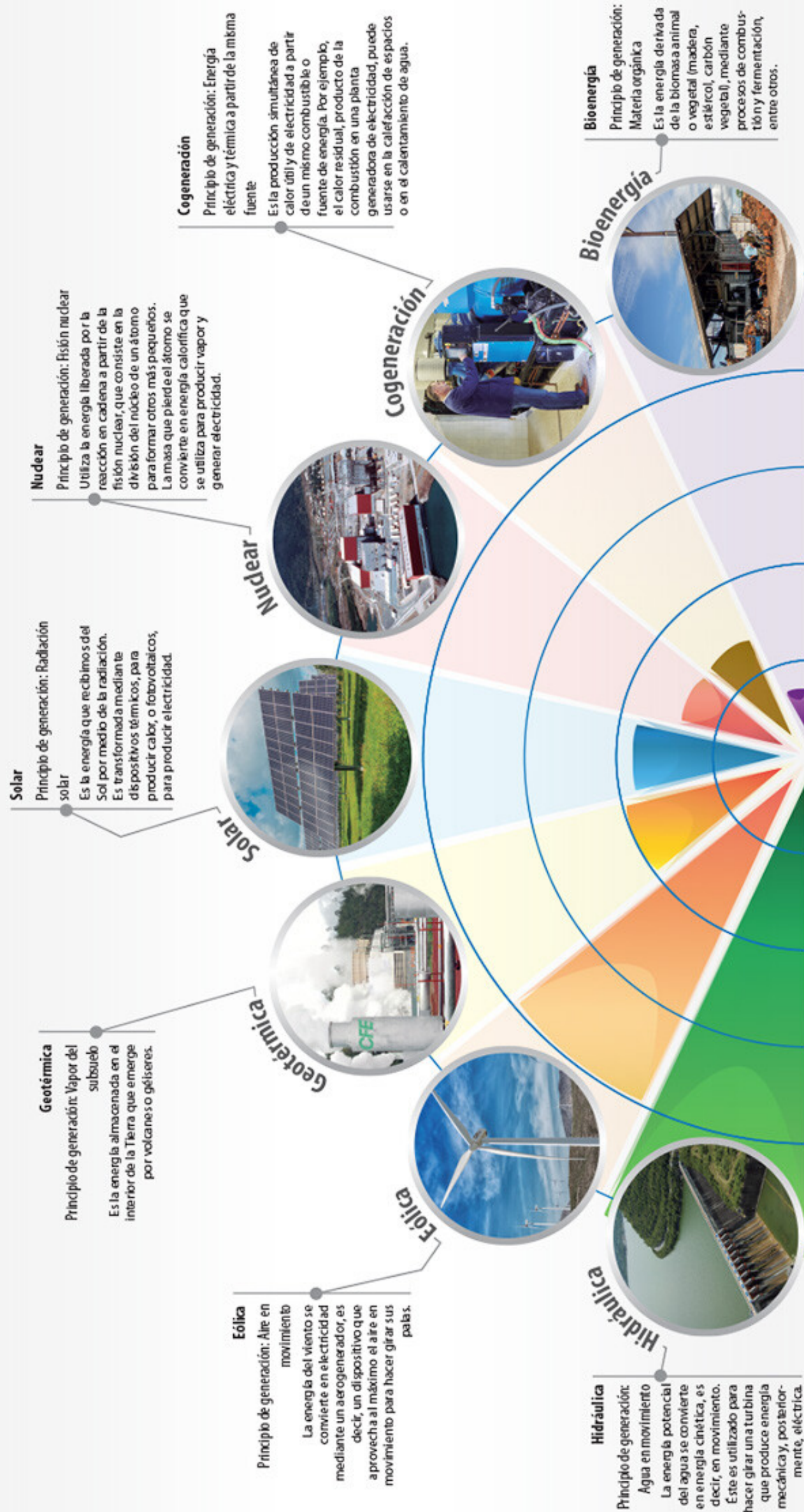
Identifica las plantas generadoras de energía eléctrica que hay en tu entidad o cercanas a ella: ¿de qué tipo son? ¿qué entidad es la que cuenta con mayor número de plantas generadoras?

Investiga de dónde viene la energía eléctrica que abastece a tu localidad y cómo se genera. Realiza un dibujo de esa fuente de energía. Por último, ¿qué acciones podrían llevar a cabo en tu casa y en la escuela para aprovechar mejor la energía eléctrica?

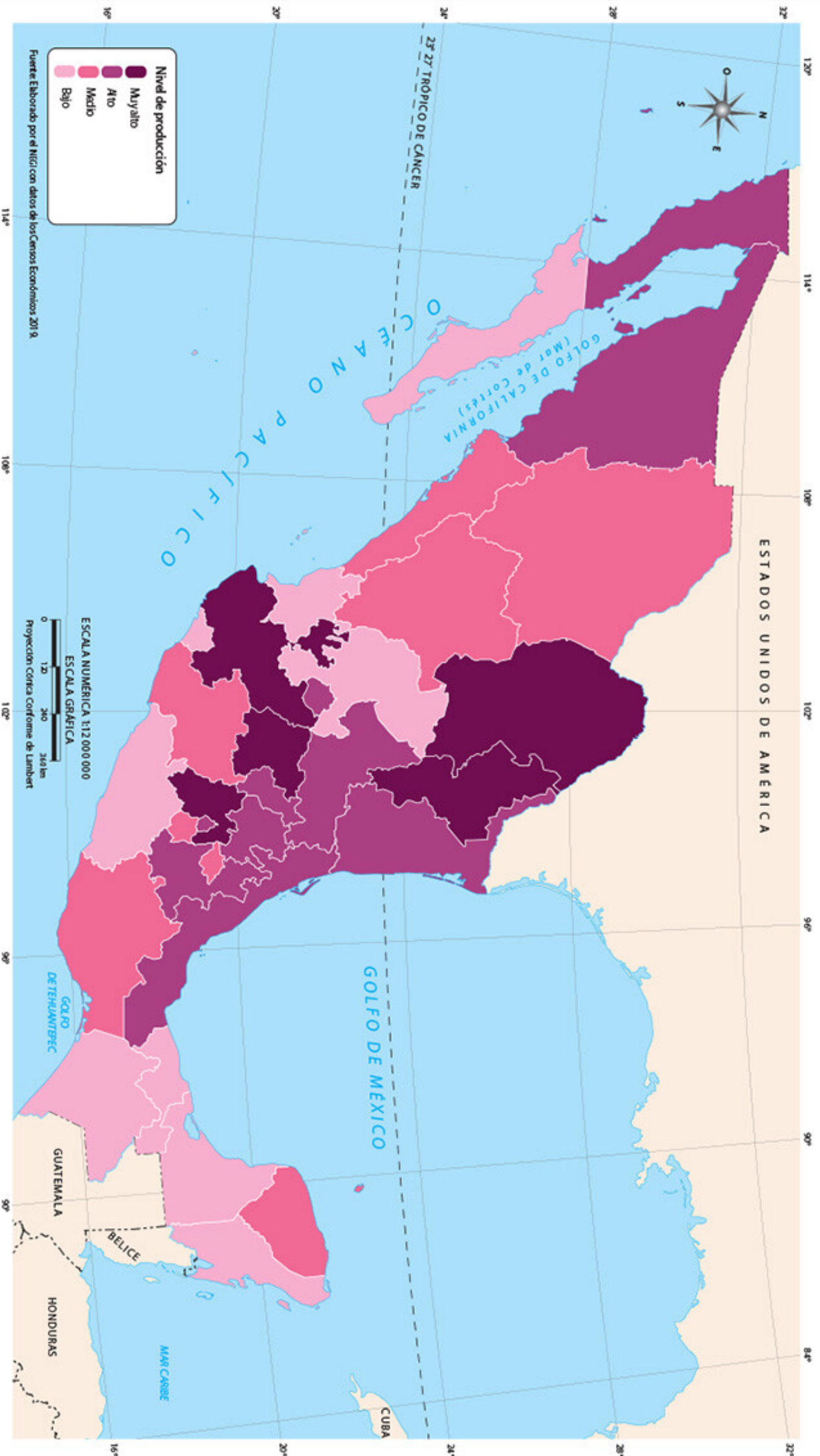
Generación de energía eléctrica

La generación de energía eléctrica es la producción de electricidad a partir de energéticos primarios, es decir, aquellos que se encuentran en la naturaleza. Estos recursos pueden ser *renovables*, como el agua, el viento, el vapor de agua del subsuelo y la radiación solar, o *no renovables*, como los combustibles fósiles (carbón, petróleo, gas natural) y el uranio empleado en centrales nucleares.

Para contar con la energía eléctrica que requiere el país, existen centrales generadoras de electricidad, la cual producen a partir de distintas tecnologías:



Manufactura



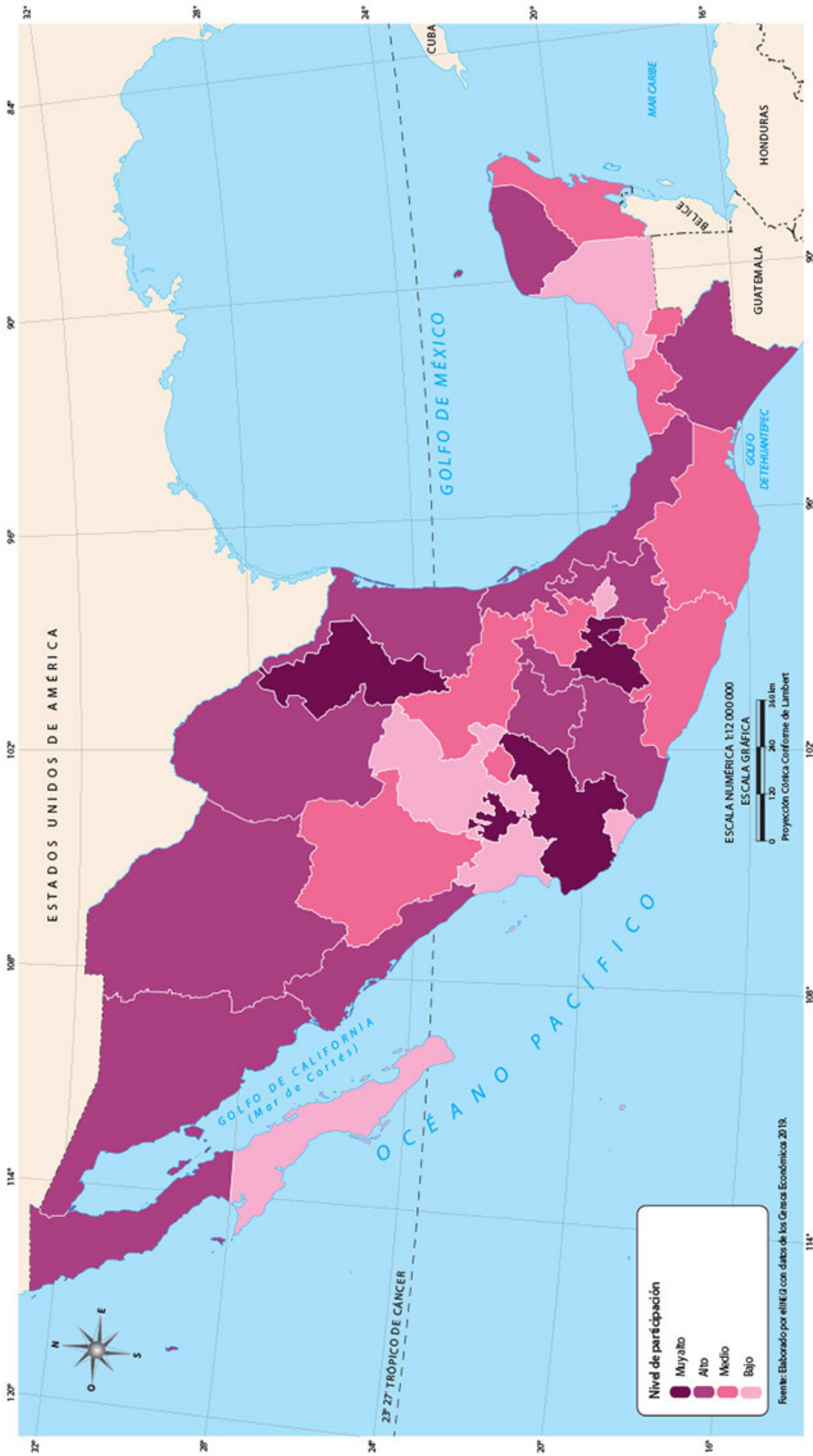
O La **manufactura** es una actividad económica secundaria que transforma materias primas en artículos y productos. Comprende empresas pequeñas, tales como torillerías, panaderías, talleres de artesanía o herrería, y empresas grandes, como armadoras de automóviles, laboratorios de medicamentos, fábricas de ropa o de papel.

Son cinco los estados con los niveles más altos de producción, Coahuila, Nuevo León, Jalisco, Guanajuato y Estado de México. Juntos producen casi la mitad de lo manufacturado en nuestro país. En contraste, hay nueve estados situados en el nivel más bajo. Observa el mapa y responde: ¿en qué nivel se ubica tu entidad y los estados ve-

cinos? Goteja el mapa con el de "Industria," de la página 54. Localiza los estados que tienen muy alta producción, tanto en industria como en manufactura. ¿Qué relación encuentras entre ambos mapas?

O Investiga y selecciona un producto que se manufacture en tu localidad. Escribe como se elabora y cómo se beneficia la comunidad con la fabricación de ese producto. ¿Por qué es importante la industria manufacturera en tu localidad?

Comercio



El comercio es la actividad económica que consiste en el intercambio, compra y venta de bienes o servicios para uso propio, venta o transformación. Los bienes son productos que puedes tocar, como un lápiz o un juguete; mientras que los servicios son beneficios

intangibles, como la salud, la educación o la recreación.

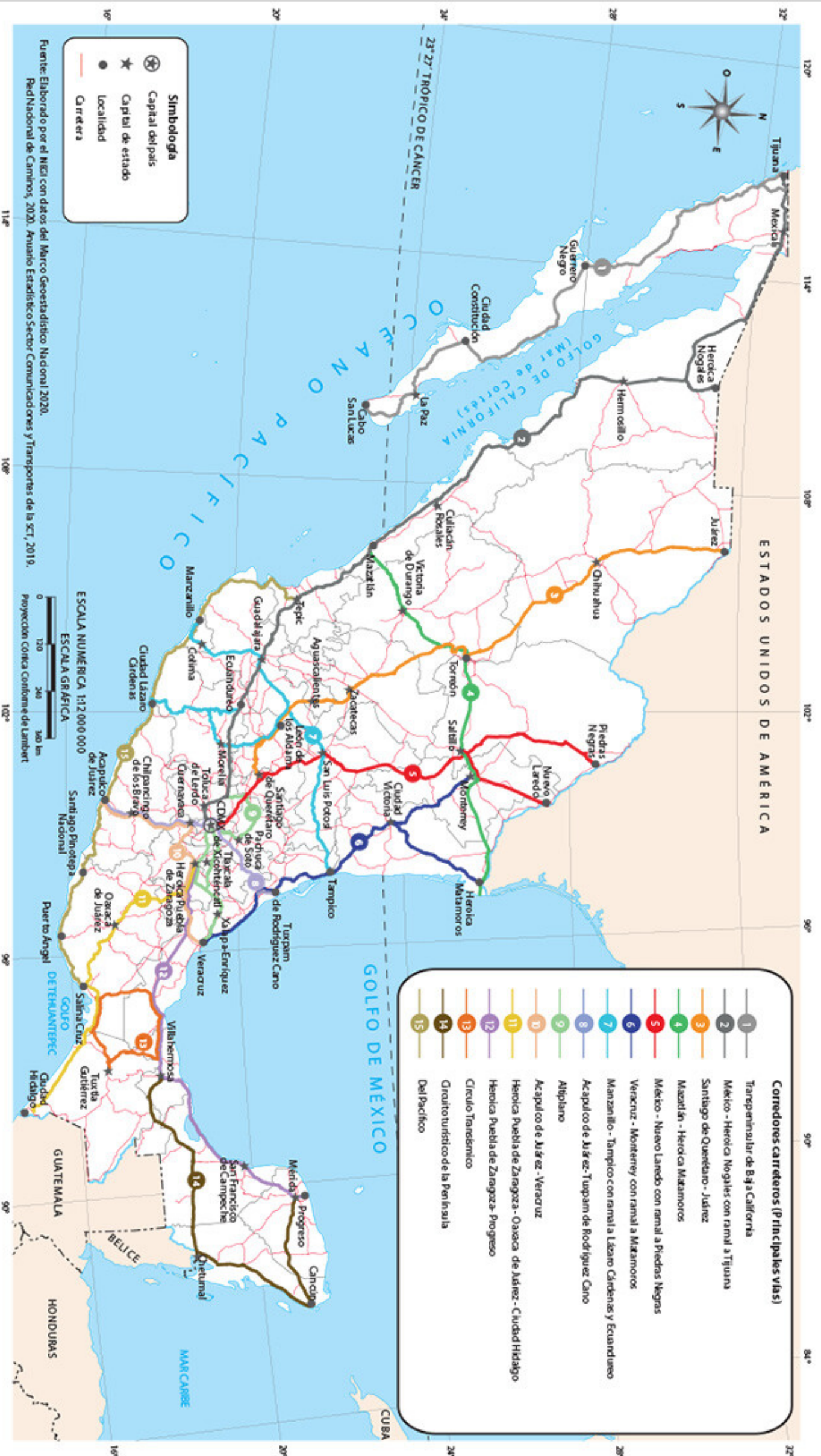
Son 17 las entidades que tienen el nivel de participación Muy alto y Alto en la actividad comercial, en tanto los estados que presentan menor participación son Baja California Sur, Zatecas, Nayarit, Colima, Tlaxcala y Campeche.

Identifica los estados con nivel de participación Muy alto y Alto. ¿Qué nivel tienen tu entidad y los estados vecinos en actividad comercial?, ¿en qué región del país (norte, centro, sur) hay menor nivel de participación en la actividad comercial?



Investiga sobre los productos que se comercian en tu localidad y elabora una tabla con los 10 que más se compran y se venden. ¿Qué productos o servicios no hay en tu localidad?, ¿qué hace la gente o a dónde viaja para conseguirlos?

Corredores carreteros



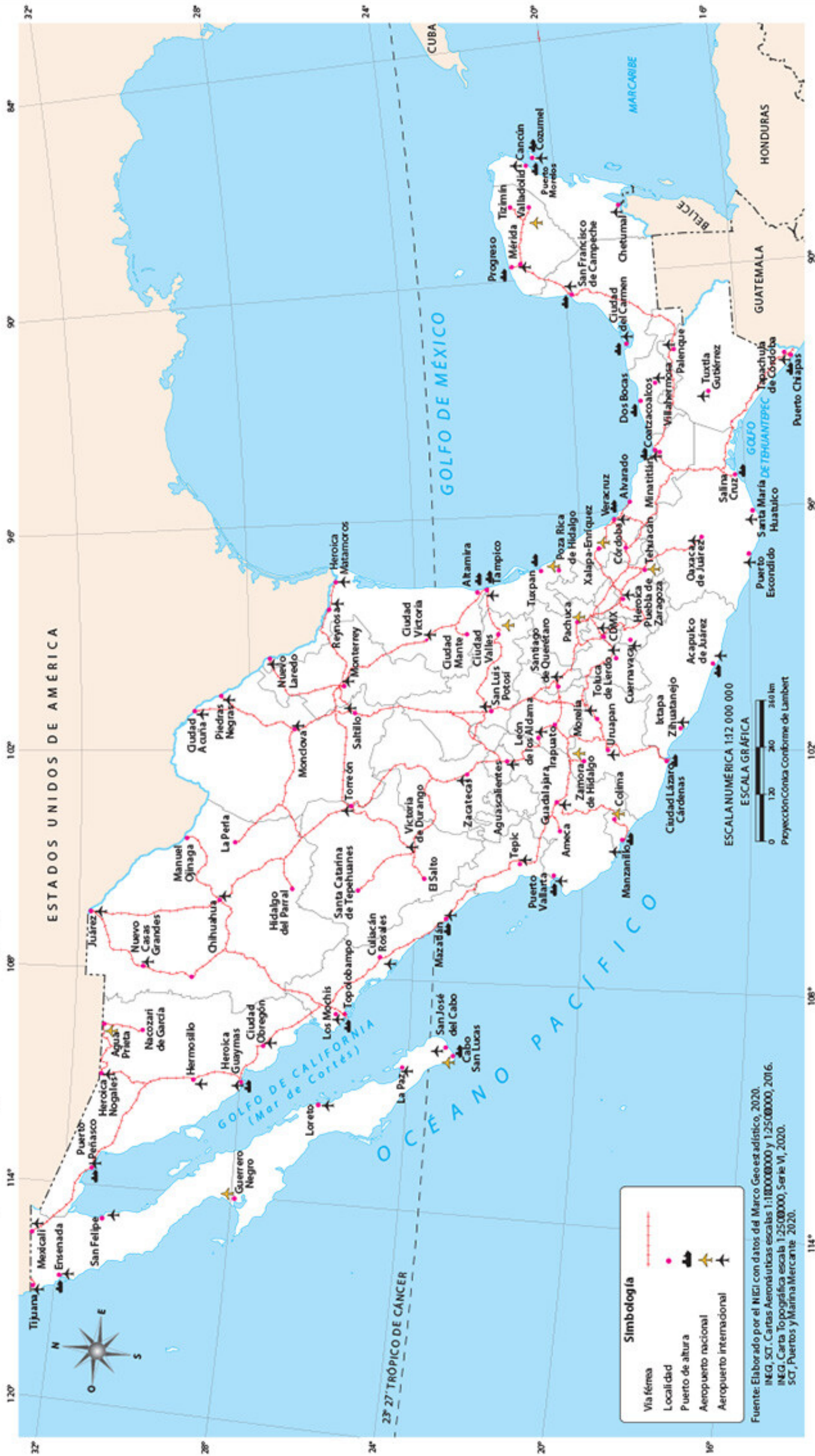
Los corredores carreteros son rutas de acceso y comunicación permanente entre las principales ciudades, fronteras, centros turísticos y puertos, marítimos. Sus más de 19000 kilómetros interconectan, de forma rápida, segura y económica, los principales centros de producción con los mercados de consumo, así

como con los centros urbanos y turísticos de todo el país. En el territorio nacional existen 15 corredores que facilitan el traslado de personas, mercancías y productos; además, agilizan el tránsito y ahorran tiempo de recorrido. Observa en el mapa las rutas de los corredores carreteros. Identifica los de mayor lon-

gitud y los más cortos, y registra cuáles atraerían tu entidad. Revisa el mapa "Turismo de naturaleza", de la página 68, y traza la ruta que deberías seguir para llegar del lugar donde vives a un sitio que te gustaría visitar.

Elabora una tabla comparativa con los cinco corredores de mayor longitud (puedes usar la escala del mapa para calcularla). Anota el nombre de los estados por los que cruza cada uno y los centros turísticos de naturaleza que se ubican a su paso.

Vías férreas, aeropuertos y puertos de altura



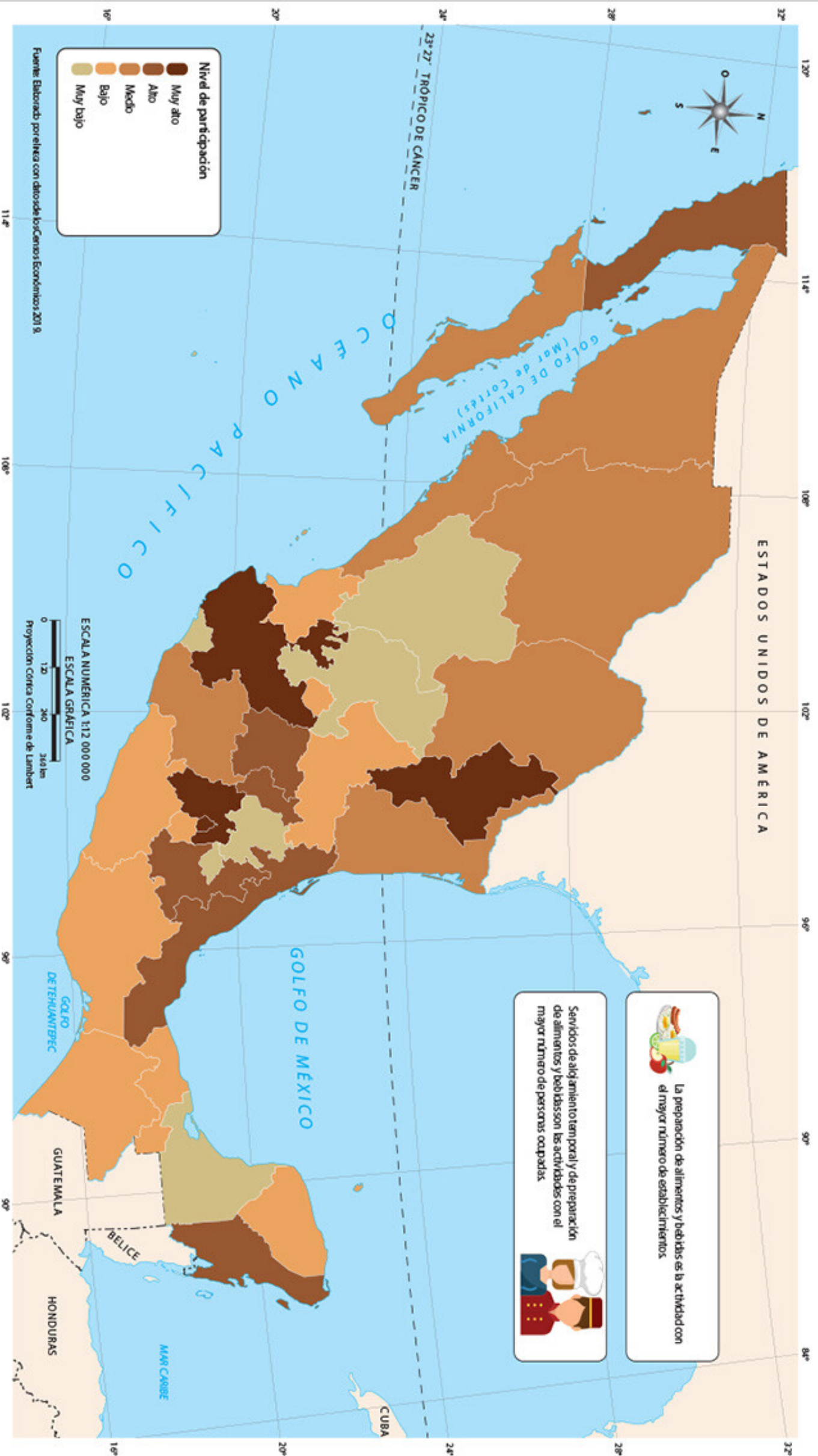
Las vías férreas son un elemento para el desplazamiento de los trenes, tanto de carga como de pasajeros; los aeropuertos son los lugares donde se realiza el despegue y aterrizaje de aeronaves, y los puertos de altura son instalaciones costeras que reciben embarcaciones de gran calado que navegan entre puertos nacionales e internacionales.

La red ferroviaria de México se extiende por todo el territorio nacional; es más densa en el centro del país y más escasa en las penínsulas y en el sur. Los aeropuertos internacionales están ubicados en las principales ciudades y los puertos de altura se localizan a lo largo de ambas costas del país.

Identifica los siguientes datos de tu estado: ¿qué ciudades cuentan con un aeropuerto?, ¿cuáles son los puertos de altura? En caso de que tu estado no tenga costa, señala los dos puertos más cercanos. Si cuenta con vías férreas, ¿qué localidad o localidades conectan?

Investiga sobre los productos que tu entidad vende al extranjero. Elabora una lista que contenga los productos, el destino al que se envían y el medio de transporte que se utiliza. Reflexiona sobre la importancia que tienen las vías férreas, los puertos y los aeropuertos para el comercio.

Servicios



Los servicios son actividades económicas encaminadas a proporcionar bienestar o satisfacer necesidades de la población, tales como salud, educación, seguridad y transporte. Los servicios son públicos, cuando los prestan instituciones de gobierno, o privados, si los proporcionan personas o empresas.

La mayor participación en el área de servicios la tienen cuatro entidades: la Ciudad de México, Estado de México, Jalisco y Nuevo León; en segundo término, están Baja California, Guanajuato, Querétaro, Puebla, Veracruz y Quintana Roo. En contraste, hay seis estados que presentan una participación muy baja en el área de servicios: Du-

rango, Zacatecas, Hidalgo, Tlaxcala, Colima y Campeche.

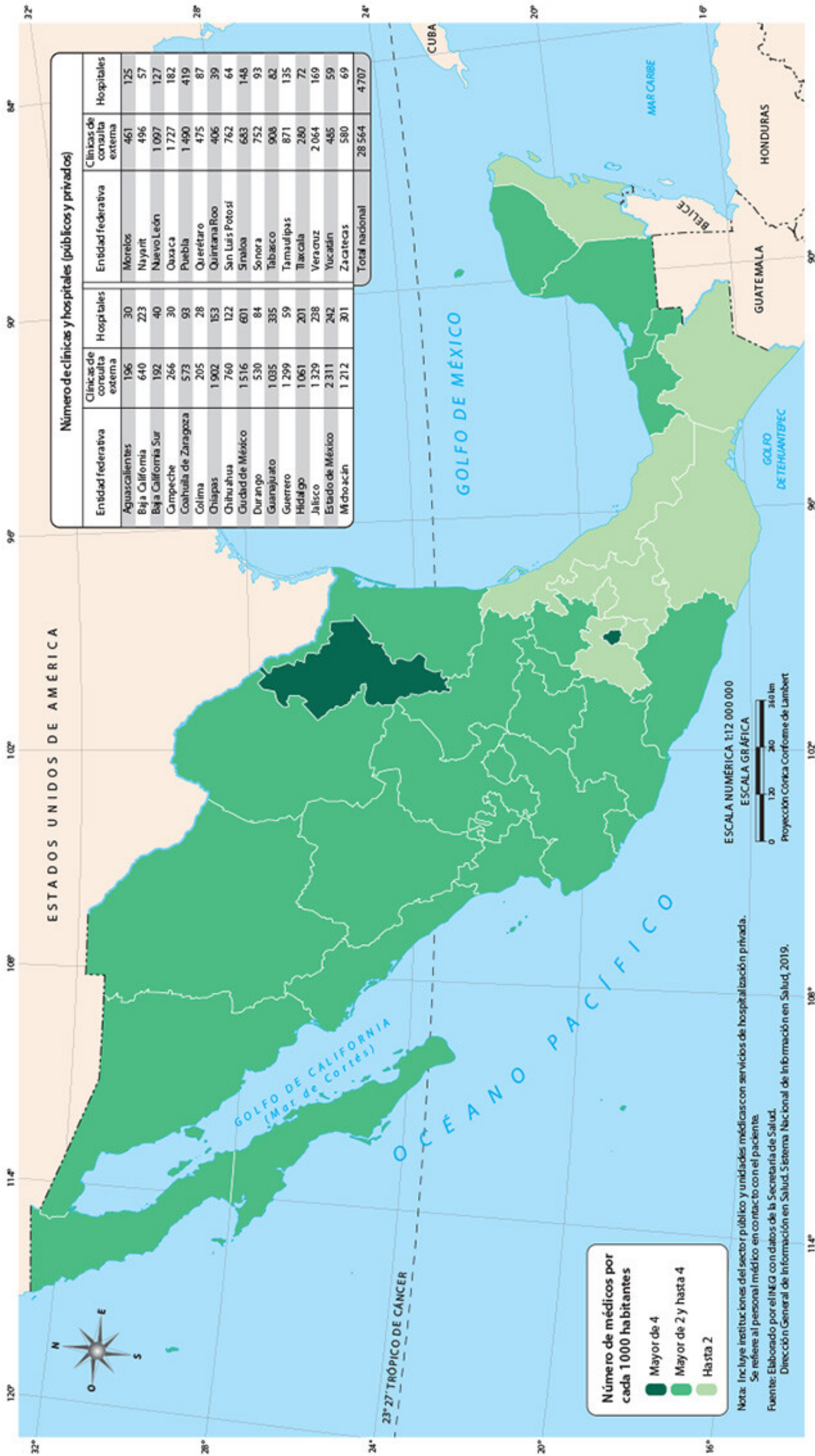
Observa la información que acompaña al mapa y responde: ¿cuál es la actividad que tiene el mayor número de establecimientos?, ¿qué actividades emplea más personas? Y ¿qué tipo de empleados se requieren para estas actividades?

Realiza una investigación para conocer los principales servicios que se prestan en tu localidad. Organiza la información en una tabla dividida en servicios públicos y privados. ¿Cuál es la actividad de servicios más común en tu localidad?, ¿cuál es el servicio que consideras más relevante?, ¿por qué?

La preparación de alimentos y bebidas es la actividad con el mayor número de establecimientos.

Servicios de alojamiento temporal y de preparación de alimentos y bebidas son las actividades con el mayor número de personas ocupadas.

Servicios de salud



Los servicios de salud son proporcionados por las instituciones y organizaciones cuyo objetivo es preservar y mejorar la salud de las personas. Para cumplir con lo anterior, los servicios de salud necesitan personal especializado, recursos económicos y suministro de medicamentos.

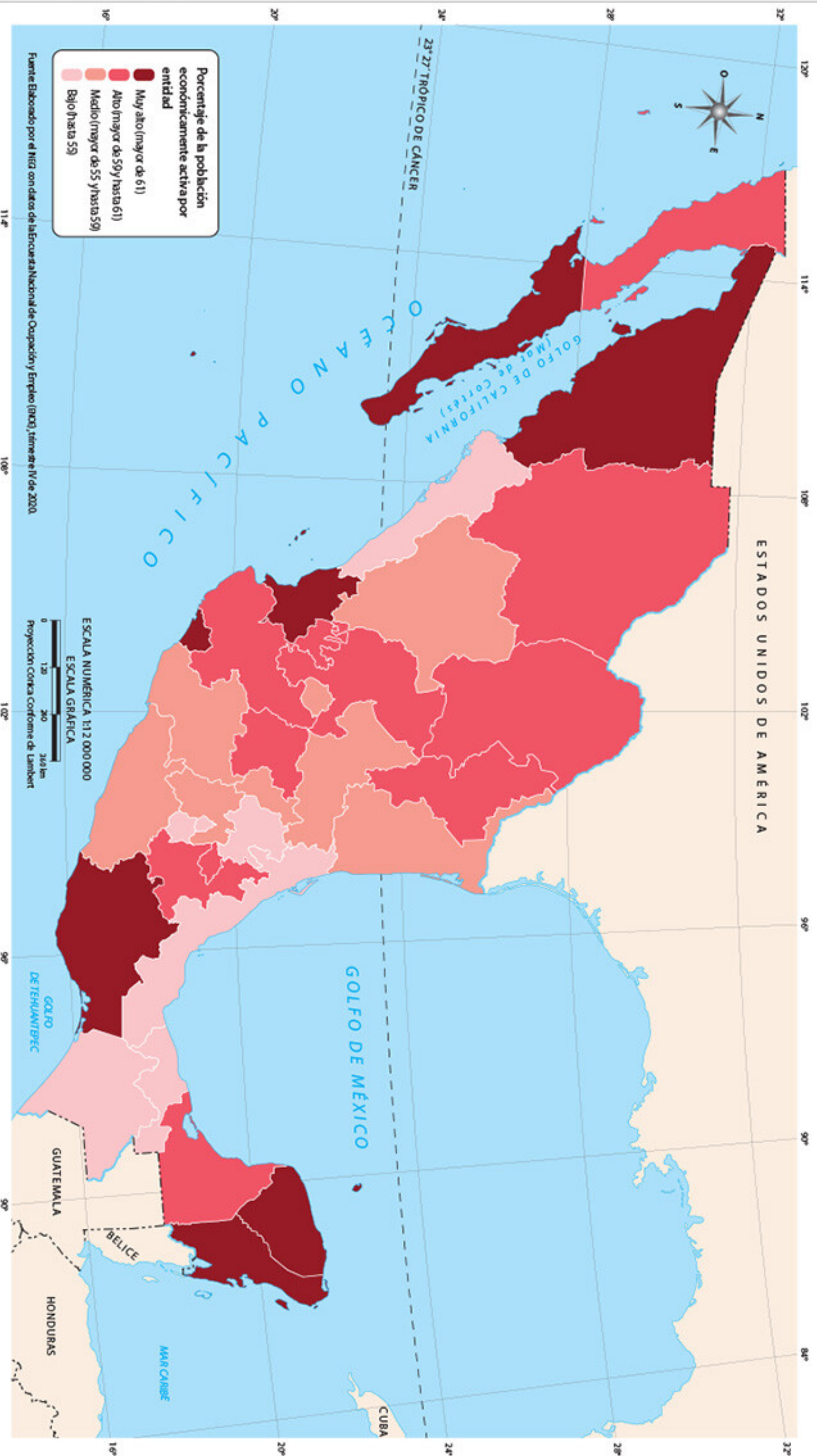
El mapa indica que las entidades con menor número de médicos por cada 1 000 habitantes son Estado de México, Morelos, Tlaxcala, Puebla, Veracruz, Oaxaca, Chiapas y Quintana Roo. La tabla que acompaña al mapa contiene información de la cantidad de clínicas de consulta externa y hospitales que hay por entidad federativa.

La Ciudad de México destaca con el mayor número. Organiza la información de la tabla. Clasifica las entidades en grupos: uno con el mayor número de hospitales, otro con el mayor número de clínicas de consulta externa, y el tercero y el cuarto con el menor número de hospitales y clínicas, respectivamente. ¿Qué observas?



Investiga la función de una clínica de consulta externa y la de un hospital; compara la información para distinguir la diferencia. Después indaga cuántas clínicas y hospitales hay en tu municipio. Escribe tus resultados y valora la importancia de los servicios de salud.

Población económicamente activa



La población económicamente activa (PEA) está conformada por personas en edad de trabajar (mayores de 15 años) y se divide en dos categorías: a) la población ocupada, que es la gente con trabajo, y aquella que está ausente de sus empleos por maternidad, enfermedad u otro motivo; y b) los desempleados, es decir,

personas que están sin trabajo, pero buscan empleo.

El mapa muestra que, en general, los estados del norte y de las penínsulas de Baja California y Yucatán tienen la mayor proporción de PEA. Mientras que la Ciudad de México, Morelos, Hidalgo, Veracruz, Tabasco, Chiapas y Sinaloa son las entidades con

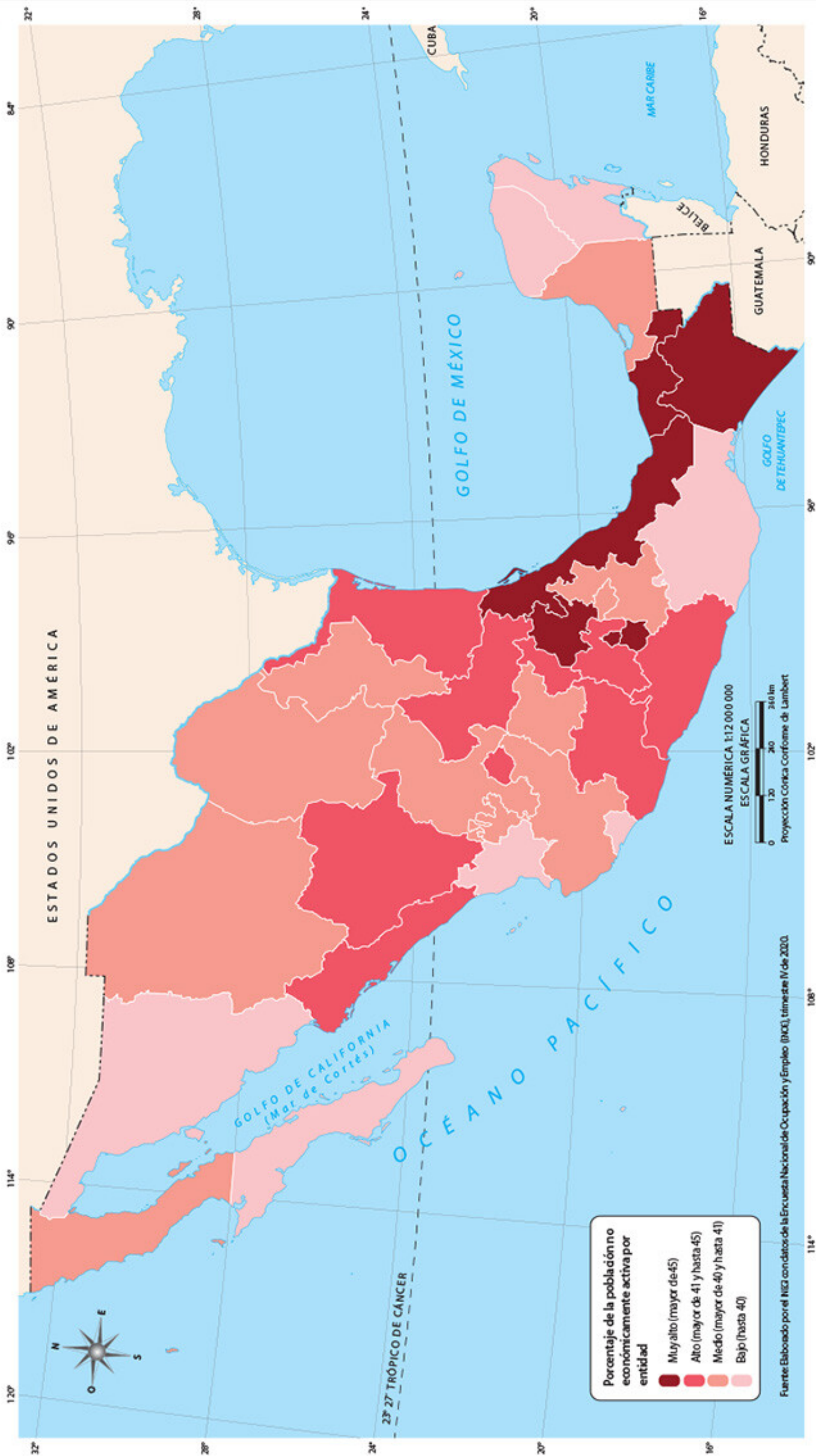
menor porcentaje de población económicamente activa.

Identifica el nivel de PEA que hay en tu estado y compáralo con el de los estados vecinos. ¿Se parecen o son distintos? ¿por qué crees que el nivel de la PEA es parecido o distinto en algunos estados?



Pregunta a tus familiares cuáles son las principales fuentes de empleo del lugar donde vives y haz una lista con ellas. Elige un trabajo que te gustaría realizar cuando seas grande. Explica por qué elegiste esa opción.

Población no económicamente activa



Q La población no económicamente activa (PNEA) está formada por aquellas personas de 15 años y más edad que realizan actividades no económicas y no buscan trabajo. Se trata del sector de la población que se dedica a estudiar, es jubilado o hace actividades no remuneradas.

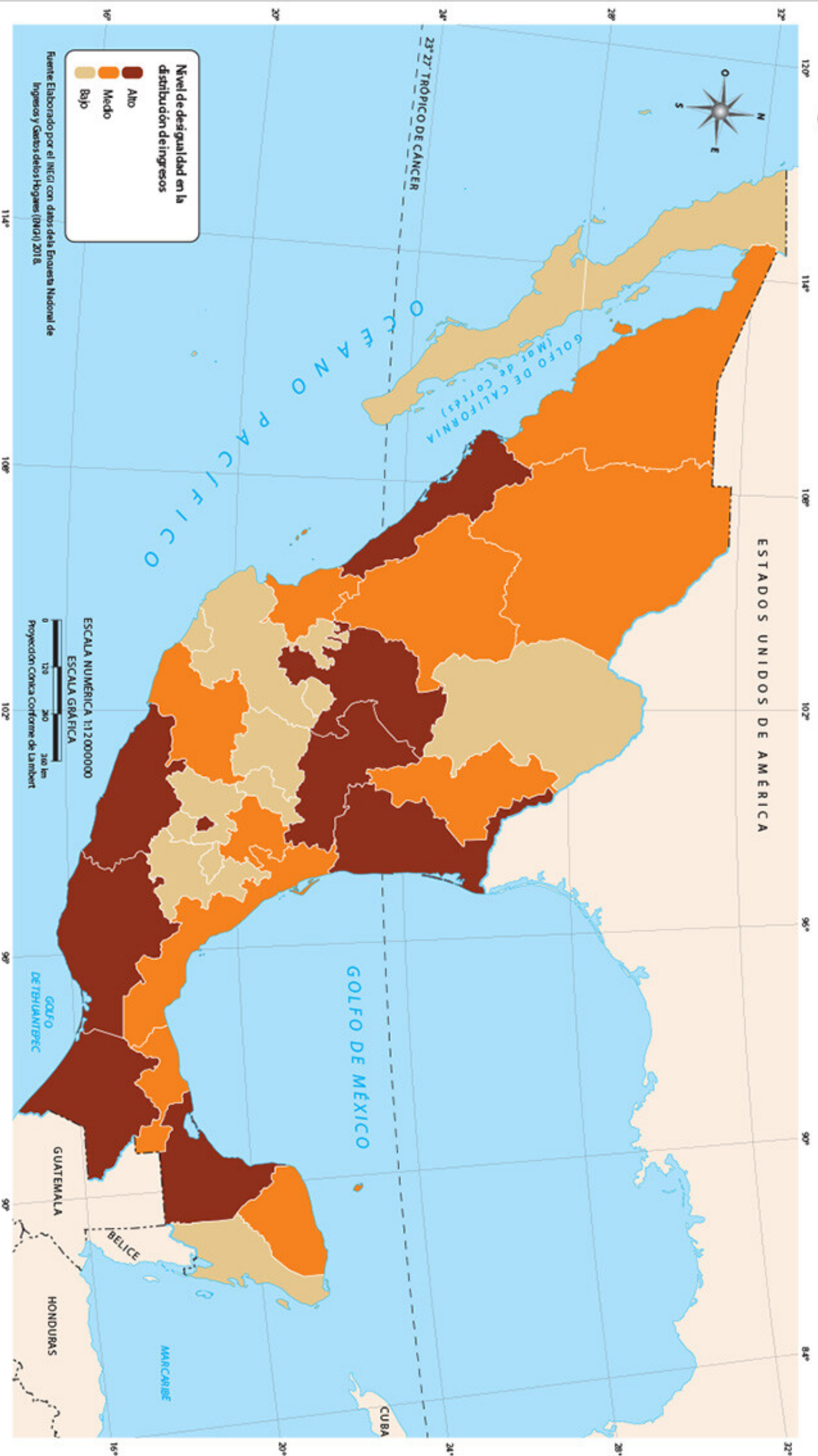
Los estados con mayor porcentaje de PNEA son la Ciudad de México, Morelos, Hidalgo, Veracruz, Tabasco y Chiapas. En contraste, los estados con porcentaje Bajo son Baja California Sur, Sonora, Nayarit, Colima, Guerrero, Yucatán y Quintana Roo. Identifica los estados con nivel de PNEA Muy alto o Alto que no se encuentran en el

sur del país. Ubica los estados con nivel Bajo de PNEA que están en el sureste del territorio nacional. ¿Cómo es el nivel de población no económicamente activa de tu estado?



Elabora una lista de 10 integrantes de tu familia de 15 años y más edad. Escribe al lado de su nombre a qué se dedican y si pertenecen a la población económicamente activa (PEA) o a la población no económicamente activa (PNEA).

Desigualdad económica



La **desigualdad económica** es la distribución inequitativa del ingreso, que es el dinero proveniente de un empleo o un negocio. Así, mientras pocas personas perciben grandes cantidades de dinero (tienen altos ingresos), la gran mayoría de la población gana poco (tienen bajos ingresos).


En México, nueve entidades se ubican con un alto nivel de desigualdad en la distribución del ingreso. En cambio, hay 13 con desigualdad baja, es decir, la distribución del ingreso es más equitativa entre la población.

Distingue el nivel de desigualdad en la distribución del ingreso en tu entidad. Identifica y anota en tu cuaderno qué otros estados tienen el mismo nivel. Divide en tres zonas el país: norte, centro y sur y responde las siguientes preguntas: ¿en qué zona hay menor desigualdad?, ¿qué harías para mejorar la distribución del ingreso en el país?

En casa, con tu familia, realiza el siguiente ejercicio. Simula dos situaciones en las que repartas 1 000 pesos entre los integrantes: una en la que se genere desigualdad en el reparto del ingreso y otra en la que se resuelva la mala distribución del ingreso. ¿Cómo lo hiciste?, ¿fue fácil? Con ayuda de un adulto comenta los problemas que puede provocar la desigualdad económica.

Destinos turísticos



 Un destino turístico es un lugar que ofrece atractivos culturales, históricos, naturales y de servicios a visitantes nacionales e internacionales. El turismo es muy importante para comunidades, entidades federativas e incluso para el país en su conjunto, pues genera importantes recursos económicos, promueve el empleo y el desa-

Desarrollo de infraestructura (carreteras, caminos, hoteles, puentes, museos, aeropuertos).

México cuenta con una gran cantidad de destinos turísticos a lo largo y ancho del territorio. Destacan estados como Baja California Sur y Quintana Roo por sus atractivos turísticos de playa; entidades como Yucatán y Oaxaca por sus zonas arqueológicas y su variada

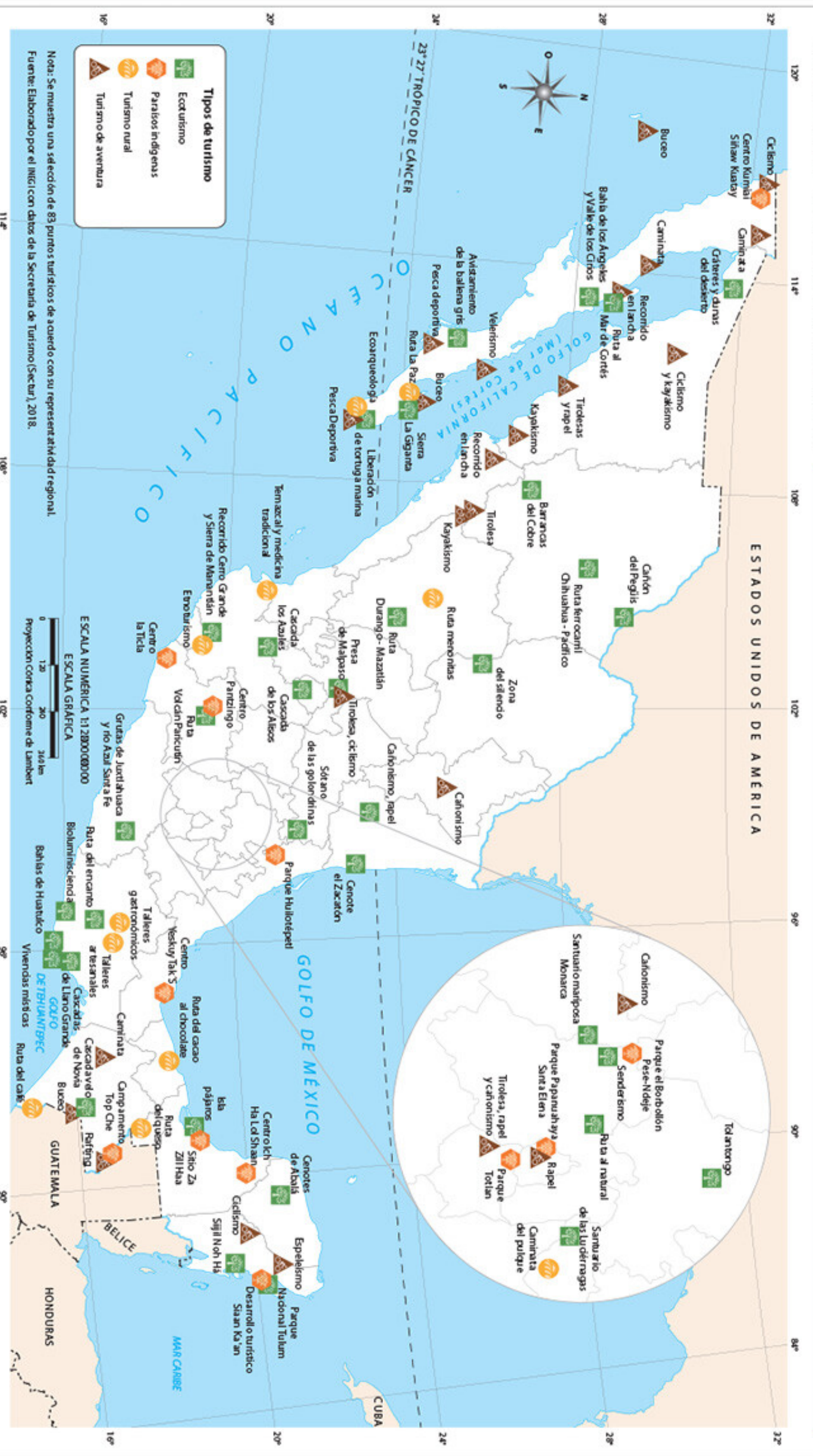
gastronomía, o Guanajuato, Puebla y Zacatecas por sus pueblos y ciudades coloniales.

De acuerdo con la Organización Mundial del Turismo, México ocupa el sexto lugar en turismo a nivel mundial. Observa el mapa e identifica cuántos destinos hay en tu estado. ¿Cuáles conoces o te gustaría conocer y por qué? ¿Qué otro destino agregarías al mapa?



Con apoyo de tu maestro o de un adulto, elabora un periódico mural en el que representes los atractivos de diferentes destinos turísticos de nuestro país. Investiga sobre los destinos elegidos, elabora textos explicativos breves y complementa con dibujos, fotografías o recortes.

Turismo de naturaleza



El turismo de naturaleza es una actividad económica que promueve el aprovechamiento sustentable de los recursos naturales. Es fuente de empleos y propicia el desarrollo de las comunidades y permite conocer el patrimonio del país.

Los lugares para llevar a cabo el ecoturismo y el turismo de aventura se encuentran

dispersos a lo largo y ancho del territorio nacional, mientras que los sitios con paraísos indígenas y de turismo rural se localizan, sobre todo, en el centro y sur.

Observa el mapa e identifica los tipos de turismo de naturaleza presentes en tu estado. ¿Cuál es el más común?, ¿a qué crees que se debe esto? Reflexiona sobre las razones

por las que el turismo rural y de paraísos indígenas se localiza, primordialmente, en los estados del centro y del sur de México.

Elige un tipo de turismo de naturaleza e investiga sobre las actividades que involucra y los impactos económicos, ambientales, sociales y culturales que produce. Con la información, prepara un cartel sobre los aspectos positivos y negativos de dicha actividad turística.

Principales tratados comerciales



Tratados de libre comercio

Colombia	1995	
Chile	1999	
Unión Europea (TLQJEM)	2000	
Israel	2000	
Asociación Europea de Libre Comercio (AELC)	2001	
Uruguay	2004	
Japón	2006	
Centroamérica	2013	
Panamá	2015	
Alianza del Pacífico	2016	
Tratado Integral y Progresivo de Asociación Transpacífico (CPTPP)	2018	
América del Norte (T-MEC)	2020	

Nota: El año corresponde a la entrada en vigor de cada uno de los tratados de libre comercio.
Fuente: Elaborado por el INEGI con datos de la Secretaría de Economía (SE), 2018.



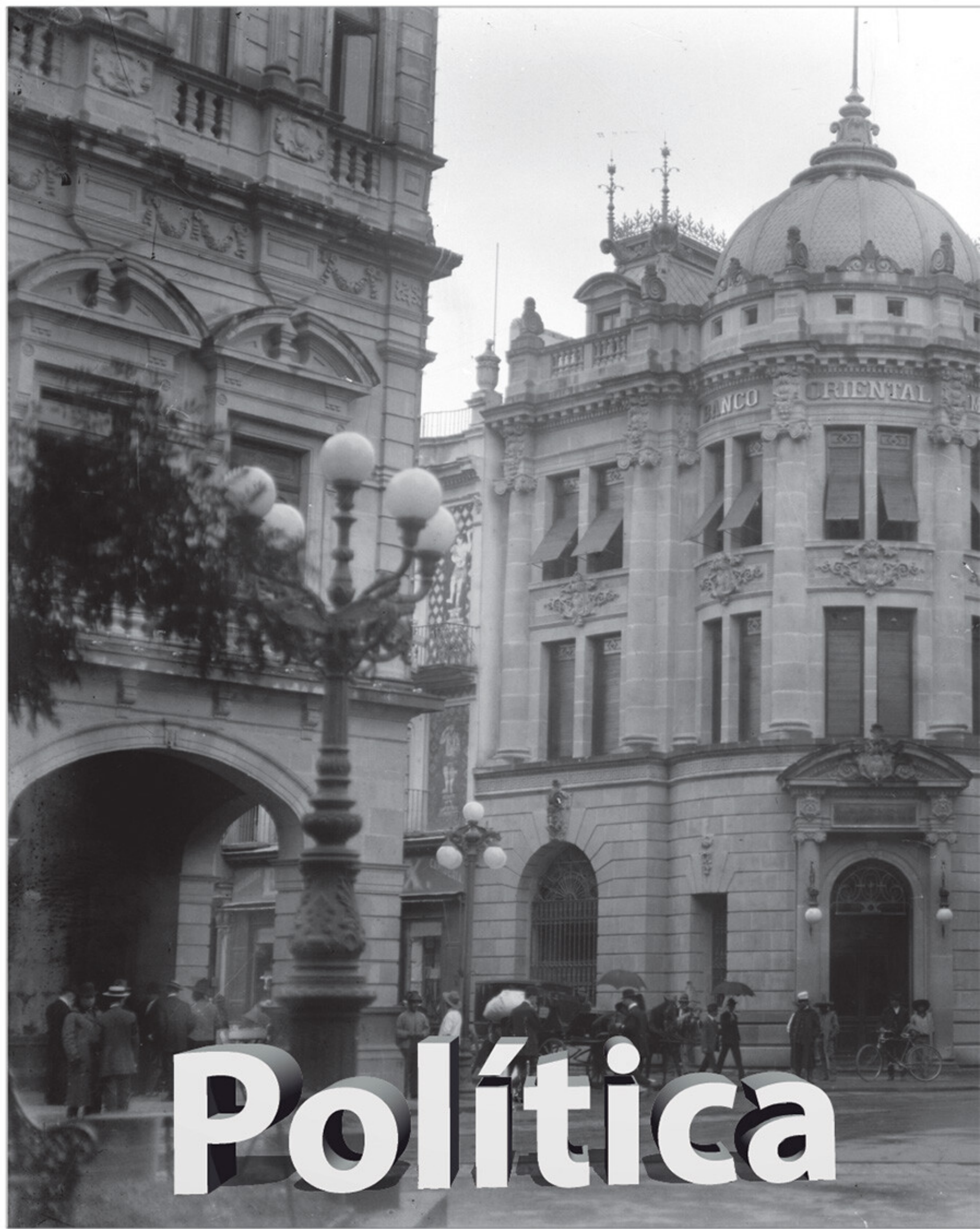
Los **tratados de libre comercio** son acuerdos legales entre dos o más naciones que se comprometen, de forma obligada, a cumplir reglas y condiciones en temas comerciales. La finalidad de estos pactos es facilitar las relaciones

comerciales entre los países involucrados, promover la captación de inversión privada y crear convenios estables que permitan el libre flujo de mercancías y servicios. México tiene tratados comerciales con países vecinos, como Estados Unidos y Guate-

mala, y con naciones distantes, como Japón. Elabora una tabla con los nombres de los bloques comerciales en los que México participa y los países que los integran. ¿Cuántos tratados de libre comercio tiene México?

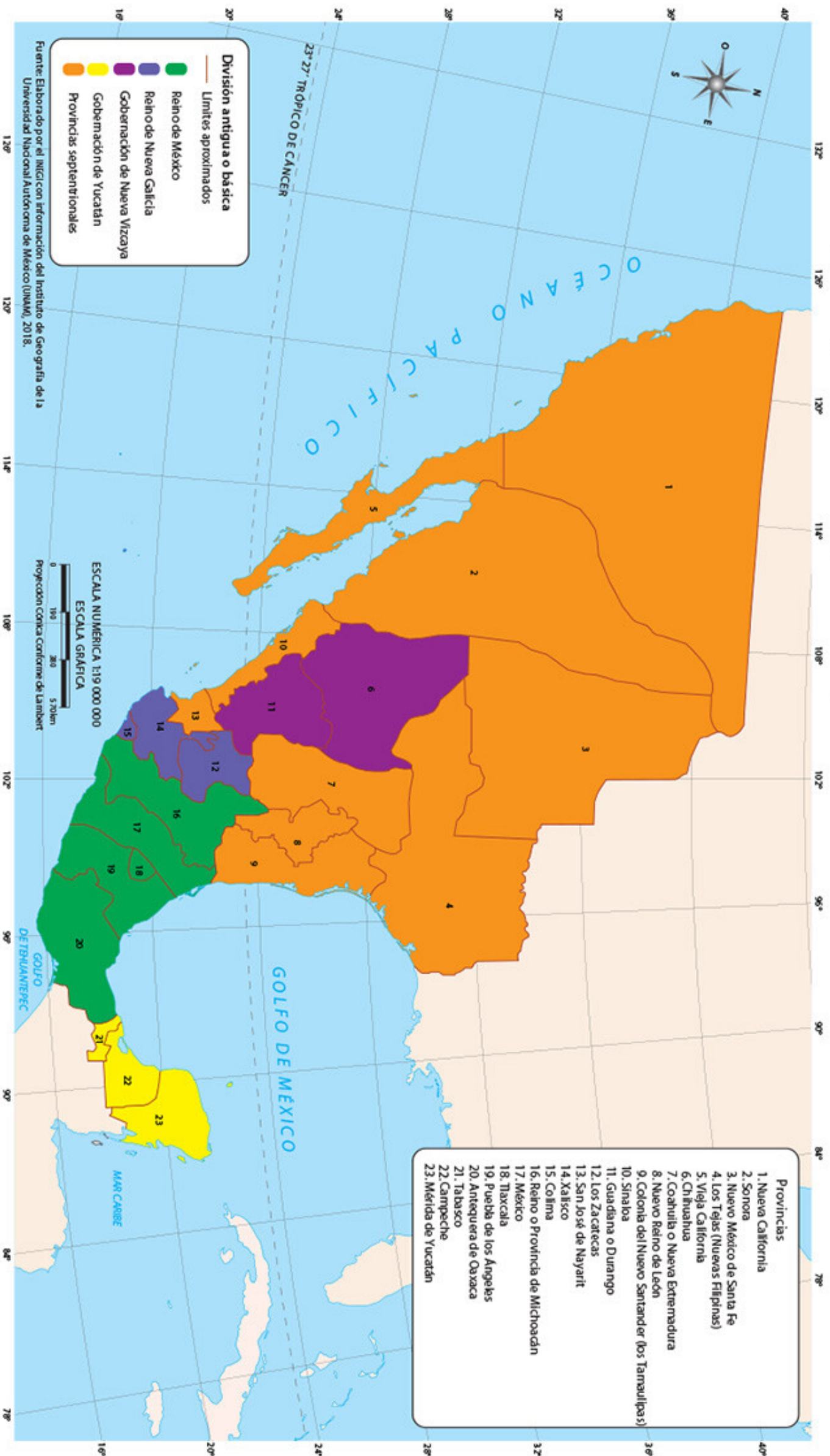


México, Estados Unidos y Canadá cuentan con un tratado de libre comercio. Este permite que las tres naciones cuenten con mayor variedad de productos para el consumo. Investiga qué productos provenientes de Estados Unidos y Canadá ingresan a nuestro país debido a este tratado.



Política

División antigua (provincias y reinos), 1550-1776



La *división antigua* refiere a que los españoles establecieron reinos y gobernaciones en el México antiguo. A los territorios dominados por los mexicas los llamaron Reino de México, a los controlados por los purépechas los nombraron Reino de Nueva Galicia, mientras que el área maya recibió el nombre de Gobernación de Yucatán.

En el norte, que fue colonizado para la explotación de minerales, establecieron el Reino de Nueva Vizcaya y las llamadas provincias septentrionales.

La Nueva España se dividió en 23 provincias: cinco formaban el Reino de México; tres el Reino de la Nueva Galicia; dos la Gobernación de Nueva Vizcaya; tres la Gober-


nación de Yucatán; mientras que 12 fueron provincias septentrionales (del norte).

Elabora una tabla de cuatro columnas y en cada una escribe: 1) las provincias del Reino de México, 2) las provincias de la Gobernación de Yucatán, y 4) las provincias septentrionales.

¿Cuáles son las provincias que se ubicaron en lo que fue Mesoamérica? ¿Qué provincias formaron parte de tu entidad? Para responder a la pregunta, compara este mapa con uno actual de la República Mexicana.

División territorial, 1843-1846



 Durante el siglo XIX, México estuvo en constante conflicto: enfrentó problemas con Francia y Estados Unidos, y de manera interna mantuvo una pugna entre gobiernos federalistas y centralistas. En este mismo periodo, el territorio de Texas estaba por anexarse a Estados Unidos, situación que no era conveniente para México.

En 1843, el país se dividió en 24 departamentos, con la finalidad de tener un mayor control sobre el territorio desde el centro del país. Esta organización se mantuvo hasta 1846. El Distrito Federal se incorporó al departamento de México, y la Alta California y la Baja California quedaron unidas en un solo departamento.

Compara este mapa con el de "División antigua (provincias y reinos), 1550-1776", de la página 72, y con el "Mapa de los Estados Unidos de Méjico, 1828", de la página 74. En tu cuaderno escribe cuáles han sido los cambios en la división del territorio nacional, así como las similitudes que encuentras entre los mapas.



Como has visto, en nuestro país se modificó la división política del territorio en varias ocasiones, debido a conflictos o diferencias políticas internas. Observa el mapa "División territorial" de la página 76 y compara: ¿qué estados de la República no existían entre 1843-1846? Señala los territorios que ya no sean parte de México.

Mapa de los Estados Unidos de Méjico, 1828



La invasión norte-americana, 1846-1848



O La extensión de la porción continental de México es de unos 1.9 millones de km², pero no siempre fue así, antes de 1848 el país tenía el doble de territorio. Estos mapas permiten apreciar la amplitud del territorio nacional antes de la pérdida de mediados del siglo XIX y son una muestra de cómo se modifica el espacio con el tiempo.

El mapa de 1828 representa el territorio nacional antes de la guerra con Estados Unidos, mientras que el mapa de 1846-1848 expone las rutas terrestres y marítimas que siguió el ejército invasor, así como los territorios perdidos al término del conflicto. Observa y compara ambos mapas. ¿En qué se parecen?, ¿cuáles son sus diferencias?

cribe una conclusión. Ahora, observa el mapa de 1846-1848 y señala dos puertos en los que desembarcó el ejército estadounidense. Identifica el nombre de los territorios perdidos. Busca la entidad donde vives en estos mapas. Si no aparece, investiga con tu maestro o con un adulto por qué.



Elabora un álbum de mapas históricos que abarque desde la época prehispánica hasta la actualidad. Puedes consultar los mapas de las páginas 72, 73, 74, 75, 76 y 83.

División territorial



La división territorial es la forma en que un territorio es organizado para hacer más fácil su gobierno y administración. México está dividido en "estados de la federación" o "entidades federativas", los cuales a su vez se dividen en espacios más pequeños denominados "municipios". En nuestro país existen 2 469 municipios.

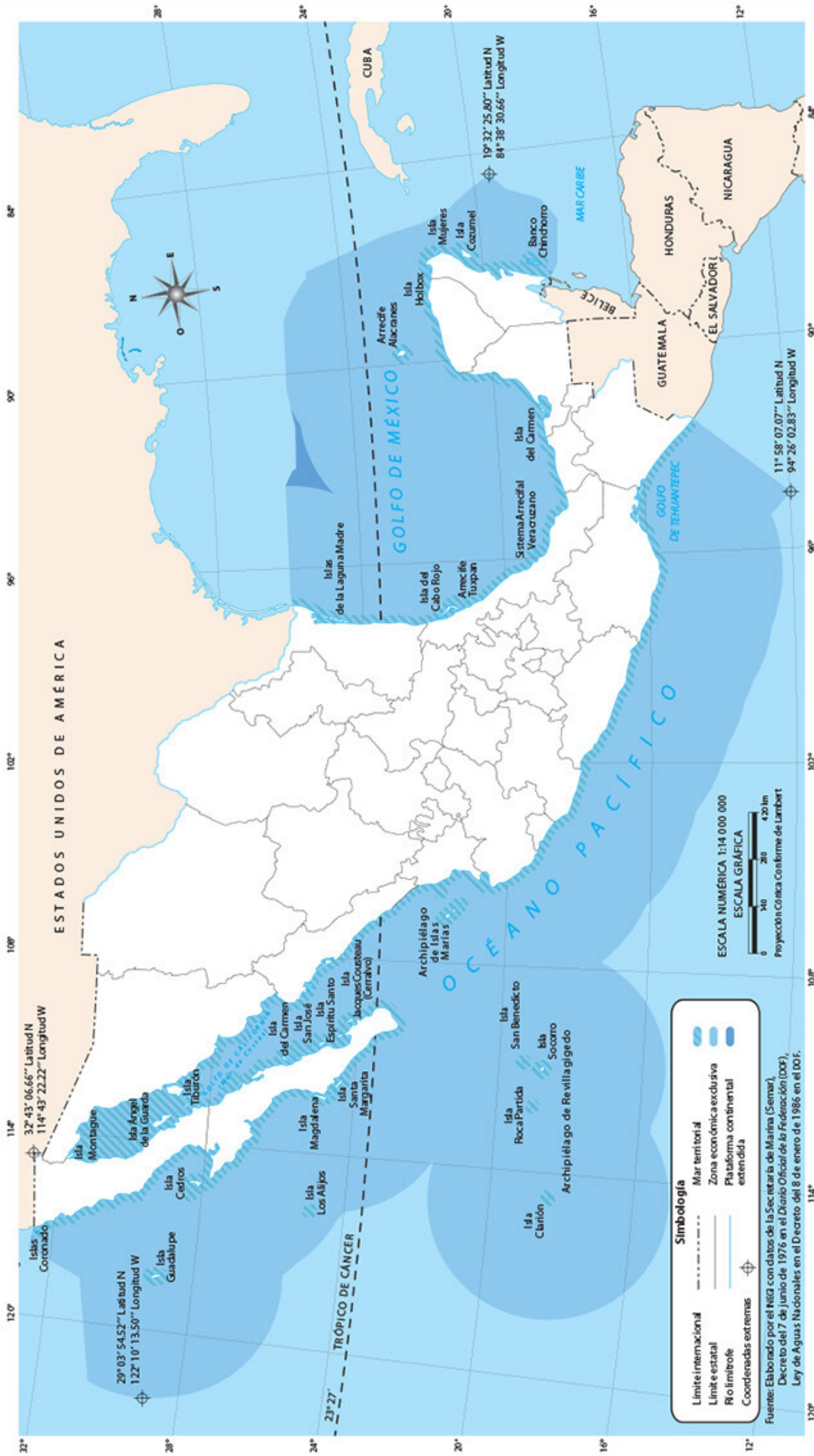
En este mapa puedes ver que el territorio mexicano está dividido en 32 entidades. Cada estado también cuenta con una ciudad capital donde se concentra el poder político (ejecutivo, legislativo y judicial).

Observa el mapa y localiza el estado en el que vives. Anota en tu cuaderno el nombre de su ciudad capital y el de las entidades con las

que colinda. ¿Cuál es el océano, golfo o mar más cercano?, ¿cuál es el país más próximo a tu entidad? Escribe tres ventajas que tiene tu estado por su ubicación.

Entra a la página electrónica del INEGI, busca el subtema "Cuéntame" e investiga cuál es la entidad federativa que tiene menos municipios y cuál es la que tiene más. ¿Cuántos municipios hay en tu entidad? ¿Cuál es la ventaja o desventaja de que tenga ese número?

Límites territoriales, islas y mares



Los límites territoriales se establecen por medio de acuerdos internacionales entre países vecinos con la finalidad de dar certeza jurídica y ejercer derechos y obligaciones sobre el territorio, que incluye mares y océanos.

El territorio de México está constituido por superficie continental (entidades), superficie

insular (islas) y superficie marítima (mar territorial, zona económica exclusiva y plataforma continental extendida). En estas dos últimas, México tiene derechos para explorarlas con fines de investigación, y explotárlas para extraer recursos naturales alimenticios y mineros.

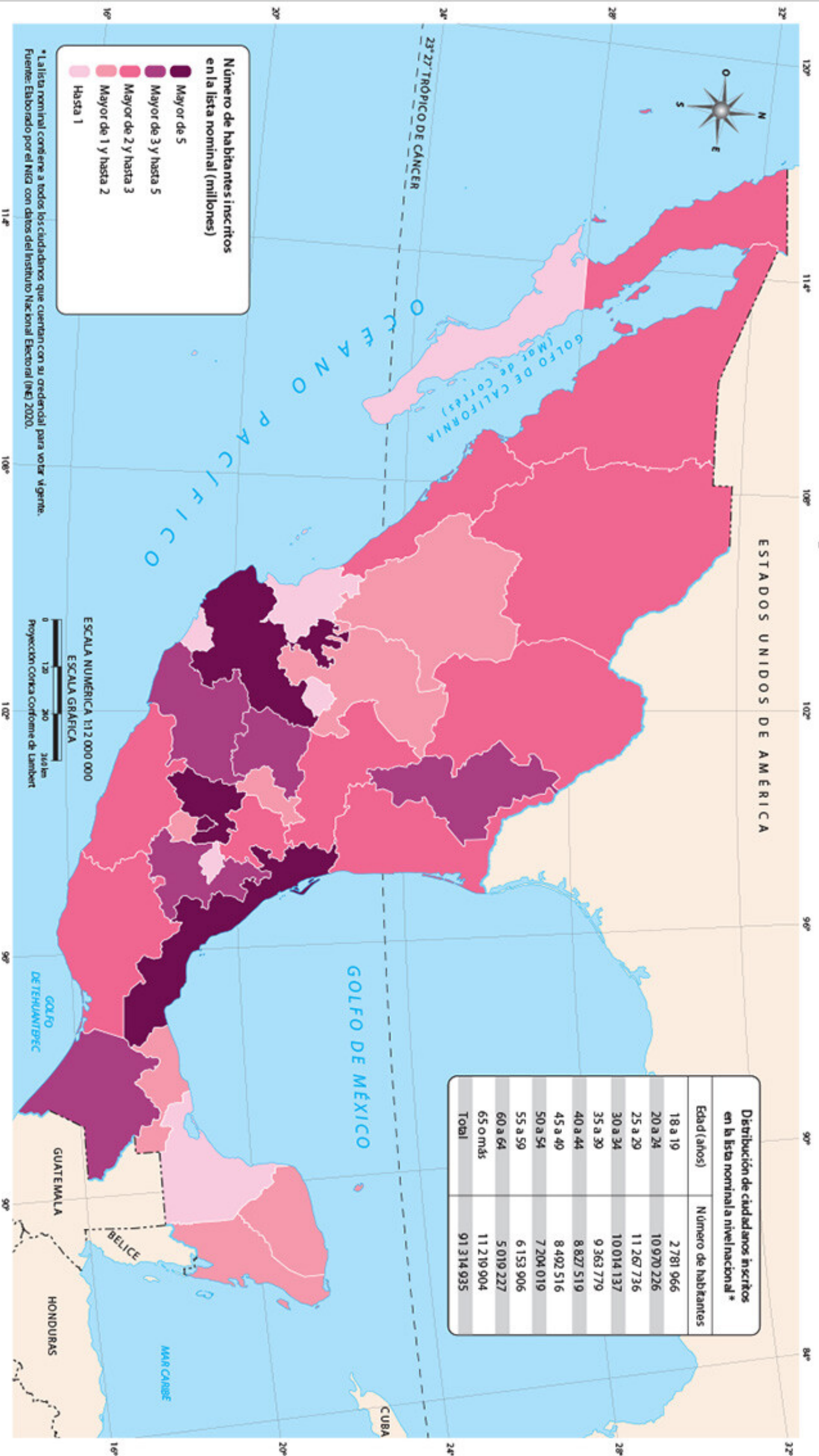
Selecciona dos entidades, una con islas y otra sólo con costa, ubícalas en los mapas

estatales del capítulo 6, "Entidades federativas", y revisa las actividades marítimas (económicas o turísticas) que en ellas se realizan. ¿Por qué es importante ejercer derechos y obligaciones sobre la superficie marítima?



Compara los límites territoriales actuales de México con los que se muestran en el mapa "División territorial, 1843-1846", de la página 73. ¿Cómo se han modificado? Investiga en diversas fuentes si estos cambios se dieron mediante acuerdos pacíficos, como actualmente se aspira, o de otra manera. Escribe una reflexión sobre ello.

Ciudadanos con credencial para votar



La credencial para votar es una identificación oficial que avala la ciudadanía mexicana y se emplea para ejercer el derecho al voto en México y en el extranjero, así como para realizar diversos trámites oficiales. Es expedida por el Instituto Nacional Electoral (INE) a las personas de 18 años y más.

Las entidades con mayor número de personas inscritas en la lista nominal del INE son Estado de México, Ciudad de México, Jalisco y Veracruz. En contraste, Aguascalientes, Tlaxcala, Nayarit, Campeche, Baja California Sur y Colima son los estados con el menor número de ciudadanos con credencial para votar.

Reflexiona y señala: ¿cuál es el número de habitantes inscritos en tu entidad? ¿cuál es el rango de edad con el menor número de ciudadanos con credencial? Si fueras candidato de un partido político y tuvieras que elegir a dos grupos de población para obtener el mayor número de votos, ¿a quiénes dirigirías el mensaje de tu campaña política? ¿por qué?

Pide a los adultos de tu casa que te muestren sus credenciales para votar e identifica el tipo de información que contienen y haz una lista de lo que encontraste. ¿Todas tienen la misma información? ¿por qué?

Censo de Población y Vivienda

¿QUÉ ES UN CENSO DE POBLACIÓN?

Es el recuento de todas las personas y viviendas de un país en un momento determinado. El censo permite saber cuántos somos, cómo somos, dónde vivimos y cómo vivimos.

¿PARA QUÉ SIRVE EL CENSO?

Para obtener información sobre la población de un país, los grupos de edad que la componen, sus características sociales, culturales y económicas, y su distribución en el territorio. También permite conocer datos sobre el número de viviendas y sus principales características.

La información recabada con el censo y los resultados se usan para planear, organizar y desarrollar acciones de gobierno que permitan mejorar las condiciones de vida de los ciudadanos. Estos datos también se utilizan en investigaciones académicas.

¿CÓMO SE REALIZA EL CENSO?

Cada 10 años, miles de entrevistadores visitan las casas del país para obtener, de los jefes o jefas de familia, información relativa a las personas residentes en su vivienda, así como de las características físicas de ésta.

Entre la información que se recaba con el censo está el número de personas que habitan la casa, la edad de cada una, su ocupación y nivel de estudios, el número de hombres, mujeres, niñas y niños, además del número de habitaciones que tiene la vivienda y los servicios con los que cuenta (drenaje, agua potable, energía eléctrica).



Año 1116 Época prehispánica

Se realiza un censo durante la segunda migración de tribus chichimecas al Valle de México. Se utilizan piedras para hacer el conteo.



1790-1791 Época colonial

Se lleva a cabo un conteo de población conocido como "Censo de Revillagigedo". El reporte de población es de 3 865 529 habitantes.



1895 Primer censo del México independiente

Se realiza el primer conteo del México independiente: Censo General de la República Mexicana. El país tiene 12 491 573 habitantes.



1960 VIII Censo General de Población

México cuenta con 34 923 000 habitantes. Por primera vez se reporta que la población urbana es mayor que la población rural.



1983 Creación del INEGI

Se crea el Instituto Nacional de Estadística y Geografía (INEGI), organismo responsable de organizar, aplicar y difundir información sobre México, en cuanto a su territorio, recursos, población y economía.

Época actual

En la actualidad, el INEGI es el organismo responsable de organizar y aplicar el censo en toda la República Mexicana.



PIRAMIDE DE PUMPU (Yucatan-Criol)



PIRAMIDE DE YEMAH (Yucatan-Criol)



TEMPLO DE MOCTEZUMA (Mexico)




TEMPLO DE MOCTEZUMA (Mexico)



Cultura



MITLA (Oaxaca)



TEOTIHUACAN



CHICHÉN ITZÁ (Yucatán)



PALENQUE (Chiapas)



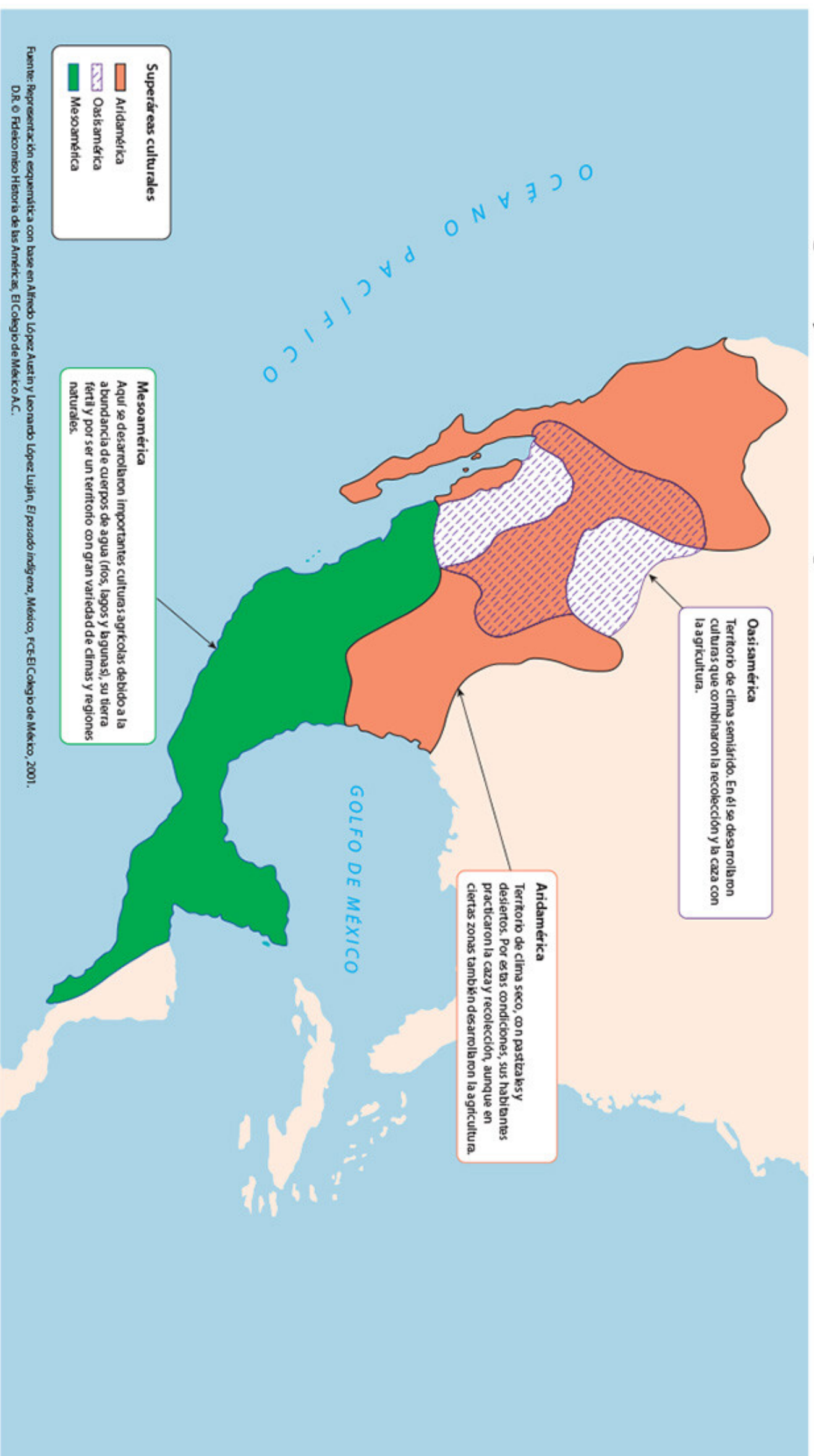
El idioma que hablas, la religión que practicas, los alimentos que consumes, la ropa que usas, las tradiciones del lugar donde vives y los valores que te inculcaron desde que naciste son parte de la cultura de tu comunidad.

Este conjunto de **creencias, prácticas y costumbres** representa la forma de vida del grupo social al que perteneces, distingue a tu comunidad de otras y le **otorga identidad**. Esa riqueza cultural forma parte de la esencia de nuestro país.

Las construcciones, la gastronomía, la vestimenta y el baile son también manifestaciones culturales. En ellas se plasman y reflejan las características del entorno y la visión que tiene del mundo cada grupo social.

México es un país pluricultural y los mapas de este capítulo te ayudarán a comprender, valorar y respetar la diversidad de manifestaciones culturales de los grupos que lo integran.

México antiguo y sus tres superáreas culturales



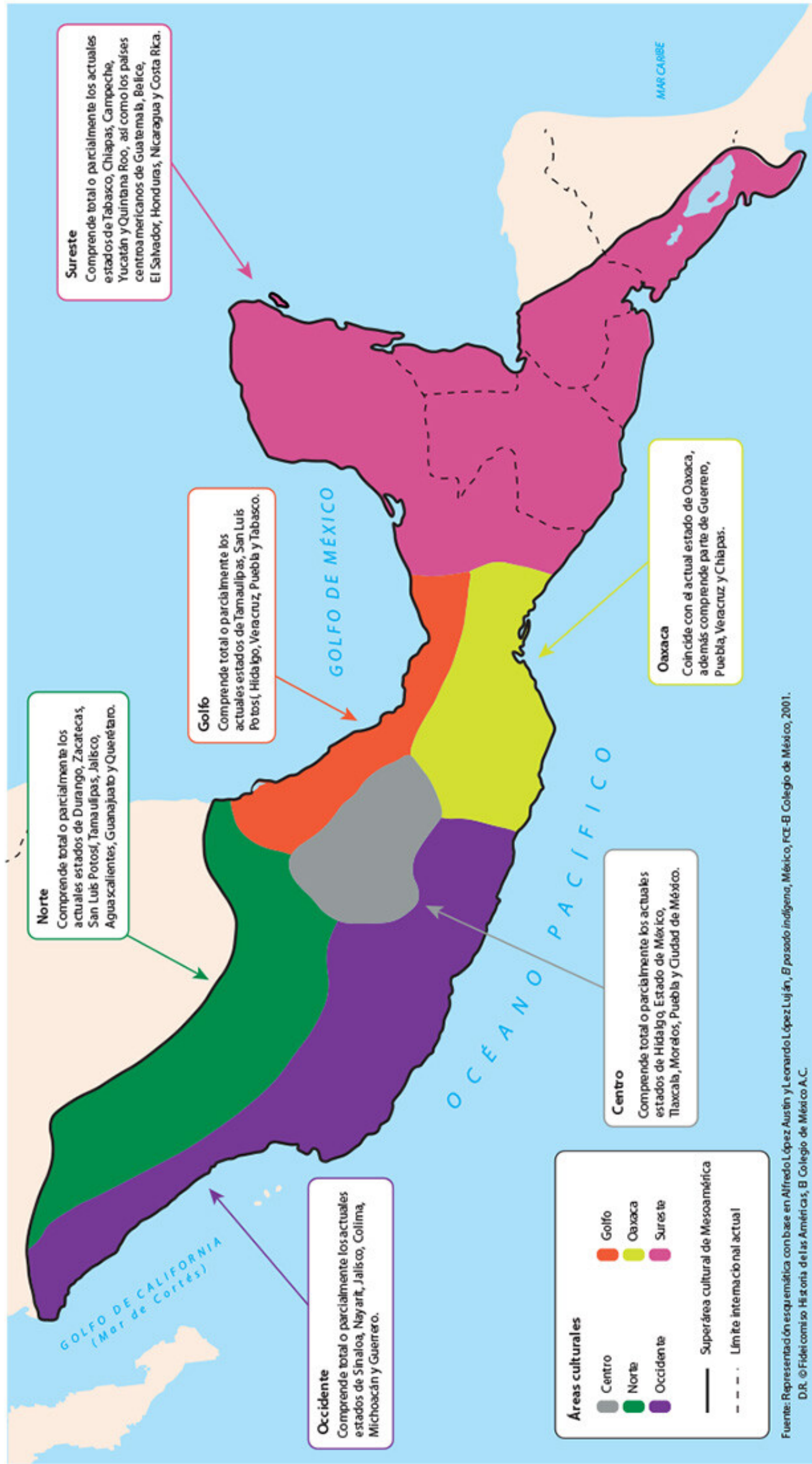
Se han identificado tres superáreas culturales de la época prehispánica: Aridamérica, Oasiamérica y Mesoamérica. Una superárea cultural se identifica por las características económicas, sociales y culturales que le dan unidad,

cuyo resultado son las tradiciones e historia que comparten sus habitantes. Aridamérica se extiende desde el noroeste hasta la península de Baja California; Oasiamérica se ubica en el noroeste, ambas abarcan buena parte de Estados Unidos de

América. Mesoamérica va de la mitad sur de México hasta Costa Rica, pasando por Guatemala, Belice, Honduras, El Salvador y Nicaragua.

Con ayuda del mapa "División territorial", de la pág. 76, identifica las entidades que forman parte de cada superárea cultural. Escribe una carta dirigida a un estudiante de una entidad distinta a la tuya, dile en qué superárea cultural se ubica tu localidad. Describe cómo son los ríos, lagos o montañas, y qué tipo de clima prevalece, así como la vegetación que hay alrededor. Explicale cómo crees que vivían los antiguos pobladores en el lugar en donde vives.

Mesoamérica y sus áreas culturales



Mesoamérica es una superárea geográfica y cultural que abarca gran parte del territorio del México actual y se extiende a Belice, Guatemala, El Salvador, Nicaragua, Honduras y Costa Rica.

En Mesoamérica se desarrollaron las grandes culturas agrícolas del México antiguo. Los cultivos, base de la alimentación,

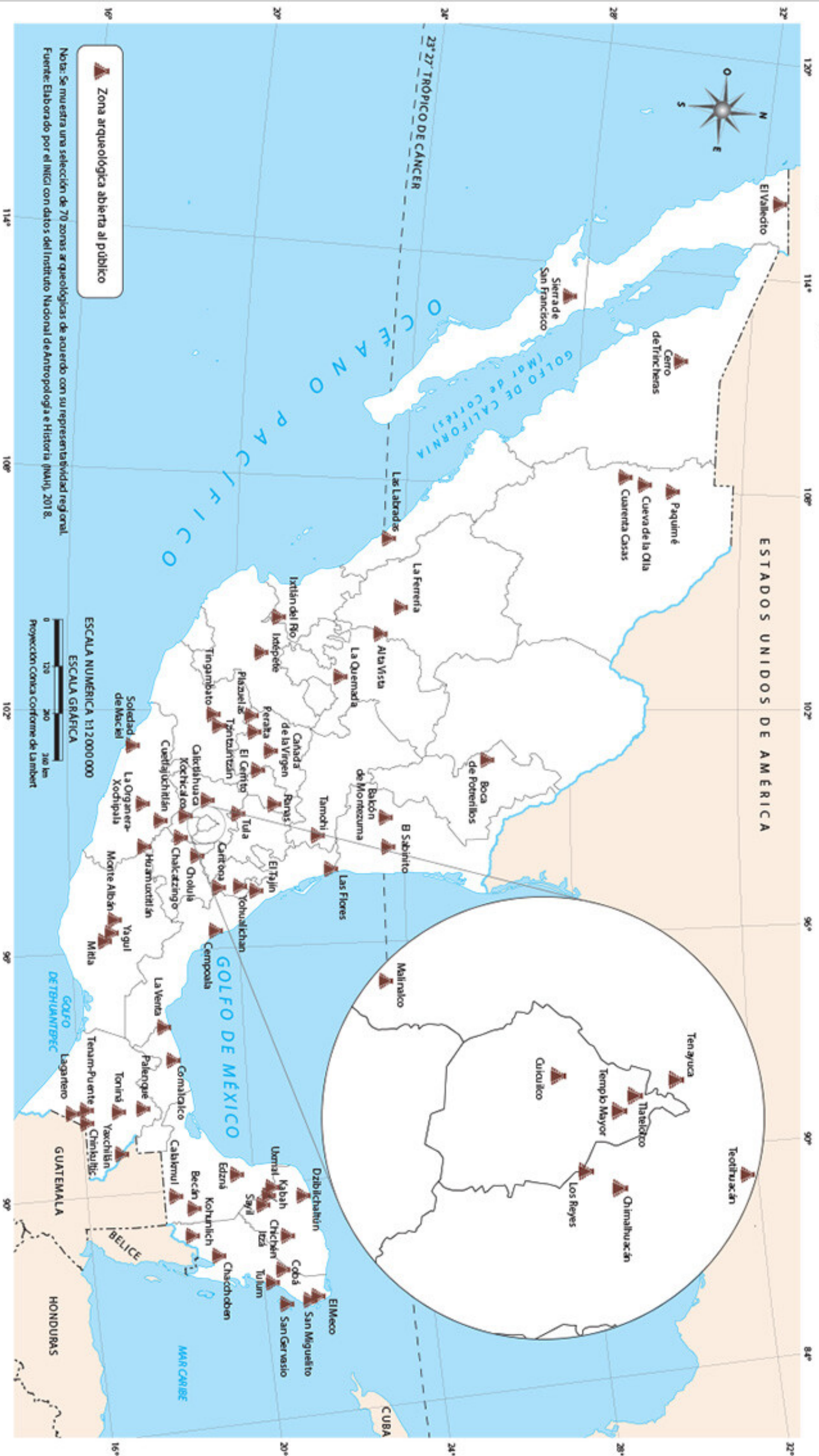
fueron el maíz, la calabaza, el jitomate y el chile. También fueron notables los avances en la ciencia y el arte.

Las áreas culturales de Mesoamérica tuvieron intensas relaciones comerciales, políticas, bélicas y religiosas. Observa el mapa, señala cuantas áreas culturales integran Mesoamérica; investiga

el nombre de dos culturas de cada área y escribe en tu cuaderno los resultados de tu investigación. ¿La entidad donde vives se encuentra en Mesoamérica? ¿Cómo lo sabes?

Busca imágenes de cada cultura y elabora en media cartulina un collage, procura agrupar por área cultural. Pregúnta a tus familiares si en tu localidad existe alguna tradición o festividad de origen prehispánico, o bien, si hay algún platillo que sea herencia de aquellas culturas.

Zonas arqueológicas



Una **zona arqueológica** es el lugar donde se ha preservado evidencia de actividades del ser humano en el pasado; por ejemplo, restos de construcciones, objetos, pinturas, relieves, entre otros. Esto permite conocer su historia, la organización política y social, el comercio, la alimentación, la indumentaria y la religión.

En este mapa, se muestran las zonas arqueológicas de México con museo de sitio. El mayor número de ellas se encuentra en las entidades del centro, sur y oriente del país, y su ubicación corresponde al antiguo territorio mesoamericano.

Observa el mapa, localiza qué entidades son las que tienen mayor número de zo-

nas arqueológicas y cuáles se encuentran en tu entidad. Compara el mapa con el de "Mesoamérica y sus áreas culturales", de la página 83. ¿Qué relación encuentras entre ellos?, ¿en qué área cultural de Mesoamérica hay más zonas arqueológicas?, ¿a qué crees que se deba?

Elige una zona arqueológica de tu preferencia e investiga sus características: ubicación, periodo cultural al que pertenece, pueblo que la habitó y los aspectos que destacaras de ese lugar. Con la información, elabora una guía ilustrada. Reflexiona acerca de la importancia del cuidado y conservación del patrimonio cultural.

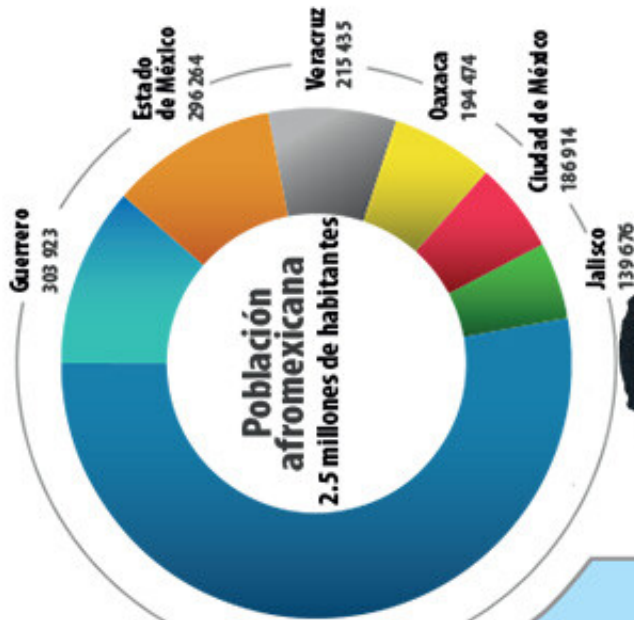
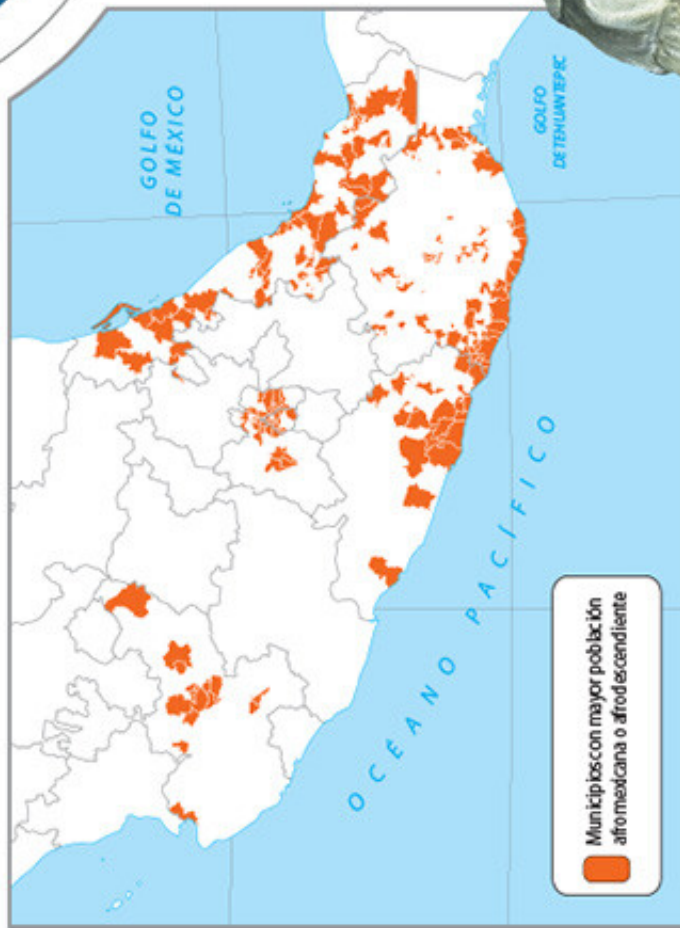
Comunidades afro mexicanas

Origen de las comunidades afro mexicanas

El término *afromexicano* identifica a personas de origen africano que viven en México. Con la conquista española del siglo XVI, miles de africanos fueron forzados a venir a la Nueva España como esclavos para trabajar en minas, plantaciones de caña, café, tabaco y estancos ganaderías, así como en labores domésticas y de servicio.

Localización

Las personas afro mexicanas se encuentran distribuidas en todo el territorio nacional. Se ha identificado que el asentamiento principal de estas comunidades se encuentra en Ciudad de México, Estado de México, Guerrero, Jalisco, Oaxaca y Veracruz.



Gastronomía

Con la conquista española se introdujeron alimentos de origen africano, como el ajonjolí, las lentejas, el plátano, el café y la flor de Jamaica; y en la cocina mexicana se encuentran platillos como empanadas de yuca, moros y cristianos (arroz con frijoles), frijoles puercos, camitas, chicharrón, menuñoy tripas.

Palabras de origen africano

Al español de México se han incorporado diversas palabras africanas que lo han enriquecido: fandango, pachanga, zombi, marimba, rumba, caramba, tumba, chunga, cumbia, dengue, banana y mucama.

Derechos de la población afro mexicana

En el artículo 2º de la Constitución Política de los Estados Unidos Mexicanos se reconoce a los pueblos y comunidades afro mexicanas como parte de la composición pluricultural de nuestro país y se establecen los derechos que garantizan su libre determinación, autonomía, desarrollo e inclusión social. De esta manera se contrasta la invisibilidad y exclusión que han enfrentado a lo largo de 500 años.



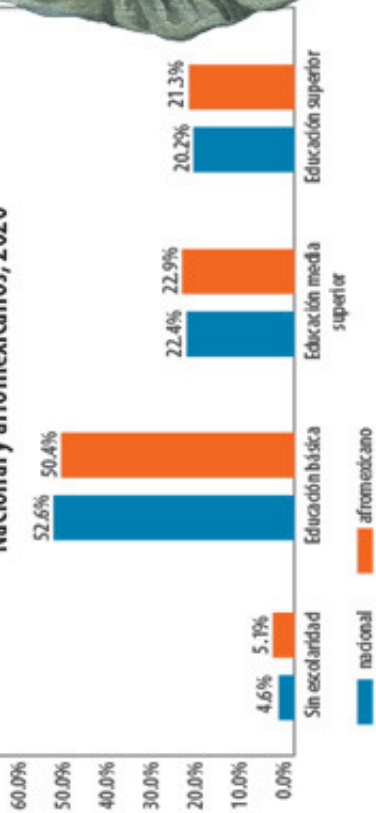
Música

Algunos ritmos con influencia africana en América y México son el cha cha chá, el danzón, el merengue, la cumbia y el tango, entre otros. En su interpretación se ocupan instrumentos musicales como el bongó, las maracas, el güiro, la marimba y la charasca (quijada de burro).

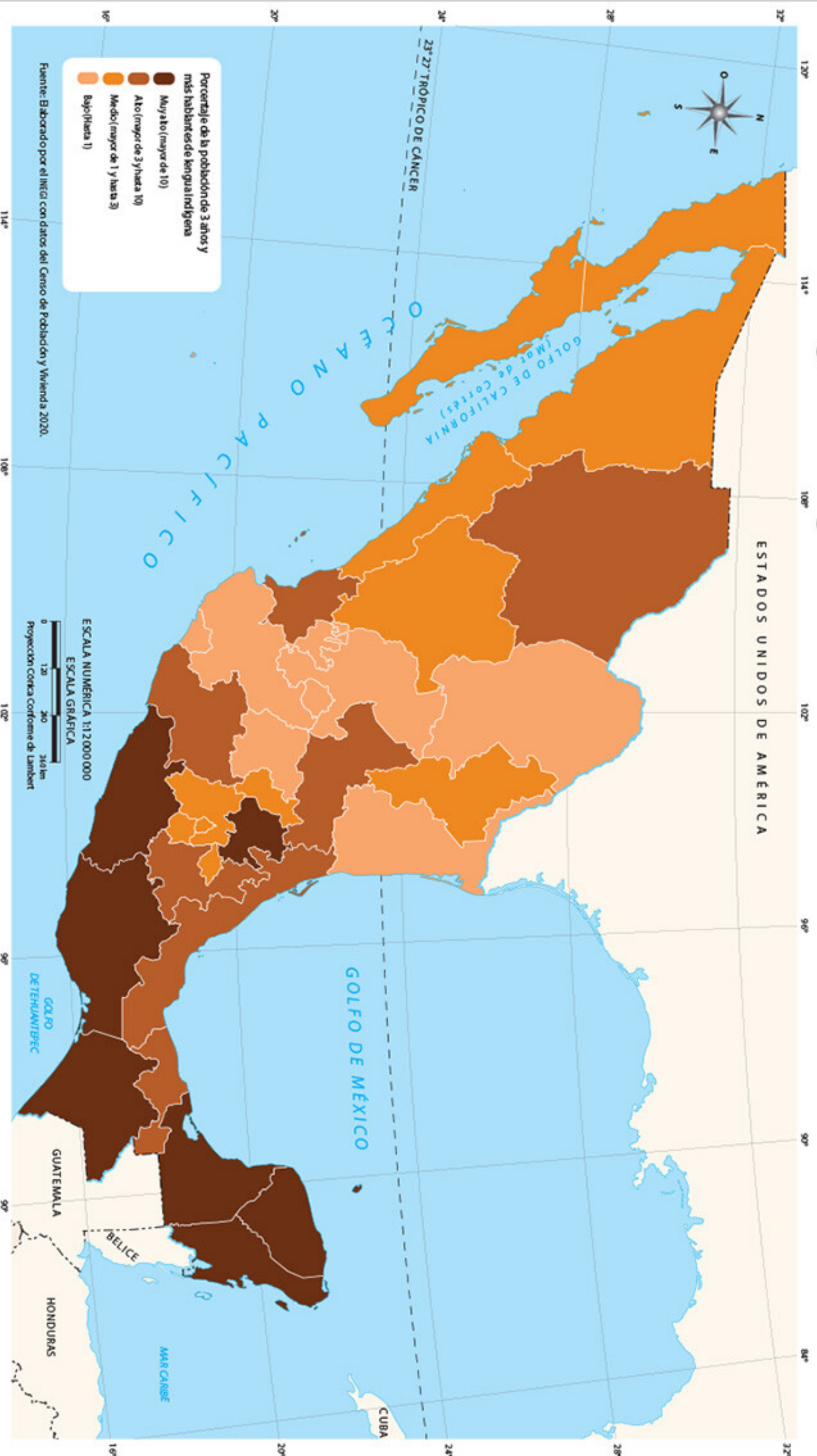
Danza y baile

Los *Diablos*, *La Tortuga*, *El Mocho Mula* y *El Toro de Perote* son danzas que recrean aspectos de la vida cotidiana de los esclavos africanos durante la Colonia. Por ejemplo, *El Son de la Artesa* se baila sobre una tarima o un cajón de madera (artesa) con formas labradas de toros, vacas o caballos. El zapateado simboliza el desquite sobre el amo blanco.

Nivel de escolaridad de la población de 12 años y más de edad. Nacional y afro mexicanos, 2020



Hablantes de lenguas indígenas



Los hablantes de lenguas indígenas pertenecen a grupos descendientes de las poblaciones originarias que habitaron el actual territorio nacional antes de la Conquista española. En este mapa se observa que, principalmente en algunas entidades del sur y sureste del país, se cuenta con una



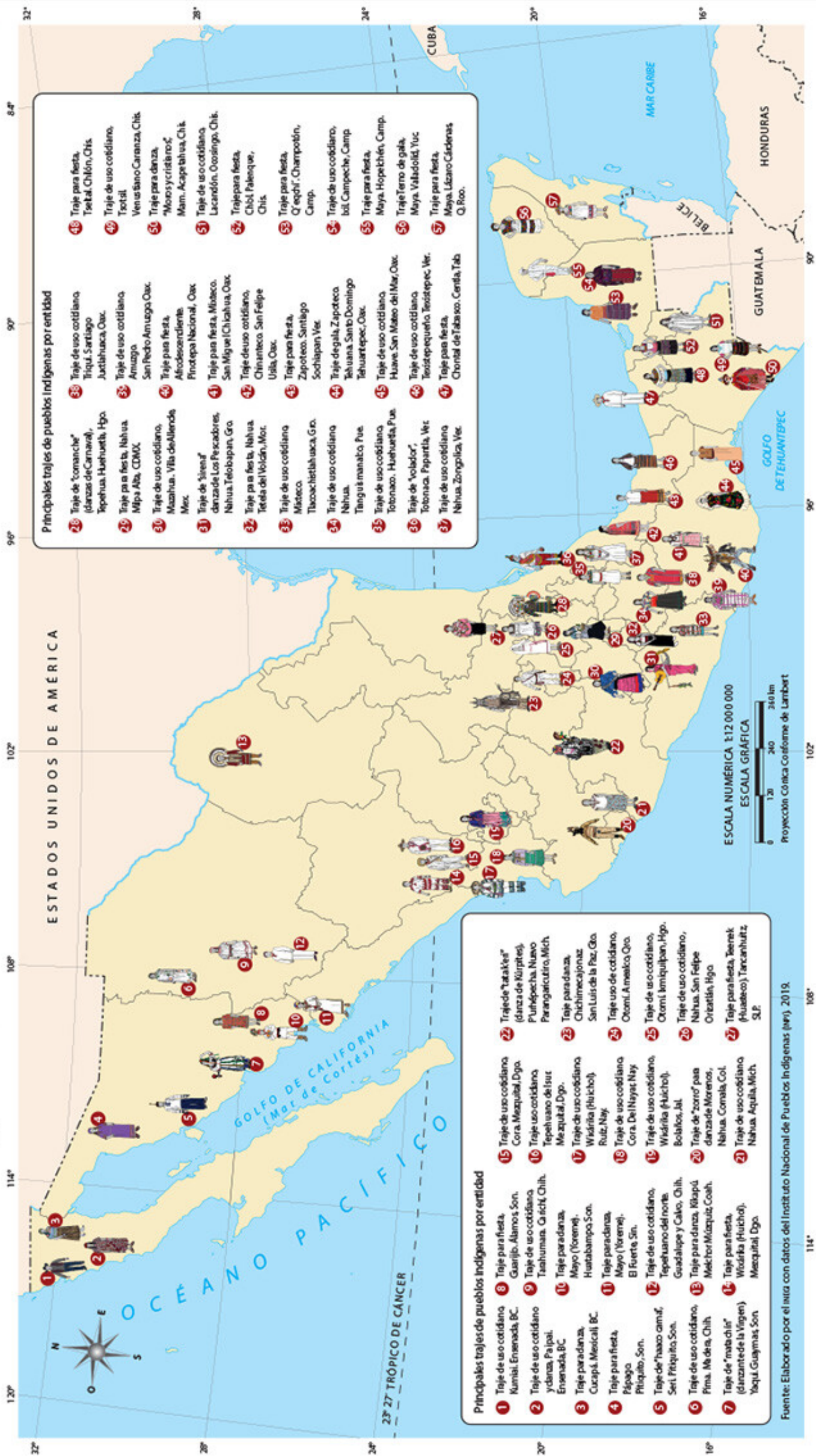
gran cantidad de hablantes de lengua indígena, mientras que en otros estados el número es más bajo. Observa el mapa y localiza tres entidades que tengan muy alto porcentaje de hablantes de lengua indígena. ¿En qué nivel se encuentra tu entidad?

Compara este mapa con el de "Pueblos indígenas", de la página 33, y responde la siguiente pregunta: ¿cuáles pueblos habitan en los estados con mayor porcentaje de población hablante de lengua indígena?



Investiga cuántas lenguas indígenas existen actualmente en el país y cuáles se hablan en tu entidad. Busca cinco palabras de origen indígena que formen parte del español de México y escribe el significado de cada una. Reflexiona: ¿por qué es importante preservar y fortalecer estas lenguas?

Vestimenta indígena



La *vestimenta indígena* está constituida por prendas de vestir, accesorios y adornos personales. Es un elemento de identidad de los grupos indígenas, ya que expresa sus costumbres, visión del mundo y relación con la naturaleza. Generalmente, se elabora con los recursos disponibles de cada

lugar y tanto los materiales como los diseños consideran las características del clima, la vegetación y la fauna de la región.

La distribución de los trajes en el mapa corresponde a las zonas en las que existen pueblos indígenas. Estos atuendos son muy distintos en el diseño, el color, los materia-

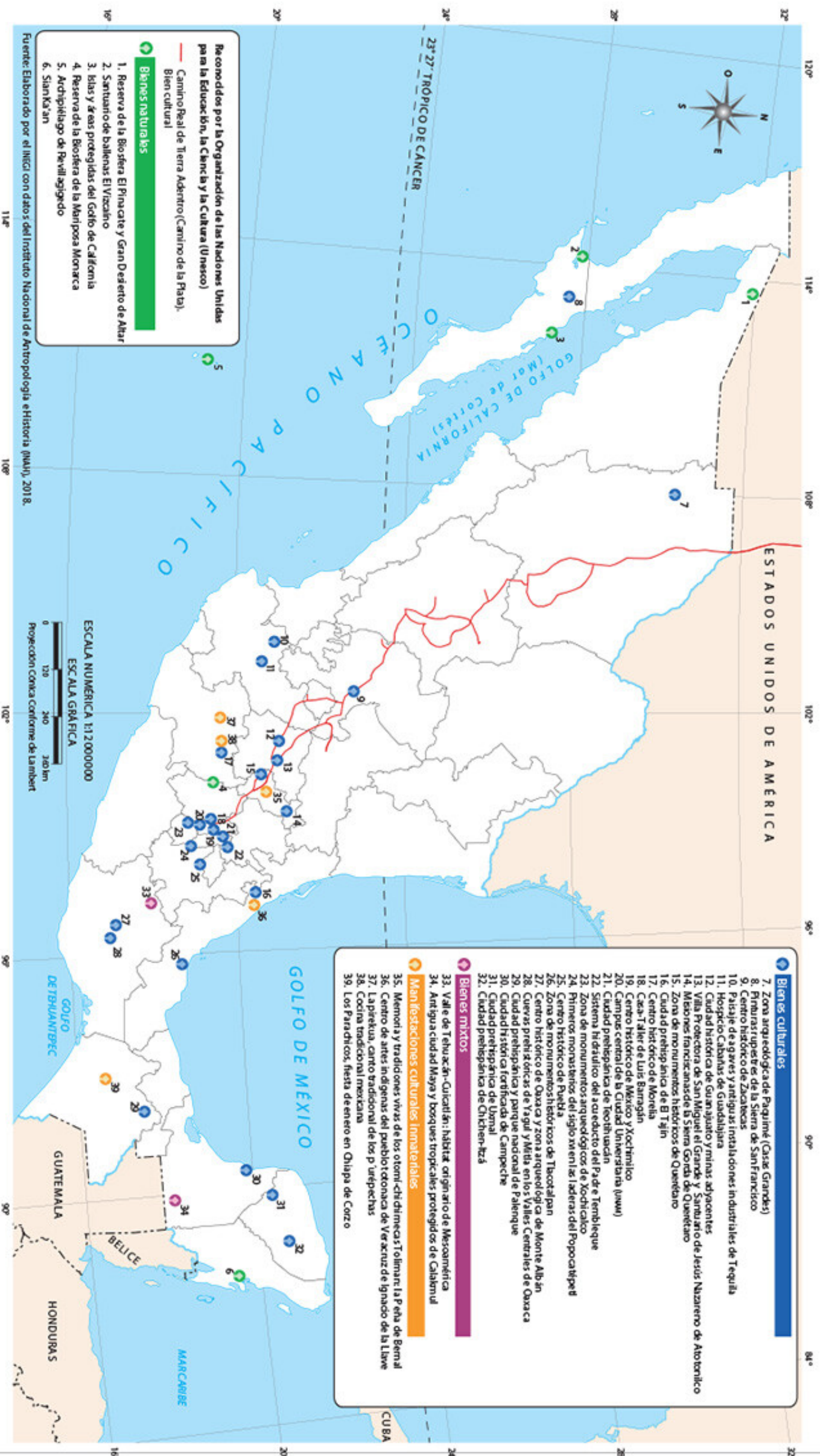
les y en el uso que se les da, ya que pueden ser para la vida diaria, los días de fiesta o las danzas tradicionales.

Compara el mapa con el de "Pueblos indígenas", en la página 33. ¿Qué relación encuentras entre ambos mapas?, ¿qué vestimenta te gusta más?, ¿por qué?



Investiga sobre el pueblo indígena más cercano al lugar donde vives. Describe su vestimenta típica y qué uso se le da. Explica: ¿cómo crees que se relaciona el diseño de este traje con las características del lugar? Haz un dibujo de la vestimenta en el que plasmes los rasgos más sobresalientes.

Patrimonio Mundial



La idea de *Patrimonio Mundial* surgió en 1972, durante una convención de la Organización de las Naciones Unidas para la Educación, la Ciencia y la Cultura

(Unesco, por sus siglas en inglés). Los bienes que forman parte de ese patrimonio tienen un valor excepcional para la humanidad y su pérdida sería irrecuperable. Los países miembros

de la Unesco están comprometidos con proteger, conservar y transmitir a las generaciones futuras el aprecio por su patrimonio.

México es un país con una amplia riqueza de bienes considerados Patrimonio Mundial. Entre éstos se encuentran los naturales (santuarios y reservas ecológicas), culturales (edificios y monumentos), mixtos (edificacio-

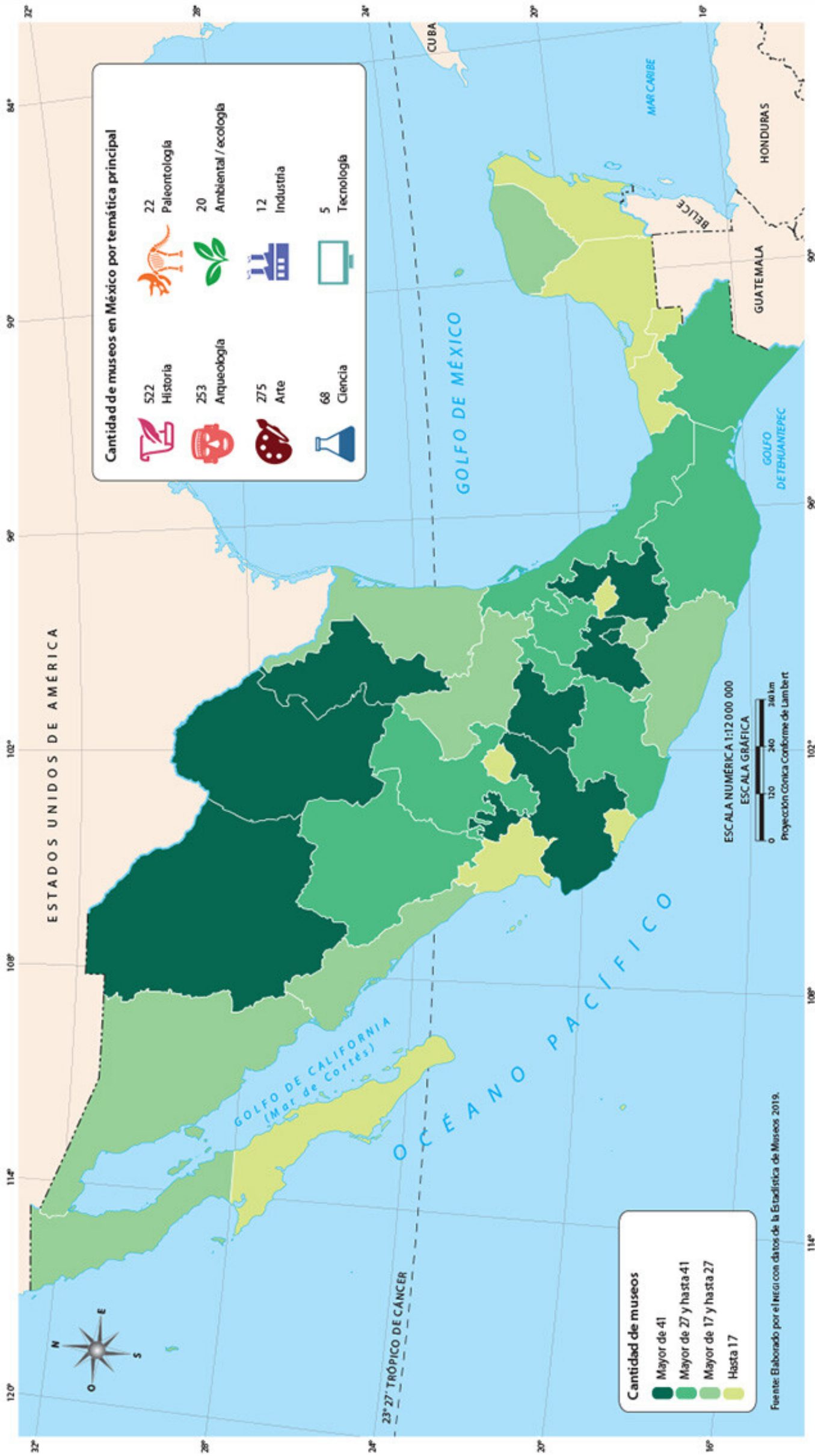
nes con valor cultural en reservas ecológicas) e inmateriales (música, cocina tradicional, festividades, costumbres).


Observa el mapa e identifica en qué parte del territorio nacional se concentra el mayor número de bienes del patrimonio que México aporta al mundo. ¿En qué entidades hay un mayor número de bienes naturales?



Elige un bien del patrimonio de México e investiga los aspectos relacionados con él, por ejemplo, ubicación, principales características, función que tiene o tuvo en el pasado y otros que tú decidas según tu elección. Elabora un díptico con la información recabada. ¿Por qué crees que ese bien fue declarado Patrimonio Mundial?

Museos



 Un museo es un espacio o recinto abierto al público donde se exhiben colecciones artísticas, históricas, paleontológicas, arqueológicas, científicas, tecnológicas, ambientales e industriales, entre otras. Los museos son muy importantes para la sociedad, pues permiten conocer aspectos de nuestra historia y de muchos otros temas.

En México, existe una gran cantidad de museos que exponen colecciones de temas variados. En nuestro país, hay ocho entidades federativas que cuentan con más de 41 museos cada una; la mayoría de éstas se localiza en el centro del país. En contraste, hay ocho estados que tienen 17 museos o menos.

Observa el mapa. ¿Qué estados de la República tienen más museos?, ¿cuáles tienen menos? Según el mapa, ¿la entidad donde vives cuenta con muchos o pocos recintos? ¿A qué crees que se deba esto?



Investiga con un adulto de tu familia el nombre y la temática de tres museos de tu entidad. Después, elabora un cartel para animar a las personas a visitarlos.

Gastronomía


- Tamal de bola ----- Chiapas
- Mole de convento ----- Guanajuato
- Mole rosa ----- Guerrero
- Pollo al cuñete ----- Querétaro
- Mole oaxaqueño ----- Oaxaca
- Mole poblano ----- Puebla
- Pollo a la Tocatlán ----- Tlaxcala



En las infografías de Artesanías y Gastronomía se incluye sólo un platillo o tipo de artesanía por entidad federativa, lo cual no significa que sean las únicas expresiones culturales. La intención del Atlas es exponer una muestra representativa de la diversidad cultural con que cuenta México.

La gastronomía es el conjunto de conocimientos y actividades relacionados con los ingredientes, las recetas y las técnicas de la cocina. En su desarrollo influyen las características geográficas de las regiones, el clima, la producción de alimentos y las tradiciones culturales de las comunidades.

La gran variedad de ingredientes prehispánicos son producto de la fusión de la biodiversidad de Mesoamérica con la diversidad cultural de los pueblos que la habitaron. La base de la cocina mexicana son tres ingredientes: el maíz, el frijol y el chile. Tan sólo con el maíz, en México se han documentado más de 600 platillos distintos.



- Birria ----- Aguascalientes
- Borrego tatemado ----- Baja California
- Dzic de venado ----- Chiapas
- Cabrito ----- Coahuila
- Sopitos ----- Colima
- Caldillo duranguense ----- Durango
- Mixiotes ----- Hidalgo
- Borrego al pastor ----- Jalisco
- Cecina de Yecapixtla ----- Morelos
- Fritada de cabrito ----- Nuevo León
- Tasajo ----- Oaxaca
- Cabrito ----- San Luis Potosí
- Machaca ----- Sonora
- Empanada de cabeza de cabrito ----- Tamaulipas
- Lengua en salsa de almendras ----- Zacatecas
- Barbacoa ----- Hidalgo

- Lechón ----- Aguascalientes
- Frijol con puerco ----- Campeche
- Butifarras ----- Chiapas
- Tacos al pastor ----- Ciudad de México
- Asado de puerco ----- Coahuila
- Pozole ----- Jalisco
- Carnitas ----- Michoacán
- Gorditas de migajas ----- Querétaro
- Guaxmole ----- Morelos
- Panuchos ----- Quintana Roo
- Mone ----- Tabasco
- Cochinita pibil ----- Yucatán
- Asado de puerco ----- Nuevo León
- Asado de bodas ----- Zacatecas
- Tamales de cabeza de puerco ----- Chihuahua
- Mole de olla ----- San Luis Potosí

- Pejelagarto ----- Tabasco
- Langosta estilo Puerto Nuevo ----- Baja California
- Cangrejo araña ----- Baja California
- Almeja ahumada ----- Baja California
- Escabeche de mariscos ----- Baja California Sur
- Tamales fajados ----- Baja California Sur
- Salpicón de pulpo ----- Colima
- Chicharrón de pescado ----- Nayarit
- Pescado zarandeado ----- Nayarit
- Tlaxtihuili ----- Nayarit
- Tamales de camarón ----- Nayarit
- Sopes de ostión ----- Nayarit
- Caldo de piedra ----- Oaxaca
- Aguachile ----- Sinaloa
- Ceviche de camarón y sierra ----- Sinaloa
- Tacos gobernador ----- Sinaloa
- Jaibas rellenas ----- Tamaulipas
- Pescado a la veracruzana ----- Veracruz
- Arroz a la tumbada ----- Veracruz
- Pescado Tikin-Xic ----- Yucatán
- Itzacol de langosta ----- Yucatán

- Mixiote de escamoles ----- Estado de México
- Tamal de caracol ----- Estado de México
- Escamoles ----- Guanajuato
- Jumiles ----- Guerrero
- Chapulines ----- Oaxaca
- Chinicuil ----- Hidalgo, Tlaxcala



Fuente: Elaborado por la Secretaría de Educación Pública (SEP) con datos del Sistema de Información Cultural (SIC), 2018. Disponible en https://si.c.cultura.gob.mx/lista.php?table=gastronomia&disciplina=&estado_id= (Consultado en mayo de 2019).

Elaborado por la Secretaría de Educación Pública (SEP) con datos de México. Rutas gastronómicas, 2010. Disponible en http://rutasgastronomicas.sectur.gob.mx/descargas/guia_rapida.pdf (Consultado en mayo de 2019).



Entidades Federativas

Actividades con los mapas estatales

En este capítulo de tu *Atlas* puedes consultar los mapas de las 32 entidades federativas de nuestro país, los cuales están ordenados alfabéticamente. Para saber más de la entidad donde vives busca el mapa de tu estado, explóralo, observa con atención cada detalle y realiza las actividades que se proponen. No es necesario que hagas todas en un mismo momento, las puedes hacer poco a poco y en el orden que quieras de acuerdo a lo que te interese.

Mi entidad

1. Escribe el nombre de la entidad donde vives:
2. Ahora anota cómo se llama la capital del estado:
3. Busca el número de municipios y escríbelo:
¿Cómo se llama el municipio donde vives?
4. La extensión territorial se refiere al número de km² de superficie que tiene la entidad, ¿cuál es la extensión territorial de tu estado?

La rosa de los vientos

1. La rosa de los vientos es un elemento del mapa. Escribe para qué piensas que sirve:

La escala

Coloca una regla o una escuadra graduada sobre la escala gráfica que aparece en el mapa. Mide un centímetro a partir del cero, ahí aparecerá un número, éste indica la cantidad de kilómetros a los que equivale ese centímetro. Por ejemplo, si al medir un centímetro aparece 18 km, esto significa que un centímetro en el mapa equivale a 18 kilómetros en la realidad.

1. Usando la escala, calcula la distancia entre dos lugares de tu entidad:

De a hay kilómetros

De a hay kilómetros

Elementos naturales

Los elementos naturales contenidos en los mapas de las entidades son, por ejemplo, ríos, lagos, lagunas, cascadas, cenotes, cerros, volcanes, flora y fauna, entre otros. ¿Cuáles existen en tu estado?

1. Señala qué elementos naturales encuentras en los puntos cardinales de tu entidad:

En el norte:

En el sur:

En el este:

En el oeste:

2. Elige uno de los elementos naturales cercano a tu localidad e investiga sobre él.

Los habitantes de la entidad

1. Escribe la cantidad de habitantes:
2. ¿Quién predomina en la entidad, las mujeres o los hombres?
3. ¿Cuál es el grupo de edad más numeroso? Haz un plan de gobierno que atienda las necesidades más importantes de ese grupo de edad.
1. 2.
4. Ahora identifica las tres localidades más pobladas.
3.

Actividades económicas

1. Escribe en el cuadro 5 actividades económicas de tu entidad:

- 1.
- 2.
- 3.
- 4.
- 5.

¿Conoces personas que realicen alguna de estas actividades? Pide que te cuenten sus experiencias.

Turismo

El turismo es una actividad económica que propicia el desarrollo de infraestructura y genera empleos y recursos económicos.

1. Anota cinco puntos turísticos de tu entidad:

1.
2.
3.
4.
5.

2. ¿Cuál sitio te gustaría conocer? ¿Por qué?

Elementos culturales

1. Escribe en la tabla el nombre de tres museos, sitios históricos y arqueológicos de tu entidad:

Museos	Sitios históricos	Sitios arqueológicos
1. <input type="text"/>	1. <input type="text"/>	1. <input type="text"/>
2. <input type="text"/>	2. <input type="text"/>	2. <input type="text"/>
3. <input type="text"/>	3. <input type="text"/>	3. <input type="text"/>

Selecciona un museo, un sitio histórico o arqueológico e investiga por qué es importante para tu entidad.

Nuestros vecinos

1. Anota el nombre de las entidades vecinas de tu estado (toma en cuenta que también puede colindar con algún país, océano o golfo).

2. Consulta la extensión territorial de los estados vecinos y anota cuál es el más grande y el más chico:

El más grande es: Anota el nombre de la capital de este estado:

El más chico es: Anota el nombre de la capital de este estado:

3. ¿Cuál estado vecino es el que tiene más población? ¿Cuál tiene menos?

4. Compara el mapa de tu entidad con un estado vecino y escribe tres similitudes y diferencias en el cuadro.

Estado elegido para hacer la comparación:

Similitudes

- 1.
- 2.
- 3.

Diferencias

- 1.
- 2.
- 3.

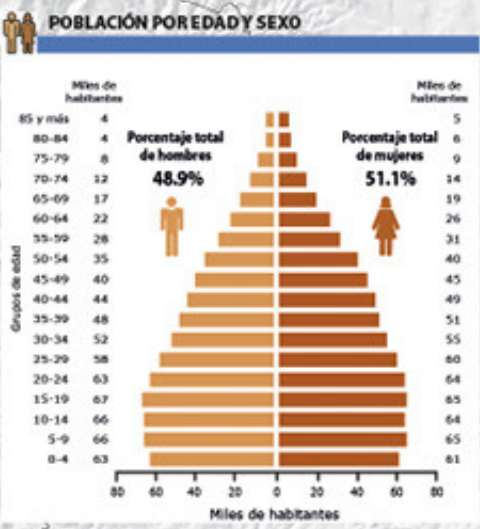
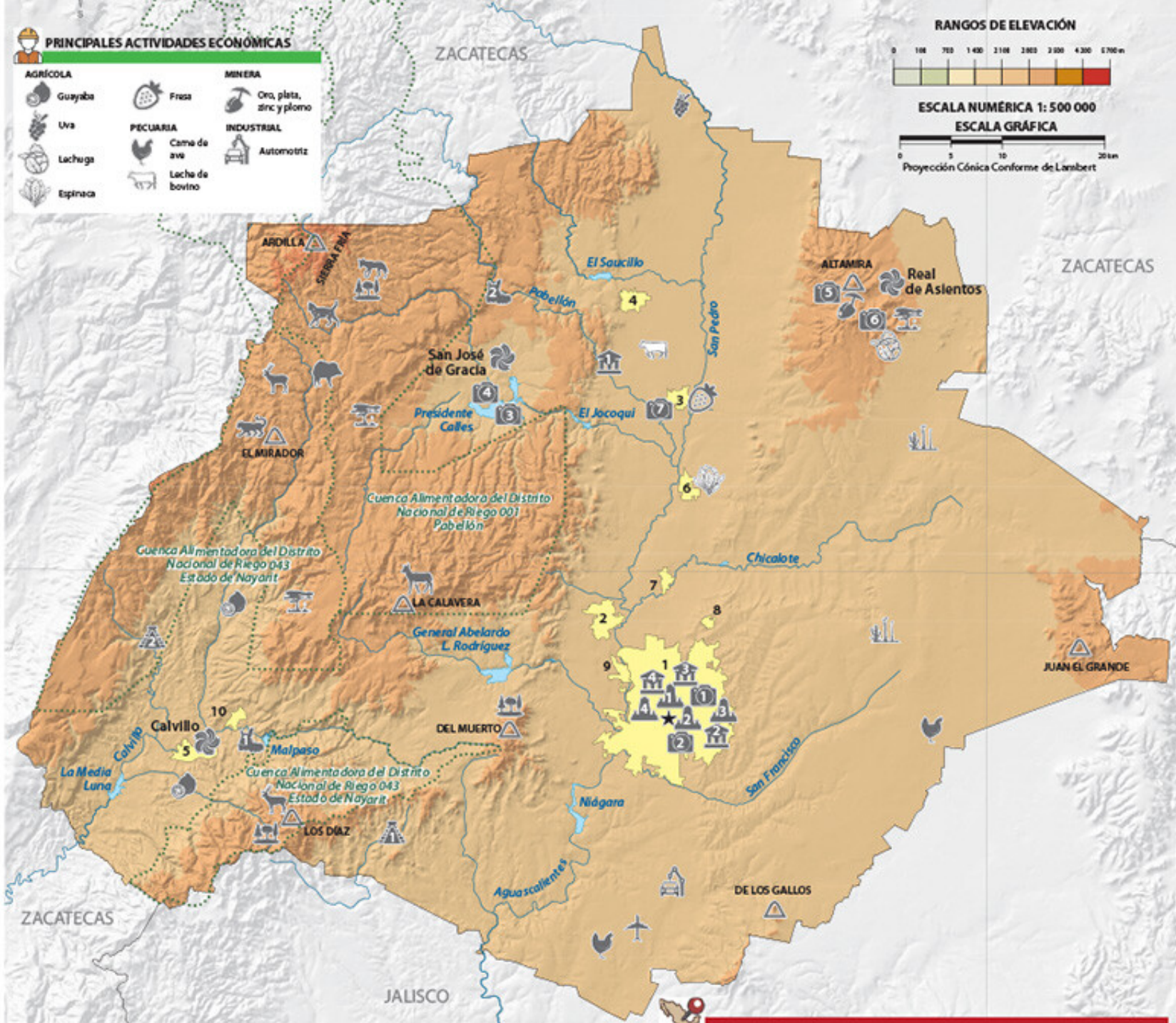
Aguascalientes



Capital: Aguascalientes
Extensión: 5 615.7 km², 0.39% del territorio nacional
Municipios: 11
Población: 1 425 607 habitantes, 1.1% del total del país

PRINCIPALES ACTIVIDADES ECONÓMICAS

AGRÍCOLA	MINERA
Guayaba	Oro, plata, zinc y plomo
Uva	
Lachuga	PECUARIA
Espinaca	Cama de ave
	Lacha de bovino
	INDUSTRIAL
	Automotriz



- LOCALIDADES MÁS POBLADAS**
- 1 Aguascalientes
 - 2 Jesús María
 - 3 Pabellón de Arteaga
 - 4 Rincón de Romos
 - 5 Calvillo
 - 6 San Francisco de los Romo
 - 7 Jesús Gómez Portugal
 - 8 La Ribera
 - 9 Pocitos
 - 10 Ojocaliente

GENERAL	NATURALEZA	FAUNA
★ CAPITAL DEL ESTADO	ÁREA NATURAL PROTEGIDA	Coyote
— LIMITE ESTATAL	HIPOGRAFÍA	Pecarí de collar
📍 LOCALIDADES MÁS POBLADAS	Río perenne	Cervo rojo
INFRAESTRUCTURA	Prisa	TURISMO
✈️ AEROPUERTO INTERNACIONAL Jesús Terán	PRINCIPAL ELEVACIÓN	1. Exadra
CULTURA	Carro	2. Jardín de San Marcos
MUSEO	ECOSISTEMA	3. Santuario del Cristo Roto
1. De la Insurgencia de Pabellón de Hidalgo	Bosque templado	4. Presa Presidente Calles
2. De Aguascalientes	Metoral	5. Mina Real de Asientos
3. José Guadalupe Posada	Pastizal	6. Ex-Convento del Señor del Topoán
4. Escárrega	FAUNA	7. Ex-Hacienda de San Luis de Letras
SITIO ARQUEOLÓGICO	Puma	PUEBLO MÁGICO
1. Pinturas rupestres al Ocoate	Venado	TURISMO DEPORTIVO
2. Pinturas rupestres al Topoán	Gato montés	1. Cañón y presa de Malpaso, ecoturismo y turismo de aventura
SITIO HISTÓRICO		2. Túnel de Población, ecoturismo
1. Teatro Morelos		
2. Palacio de Gobierno		
3. Antigua Estación de Ferrocarril		
4. Templo de San Marcos		

Baja California

Capital: Mexicali
Extensión: 71 450.0 km², 3.6% del territorio nacional
Municipios: 6
Población: 3 769 020 habitantes, 3.0% del total del país

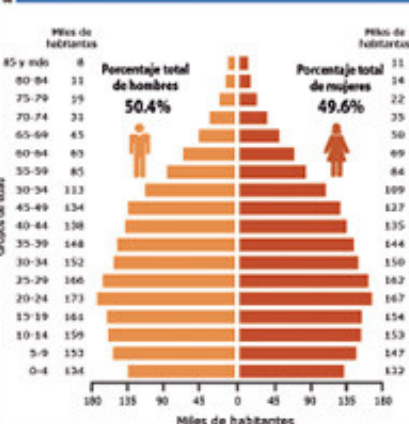


ESCALA 1:3 478 000 118°

LOCALIDADES MÁS POBLADAS


- 1 Tijuana
- 2 Mexicali
- 3 Ensenada
- 4 Playas de Rosarito
- 5 Tecate
- 6 Villa del Campo
- 7 Rodolfo Sánchez Taboada
- 8 Ciudad Guadalupe Victoria
- 9 Lázaro Cárdenas
- 10 San Felipe

POBLACIÓN POR EDAD Y SEXO




ESCALA NUMÉRICA 1: 1 900 000

ESCALA GRÁFICA



Proyección Cónica Conforme de Lambert

RANGOS DE ELEVACIÓN



PRINCIPALES ACTIVIDADES ECONÓMICAS

- | | | |
|-----------------|-----------------|---|
| AGRÍCOLA | PESQUERA | MINERA |
| Algodón | Abujón | Oro |
| Trigo | Langosta | INDUSTRIAL |
| Fresa | Macarabá | Automóvil |
| Uva | Tiburón | 1. Electrodomésticos |
| Espinaca | Sardina | 2. Agropecuario |
| Cebolla | Ostión | 3. Cervecera |
| Tomate | Pulpo | 4. Vitrícola |
| | Anís | 5. Equipo médico |
| | | 6. Equipo de computación y comunicación |
| | | 7. Componentes electrónicos |
| PECUARIA | | FUENTES DE ENERGÍA |
| Cama de bovino | | GEOTÉRMICA |
| | | Cerro Prieto |
| | | SOLAR |
| | | Cerro Prieto |

- GENERAL**
- ★ CAPITAL DEL ESTADO
- LÍMITE INTERNACIONAL
- LÍMITE ESTATAL
- 📍 LOCALIDADES MÁS POBLADAS
- INFRAESTRUCTURA**
- ✈️ AEROPUERTO INTERNACIONAL
- 1. General Abelardo L. Rodríguez
- 2. General Rodolfo Sánchez Taboada
- 🚢 PUERTO DE ALTURA
- Ensenada
- 🏠 OBSERVATORIO
- San Pedro Mártir
- CULTURA**
- 🏛️ MUSEO
- 1. De las Californias - Interactivo Tijuana El Trompo
- 2. Del Centro de Investigaciones Culturales, snc - Sol del Niño
- 3. De la Vid y el Vino
- 4. De Ciencia y Acuario Caracol - Katsuo
- 5. Histórico Regional, ex-Cuartel de la Compañía Rija
- 6. De Historia de Ensenada
- 7. Juan Rodríguez Cabrillo
- 🏛️ SITIO ARQUEOLÓGICO
- 1. El Vallejo
- 2. Pinturas rupestres de Cataviña
- 🏛️ SITIO HISTÓRICO
- 1. Estación de ferrocarril de Tecate
- 2. Casa de la cultura de Mexicali - Catedral de Nuestra Señora de Guadalupe
- 3. Templo Purísimo Corazón de María
- 4. Misión de San Francisco de Borja de Adá
- 5. Misión de Santa Gertrudis la Magna
- NATURALEZA**
- 🌿 ÁREA NATURAL PROTEGIDA
- HIDROGRAFÍA**
- 🌊 Lago, laguna o presa
- 🌊 Laguna intermitente
- 🌊 Río perenne
- PRINCIPAL ELEVACIÓN**
- C. Cerro
- P. Pico
- V. Volcán
- ECOSISTEMA**
- 🌳 Matorral
- 🌳 Bosque templado

- FAUNA**
- 🦅 Águila real
- 🐇 Borrego cimarrón
- 🐪 Corvicornos
- 🐭 Rata canguro de San Quintín
- 🐜 Pijaro carpintero
- 🐅 Puma
- 🐱 Tilcoyote
- 🐭 Zorra gris
- 🐿️ Vbora de cascabel
- 🦉 Venado bura
- 🐈 Ballena azul
- 🐈 Ballena jorobada
- 🐱 Cachalote
- 🐬 Delfín nariz de botella
- 🐟 Elasmobranto
- 🐟 Etrozo de mar
- 🐟 Totoaba
- 🐟 Vaquita marina
- TURISMO**
- PUNTO TURÍSTICO**
- 1. La Ramonosa
- 2. Vicenta Guerrero (Algodón)
- 3. La Bufadora
- 4. San Felipe
- 5. La Lobos
- 6. Punta San Carlos
- 7. Bahía de los Angeles
- PUEBLO MÁGICO**
- TURISMO DEPORTIVO**
- 1. Avistamiento de ballena gris
- 2. Baja 1000, carreras de autos

Baja California Sur

Capital: La Paz
Extensión: 73 909.4 km², 3.8% del territorio nacional
Municipios: 5
Población: 798 447 habitantes, 0.6% del total del país



PRINCIPALES ACTIVIDADES ECONÓMICAS

AGRÍCOLA	
Chile verde	Pelpo
Fresa	Sardina
Garbanzo	Abulón
Papa	MINERA
PECUARIA	1. Sal
Bovino	2. Cobre
PESQUERA	3. Yaso
Langosta	4. Fosforita
	FUENTE DE ENERGÍA
	GEOTÉRMICA
	Las Tres Virgenes
	SOLAR
	Santa Rosalla
	EÓLICA
	Guerrero Negro


- ### GENERAL
- ★ CAPITAL DEL ESTADO
 - LÍMITE ESTATAL
 - 📍 LOCALIDADES MÁS POBLADAS
- ### INFRAESTRUCTURA
- #### AEROPUERTO INTERNACIONAL
1. Cabo San Lucas
 2. San José del Cabo
 3. Manuel Márquez de León
 4. De Loreto
- #### PUERTO DE ALTURA
1. Pichilingue
 2. San Carlos
 3. Loreto
 4. Santa Rosalla
- ### OBSERVATORIO
- Centro de Investigación en Astronomía Solar en la Paz
- ### CULTURA
- #### MUSEO
1. Municipal Casa Amarilla
 2. De las Misiones Jesuíticas
 3. Regional de Antropología e Historia de Baja California Sur
 4. De Minería el Boleo
 5. De Historia Natural de Cabo San Lucas
- ### SITIO ARQUEOLÓGICO
1. Pinturas rupestres La Cueva del Ratón
 2. Pinturas rupestres de la Sierra de San Francisco
- ### SITIO HISTÓRICO
1. Iglesia de Santa Bárbara
 2. Misión San Luis Gonzaga Chiriquá
 3. Misión de Nuestra Señora del Pilar de Todos Santos
 4. Teatro General Manuel Márquez de León
- ### NATURALEZA
- 🌿 ÁREA NATURAL PROTEGIDA
- ### HIDROGRAFÍA
- 🌊 Laguna
 - 🌊 Río perenne
 - 🏔️ PRINCIPAL ELEVACIÓN
 - 🌋 C. Cerro
 - 🌋 V. Volcán
 - 🌳 OASIS
 - 🌳 Mulogé
- ### ECOSISTEMA
- 🌿 Manglar
 - 🌳 Bosque templado
 - 🌳 Matorral
 - 🌳 Selva seca
 - 🐘 FALNA
 - 🐘 Borriago cimarrón
 - 🐘 Venado bura
 - 🐘 Zorra gris
 - 🐘 Lobo marino
 - 🐘 Ballena gris
 - 🐘 Ballena azul
 - 🐘 Ballena jorobada
 - 🐘 FALNA DE CONSERVACIÓN
 - 🐘 Campo tortuguero
- ### TURISMO
- #### PUNTO TURÍSTICO
1. El Arco de Cabo San Lucas
 2. Faro Punta Cabeza de Ballena
 3. Todos Santos
 4. Faro Punta Magdalena
 5. Faro Cabo San Lázaro
 6. Faro de la Boca de Santo Domingo
 7. Misión Nuestra Señora de Loreto Conchó
 8. Misión Nuestra Señora de La Paz Ahupí
 9. Misión de Santa Rosalla de Mulogé
 10. Misión de Nuestra Señora de Guadalupe Huastinapi
 11. Misión de Santiago de los Cores Ahupí
 12. Misión de San Ignacio Kaddí Kaamán
- #### FUEBLO MÁGICO
- 🏠 FUEBLO MÁGICO
- #### TURISMO DEPORTIVO
1. Surf
 2. Pesca Deportiva

ESCALA NUMÉRICA 1: 2 700 000
 ESCALA GRÁFICA

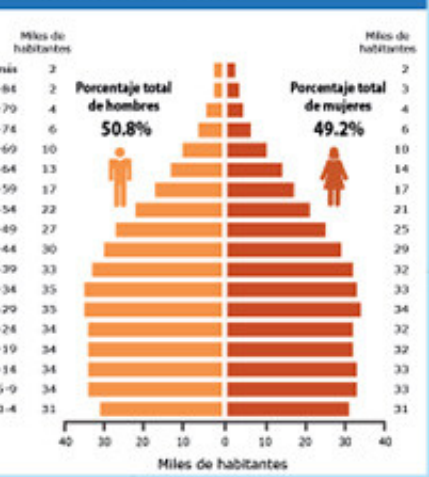


Proyección Cónica Conforme de Lambert

RANGOS DE ELEVACIÓN



POBLACIÓN POR EDAD Y SEXO



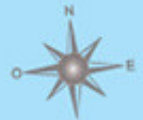
LOCALIDADES MÁS POBLADAS

- 1 La Paz
- 2 Cabo San Lucas
- 3 San José del Cabo
- 4 Ciudad Constitución
- 5 Loreto
- 6 Santa Rosalla
- 7 Guerrero Negro
- 8 Villa Alberto Andrés Alvarado Arámburo
- 9 Ciudad Insurgentes
- 10 Todos Santos

Campeche



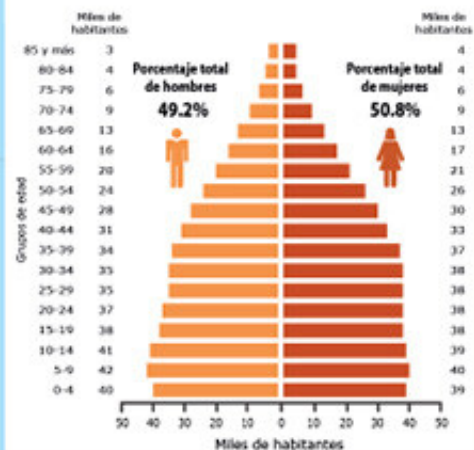
Capital: San Francisco de Campeche
Extensión: 57 484.9 km², 2.9% del territorio nacional
Municipios: 12
Población: 928 363 habitantes, 0.7% del total del país



PRINCIPALES ACTIVIDADES ECONÓMICAS

AGRÍCOLA	PESQUERA
Aroz	Pulpo
Piña	Camaron
Tonajá	Extracción de petróleo
PECUARIA	INDUSTRIAL
Miel	Ingeniería azucarera

POBLACIÓN POR EDAD Y SEXO



GOLFO DE MÉXICO

YUCATÁN

QUINTANA ROO

TABASCO

GUATEMALA

BELICE

CHIAPAS

GENERAL

- ★ CAPITAL DEL ESTADO
- LÍMITE INTERNACIONAL
- LÍMITE ESTATAL
- 📍 LOCALIDADES MÁS POBLADAS
- INFRAESTRUCTURA**
 AEROPUERTO INTERNACIONAL
 1. Ingeniero Alberto Azuela Ongay
 2. De Ciudad del Carmen
- FUERTO DE ALTURA**
 1. Seybaplaya
 2. Isla del Carmen
- CULTURA**
 MUSEO
 1. Pedro Infante
 2. Arqueológico de Campeche
 3. De la Naturaleza y Arqueología de Calakmul
 4. Arqueológico del Camino Real de Hecelchakán

SITIO ARQUEOLÓGICO

- Calakmul
- Edzná
- Hocho
- Isla Jaina
- El Tigra
- Bucán

SITIO HISTÓRICO

- Ciudad Histórica Fortificada de Campeche y Ruinas de San Miguel
- Hacienda Uxamón
- Hacienda Tankuché

NATURALEZA

- ÁREA NATURAL PROTEGIDA

HIDROGRAFÍA

- Lago o laguna
- Río o cauce

PRINCIPAL ELEVACIÓN

- Cerro

CASCADA

- Salto Grande

CENOTE

- Miguel Colorado

CUEVA, GRUTA

- Grutas de Itzambit-Xunán

ECOSISTEMA

- Selva seca
- Selva húmeda
- Manglar

FALNA

- Tapir
- Jaguar
- Cocodrilo de pantano
- Delfín nariz de botella
- Tigrito
- Mono aullador
- Variado cola blanca
- Manatí

TURISMO

- PUNTO TURÍSTICO**
 1. Playa Bonita
 2. Champotón
 3. Malecón de San Francisco de Campeche
 4. Playa Boca del Río
 5. Bañadero popular Payucán
- PUEBLO MÁGICO**
- TURISMO DEPORTIVO**
 1. Ich Ha Lool Xaan, acuatismo
 2. El Remate, ecoturismo
 3. El Santuario del Sábalo, pesca deportiva

LOCALIDADES MÁS POBLADAS

- San Francisco de Campeche
- Ciudad del Carmen
- Champotón
- Escárcega
- Calkiní
- Dzitbalché
- Hecelchakán
- Candelaria
- Pomuch
- Seybaplaya

GOLFO DE MÉXICO

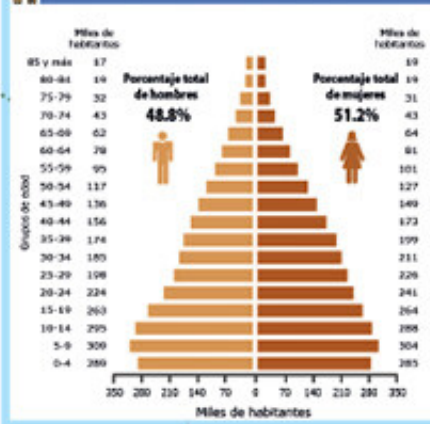
Chiapas



Capital: Tuxtla Gutiérrez
Extensión: 73 311.0 km², 3.7% del territorio nacional
Municipios: 124
Población: 5 543 828 habitantes, 4.4% del total del país



POBLACIÓN POR EDAD Y SEXO



LOCALIDADES MÁS POBLADAS

- Tuxtla Gutiérrez
- Tapachula de Córdova y Ordóñez
- San Cristóbal de las Casas
- Comitán de Domínguez
- Chiapa de Corzo
- Palenque
- Cintalapa de Figueroa
- Ocosingo
- Ocozacoautla de Espinosa
- Tonalá

PRINCIPALES ACTIVIDADES ECONÓMICAS

AGRÍCOLA	FLORICULTURA	PESQUERA	INDUSTRIAL
Café	Rosa, crisantemo y dahlia	Camaron	Extracción de ámbar
Maíz	PECUARIA	Mojama	
Plátano	Carne de bovino	Tiburón	FUENTES DE ENERGÍA HIDRÁULICA
Cacao	Lleche de bovino	Jaiba	1. Ángel Albino Corzo
Piña	Carna de porcino	MINERA	2. Nezahualcóyotl
Cacahuato	Carna de avia	Azúfro	3. Manuel Moreno Torres
	Miel		4. Dr. Belisario Domínguez

GENERAL

- ★ CAPITAL DEL ESTADO
- LÍMITE INTERNACIONAL
- LÍMITE ESTATAL
- 🏡 LOCALIDADES MÁS POBLADAS
- ✈️ AEROPUERTO INTERNACIONAL
- ✈️ Ángel Albino Corzo
- 🏠 PUERTO DE ALTURA
- 🏠 Chiapas

CULTURA

- MUSEO**
- Arqueológico del Soconusco
 - Arqueológico de Comitán
 - Regional de Chiapas
 - San Cristóbal de las Casas
 - Parador Santa María
 - De los Altos de Chiapas
 - Ex-Convento de Santo Domingo de Guzmán

SITIO ARQUEOLÓGICO

- Bonampak
- Palenque
- Yaxchán
- Toniná
- Tanam Puerto

SITIO HISTÓRICO

- Casa de Belisario Domínguez
- Casa de Ángel Albino Corzo
- Antiguo Convento de Santo Domingo
- Catedral de San Cristóbal de las Casas

NATURALEZA

- 🌿 ÁREA NATURAL PROTEGIDA
- 🌊 HIDROGRAFÍA
- Lago, laguna o presa
- Río perenne
- 🏔️ PRINCIPAL ELEVACIÓN
- V. volcán
- C. Cerro
- 🌊 CASCADA
- 1. B. Chiflón
- 2. Agua Azul
- 3. Misol Ha
- 4. B. Aguacero

CUEVA, GRUTA

- Grutas de Rancho Nuevo

BARRANCA, CAÑÓN

- Parque Ecológico Nacional Cañón del Sumidero

ECOSISTEMA

- Bosque templado
- Bosque húmedo
- Selva húmeda
- Parícutal
- Manglar

FALNA

- 🦉 Ardilla voladora
- 🦎 Murciélago
- 🐆 Caimán
- 🐉 Cocornilco
- 🦎 Lagarto
- 🐹 Nutria de río
- 🦉 Quetzal
- 🐆 Jaguar

TURISMO

PUNTO TURÍSTICO

- Zoológico Miguel Álvarez del Toro - Parque de la Marimba
- Centro Cultural Rosario Castellanos
- San Cristóbal de las Casas

POBLO MÁGICO

TURISMO DEPORTIVO

- Parque Rancho Nuevo, ecoturismo
- Parque al Arcotata, ecoturismo

Chihuahua




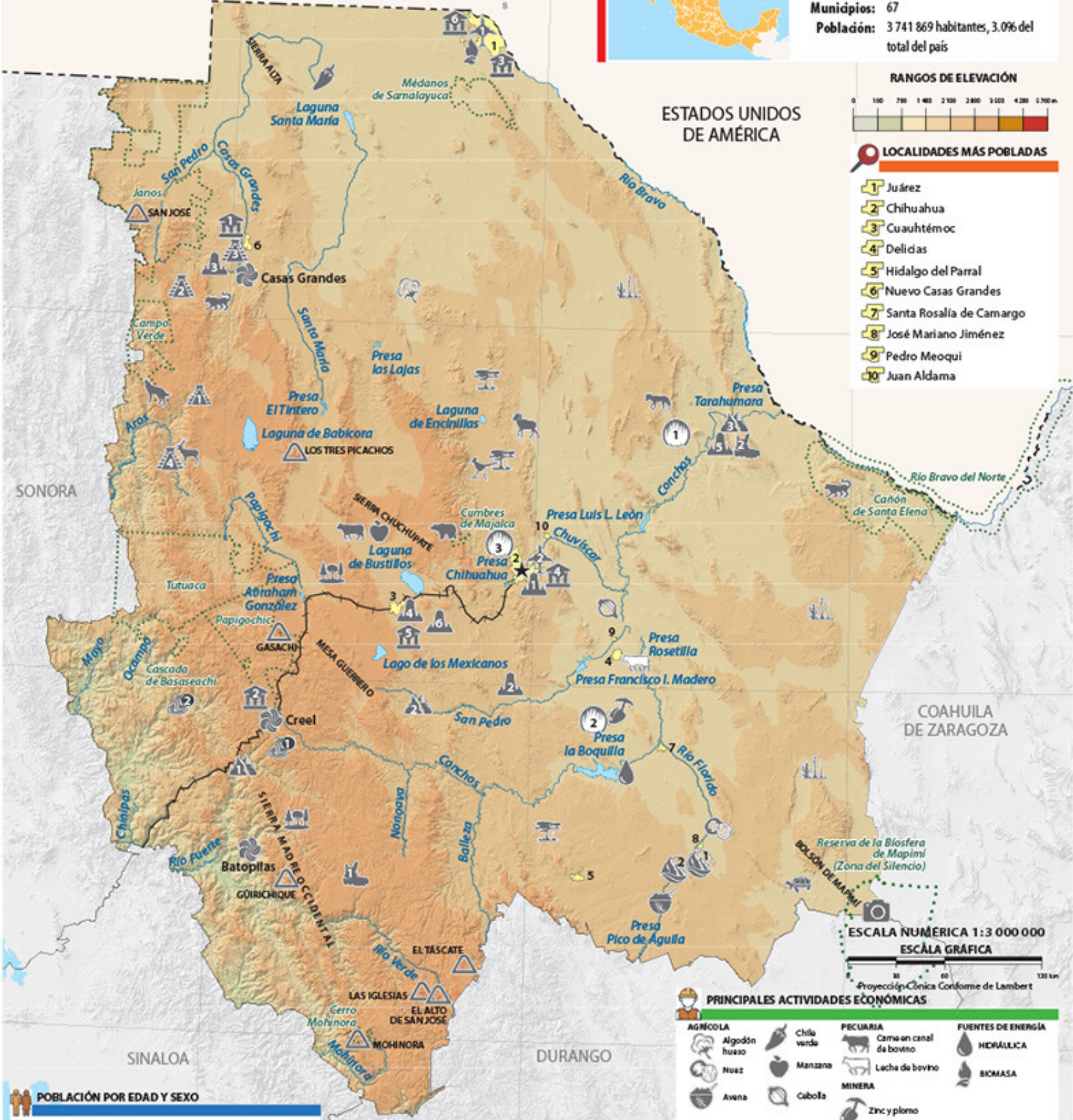
Capital: Chihuahua
Extensión: 247 412.6 km², 12.6% del territorio nacional
Municipios: 67
Población: 3 741 869 habitantes, 3.0% del total del país

RANGOS DE ELEVACIÓN



LOCALIDADES MÁS POBLADAS

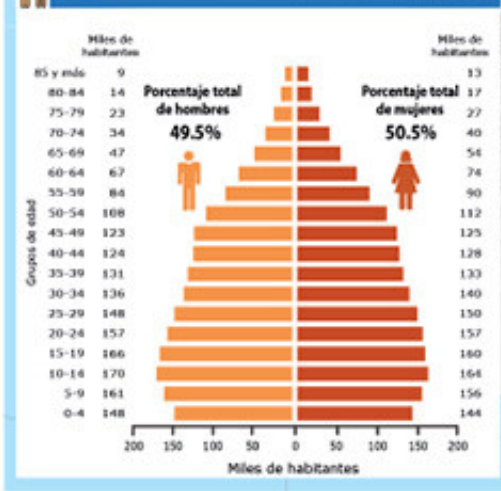
- 1 Juárez
- 2 Chihuahua
- 3 Cuauhtémoc
- 4 Delicias
- 5 Hidalgo del Parral
- 6 Nuevo Casas Grandes
- 7 Santa Rosalía de Camargo
- 8 José Mariano Jiménez
- 9 Pedro Meoqui
- 10 Juan Aldama



PRINCIPALES ACTIVIDADES ECONÓMICAS

AGRICOLA	Algodón huaso	Chilo verde	PECUARIA	Cama en canal de bovino	FUENTES DE ENERGÍA
	Nuez	Manzana		Lacha de bovino	HIDRÁULICA
	Awana	Caballo			BIOMASA
			MINERA		
				Zinc y plomo	

POBLACIÓN POR EDAD Y SEXO



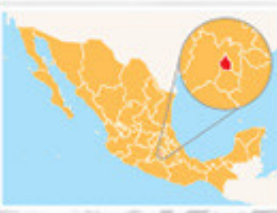
- GENERAL**
- ★ CAPITAL DEL ESTADO
 - LÍMITE INTERNACIONAL
 - LÍMITE ESTATAL
 - 🏠 LOCALIDADES MÁS POBLADAS
- INFRAESTRUCTURA**
- AEROPUERTO INTERNACIONAL**
1. Abraham González
 2. General Roberto Fiano Villalobos
- CULTURA**
- MUSEO**
1. De las Culturas del Norte
 2. Casa de los Artesanos del Estado de Chihuahua
 3. De Arte de Ciudad Juárez
 4. Histórico de la Revolución
 5. Histórico de Cuahuachi
 6. Histórico de Ciudad Juárez
 - Ex-Aduana Fronteriza

- SITIO ARQUEOLÓGICO**
1. Las Cuarenta Casas
 2. Cueva de la Olla
 3. Paquimé
 4. Cueva Grande
- SITIO HISTÓRICO**
1. Palacio de Gobierno
 2. Misión del Santo Ángel Custodio de Setévo
 3. Centro Histórico de Casas Grandes
 4. Ex-Hacienda de Bustillos
 5. Cuchillo Parado
 6. Plaza de toros
- NATURALEZA**
- ÁREA NATURAL PROTEGIDA**
- HIDROGRAFÍA**
- 🌊 Río perenne
 - 🌊 Lago, laguna o presa
- PRINCIPAL ELEVACIÓN**
- 🏔️ Cerro

- CUEVA, GRUTA**
1. De Coyame
 2. De los Espadés
 3. De Nombre de Dios
- CASCADA**
1. Cusirare
 2. De Basaseachi
- MANANTIAL**
1. Ojo de Dolores
 2. Ojo de Abotorico
- BARRANCA, CAÑÓN**
1. Del Cobre
 2. De Namurachi
 3. Del Pagüts
- ECOSISTEMA**
- 🌳 Matamal
 - 🌳 Bosque templado
 - 🌳 Pastizal

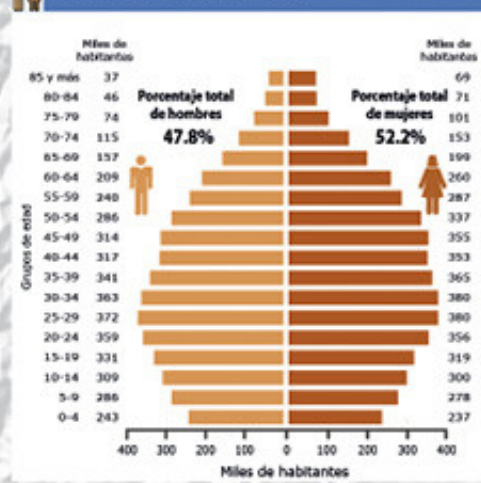
- FAUNA**
- 🐾 Coyote
 - 🐾 Tortuga del desierto
 - 🐾 Venado cola blanca
 - 🐾 Oso negro
 - 🐾 Puma
 - 🐾 Correcaminos
 - 🐾 Borrego cimarrón
 - 🐾 Lobo mexicano
- TURISMO**
- PUNTO TURÍSTICO**
- 📷 Zona del Silfido
 - 🚆 Ruta del tren Chihuahua - Pacífico
- PUEBLO MÁGICO**
- 🏡
- TURISMO DEPORTIVO**
1. Ultra Maratón de los Cañones, turismo de aventura
 2. Cañón del Pagüts, turismo de aventura

Ciudad de México



Capital de los Estados Unidos Mexicanos
 Extensión: 1 494.3 km², 0.1% del territorio nacional
 Demarcaciones territoriales: 16
 Población: 9 209 944 habitantes, 7.3% del total del país

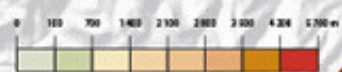
POBLACIÓN POR EDAD Y SEXO



DEMARCAIONES MÁS POBLADAS

- 1 Iztapalapa
- 2 Gustavo A. Madero
- 3 Álvaro Obregón
- 4 Tlalpan
- 5 Coyoacán
- 6 Cuauhtémoc
- 7 Venustiano Carranza
- 8 Xochimilco
- 9 Benito Juárez
- 10 Azcapotzalco

RANGOS DE ELEVACIÓN



ESCALA NUMÉRICA 1:250 000
 ESCALA GRÁFICA



PRINCIPALES ACTIVIDADES ECONÓMICAS

- | AGRICOLA | FLORICULTURA |
|----------|----------------------|
| Romano | 1. Nochebuena |
| Nopal | 2. Rosa |
| Amaranto | PECUARIA |
| Espinaca | Cama de ovino |
| | COMERCIO Y SERVICIOS |
| | Comercio |

GENERAL

- LÍMITE ESTATAL
- DEMARCAIONES MÁS POBLADAS
- INFRAESTRUCTURA
 - AEROPUERTO INTERNACIONAL Benito Juárez
- SITO ARQUEOLÓGICO
 1. Templo Mayor
 2. Cuicuilco
- SITO HISTÓRICO
 1. Palacio Nacional
 2. Catedral Metropolitana
 3. Antigua Colegio de San Ildefonso
 4. Es-Comvento de Churubusco
 5. Plaza de las Tres Culturas
 6. Molino del Rey

CULTURA

- Monumento a la Revolución
- Palacio de Bellas Artes
- Ciudad Universitaria
- MUSEO
 1. Nacional de Antropología
 2. Tamayo Arte Contemporáneo
 3. De Arte Moderno
 4. Nacional de Arte
 5. Nacional de la Estampa
 6. Nacional de San Carlos
 7. Casa Estudio Diego Rivera y Frida Kahlo
 8. Museo Nacional de Historia

NATURALEZA

- ÁREA NATURAL PROTEGIDA

HIDROGRAFÍA

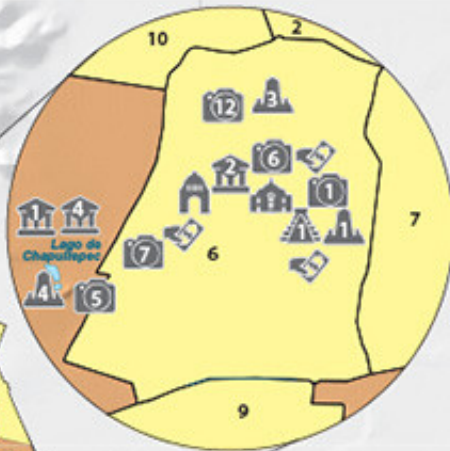
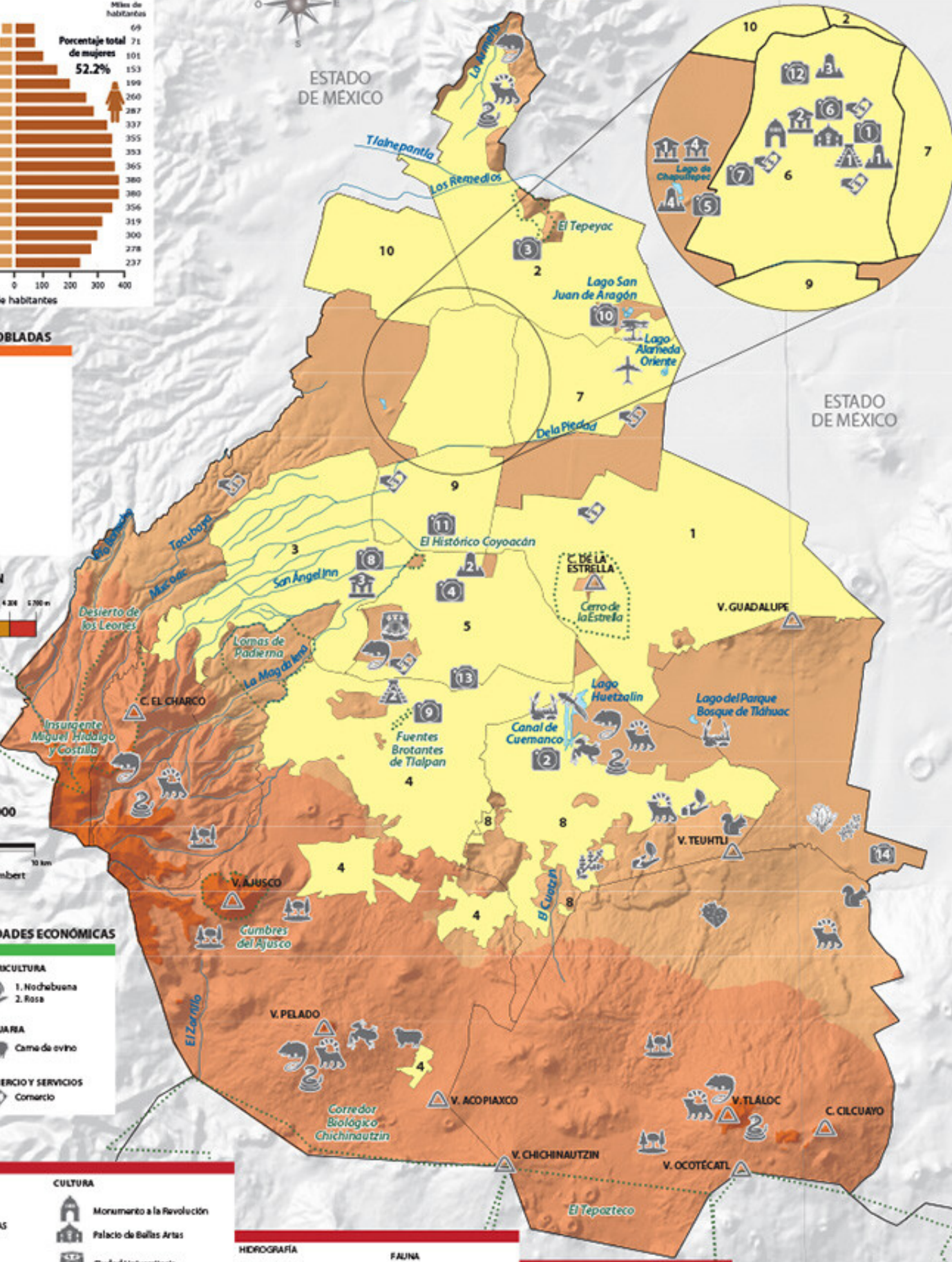
- Lago
- Río perenne
- PRINCIPAL ELEVACIÓN
 - C. Cerro
 - V. Volcán
- ECOSISTEMA
 - Bosque templado
 - Humedales
 - Pantanal

FAUNA

- Vibora de cascabel
- Farita fegora del Pedregal
- Ardilla
- Tlacuache
- Ajolote
- Cacomitile

TURISMO

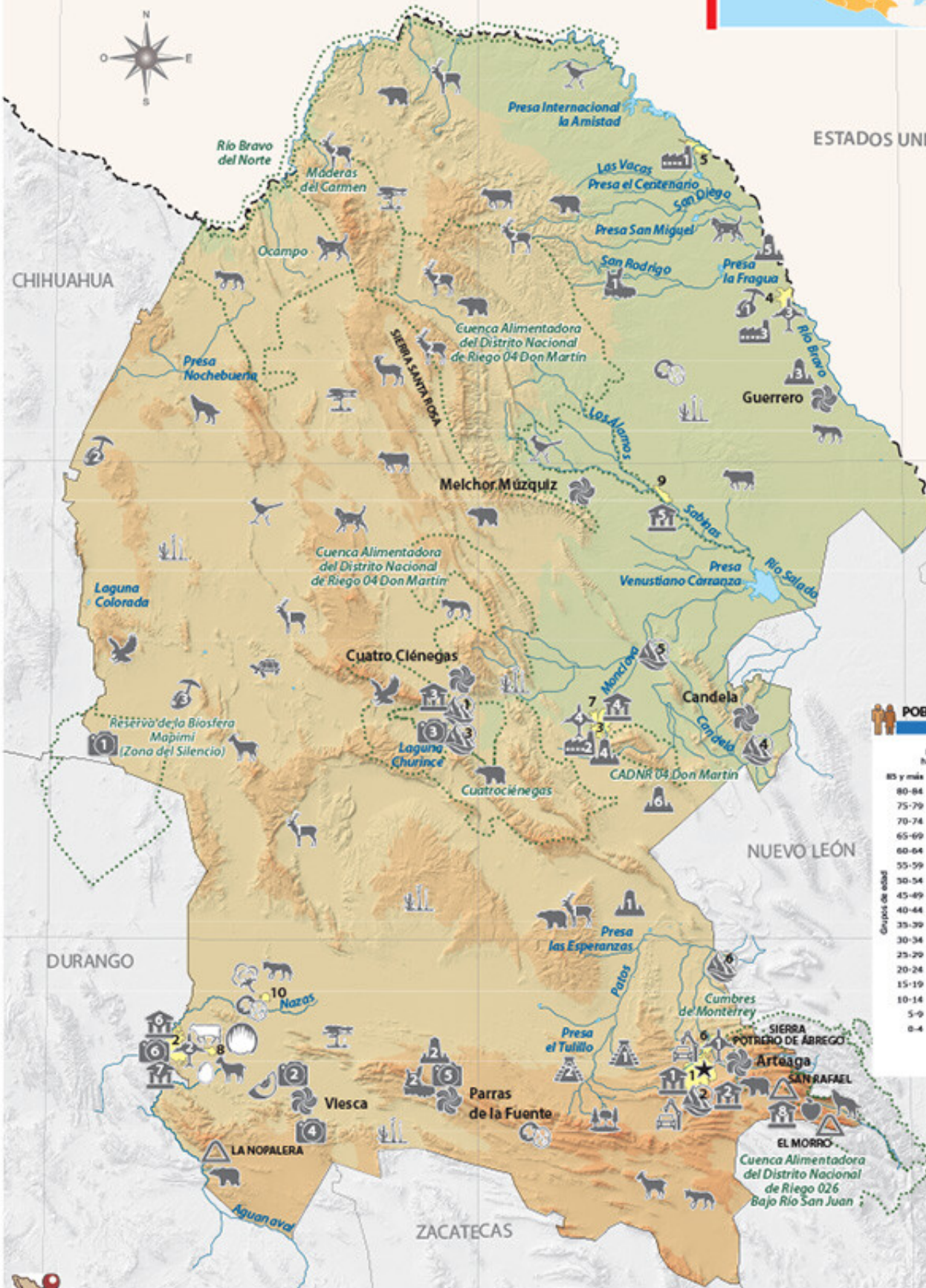
- PUNTO TURÍSTICO
 1. Centro Histórico de la Ciudad de México
 2. Xochimilco
 3. Basílica de Guadalupe
 4. Centro de Coyoacán
 5. Complejo Cultural Chapultepec
 6. Plaza Garibaldi
 7. Angel de la Independencia
 8. San Ángel
 9. Centro de Tlalpan
 10. Zoológico de San Juan de Aragón
 11. Cinéteca Nacional
 12. Biblioteca Vasconcelos
 13. Estadio Azteca
 14. San Andrés Bixtlic



Coahuila de Zaragoza



Capital: Saltillo
Extensión: 151 594.8 km², 7.7% del territorio nacional
Municipios: 38
Población: 3 146 771 habitantes, 2.5% del total del país

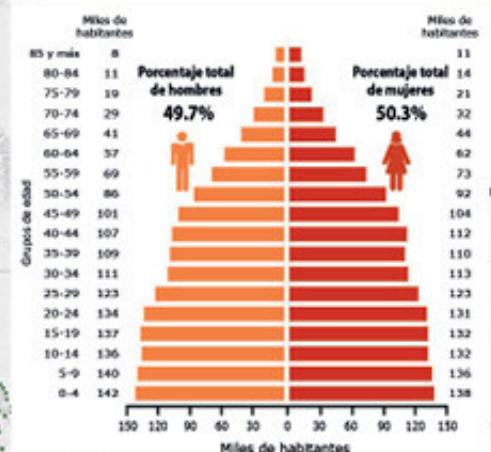


LOCALIDADES MÁS POBLADAS

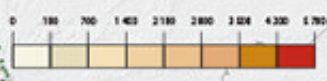
- 1 Saltillo
- 2 Torreón
- 3 Monclova
- 4 Piedras Negras
- 5 Ciudad Acuña
- 6 Ramos Arizpe
- 7 Frontera
- 8 Matamoros
- 9 Sabinas
- 10 San Pedro

ESCALA NUMÉRICA 1:2 600 000
ESCALA GRÁFICA
 Proyección Cónica Conforme de Lambert

POBLACIÓN POR EDAD Y SEXO



RANGOS DE ELEVACIÓN



PRINCIPALES ACTIVIDADES ECONÓMICAS

- | | | |
|---------------------|-------------------------|----------------------------|
| AGROPECUARIO | AGROPECUARIO | AGROPECUARIO |
| Algodón | Miñón | Nuez |
| Manzana | Cama en canal de bovino | Lacha de bovino |
| Cama de caprino | Huevo | |
| MINERA | INDUSTRIAL | INDUSTRIAL |
| 1. Carbón | Automotriz | 1. Maquiladora Electrónica |
| 2. Hierro | | 2. Matalunga |
| 3. Sulfatos | | 3. Carvaca |

- GENERAL**
- ★ CAPITAL DEL ESTADO
 - LÍMITE INTERNACIONAL
 - LÍMITE ESTATAL
 - 📍 LOCALIDADES MÁS POBLADAS
- INFRAESTRUCTURA**
- AEROPUERTO INTERNACIONAL**
1. Plan de Guadalupe
 2. Francisco Sarabia
 3. De Piedras Negras
 4. Venustiano Carranza
- CULTURA**
- MUSEO**
1. De las Aves
 2. Dal Odiario
 3. Casa Venustiano Carranza
 4. De Coahuila y Texas
 5. Francisco Villa
 6. Casa del Carro
 7. Regional de la Laguna
 8. De las Momias

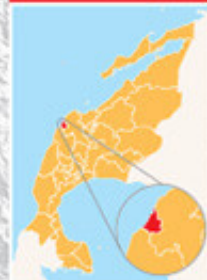
- SITIO ARQUEOLÓGICO**
1. Zona de fósiles de dinosaurios Rincón Colorado
 2. Petroglifos Valle de Nariaguá
- SITIO HISTÓRICO**
1. Hacienda Plan de Guadalupe
 2. Ex-Hacienda Casa Madero
 3. Misión de San Bernardo
 4. Estación de Ferrocarril
 5. Presidio de Monclova Viejo
 6. Fraccionamiento de Miguel Hidalgo y Costilla
- NATURALEZA**
- ÁREA NATURAL PROTEGIDA**
- HIDROGRAFÍA**
- Lago, laguna o presa
 - Río perenne
 - Río intermitente
- PRINCIPAL ELEVACIÓN**
- Carro

- MANANTIAL**
1. Pozo Azul
 2. Cañón de San Lorenzo
 3. Pozo de la Bacera
 4. Bañadero las Lajas
 5. Aguas Termales Estación Hermanas
 6. Las Tarmas de San Joaquín
- CUEVA, GRUTA**
- Del Tabaco
- ECOSISTEMA**
- Matamal
 - Bosque templado
 - Pastizal

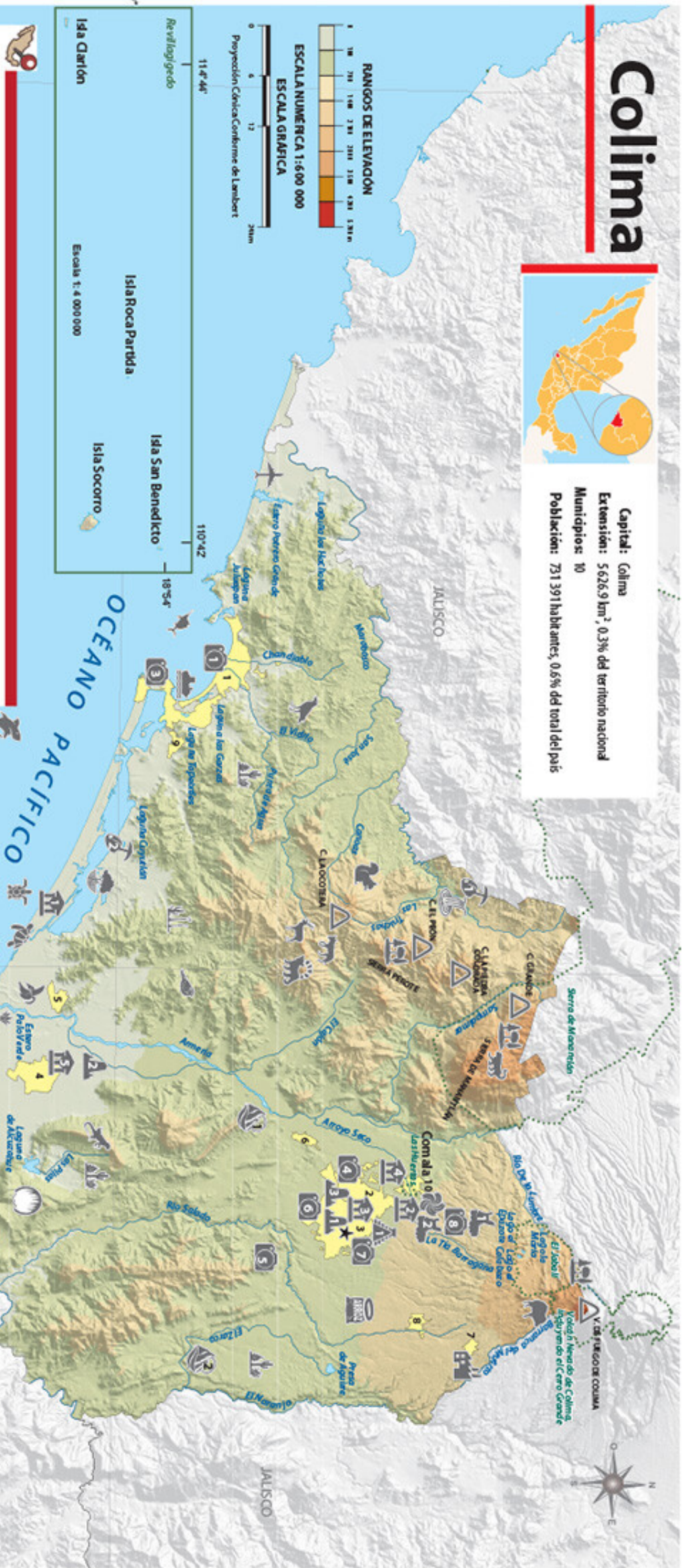
- FAUNA**
- Coyote
 - Lobo mexicano
 - Oso negro
 - Gato montés
 - Águila real
 - 1. Venado bura
 - 2. Venado cola blanca
 - Barrancho
 - Conecaminos
 - Tortuga del desierto

- TURISMO**
- PUNTO TURÍSTICO**
1. Zona del Silencio
 2. Cumbres de Bilsao
 3. Cumbres de Ylaco
 4. Procesión del Silencio
 5. Cerro Iglesia del Santo Madero
 6. Vacuados Cerro de las Noas
- PUEBLO MÁGICO**
- TURISMO DEPORTIVO**
1. Rancho Tío Tacho, ecoturismo
 2. Cañón de la Lima, turismo de aventura

Colima



Capital: Colima
 Extensión: 5 626,9 km², 0,3% del territorio nacional
 Municipios: 10
 Población: 731 391 habitantes, 0,6% del total del país



RANGOS DE ELEVACIÓN

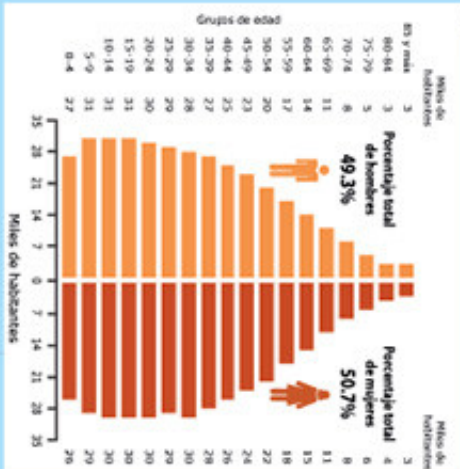
ESCALA NUMÉRICA 1:600 000
 ESCALA GRÁFICA



Proyección Cónica Conforme de Lambert

GENERAL <ul style="list-style-type: none"> ★ CAPITAL DEL ESTADO — LIMITE ESTATAL 📍 LOCALIDADES MÁS POCULADAS ✈️ INFRAESTRUCTURA ✈️ AEROPUERTO INTERNACIONAL ✈️ Playa de Oro ✈️ PUERTO DE AVIACIÓN ✈️ De Marzanillo 🏛️ CULTURA 1. De la Sal 2. Universidad Alfonso Reyes 3. Regional de Historia de Colima 4. Nacional de Historia Sebastián Cabán 5. Arqueológico Cuatimoc 	SITIO HISTÓRICO <ul style="list-style-type: none"> 1. Palacio de Gobierno 2. Museo de Cerámicas 	SITIO ARQUEOLÓGICO <ul style="list-style-type: none"> 1. El Quinal -La Campaña 	PRINCIPAL ELEVACIÓN <ul style="list-style-type: none"> ▲ Volcán C Oco 	MANTENIMIENTO <ul style="list-style-type: none"> 1. Los Amaltes 2. El Herradero 	ECOSISTEMA <ul style="list-style-type: none"> Boaque templado Seda seca Manglar Matorral Fauna Venado Cacomiltla 	TURISMO <ul style="list-style-type: none"> 📷 PUNTO TURÍSTICO 1. Zona verídica de Marzanillo 2. Mezquita (Batería el Peñal) 3. Escultura del Pez Vela 4. Zoológico Centro de Conservación de la Vida Silvestre Grifeo Álvarez 5. Mirador la Cumbre 6. Monumento Rey Colimán 7. La piedra lista 8. Zona Mágica 🏊 PAISAJE DEPORTIVO 1. Carrizillos ecoturismo 2. Ecoparque Nogueras, ecoturismo
--	---	--	--	---	---	--

POBLACIÓN POR EDAD Y SEXO



PRINCIPALES ACTIVIDADES ECONÓMICAS

AGRICOLA <ul style="list-style-type: none"> 🌾 Limón 🌾 Papaya 🌾 Maíz 🌾 Frijol 🌾 Arroz 	AGROINDUSTRIAL <ul style="list-style-type: none"> 🏭 Ingreso azucarero 	MINERÍA <ul style="list-style-type: none"> 1. Hierro 2. Sal
---	--	---

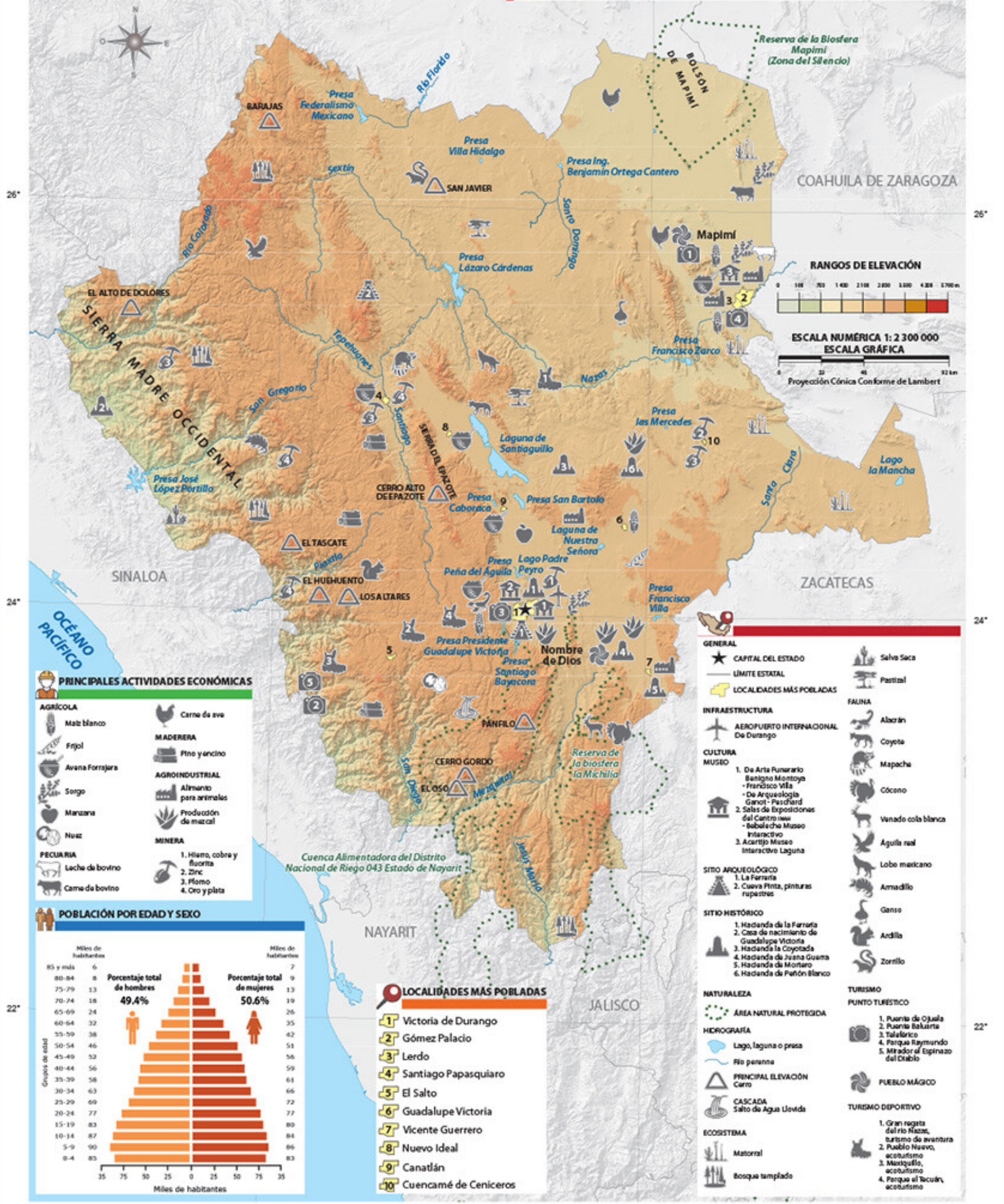
LOCALIDADES MÁS POCULADAS

1. Manzanillo
2. Ciudad de Villa de Álvarez
3. Colima
4. Tecoman
5. Ciudad de Armería
6. Coquimatlán
7. Quisería
8. Cuautlémoc
9. El Cidomo
10. Comala

Durango

CHIHUAHUA

Capital: Victoria de Durango
Extensión: 123 364.0 km², 6.3% del territorio nacional
Municipios: 39
Población: 1 832 650 habitantes, 1.5% del total del país



PRINCIPALES ACTIVIDADES ECONÓMICAS

AGRÍCOLA	Maíz blanco	Carne de ave
	Frijol	MADERERA
	Avena Forrajera	Pino yarcino
	Sorgo	AGROINDUSTRIAL
	Manzana	Alimento para animales
	Nuez	Producción de mazal
PECUARIA	Leche de bovino	MINERA
	Carne de bovino	1. Hierro, cobre y fluorita
		2. Zinc
		3. Plomo
		4. Oro y plata



- LOCALIDADES MÁS POBLADAS**
- 1 Victoria de Durango
 - 2 Gómez Palacio
 - 3 Lerdo
 - 4 Santiago Papasquiaro
 - 5 El Salto
 - 6 Guadalupe Victoria
 - 7 Vicente Guerrero
 - 8 Nuevo Ideal
 - 9 Canatlán
 - 10 Cuencamé de Ceniceros

GENERAL

- ★ CAPITAL DEL ESTADO
- LÍMITE ESTATAL
- 📍 LOCALIDADES MÁS POBLADAS

INFRAESTRUCTURA

- ✈️ AEROPUERTO INTERNACIONAL De Durango

CULTURA

MUSEO

1. De Artes Plásticas Benigno Montoya - Francisco Villa - De Arqueología Ganot - Paschard
2. Salas de Exposiciones del Centro nuevo - Bobalecho Museo Interactivo
3. Acartijo Museo Interactivo Laguna

SITIO ARQUEOLÓGICO

1. La Ferreria
2. Cueva Pintada, pinturas rupestres

SITIO HISTÓRICO

1. Hacienda de la Ferreria
2. Casa de nacimiento de Guadalupe Victoria
3. Hacienda de la Coyotada
4. Hacienda de Juana Guerra
5. Hacienda de Montero
6. Hacienda de Peñón Blanco

NATURALEZA

- 🌿 ÁREA NATURAL PROTEGIDA

HIDROGRAFÍA

- 🌊 Lago, laguna o presa
- 🌊 Río perenne

PRINCIPAL ELEVACIÓN

- 🏔️ Cerro

CASCADA

- 🌊 Salto de Agua Llevada

ECOSISTEMA

- 🌿 Matorral
- 🌳 Bosque templado

TURISMO

PUNTO TURÍSTICO

1. Puente de Ojuela
2. Puente Bakurite
3. Talaférico
4. Parque Raymundo
5. Mirador al Espinazo del Diablo

PUEBLO MÁGICO

TURISMO DEPORTIVO

1. Gran roseta del río Nazas, turismo de aventura
2. Pueblo Nuevo, acuatismo
3. Mexquillo, acuatismo
4. Parque al Tecuán, acuatismo

FAUNA

- 🐅 Abarín
- 🐺 Coyote
- 🐼 Mapacha
- 🐿️ Cóceno
- 🦌 Venado cola blanca
- 🦅 Águila real
- 🐺 Lobo mexicano
- 🐿️ Armadillo
- 🐱 Gato
- 🐛 Ardilla
- 🦉 Zorrillo

Selva Seca

Pantanal

Estado de México



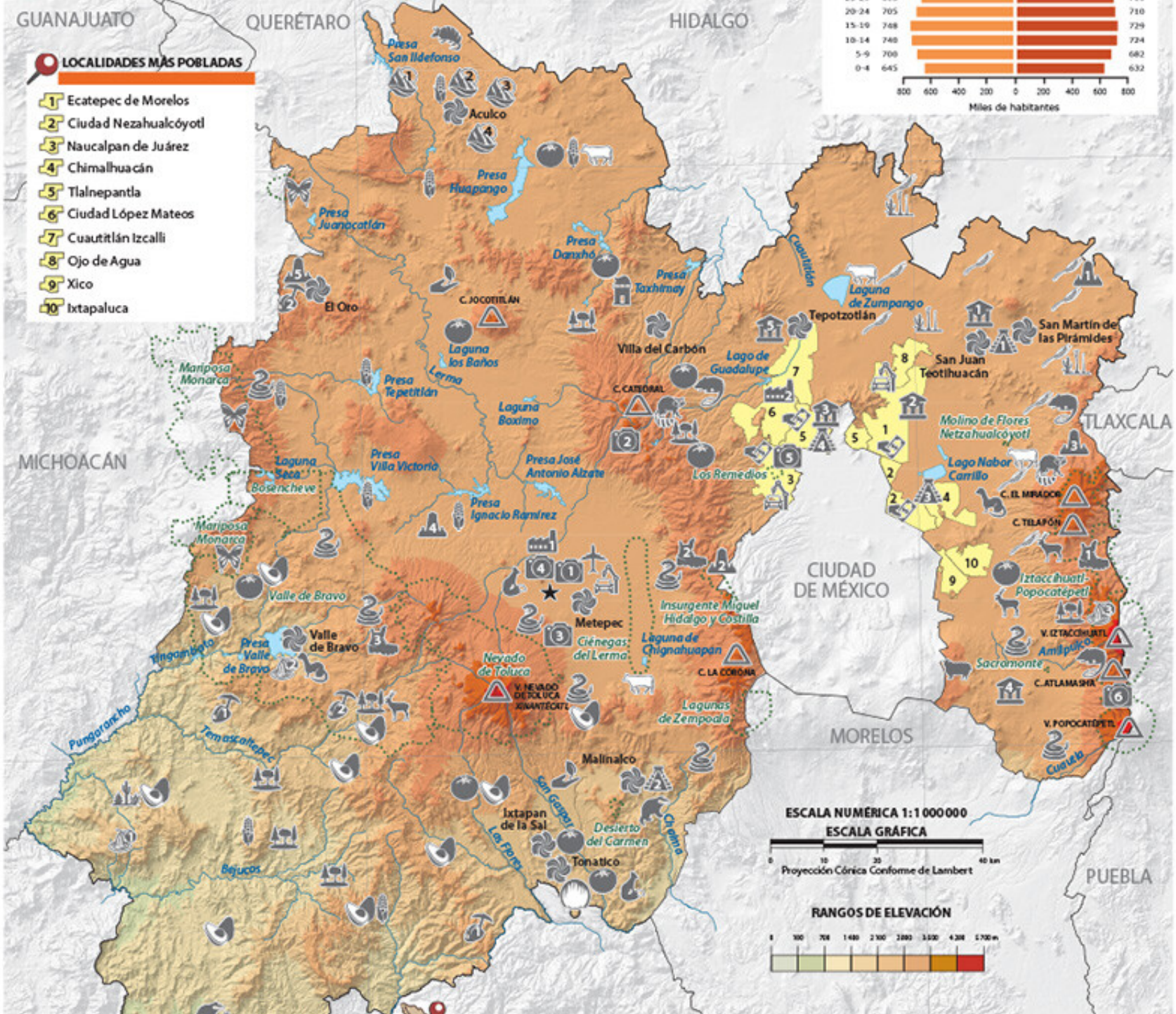


Capital: Toluca de Lerdo
Extensión: 22 351.8 km², 1.1% del territorio nacional
Municipios: 125
Población: 16 992 418 habitantes, 13.5% del total del país



LOCALIDADES MÁS POBLADAS

- 1 Ecatepec de Morelos
- 2 Ciudad Nezahualcóyotl
- 3 Naucalpan de Juárez
- 4 Chimalhuacán
- 5 Tlalnepantla
- 6 Ciudad López Mateos
- 7 Cuautitlán Izcalli
- 8 Ojo de Agua
- 9 Xico
- 10 Ixtapaluca



PRINCIPALES ACTIVIDADES ECONÓMICAS

- | | |
|---------------------|-----------------------------------|
| AGRÍCOLA | PECUARIA |
| Maz blanco | Carne de ovino |
| Cabada | Leche de bovino |
| Tomate rojo | MINERA |
| Agucate | 1. Oro, plata, plomo, cobre, zinc |
| FLORICULTURA | 2. Oro y plata |
| Rosa | INDUSTRIAL |
| Gerbera | Automotriz |
| | 1. Alimentos y bebidas |
| | 2. Químicos - farmacéuticos |
| | COMERCIO Y SERVICIOS |
| | Comercio al por menor |

- | | | | |
|---|----------------------------------|------------------------------|---|
| GENERAL | SITIO ARQUEOLÓGICO | MANANTIAL | VIBORA DE CASABOL |
| ★ CAPITAL DEL ESTADO | 1. Teotihuacán | 1. Maestrato | Mapache |
| — LÍMITE ESTATAL | 2. Malinalco | 2. B. Agua Prieta Santa Anna | Tlacuache |
| ● LOCALIDADES MÁS POBLADAS | 3. Cuauhchinchan | 3. La Esperanza | Tajón, tlacoyote |
| INFRAESTRUCTURA | 4. Los Pochotás | 4. Bartancas | Comadreja |
| ✈ AEROPUERTO INTERNACIONAL | 5. Tenayuca | GRUJA | TURISMO |
| De Toluca | SITIO HISTÓRICO | De la Estrella | PUNTO TURÍSTICO |
| OBSERVATORIO | 1. Acueducto del Padre Tamboque | ECOSISTEMA | 1. Cosmóvitul Jardín Botánico |
| Las Ánimas, Chapa de Mota | 2. Monte de las Cruces | Bosque templado | 2. Centro Cerebral Otonil |
| CULTURA | 3. Hacienda Molino de las Flores | Salva seca | 3. Zoológico de Zacango |
| MUSEO | 4. Hacienda La Genta | Matorral | 4. Teatro Morelos |
| 1. De los Muralles Teotihuacanos | 5. Teatro Juárez | FALUNA | 5. Torres de Santalita |
| 2. Centro Comunitario Ecatepec Casa de Morelos | NATURALEZA | Mariposa monarca | 6. Paso de Cortés |
| 3. De la Escultura Mexica Eusebio Dávalos Hurtado | ÁREA NATURAL PROTEGIDA | Zona gris | PUEBLO MÁGICO |
| 4. Casa de Sor Juana Inés de la Cruz | HIDROGRAFÍA | Venado cola blanca | TURISMO DEPORTIVO |
| 5. Nacional del Virreinato | Río perenne | Armadillo | 1. Parque Nacional Iztla - Popo, ecoturismo |
| | Lago, laguna o presa | | 2. La Marquessa, ecoturismo |
| | PRINCIPAL ELEVACIÓN | | 3. Corral de Piedra, ecoturismo |
| | 1. Volcán | | |
| | 2. Cerro | | |
| | CASCADA | | |
| | 1. Nandayutla | | |
| | 2. El Molino | | |
| | 3. Valo de Novia | | |
| | 4. Refugio del Salto | | |
| | 5. Congalada de Tlalmanalco | | |

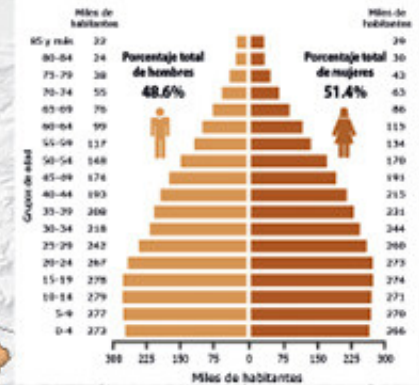
Guanajuato

Capital: Guanajuato
Extensión: 30 606.7 km², 1.6% del territorio nacional
Municipios: 46
Población: 6 166 934 habitantes, 4.9% del total del país

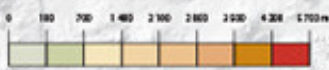
LOCALIDADES MÁS POBLADAS

- 1 León de los Aldama
- 2 Irapuato
- 3 Celaya
- 4 Salamanca
- 5 Silao de la Victoria
- 6 San Francisco del Rincón
- 7 Valle de Santiago
- 8 San Miguel de Allende
- 9 Guanajuato
- 10 Cortazar

POBLACIÓN POR EDAD Y SEXO



RANGOS DE ELEVACIÓN



ESCALA NUMÉRICA 1:1 200 000

ESCALA GRÁFICA



Proyección Cónica Conforme de Lambert

GENERAL

- ★ CAPITAL DEL ESTADO
- LIMITE ESTATAL
- LOCALIDADES MÁS POBLADAS
- INFRAESTRUCTURA
 - AEROPUERTO INTERNACIONAL Del Bajío
 - OBSERVATORIO La Azotea
- CULTURA
 - MUSEO
 1. Regional de Guanajuato, La Alhóndiga de Granaditas - De Historia de Mineral de Pozos
 2. De Arte e Historia de Guanajuato - Centro de Ciencias Explora
 3. Centro Interactivo de Ciencia y Tecnología La Nave
 4. José y Tomás Chávez Morado - Del Automóvil en Guanajuato
 5. De la Ciudad Francisco Craxo Muñoz
 6. De la Ciudad de Irapuato
 7. De la Independencia Nacional - Casa Museo José Alfredo Jiménez
 8. Casa del Mayorazgo de la Canal - La Esquina, Museo del Juguetes Popular

- 9. Ferrocarrilero José Cardozo Téllez - Waldemar Juárez
- SITIO ARQUEOLÓGICO
 1. El Cópore
 2. Cañada de la Virgen
 3. Paredes
 4. Plazuelas
 5. Arroyo Saco
- SITIO HISTÓRICO
 1. Hacienda Corralejo
 2. Minas adyacentes a la ciudad de Guanajuato
 3. Teatro Juárez
 4. Ciudad Protectora de San Miguel
 5. Santuario de Jesús Nazareno de Atotonilco
 6. Ex-Hacienda Jaral de Benitos
 7. Ex-Convento Agustino de Fray Juan de Sahagún
 8. Casa del Dr. José María Luis Mora
 9. Curato de Dolores
 10. Ex-Convento Agustino de San Pablo
 11. Casa de Allende
 12. Casa de Hidalgo, La Francis Chiquita
- PATRIMONIO DE LA HUMANIDAD

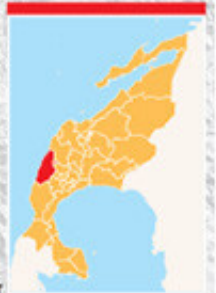
NATURALEZA

- HIDROGRAFÍA
 - ÁREA NATURAL PROTEGIDA
 - Lago, laguna o presa
 - Río perenne
 - PRINCIPAL ELEVACIÓN Cerro
- ECOSISTEMA
 - Matrinal
 - Pastizal
 - Bosque templado
 - Salva seca
- FAUNA
 - Tlacuacha
 - Zorra
 - Zorrillo
 - Tuzo
 - Pájaro carpintero
 - Tajón
 - Venado cola blanca
 - Armadillo
 - Gato montés
 - Vibora de cascabel
 - Vibora coralillo
 - Vibora chinonera
- TURISMO
 - PUNTO TURÍSTICO
 1. Las Siete Luces
 2. Parque Metropolitano de León
 3. Monumento al Pipila
 4. Museo de las Memorias de Guanajuato
 - PELLEJO MÁGICO
 - TURISMO DEPORTIVO
 - Parque San Luis de los Agustinos, ecoturismo

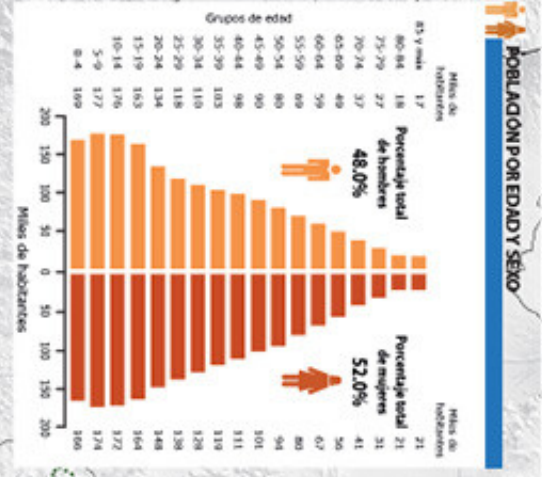
PRINCIPALES ACTIVIDADES ECONÓMICAS

- AGRÍCOLA
 - Agave
 - Fresa
 - Brécol
 - Espinaca
 - Ajo
 - Lechuga
- PECUARIA
 - Lucha de bovino
 - Carna de porcino
 - Carna de ave
 - Huevo
 - Carna de ovino
- MINERA
 - Oro y plata
- INDUSTRIAL
 - Automotriz
 - Vinícola
 - 1. Calzado
 - 2. Refinaria
 - 3. Textil

Guerrero



Capital: Chilpancingo de los Bravo
Extensión: 63 595,9 km², 3,2% del territorio nacional
Municipios: 81
Población: 3 540 686 habitantes, 2,8% del total del país



- ### LOCALIDADES MAS POBLADAS
1. Acapulco de Juárez
 2. Chilpancingo de los Bravo
 3. Iguala de la Independencia
 4. Zihuatanejo
 5. Tlapa de Comonfort
 6. Taxco de Alarcón
 7. Chilapa de Álvarez
 8. Zumpango del Río
 9. Omatepec
 10. Ciudad Amatlan

GENERAL

CAPITAL DEL ESTADO: Chilpancingo de los Bravo

LOCALIDADES: Acapulco de Juárez, Chilpancingo de los Bravo, Iguala de la Independencia, Zihuatanejo, Tlapa de Comonfort, Taxco de Alarcón, Chilapa de Álvarez, Zumpango del Río, Omatepec, Ciudad Amatlan.

PRINCIPALES RIBERANCALES: General Juan N. Álvarez, De Veracruz, Zihuatanejo.

PUERTO DE ALTURA: Tenhuacán, Acapulco.

CULTURA: 1. Región de Guerrero, 2. Cultura prehispánica, 3. Fiesta de la Virgen Guadalupe, 4. Quilombo, 5. Tumbado de Cuahuatlihuac.

SIMBOLOGIA: 1. Cuahuatlihuac, 2. Tumbado de Cuahuatlihuac, 3. Huasteco, 4. La Ogrina, 5. Tumbado de Cuahuatlihuac, 6. Kichuapán.

SITIO HISTORICO

1. Monumento a los Conquistadores, 2. Casa de don Juan de Alarcón, 3. Templo de San Francisco, 4. Casa de don Juan de Alarcón, 5. Casa de don Juan de Alarcón.

NATURALEZA: 1. Reserva de la Biosfera, 2. Reserva de la Biosfera, 3. Reserva de la Biosfera, 4. Reserva de la Biosfera, 5. Reserva de la Biosfera.

FAUNA: 1. Águila real, 2. Águila real, 3. Águila real, 4. Águila real, 5. Águila real.

FLORA: 1. Árbol de la vida, 2. Árbol de la vida, 3. Árbol de la vida, 4. Árbol de la vida, 5. Árbol de la vida.

AGRICULTURA: 1. Maíz, 2. Maíz, 3. Maíz, 4. Maíz, 5. Maíz.

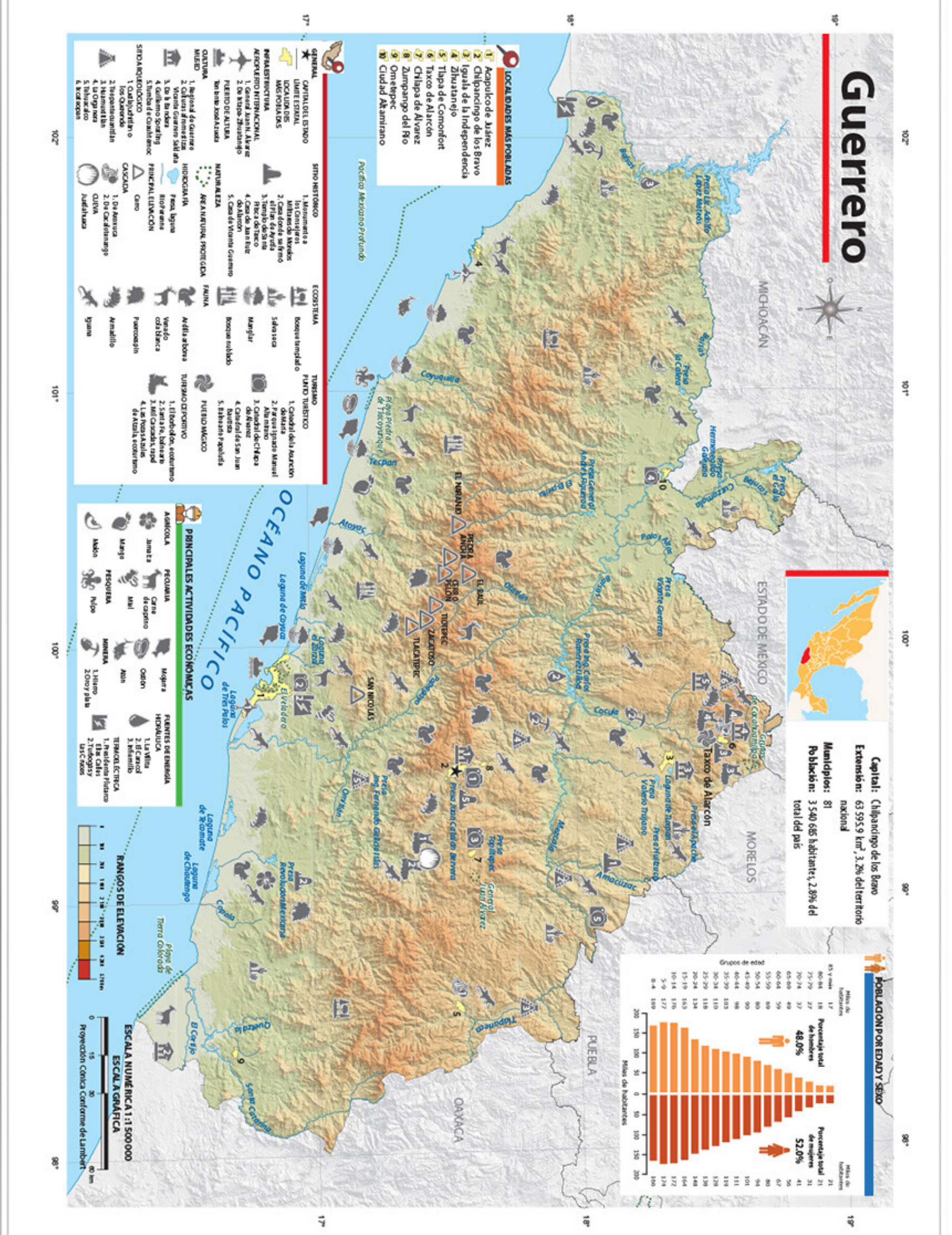
PECUARIO: 1. Ganado vacuno, 2. Ganado vacuno, 3. Ganado vacuno, 4. Ganado vacuno, 5. Ganado vacuno.

MINERIA: 1. Plata, 2. Plata, 3. Plata, 4. Plata, 5. Plata.

ENERGIA: 1. Hidroeléctrica, 2. Hidroeléctrica, 3. Hidroeléctrica, 4. Hidroeléctrica, 5. Hidroeléctrica.

PRINCIPALES ACTIVIDADES ECONÓMICAS

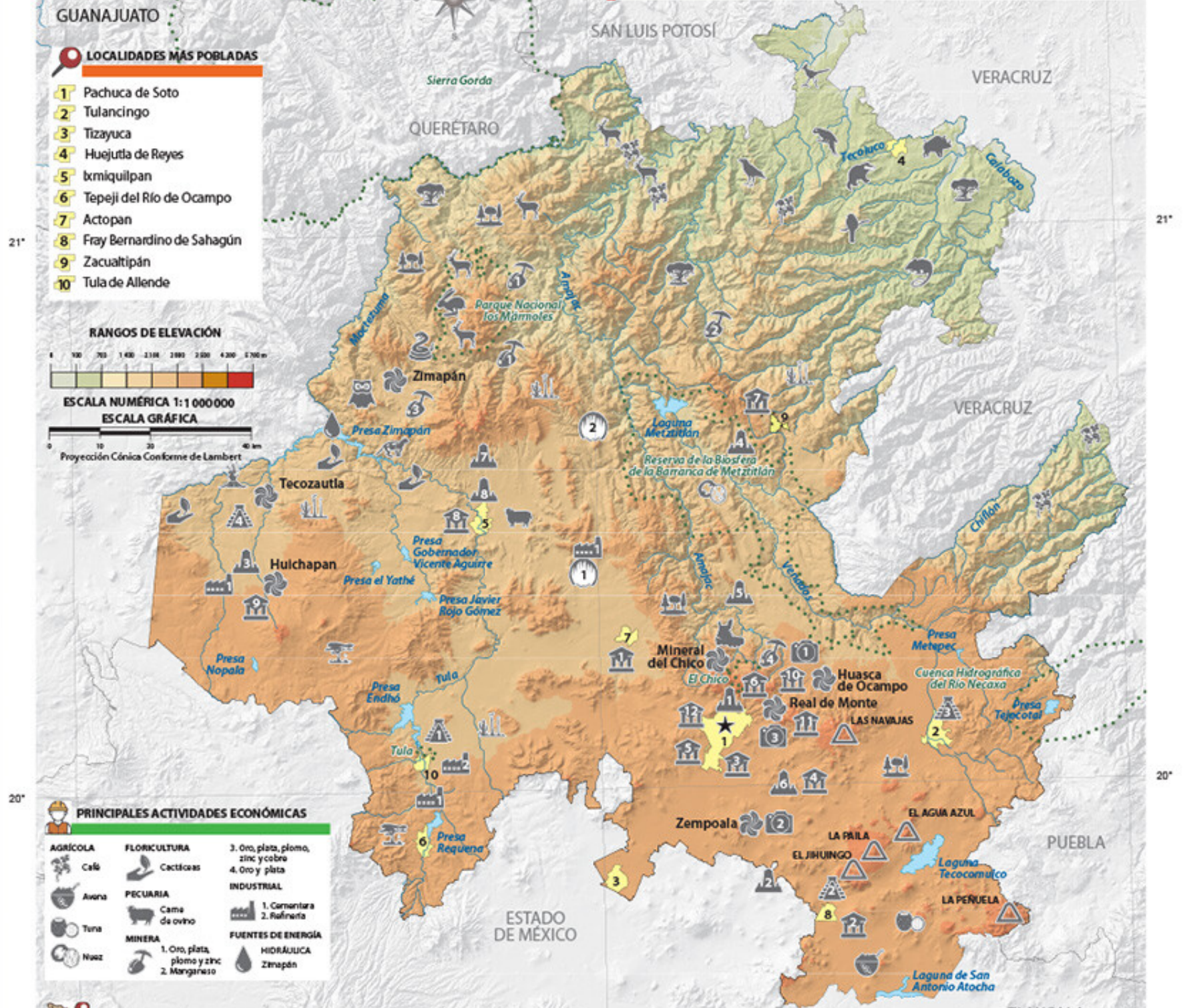
Actividad	Productos
Agricultura	Maíz, frijol, trigo, sorgo, cebada, avena, mijo, sorgo, maíz, trigo, sorgo, cebada, avena, mijo, sorgo.
Pecuaria	Ganado vacuno, ganado porcino, ganado equino, ganado caprino, ganado ovino.
Pesquera	Pescado, mariscos, camarones, langostinos, camarones, langostinos.
Minería	Plata, oro, cobre, zinc, plomo, hierro, manganeso, níquel, titanio, uranio, bauxita, grafito, mica, talco, yeso, arcilla, carbón, petróleo, gas natural.
Fuentes de Energía	Energía hidroeléctrica, energía solar, energía eólica, energía geotérmica, energía biomasa.



Hidalgo



Capital: Pachuca de Soto
Extensión: 20 821.4 km², 1.1% del territorio nacional
Municipios: 84
Población: 3 082 841 habitantes, 2.4% del total del país

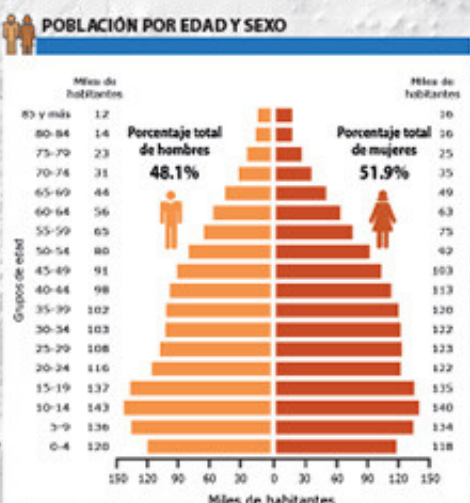


- LOCALIDADES MÁS POBLADAS**
- 1 Pachuca de Soto
 - 2 Tulancingo
 - 3 Tizayuca
 - 4 Huejutla de Reyes
 - 5 Ixmiquilpan
 - 6 Tepeji del Río de Ocampo
 - 7 Actopan
 - 8 Fray Bernardino de Sahagún
 - 9 Zacualtípán
 - 10 Tula de Allende



- PRINCIPALES ACTIVIDADES ECONÓMICAS**
- | | | |
|-----------------|-----------------------------|------------------------------------|
| AGRÍCOLA | FLORICULTURA | 3. Oro, plata, plomo, zinc y cobre |
| 1. Café | 1. Cactáceas | 4. Oro y plata |
| 2. Avena | PECUARIA | INDUSTRIAL |
| 3. Tuna | 1. Carne de ovino | 1. Cementera |
| 4. Nuez | 2. Carne de bovino | 2. Refinería |
| | MINERA | FUENTES DE ENERGÍA |
| | 1. Oro, plata, plomo y zinc | 1. Hidráulica |
| | 2. Manganeso | 2. Zimapán |

- | | | | |
|---|---|---------------------|--|
| GENERAL | SITIO ARQUEOLÓGICO | HIDROGRAFÍA | FALNA |
| ★ CAPITAL DEL ESTADO | 1. Tula | Laguna o presa | Loro huasteco |
| — LÍMITE ESTATAL | 2. Xhúingo | Río perenne | Tlacuache |
| 📍 LOCALIDADES MÁS POBLADAS | 3. Huapalcalco | PRINCIPAL ELEVACIÓN | Jabalí |
| CULTURA | 4. Patshé | Cerro | Tigrito |
| MUSEO | SITIO HISTÓRICO | CUEVA, GRUTA | TURISMO |
| 1. Colonial del Ex-Convento de San Nicolás Tolentino | 1. Raloj Monumental de Pachuca | 1. Xoxali | 1. Puntos turísticos |
| 2. Arqueológico de Tlapapulco | 2. Acueducto del Padre Tamboque | 2. Tolantongo | 2. Hacienda San Juan Puebla |
| 3. Nacional de la Fotografía | 3. Museo el Chapital | GBSER | 3. Pantón Inglés de Mineral del Monte |
| 4. Ex-Convento de San Andrés Apóstol | 4. Templo y Ex-Convento de los Santos Reyes | ECOSISTEMA | PUEBLO MÁGICO |
| 5. De Minería | 5. Templo y Ex-Convento de San Agustín | Matorral | TURISMO DEPORTIVO |
| 6. De Medicina Laboral | 6. Ex-Convento de San Andrés | Partizal | 1. Mineral del Chico, pesca deportiva y campismo |
| 7. Felipe Ángeles | 7. Ex-Convento de San Miguel Arcángel | Bosque templado | |
| 8. De la Cultura Hñahñu | 8. La Diana Cazadora | Salva hómada | |
| 9. Arqueología e Historia de Huichapan | NATURALEZA | | |
| 10. Sitio Mina de Acosta | ÁREA NATURAL PROTEGIDA | | |
| 11. De Sitio y Centro de Interpretación Mina la Difusidad | | | |
| 12. Del Fútbol | | | |



Jalisco

104°

102°

ZACATECAS

Capital: Guadalajara

Extensión: 78 595.9 km², 4.0% del territorio nacional

Municipios: 125

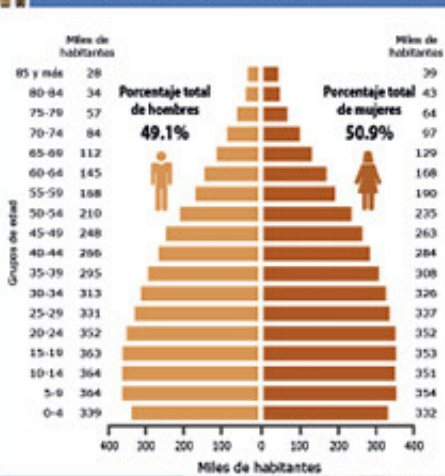
Población: 8 348 151 habitantes, 6.6% del total del país

SINALOYA

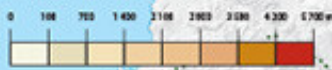
DURANGO

SAN LUIS POTOSÍ

POBLACIÓN POR EDAD Y SEXO



RANGOS DE ELEVACIÓN



NAYARIT

AGUASCALIENTES

GUANAJUATO

COLIMA

OCEANO PACIFICO

ESCALA NUMÉRICA 1:2 000 000

ESCALA GRÁFICA

Proyección Cónica Conforme de Lambert

PRINCIPALES ACTIVIDADES ECONÓMICAS


AGRÍCOLA



PECUARIA



PESQUERA




MINERA



INDUSTRIAL



FUENTE DE ENERGÍA HIDRÁULICA



GENERAL

- CAPITAL DEL ESTADO**: Guadalajara
- LÍMITE ESTATAL**: Límites con estados vecinos
- LOCALIDADES MÁS POBLADAS**: Guadalajara, Zapopan, Tlaquepaque, Tonalá, Puerto Vallarta, etc.
- INFRAESTRUCTURA**: Carreteras, aeropuertos, puertos.
- AEROPUERTO INTERNACIONAL**: Miguel Alemán y Coahuila, Licenciado Gustavo Díaz Ordaz.
- PUERTO DE ALTA VALLARTA**: Puerto Vallarta.
- OBSERVATORIO**: Robótico Primavera de la Universidad de Guadalajara.
- CULTURA MUSEO**: Arqueológico de Ciudad Guzmán, Dal Cueva, etc.

SITIO ARQUEOLÓGICO

Guachimontones

SITIO HISTÓRICO

- Teatro Dagojado - Hospicio Cabañas
- Teatro José Rosas Moreno
- Real Caja de Bolaños (Casa de la Moneda)
- Isla de Mucila
- Parque Bicentenario Puente de Calderón
- Monumento Conmemorativo del vicentenario de la expedición marítima México - Filipinas
- Catedral basílica de Nuestra Señora de San Juan de los Lagos
- Antigua Estación de Ferrocarril de Chapala

NATURALEZA

ÁREA NATURAL PROTEGIDA

HIDROGRAFÍA

Lago o presa

Río perenne

PRINCIPAL ELEVACIÓN

C. Cerro V. Volcán

BARRANCA

De los ríos Santiago y Verde

ECOSISTEMA

Bosque templado

Selva seca

Pastizal

Manglar

Bosque nublado

FAUNA

Coyote

Pecari

Tajón

Cecodilo

Águila pescadora

Zorra gris

Zorro

Liebre

Perdiz

Pato golondrino

Gato montés

Armadillo

Mapache

Miño

Ocalota

Venado

Gorrón

Gavián

Tortuga verde

TURISMO

PUNTO TURÍSTICO

- Puerto Vallarta
- Barra de Navidad
- Romería de San Juan de los Lagos
- Romería de Zapopan - Biblioteca Juan José Arreola
- Fuente de la Minerva
- Patrimonio del agua y las antiguas instalaciones industriales de tequila

PUEBLO MÁGICO

TURISMO DEPORTIVO

- Bosque de la Primavera, deporte tanzista
- Tapalpa, deportes extremos
- San Cristóbal de la Barranca, deporte tanzista
- Tequila, deportes extremos
- Ahuacalco de Mercado, deporte tanzista
- Tapalpa, deporte tanzista
- Huaretilán, Barranca Oblatos, deporte tanzista



LOCALIDADES MÁS POBLADAS

- Guadalajara
- Zapopan
- Tlaquepaque
- Tonalá
- Puerto Vallarta
- Hacienda Santa Fe
- Ciudad Guzmán
- Lagos de Moreno
- Tepatitlán de Morelos
- Ocotlán

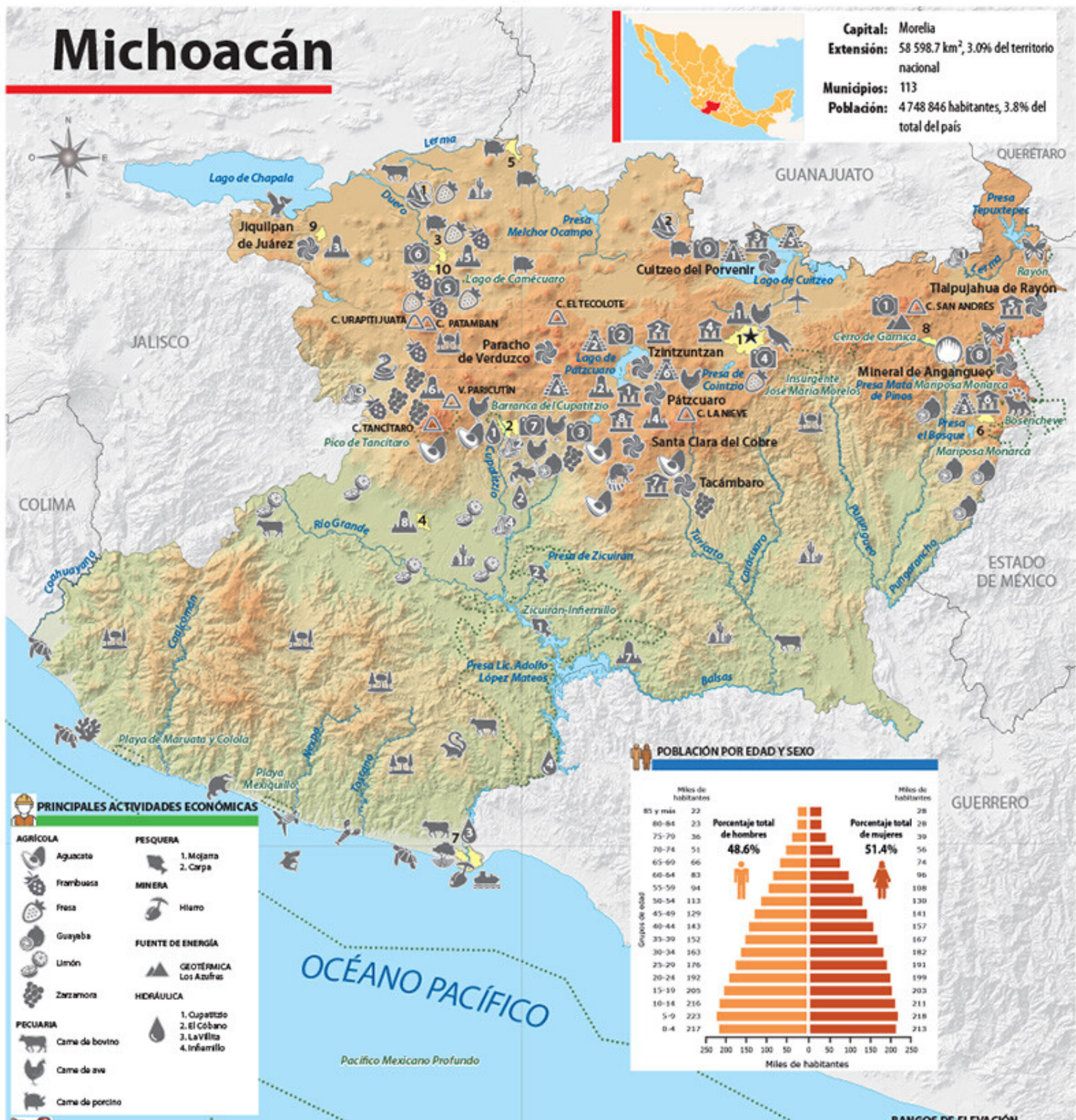
104°

102°

Michoacán



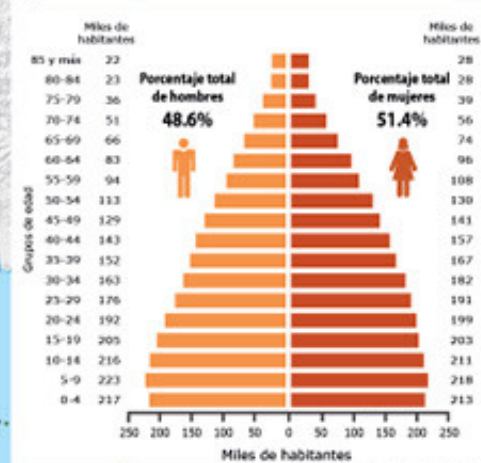
Capital: Morelia
Extensión: 58 598.7 km², 3.0% del territorio nacional
Municipios: 113
Población: 4 748 846 habitantes, 3.8% del total del país



PRINCIPALES ACTIVIDADES ECONÓMICAS

- | | |
|---|---|
| AGRICOLA | PESQUERA |
| <ul style="list-style-type: none"> Aguacate Frambuesa Fresa Guayaba Limón Zarcamora | <ul style="list-style-type: none"> 1. Mojama 2. Carpa Mielero |
| PECUARIA | FUENTE DE ENERGÍA |
| <ul style="list-style-type: none"> Carne de bovino Carne de ave Carne de porcino | <ul style="list-style-type: none"> GEOTÉRMICA
Los Azufres HIDRÁULICA
1. Cupatitlán
2. El Cóbano
3. La Villita
4. Infameillo |

POBLACIÓN POR EDAD Y SEXO



RANGOS DE ELEVACIÓN



ESCALA NUMÉRICA 1:1 800 000
 ESCALA GRÁFICA



Proyección Cónica Conforme de Lambert.

LOCALIDADES MÁS POBLADAS

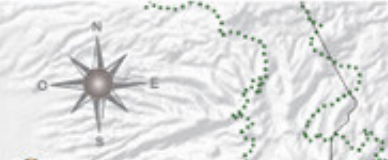
- 1 Morelia
- 2 Uruapan
- 3 Zamora de Hidalgo
- 4 Apatzingán de la Constitución
- 5 La Piedad de Cabadas
- 6 Heroica Zitácuaro
- 7 Ciudad Lázaro Cárdenas
- 8 Ciudad Hidalgo
- 9 Sahuayo de Morelos
- 10 Jacona de Plancarte

- | | | | |
|---|--|---|---|
| GENERAL | SITIO ARQUEOLÓGICO | HIDROGRAFÍA | FAUNA |
| <ul style="list-style-type: none"> CAPITAL DEL ESTADO LÍMITE ESTATAL LOCALIDADES MÁS POBLADAS | <ol style="list-style-type: none"> 1. Huandacaro 2. Ihuatzio 3. San Felipe de los Alzars 4. Tingambato 5. Tres Carrizos 6. Tzitzintzán | <ul style="list-style-type: none"> Lago, laguna o presa Río perenne PRINCIPAL ELEVACIÓN
C. Camo
V. Volcán CASCADA
1. El Salto
2. Tzitzirouas
3. Chomos del Veral
4. El Huaco GRUTA
De Tziranda ARRECIFE
El Zapote de Madero MANANTIAL
1. Islón de los Hervores
2. Los Arcos ECOSISTEMA
Salvo seca
Bosque templado
Manglar | <ul style="list-style-type: none"> Coccoloba Zorillo Tlacoyota Mapacha Vibora de cascabel Ranita arboreola Langosta Palicazo bonogón Agallita cola roja Mariposa monarca |
| INFRAESTRUCTURA | SITIO HISTÓRICO | | TURISMO |
| <ul style="list-style-type: none"> AEROPUERTO INTERNACIONAL
General Francisco J. Mújica PUERTO DE ALTURA
Lázaro Cárdenas | <ol style="list-style-type: none"> 1. Catedral de la Transfiguración del Señor de Morelia
- Monumento Colegio Primitivo y Nacional de San Nicolás de Hidalgo
- Acuaducto de Morelia
- Casa de la Concepción
- Casa de la Cultura de Morelia (Templo y Ex-Convento del Carmén) 2. Monumento a José María Morelos y Pavón 3. Casa Natal de Lázaro Cárdenas del Río 4. Templo de Santiago Apóstol 5. Ex-Palacio Episcopal 6. Ruinas del Templo de San Juan Viejo 7. Iglesia Hundida en Churumuco 8. Casa de la Construcción | | <ul style="list-style-type: none"> Tortuga león Tortuga golfinia Tiburón TURISMO
PUNTO TURÍSTICO
1. Los Azufres
2. Lago de Patzcuaro
3. Lago de Zihuan
4. Zoológico Barito Juárez - Centro Histórico de Morelia
5. Lago de Camécuaro
6. Santuario Diocesano de Nuestra Señora de Guadalupe
7. Antigua Fábrica de San Pedro de Hilados y Tejidos
8. Túnel Turístico de San Simón
9. Balnearios de Huandacaro |
| CULTURA | NATURALEZA | | PUEBLO MÁGICO |
| <ul style="list-style-type: none"> MUSEO
1. De Artes e Industrias Populares de Patzcuaro
2. Antiguo Convento Franciscano de Santa Ana
3. De la Estampa, Ex-Convento de Santa María Magdalena Cuitzeo
4. Archivo Histórico Casa de Morelos - Regional Michoacano - Dr. Nicolás León Calderón - De Sitio Casa de Morelos - Michoacano de las Artesanías
5. Tecnológico Minero Siglo XXI - Mina Dos Estrellas
6. Casa de la Estación
7. Del Centro Cultural Amalia Solórzano
8. Nacional del Cobre | <ul style="list-style-type: none"> ÁREA NATURAL PROTEGIDA | | <ul style="list-style-type: none"> PUEBLO MÁGICO |

Morelos



Capital: Cuernavaca
Extensión: 4 878.9 km², 0.2% del territorio nacional
Municipios: 36
Población: 1 971 520 habitantes, 1.6% del total del país



LOCALIDADES MÁS POBLADAS

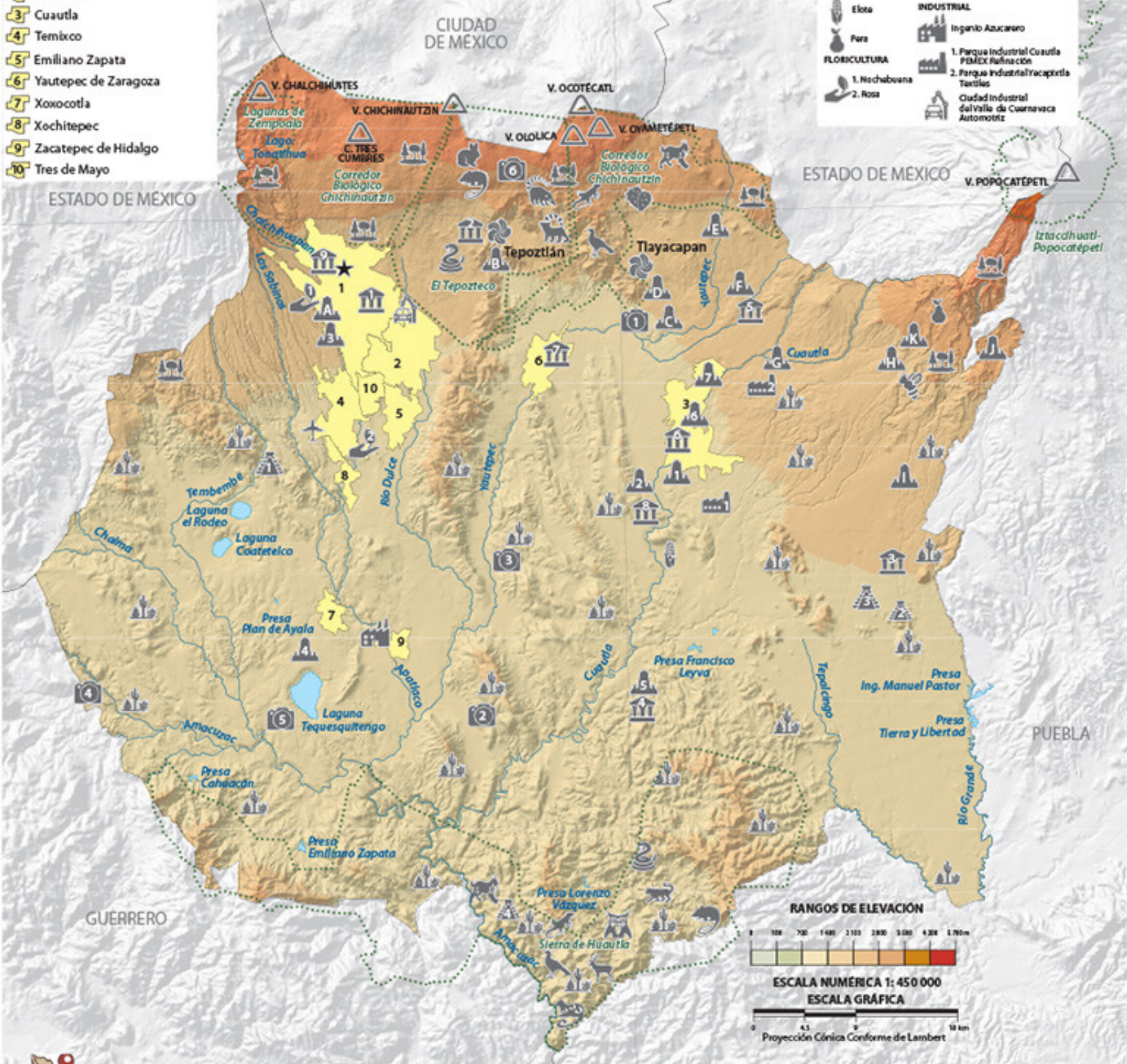
- 1 Cuernavaca
- 2 Jiutepec
- 3 Cuautla
- 4 Temixco
- 5 Emiliano Zapata
- 6 Yauhtepec de Zaragoza
- 7 Xoxocotla
- 8 Xochitepec
- 9 Zacatepec de Hidalgo
- 10 Tres de Mayo

PRINCIPALES ACTIVIDADES ECONÓMICAS


- | | |
|---------------------|--|
| AGRÍCOLA | PECUARIA |
| Nopal | Miel |
| Eloa | INDUSTRIAL |
| Papa | Inganío Azucarero |
| FLORICULTURA | 1. Parque Industrial Cuautla PEMEX Refinación |
| 1. Nochebuena | 2. Parque Industrial Yauhtepec Textiles |
| 2. Rosa | Ciudad Industrial del Valle de Cuernavaca Automotriz |

19°

19°



RANGOS DE ELEVACIÓN



ESCALA NUMÉRICA 1: 450 000

ESCALA GRÁFICA



Proyección Cónica Conforme de Lambert



GENERAL

- CAPITAL DEL ESTADO**
- LÍMITE ESTATAL**
- LOCALIDADES MÁS POBLADAS**
- INFRAESTRUCTURA**
- AEROPUERTO INTERNACIONAL**
- Mariano Matamoros
- CULTURA**
- MUSEO**

 1. Jardín Botánico y de la Medicina Tradicional
 2. Museo Histórico de Morelos
 3. Museo de Arte Popular (MUPAP)
 4. Museo de Arte Contemporáneo Juan Soriano
 5. Museo de Arte Popular (MUPAP)
 6. Museo Histórico de Morelos
 7. Museo de Arte Contemporáneo Juan Soriano
 8. Museo de Arte Popular (MUPAP)
 9. Jardín Botánico

ZONA ARQUEOLÓGICA

1. Xochicalco
 2. Chalcatzingo
 3. Las Plumas
 4. Chimalcatlán
- SITIO HISTÓRICO**
1. Ex-Hacienda de Coahuatla
 2. Casa de Emiliano Zapata (Anenecuilco)
 3. Palacio de Cortés
 4. Hacienda de San José Vista Hermosa
 5. Ex-Hacienda de Chinameca
 6. Palacio Municipal de Cuautla
 7. Acueducto de Cuautla
- Ruta de Conventos:**
- A. La Asunción
 - B. La Natividad
 - C. Santo Domingo de Guzmán
 - D. San Juan Bautista
 - E. San Guillermo
 - F. San Mateo Apóstol
 - G. San Juan Bautista
 - H. Santiago Apóstol
 - I. La Inmaculada Concepción
 - J. Santo Domingo de Guzmán
 - K. San Juan Bautista

NATURALEZA

- ÁREA NATURAL PROTEGIDA**
- HIDROGRAFÍA**
- Lago, laguna o presa
- Río perenne

PRINCIPAL ELEVACIÓN

- C. Cerro
- V. Volcán

ECOSISTEMA

- Bosque templado
- Salva seca
- FAUNA**
- Tacolote
- Zacatuche
- Gallina de monte
- Puma
- Venado cola blanca
- Uncia
- Iguana

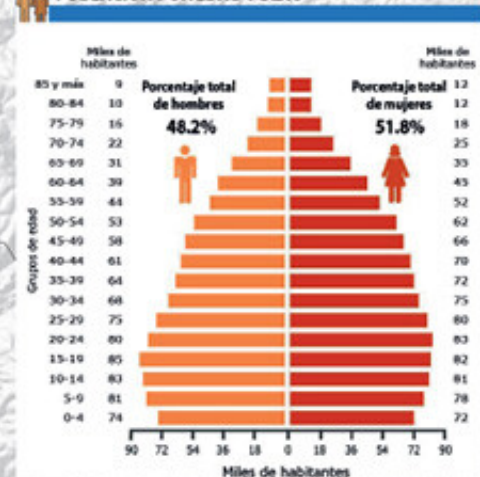
TICUACHA

- Vibora de cascabel
- Ocotilo
- Cacomitla
- Coati
- TURISMO**
- PUNTO TURÍSTICO**

 1. Centro Vacacional Ixtapa
 2. Parque Acuático en Tlalquiltenango
 3. Parque Natural las Estacas
 4. Zoológico de Tlalquiltenango
 5. Jardín Botánico Jardines de México
 6. Tepoztlán

- PUEBLO MÁGICO**

POBLACIÓN POR EDAD Y SEXO



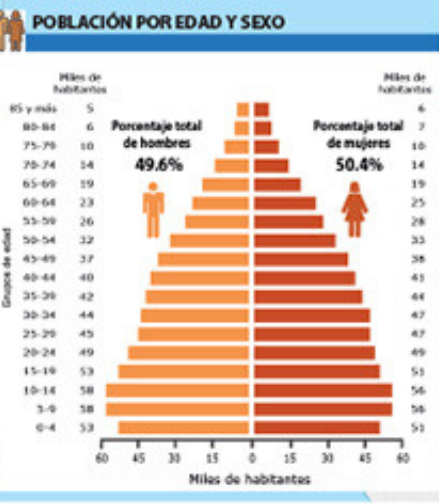
Nayarit

Capital: Tepic
Extensión: 27 856.5 km², 1.4% del territorio nacional
Municipios: 20
Población: 1 235 456 habitantes, 1.0% del total del país



- LOCALIDADES MÁS POBLADAS**
- 1 Tepic
 - 2 Xalisco
 - 3 San Vicente
 - 4 San José del Valle
 - 5 Ixtlán del Río
 - 6 Mezcales
 - 7 Tuxpan
 - 8 Compostela
 - 9 Acaponeta
 - 10 Santiago Ixcuintla

- PRINCIPALES ACTIVIDADES ECONÓMICAS**
- | | |
|-----------------|-------------------------------|
| AGRICOLA | PESQUERA |
| Agucate | Camarón |
| Arroz | Mojarra |
| Mango | Sardina |
| Agave | INDUSTRIAL |
| Jamaica | Ingenio azucarero |
| Huevo | FUENTES DE ENERGÍA |
| | HIDRÁULICA |
| | 1. Solidaridad |
| | 2. Leonardo Rodríguez Alcaine |
| | 3. Alfredo Elías Ayub |



- | | | | |
|---|---|------------------------|----------------------|
| GENERAL | SITIO HISTÓRICO | ECOSISTEMA | FAUNA |
| ★ CAPITAL DEL ESTADO | 1. Puerta la Contaduría | Pastizal | Guzajote |
| — LÍMITE ESTATAL | 2. Museo de sitio de fábrica textil Ballavista | Bosque templado | Iguana verde |
| 📍 LOCALIDADES MÁS POBLADAS | 3. Basílica Luterana de Nuestra Señora de la Asunción | Selva seca | Jabali |
| INFRAESTRUCTURA | NATURALEZA | Bosque nublado | Jabali de collar |
| ✈️ AEROPUERTO INTERNACIONAL Amado Nervo | ÁREA NATURAL PROTEGIDA | Manglar | Jaguar |
| ⚓ PUERTO DE ALTURA De San Blas | HIDROGRAFÍA | FAUNA | Murciélago |
| CULTURA | Laguna o presa | Armadillo | Ocalota |
| 🏛️ MUSEO | Río perenne | Ballana jorbada | Pato tepalcate |
| 1. De Compostela | PRINCIPAL ELEVACIÓN | Cocodrilo | Puma |
| 2. Regional de Nayarit | C. Cerro V. Volcán | Delfín nari de botella | Salamandra |
| 3. Casa Museo Juan Escutia | CASCADA El Cora | MANANTIAL | PUEBLO MÁGICO |
| 4. De Ana Emilia Ortiz | La Tovar | | |
| 5. Casa Museo Vladimir Cora | | | |
| 🏰 SITIO ARQUEOLÓGICO Los Tlortles | | | |

Nuevo León

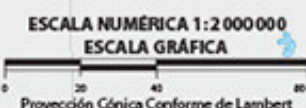
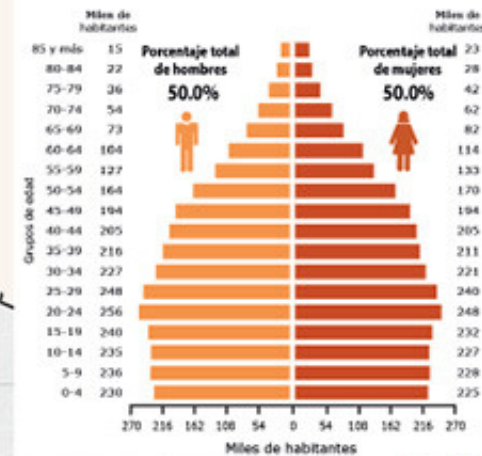


Capital: Monterrey
Extensión: 64 156.2 km², 3.3% del territorio nacional
Municipios: 51
Población: 5 784 442 habitantes, 4.6% del total del país

LOCALIDADES MÁS POBLADAS

- 1 Monterrey
- 2 Guadalupe
- 3 Ciudad Apodaca
- 4 Ciudad General Escobedo
- 5 San Nicolás de los Garza
- 6 Ciudad Benito Juárez
- 7 Ciudad Santa Catarina
- 8 García
- 9 San Pedro Garza García
- 10 Cadereyta Jiménez

POBLACIÓN POR EDAD Y SEXO



- GENERAL**
 - ★ CAPITAL DEL ESTADO
 - LIMITE INTERNACIONAL
 - LIMITE ESTATAL
 - 📍 LOCALIDADES MÁS POBLADAS
- INFRAESTRUCTURA**
 - ✈️ AEROPUERTO INTERNACIONAL
 - ✈️ Mariano Escobedo
- CULTURA**
 - MUSEO
 - Regional de Nuevo León, El Obispo
 - Metropolitano de Monterrey
 - Salón de la Fama del Béisbol Mexicano
 - De Arte Contemporáneo
 - De Historia Mexicana
 - Del Ferrocarril
 - 2. Planetario Alfa
 - 3. De la Memoria Viva
 - 4. Histórico y Casa de la Cultura Valle del Río
- SITIO ARQUEOLÓGICO**
 - 1. Icamola
 - 2. Boca de Potrillos
- SITIO HISTÓRICO**
 - 1. Museo Bernabé de las Casas
 - 2. Estatua ecuestre de Mariano Escobedo
 - 3. Casadón de San Felipe Apóstol
 - 4. Palacio del Obispo
 - 5. Catedral de Monterrey
 - 6. Antiguo palacio municipal de Monterrey
 - 7. Edificio del Colegio Civil de Monterrey
 - 8. Antigua Estación del Golfo
 - 9. Casa del Campesino
- NATURALEZA**
 - 🌿 ÁREA NATURAL PROTEGIDA
 - HIDROGRAFÍA**
 - 🌊 Presa
 - 🌊 Río perenne
 - 🌊 PRINCIPAL ELEVACIÓN
 - 🌊 Cerro
 - 🌊 CASCADA
 - 🌊 Cota de caballo
 - MANANTIAL**
 - 1. Ojo de agua de Sabinas
 - 2. Ojo de agua de Lampazos
 - CUEVA, GRUTA**
 - 1. Grutas de Bustamante
 - 2. Grutas de García
 - ECOSISTEMA**
 - 🌳 Matorral
 - 🌳 Pastizal
 - 🌳 Bosque templado
 - FALUNA**
 - 🐾 Coyote
 - 🐾 Corcominos
 - 🐾 Uncia
 - 🐾 Zorra gris
 - 🐾 Tortuga terrestre
 - 🐾 Perro de la pradera
- TURISMO**
 - PUNTO TURÍSTICO**
 - 1. Parque Fundidora
 - 2. Parque el Salto
 - 3. Parque Chipinque
 - 4. Parque la Huasteca
 - 5. Bioparque Estrella
 - 6. Puntos colgantes de Huastecas
 - 7. Puntos Solidaridad - Colombia
 - PUEBLO MÁGICO**
 - TURISMO DEPORTIVO**
 - 1. Matanzas, ecoturismo
 - 2. Potrero Chico, parque recreativo
 - 3. Anahuac, caza deportiva
 - 4. General Terán, caza deportiva
 - 5. Dolina Pozo del Gavilán, ecoturismo

- PRINCIPALES ACTIVIDADES ECONÓMICAS**
- AGRÍCOLA**
 - 🍊 Naranja y toronja
 - 🥜 Nuez
 - 🍏 Manzana
 - 🌿 Ajo
 - PECUARIA**
 - 🐐 Carne de caprino
 - 🥚 Huevo
 - 🐄 Carne de vaca
 - INDUSTRIAL**
 - 🚗 Automotriz
 - 1. Hierro y acero
 - 2. Refinería

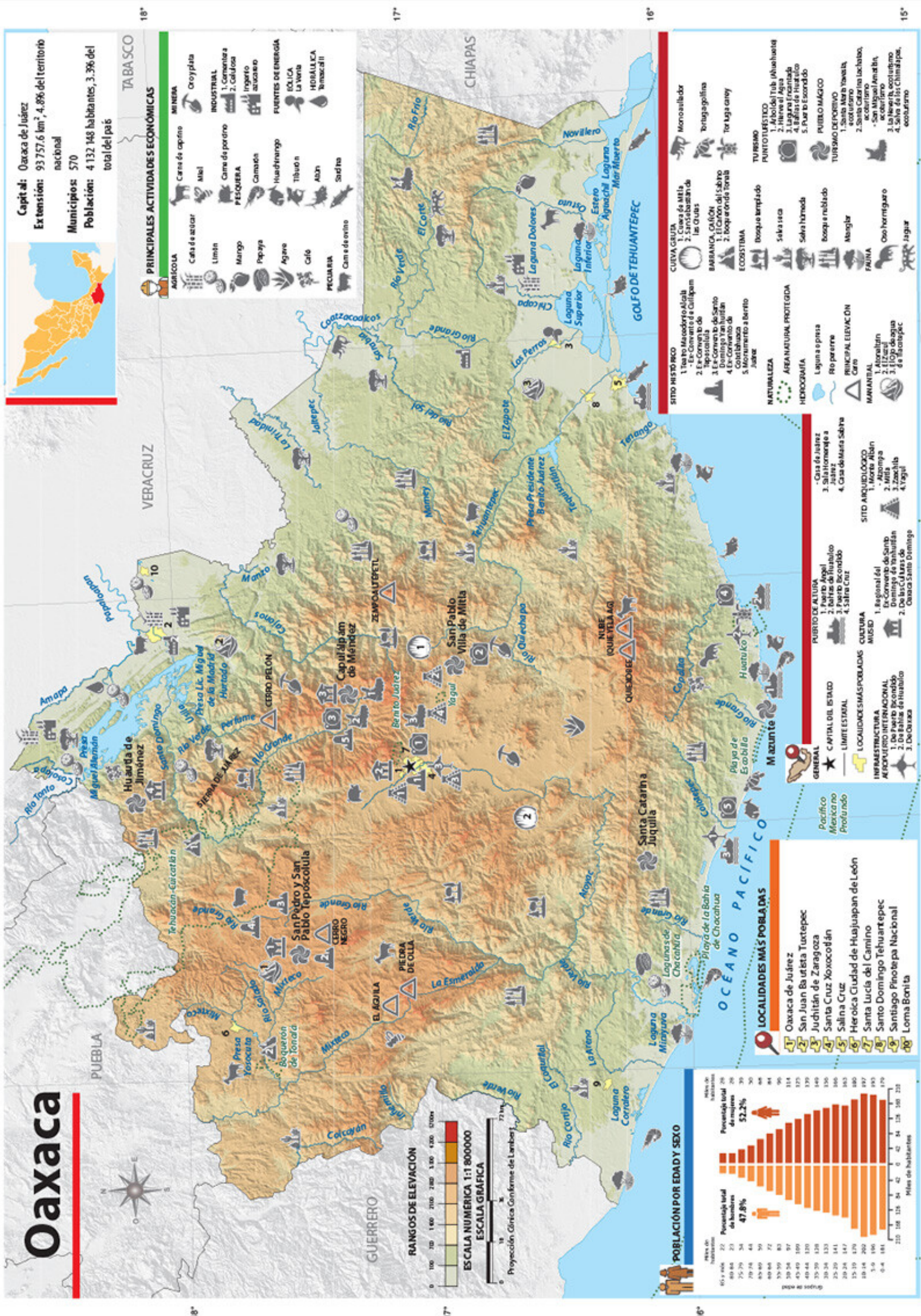
Oaxaca

Capital: Oaxaca de Juárez
Extensión: 93 757,6 km², 4,8% del territorio nacional
Municipio: 570
Población: 4 132 148 habitantes, 3,3% del total del país



PRINCIPALES ACTIVIDADES ECONÓMICAS

- AGRICULTURA:** Cane de azúcar, Limón, Mango, Papaya, Agave, Café, Cacao de avino
- MINIERA:** Oroplata
- INDUSTRIAL:** Carne de porcino, Camarón, Huehitrango, Tiburoón, Alazn, Sardina
- PESQUERA:** 1. Comenzosa, 2. Colifusa, Injerto arcaico
- FUENTES DE ENERGÍA:** Eólica, La Venta, HERRALCA, Tamazulcán



- ### LOCALIDADES MÁS PUEBLADAS
- Oaxaca de Juárez
 - San Juan Bautista Tuxtutepec
 - Juchitán de Zaragoza
 - Santa Cruz Xoxocotlán
 - Salina Cruz
 - Heroica Ciudad de Huajuapán de León
 - Santa Lucía del Camino
 - Santo Domingo Tehuantepec
 - Santiago Pinotepec Nacional
 - Lorma Bonita

- ### GENERAL
- Capital del Estado
 - Localidades más pobladas
 - Infraestructura nacional
 - Profundidad
 - Limite Estatal
 - Playa de la Bahía de Chachahuá
- ### CULTURA
- Arqueológico
 - Alzompa
 - 2. Mitla
 - 3. Zaachila
 - 4. Tlaxiá
- ### SITIO ARQUEOLÓGICO
- 1. Monte Albán
 - 2. Mitla
 - 3. Zaachila
 - 4. Tlaxiá
- ### SITIO HISTÓRICO
- 1. Tlaxiá
 - 2. San Juan de los Rios
 - 3. El Convento de Santo Domingo
 - 4. El Convento de San Juan de los Rios
 - 5. Monumento a Benito Juárez
- ### NATURALEZA
- Laguna o presa
 - Rio perenne
 - PRINCIPAL ELECCIÓN
 - Carro
- ### MANANTIAL
- 1. Alzompa
 - 2. Rincón de San Juan
 - 3. El Convento de Santo Domingo
 - 4. San Juan de los Rios
- ### FAUNA
- Oso herrero
 - Jaguar
- ### HERENCIA
- Laguna o presa
 - Rio perenne
 - PRINCIPAL ELECCIÓN
 - Carro
- ### PUERTO DE ALTIURA
- 1. Puerto Ángel
 - 2. Bahía de Huixtla
 - 3. Puerto Escondido
 - 4. Salina Cruz
- ### CASA DE JUÁREZ
- 1. Salina Cruz
 - 2. Salina Cruz
 - 3. Salina Cruz
 - 4. Salina Cruz
- ### AREA NATURAL PROTEGIDA
- Laguna o presa
 - Rio perenne
 - PRINCIPAL ELECCIÓN
 - Carro
- ### HERENCIA
- Laguna o presa
 - Rio perenne
 - PRINCIPAL ELECCIÓN
 - Carro

- ### SITIO HISTÓRICO
- 1. Tlaxiá
 - 2. San Juan de los Rios
 - 3. El Convento de Santo Domingo
 - 4. El Convento de San Juan de los Rios
 - 5. Monumento a Benito Juárez
- ### NATURALEZA
- Laguna o presa
 - Rio perenne
 - PRINCIPAL ELECCIÓN
 - Carro
- ### HERENCIA
- Laguna o presa
 - Rio perenne
 - PRINCIPAL ELECCIÓN
 - Carro
- ### PUERTO DE ALTIURA
- 1. Puerto Ángel
 - 2. Bahía de Huixtla
 - 3. Puerto Escondido
 - 4. Salina Cruz
- ### CASA DE JUÁREZ
- 1. Salina Cruz
 - 2. Salina Cruz
 - 3. Salina Cruz
 - 4. Salina Cruz
- ### AREA NATURAL PROTEGIDA
- Laguna o presa
 - Rio perenne
 - PRINCIPAL ELECCIÓN
 - Carro
- ### HERENCIA
- Laguna o presa
 - Rio perenne
 - PRINCIPAL ELECCIÓN
 - Carro

CULTIVA GRUZA

- 1. Cueva de Mitla
- 2. San Sebastián de las Cruces

BARRANCA CALÓN

- 1. El Cañon del Sabino
- 2. Bocayón de Tonala

ECOSISTEMA

- Bosque templado
- Sava seca
- Sava húmeda
- Bosque y ribado
- Manglar

TURISMO

- 1. Santa María Huatla
- 2. Puerto Escondido
- 3. Puerto Escondido
- 4. Puerto Escondido
- 5. Puerto Escondido

PUEBLO MÁGICO

- 1. Santa María Huatla
- 2. Puerto Escondido
- 3. Puerto Escondido
- 4. Puerto Escondido
- 5. Puerto Escondido

TURISMO DE PUEBLO MÁGICO

- 1. Santa María Huatla
- 2. Puerto Escondido
- 3. Puerto Escondido
- 4. Puerto Escondido
- 5. Puerto Escondido

FAUNA

- Oso herrero
- Jaguar

TURISMO PUNTO TURÍSTICO

- 1. Hotel de Juarez
- 2. Hotel de Juarez
- 3. Hotel de Juarez
- 4. Hotel de Juarez
- 5. Hotel de Juarez

TURISMO PUNTO TURÍSTICO

- 1. Hotel de Juarez
- 2. Hotel de Juarez
- 3. Hotel de Juarez
- 4. Hotel de Juarez
- 5. Hotel de Juarez

Puebla

Capital: Heroica Puebla de Zaragoza
Extensión: 34 309.6 km², 1.7% del territorio nacional
Municipios: 217
Población: 6 583 278 habitantes, 5.2% del total del país

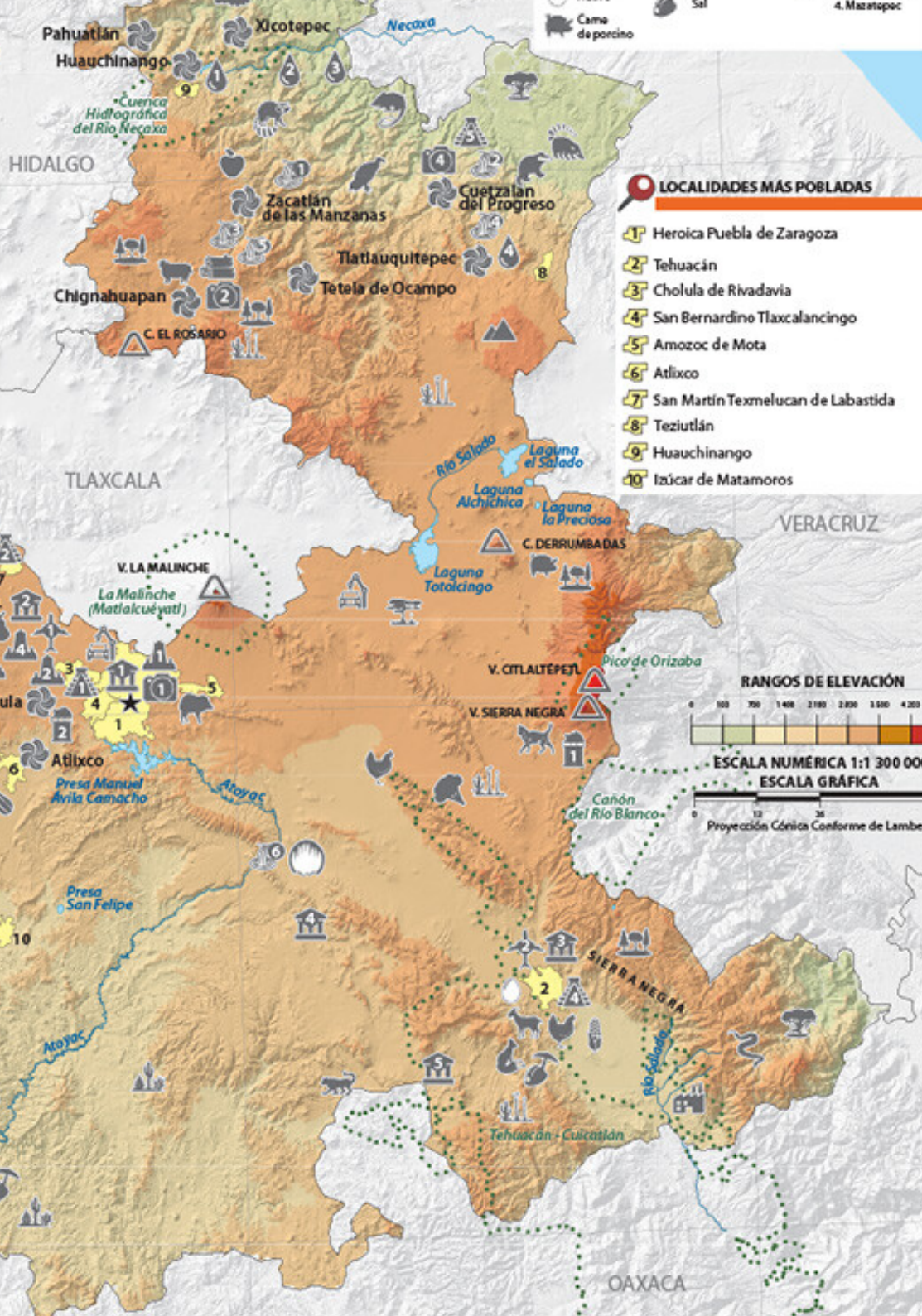
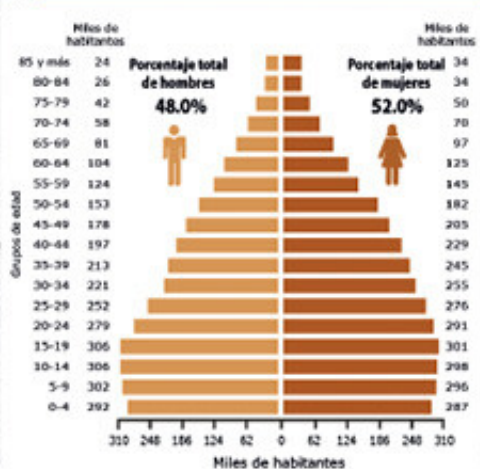


PRINCIPALES ACTIVIDADES ECONÓMICAS

- | | | |
|------------------|-----------------------------|--------------------------------------|
| AGRÍCOLA | Carna de ovino | INDUSTRIAL |
| Amaranto | Carna de caprino | Automotriz |
| Elote | Carna de ave | Ingeniería azucarera |
| País | | |
| Brócoli | EXPLOTACIÓN FORESTAL | FUENTES DE ENERGÍA GEOTÉRMICA |
| Calabacita | Oyamel | Los Hornos |
| PECUARIA | AGROINDUSTRIAL | HIDRÁULICA |
| Huevo | Sidra | 1. Central Necaxa |
| Carna de porcino | Sal | 2. Central Tepaxic |
| | | 3. Central Patla |
| | | 4. Mazatepec |

GOLFO DE MÉXICO

POBLACIÓN POR EDAD Y SEXO



LOCALIDADES MÁS POBLADAS

1. Heroica Puebla de Zaragoza
2. Tehuacán
3. Cholula de Rivadavia
4. San Bernardino Tlaxcalancingo
5. Amozoc de Mota
6. Atlixco
7. San Martín Texmelucan de Labastida
8. Teziutlán
9. Huauchinango
10. Izúcar de Matamoros

RANGOS DE ELEVACIÓN



GENERAL

- ★ CAPITAL DEL ESTADO
- LIMITE ESTADAL
- 📍 LOCALIDADES MÁS POBLADAS
- INFRAESTRUCTURA AEROPUERTO INTERNACIONAL**
- 1. Hermanos Sordán
- 2. Tehuacán
- OBSERVATORIO**
- 1. Gran Telescopio Milimétrico Alfonso Serrano y Observatorio de Rayos Gamma HAWC
- 2. Observatorio Astrofísico Nacional Tonantzintla

CULTURA MUSEO

- 1. Nacional de los Ferrocarriles Mexicanos - Internacional del Barroco
- 2. Ex-Convento de Huejotzingo Museo de la Evangelización
- 3. Del Valle de Tehuacán
- 4. Regional Mixtco Tlayúa
- 5. Comunitario Paleontológico de San Juan Raya
- SITIO ARQUEOLÓGICO**
- 1. Cholula
- 2. Los Cerros
- 3. Tapayuca
- 4. Tehuacán Viejo
- 5. Yohualichan

SITIO HISTÓRICO

- 1. Fuerte de Guadalupe
- 2. Cholula
- 3. Ex-Hacienda de Chaurla
- 4. Ex-Convento San Miguel Arcángel, Huejotzingo
- 5. Ex-Convento de San Andrés Calpan
- NATURALEZA**
- ÁREA NATURAL PROTEGIDA**
- HIDROGRAFÍA**
- Lago o laguna
- Río perenne
- PRINCIPAL ELEVACIÓN**
- V. Volcán C. Camo

CASCADA

- 1. De Akauicpak
- 2. Las Golondrinas
- 3. El Salto de Quetzalapa
- 4. De Puerta
- 5. De Tulumán
- 6. Cola de Caballo
- CAVERNA**
- Puerta de Dios
- ECOSISTEMA**
- Matorral
- Partial
- Bosque templado

FAUNA

- Salva seca
- Salva húmeda
- Zorra gris
- Lagarto de Gila
- Pecari de collar
- Zopilota
- Tlacucha

TURISMO

- Tapiringo
- Ocalote
- Puma
- Tajón
- Coati
- Mapache
- Gato montés
- Serpiente cuemillas

PUNTO TURÍSTICO

- 1. Centro de Puebla
- 2. Laguna de Chignahuapan o de Ahmoloja - Aguas termales de Chignahuapan
- 3. Granjas piridcolas de Atlixco
- 4. Paraisos Indígenas Hostel Tosepan Kali
- PUEBLO MÁGICO**
- TURISMO DEPORTIVO**
- Río San Marcos, canineta

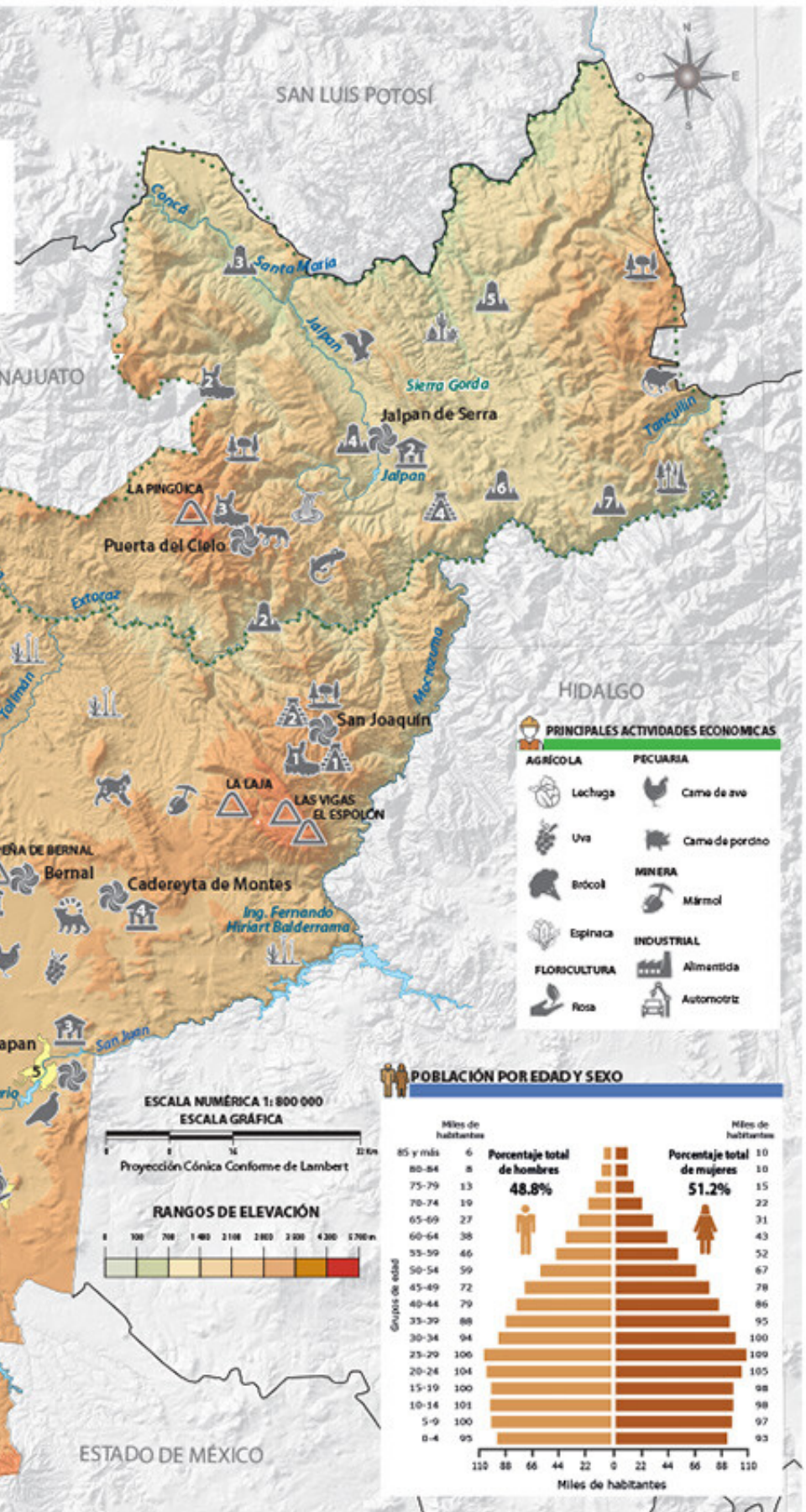
Querétaro



Capital: Santiago de Querétaro
Extensión: 11 690.6 km²,
 0.6% del territorio nacional
Municipios: 18
Población: 2 368 467 habitantes,
 1.9% del total del país

LOCALIDADES MÁS POBLADAS

- 1 Santiago de Querétaro
- 2 San Juan del Río
- 3 El Pueblito
- 4 Juriquilla
- 5 Tequisquiapan
- 6 San Pedro Mártir
- 7 San José el Alto
- 8 Santa Rosa Jáuregui
- 9 Saldarriaga
- 10 Venceremos

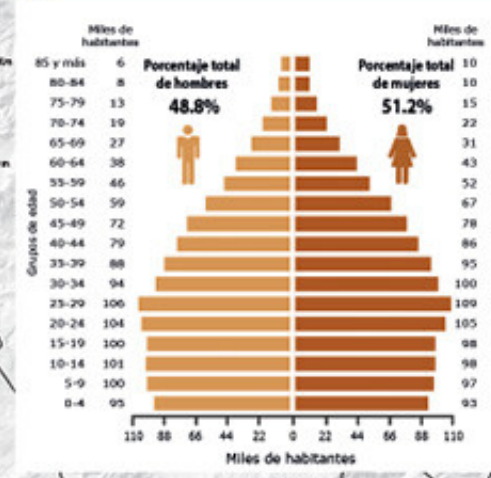


HIDALGO

PRINCIPALES ACTIVIDADES ECONÓMICAS

AGRÍCOLA	PECUARIA	MINERA	INDUSTRIAL
Lechuga	Cerdo de ave	Mármol	Alimenticia
Uva	Cerdo de pordio		Automotriz
Brócoli			
Espinaca			
FLORICULTURA			
Rosa			

POBLACIÓN POR EDAD Y SEXO



- GENERAL**
- ★ CAPITAL DEL ESTADO
 - LÍMITE ESTATAL
 - 📍 LOCALIDADES MÁS POBLADAS
- INFRAESTRUCTURA**
- ✈️ AEROPUERTO INTERNACIONAL
 - ✈️ Intercontinental de Querétaro
- CULTURA**
- 🏛️ MUSEO
 - 1. Regional de Querétaro
 - 2. Histórico de la Sierra Gorda de Querétaro
 - 3. Del Queso y el Vino Tierra de Alcornos
 - 4. Planetario Dr. José Hernández Moreno
 - 5. Del Cine Nacional Rosalío Solano - De la Máscara
- SITIO ARQUEOLÓGICO**
- 1. Toluquilla
 - 2. Ranos
 - 3. El Carrizo
 - 4. Tancitará

- SITIO HISTÓRICO**
- Cerro de las Campanas
 - Acueducto
 - Teatro de la República
 - Estación de Ferrocarril
 - Misión de Bucanab
 - Misión de San Miguel Conca
 - Misión de Jalpan de Nuestro Señor Santiago Apóstol
 - Misión de Nuestra Señora de la Luz de Tancitará
 - Misión Linda de Matamoros
 - Misión de San Francisco de Asís del Valle de Tlisco
 - Iglesia Chiguitta de la Cañada
 - Fuente de la Historia
- NATURALEZA**
- HIDROGRAFÍA**
- 🌿 ÁREA NATURAL PROTEGIDA
 - 🌊 Presa
 - 🌊 Río perenne
- PRINCIPAL ELEVACIÓN**
- 🏔️ Cerro

- CASCADA**
- El Churuje
- ECOSISTEMA**
- Maizal
 - Bosque templado
 - Bosque nublado
 - Salva seca
 - Pastizal
- FAUNA**
- Coyote
 - Zorrito

- Huilota
 - Salamandra
 - Murciélago
 - Rana leopardo de Moctezuma
 - Uirapán
 - Tlacuache
 - Cacomitida
 - Mutaraña
- TURISMO**
- PUNTO TURÍSTICO**
- Zona de Monumentos Históricos de Querétaro
 - Templo Santa Rosa de Vilaflores
 - Templo de la Santa Cruz
- PUEBLO MÁGICO**
- TURISMO DEPORTIVO**
- Grutas los Hornos, senderismo, campismo, paseos
 - Sótano del Bano, senderismo, paseos
 - Puerta del Cielo, senderismo, campismo

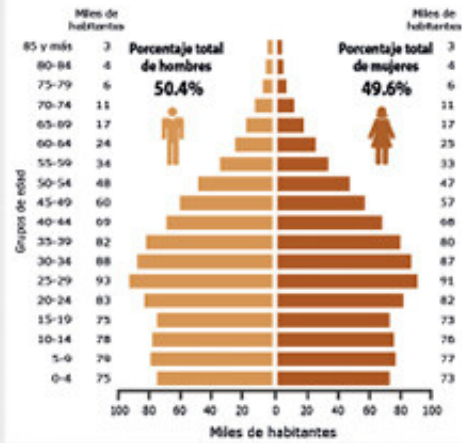
Quintana Roo GOLFO DE MÉXICO

22°



Capital: Chetumal
Extensión: 44 705.2 km², 2.3% del territorio nacional
Municipios: 11
Población: 1 857 985 habitantes, 1.5% del total del país

POBLACIÓN POR EDAD Y SEXO



YUCATÁN

20°

CAMPECHE

18°

RANGOS DE ELEVACIÓN

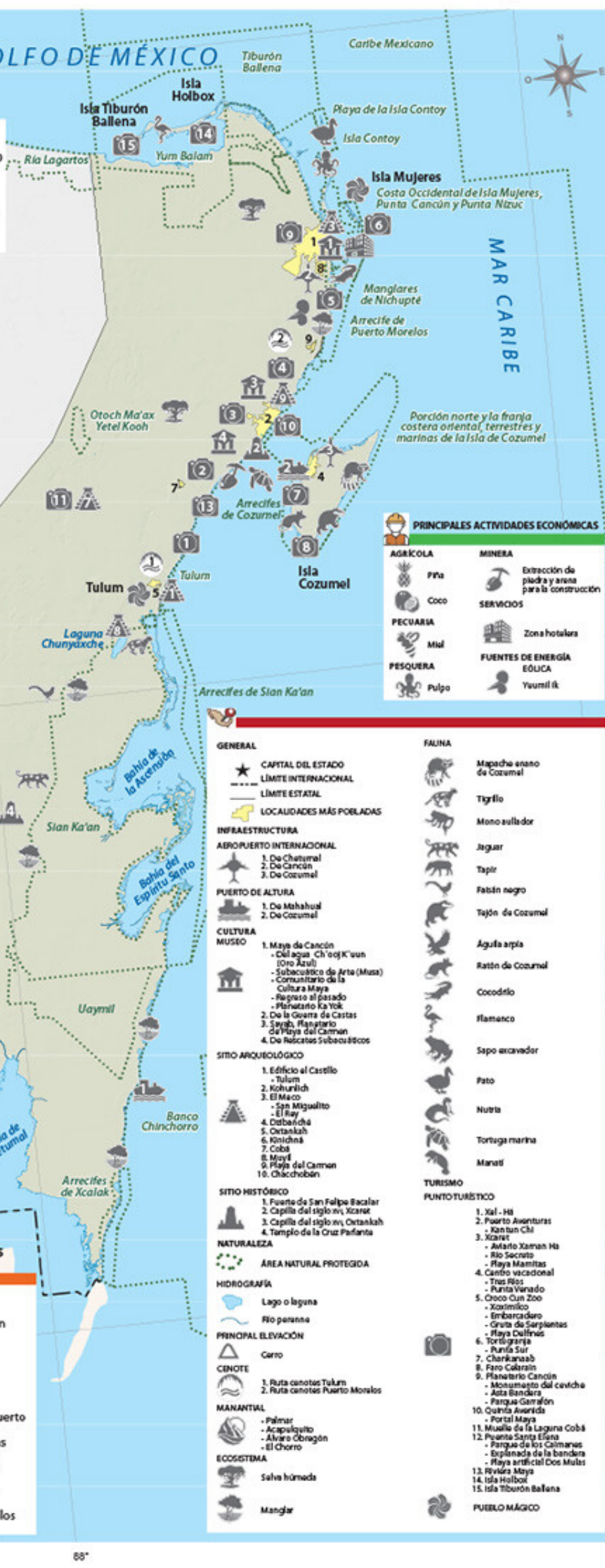
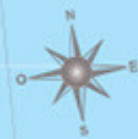


- ### LOCALIDADES MÁS POBLADAS
- 1 Cancún
 - 2 Playa del Carmen
 - 3 Chetumal
 - 4 Cozumel
 - 5 Tulum
 - 6 Felipe Carrillo Puerto
 - 7 Puerto Aventuras
 - 8 Alfredo V. Bonfil
 - 9 Puerto Morelos
 - 10 José María Morelos

BELICE

88°

86°



PRINCIPALES ACTIVIDADES ECONÓMICAS

AGRÍCOLA	MINERA
Plátano	Extracción de piedra y arena para la construcción
Coco	SERVICIOS
Miel	Zona hotelera
Pulpo	FUENTES DE ENERGÍA EÓLICA
	Yumilít

GENERAL

- CAPITAL DEL ESTADO
- LÍMITE INTERNACIONAL
- LÍMITE ESTATAL
- LOCALIDADES MÁS POBLADAS

INFRAESTRUCTURA

AEROPUERTO INTERNACIONAL

1. De Chetumal
2. De Cancún
3. De Cozumel

PUERTO DE ALTURA

1. De Mahahual
2. De Cozumel

CULTURA

MUSEO

1. Maya de Cancún
 - Ciel agua Ch'ojk'uun (Oro Azul)
 - Subacuático de Arte (Musa)
 - Comunitario de la Cultura Maya
 - Regreso al pasado
 - Planatorio Ka Yok
2. De la Guerra de Castas
3. Sayil, Planatorio de Playa del Carmen
4. De Rascas Subacuáticas

SITO ARQUEOLÓGICO

1. Edificio el Castillo - Tulum
2. Kohunlich
3. El Meco
4. Dzitbalché
5. Oxankah
6. Kinichá
7. Coba
8. Mayá
9. Playa del Carmen
10. Chichobán

SITO HISTÓRICO

1. Fuente de San Felipe Bacalar
2. Capilla del siglo xv, Xcaret
3. Capilla del siglo xv, Oxankah
4. Templo de la Cruz Paríante

NATURALEZA

ÁREA NATURAL PROTEGIDA

HIDROGRAFÍA

- Lago o laguna
- Río perenne

PRINCIPAL ELEVACIÓN

- Cerro

CENOTE

1. Ruta cenotes Tulum
2. Ruta cenotes Puerto Morelos

MANANTIAL

- Palmar
- Acapulquillo
- Alvaro Obregón
- El Chorro

ECOSISTEMA

- Selva húmeda
- Manglar

FAUNA

- Mapache anoso de Cozumel
- Tigrillo
- Mono aullador
- Jaguar
- Tapir
- Falán negro
- Tajón de Cozumel
- Águila arpía
- Ratón de Cozumel
- Cocodilo
- Flamenco
- Sapo excavador
- Pato
- Nutria
- Tortuga marina
- Manatí

TURISMO

PUNTO TURÍSTICO

1. Xel-Há
2. Puerto Aventuras
3. Xcaret
 - Atarje Xaman Há
 - Río Secreto
 - Playa Mamitas
4. Centro vacacional
 - Tixá Rios
 - Punta Venado
5. Croco Cún Zoo
 - Xoximilco
 - Embarcadero
 - Gruta de Sarpientes
 - Playa Delfines
6. Torti-granja
7. Punta Sur
8. Faro Colaresín
9. Planatorio Cancún
 - Monumento del centavo
 - Aita Bandera
 - Parque Garrafón
10. Céniza Aventura
11. Muelle de la Laguna Cobá
12. Puente Santa Elena
 - Parque de los Colmanos
 - Espinada de la bandera
 - Playa artificial Dos Mulás
13. Riviera Maya
14. Isla Holbox
15. Isla Tiburón Ballena

PUEBLO MÁGICO

20°

86°

18°

San Luis Potosí

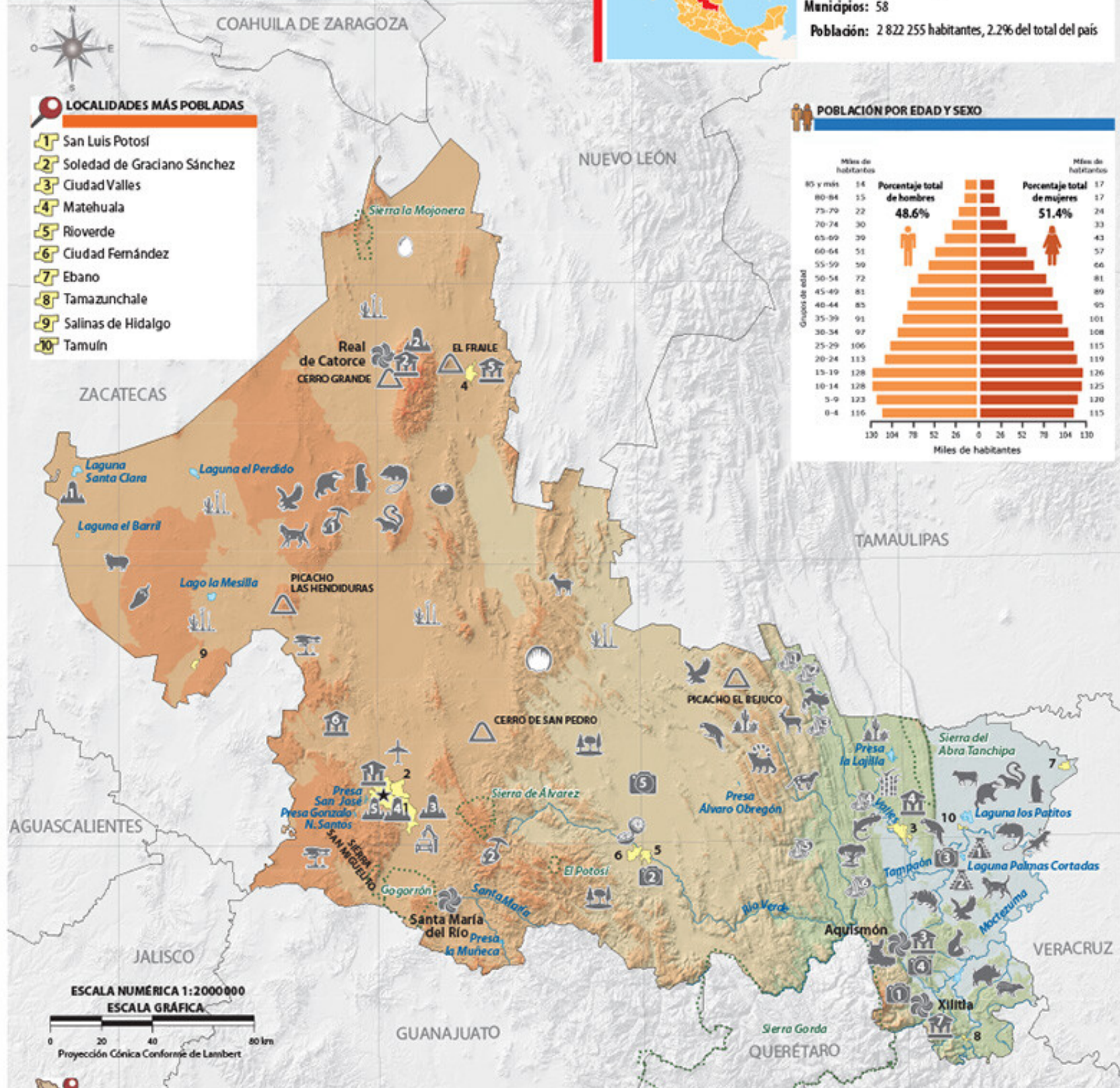
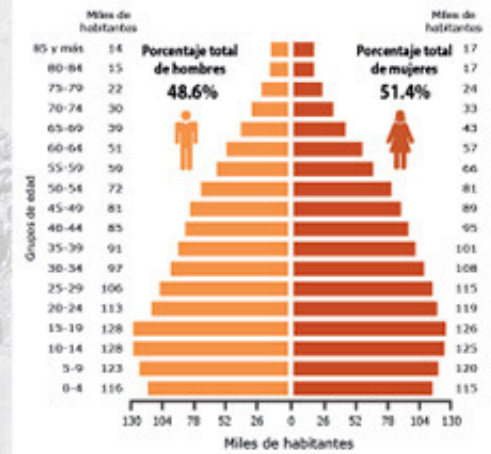


Capital: San Luis Potosí
Extensión: 61 138.0 km², 3.1% del territorio nacional
Municipios: 58
Población: 2 822 255 habitantes, 2.2% del total del país

LOCALIDADES MÁS POBLADAS

- 1 San Luis Potosí
- 2 Soledad de Graciano Sánchez
- 3 Ciudad Valles
- 4 Matehuala
- 5 Ríoverde
- 6 Ciudad Fernández
- 7 Ebano
- 8 Tamazunchale
- 9 Salinas de Hidalgo
- 10 Tamuín

POBLACIÓN POR EDAD Y SEXO



GENERAL <ul style="list-style-type: none"> ★ CAPITAL DEL ESTADO — LÍMITE ESTATAL ● LOCALIDADES MÁS POBLADAS INFRAESTRUCTURA <ul style="list-style-type: none"> ✈ AEROPUERTO INTERNACIONAL ✈ PONDANO ANTIGA CULTURA MUSEO <ol style="list-style-type: none"> 1. Nacional Potosino 2. Páramo del Padre José Robledo 3. Maam T' Itin Itik 4. De las Culturas de la Huastaca Potosina Tamazunchale 5. De las Culturas de Matehuala 6. Julián Carrillo 7. Leonora Carrington SITIO ARQUEOLÓGICO <ol style="list-style-type: none"> 1. El Corusale 2. Tametoc 	SITIO HISTÓRICO <ol style="list-style-type: none"> 1. Casco de la Ex-Hacienda Illescas 2. Túnel de Ogmito 3. Centro Cultural Caja Real 4. Teatro Alarcón 5. Estación de ferrocarril San Luis Potosí (antigua) NATURALEZA ÁREA NATURAL PROTEGIDA HIDROGRAFÍA <ul style="list-style-type: none"> — Río perenne — Lago, laguna, presa PRINCIPAL ELEVACIÓN <ul style="list-style-type: none"> ▲ Cerro CASCADA <ol style="list-style-type: none"> 1. El Salto 2. El Meco 3. Minas Viejas 4. De Micos 5. Tamacopo 6. Tamul 	CUEVA, GRUTA <ul style="list-style-type: none"> ○ Delas Candelas ECOSISTEMA <ul style="list-style-type: none"> 🌳 Matorral 🌳 Pastizal 🌳 Bosque templado 🌳 Selva seca 🌳 Selva húmeda FAUNA <ul style="list-style-type: none"> 🐆 Tájón 🐆 Gato montés 🐆 Tlacuache 🐆 Zorillo 	<ul style="list-style-type: none"> 🐾 Partío de la pradera 🦅 Águila 🦎 Cacomitla 🦎 Cotorra serrana 🐆 Tigrijo 🐆 Venado 🐆 Armadillo 🐆 Salamandra 🐆 Zorra TURISMO PUNTO TURÍSTICO <ol style="list-style-type: none"> 1. Castillo sumalza Edward James 2. Laguna de la Madre Luna 3. Aguas termales de Tamul 4. El nacimiento del río Huachihuayan 5. Templo de la Divina Pastora PUEBLO MÁGICO TURISMO DEPORTIVO <ul style="list-style-type: none"> 🏊 Sótano de las Golondrinas, rapel 	<ul style="list-style-type: none"> 🐸 Rana arbórea 🐸 Tapacumbita 🐸 Iguana 🐾 Jabalí
---	--	---	--	---



PRINCIPALES ACTIVIDADES ECONÓMICAS

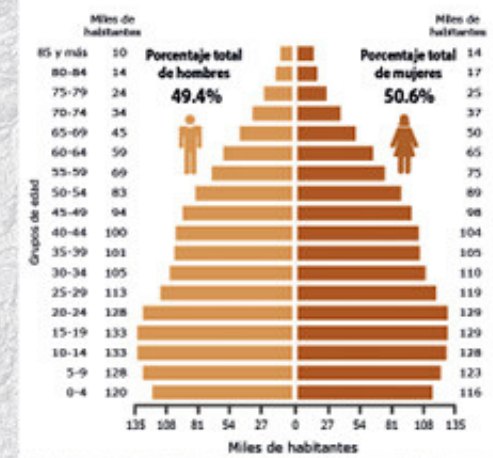
AGRÍCOLA <ul style="list-style-type: none"> 🍅 Tomate rojo 🍊 Naranja 🍷 Cafa de azúcar 🌿 Chifa verde 	PECUARIA <ul style="list-style-type: none"> 🐑 Carne de caprino 🐄 Carne de bovino 🐑 Carne de ovino 🥚 Huevo 	MINERA <ol style="list-style-type: none"> 1. Oro y plata 2. fluorita INDUSTRIAL <ul style="list-style-type: none"> 🚗 Automóvil
--	---	---

Sinaloa



Capital: Culiacán Rosales
Extensión: 57 365.4 km², 2.9% del territorio nacional
Municipios: 18
Población: 3 026 943 habitantes, 2.4% del total del país

POBLACIÓN POR EDAD Y SEXO



LOCALIDADES MÁS POBLADAS

- Culiacán Rosales
- Mazatlán
- Los Mochis
- Guasave
- Guamúchil
- Escuinapa de Hidalgo
- Licenciado Benito Juárez
- Navolato
- Costa Rica
- Gabriel Leyva Solano



GENERAL	NATURALEZA	FAUNA
★ CAPITAL DEL ESTADO	● ÁREA NATURAL PROTEGIDA	🐍 Culebrasulera
— LÍMITE ESTATAL	🌊 HIDROGRAFÍA	🐾 Ocelota
📍 LOCALIDADES MÁS POBLADAS	🌊 Río parana	🐾 Tayra
✈️ AEROPUERTO INTERNACIONAL	🌊 Laguna y presa	🐾 Cocodilo
1. Federal de Culiacán	⚙️ PRINCIPAL ELEVACIÓN	🐾 Ballena gris
2. General Rafael Buelna	⚙️ Cerro	🐾 Iguana
🚢 PUERTO DE ALTURA	🌊 CASCADA	🐾
1. Topolobampo	🌊 Vado hondo	🐾
2. Mazatlán	🌿 ECOSISTEMA	🐾
🏛️ CULTURA	🌿 Matorral	📍 PUNTO TURÍSTICO
🏛️ MUSEO	🌿 Bosque templado	1. Faro de Mazatlán
1. Arqueológico de Mazatlán	🌿 Selva seca	2. Jardín Botánico de Culiacán
2. Centro de Ciencias de Sinaloa	🌿 Manglar	- Puente Negro (moviente)
3. De Minería e Historia	🌿	- Zoológico de Culiacán
4. De Artes de Sinaloa	🌿	3. Acuario de Mazatlán
5. Del Mar	🌿	4. Akata
6. A Pedro Infante	🌿	🏡 PUEBLO MÁGICO
🏛️ SITIO ARQUEOLÓGICO	🌿	
Las Labradas	🌿	
🏛️ SITIO HISTÓRICO	🌿	
1. Teatro Ángela Peralta	🐾 FAUNA	
2. Casa del Marino	🐾 Lagarto escorpión	
3. Templo de San Sebastián	🐾 Puercoespín	
4. Colegio Civil Rosales	🐾 Tlacoyota	
5. Templo de San Francisco de Asís		
6. Aduana Marítima		
7. Escuela Benito Juárez		

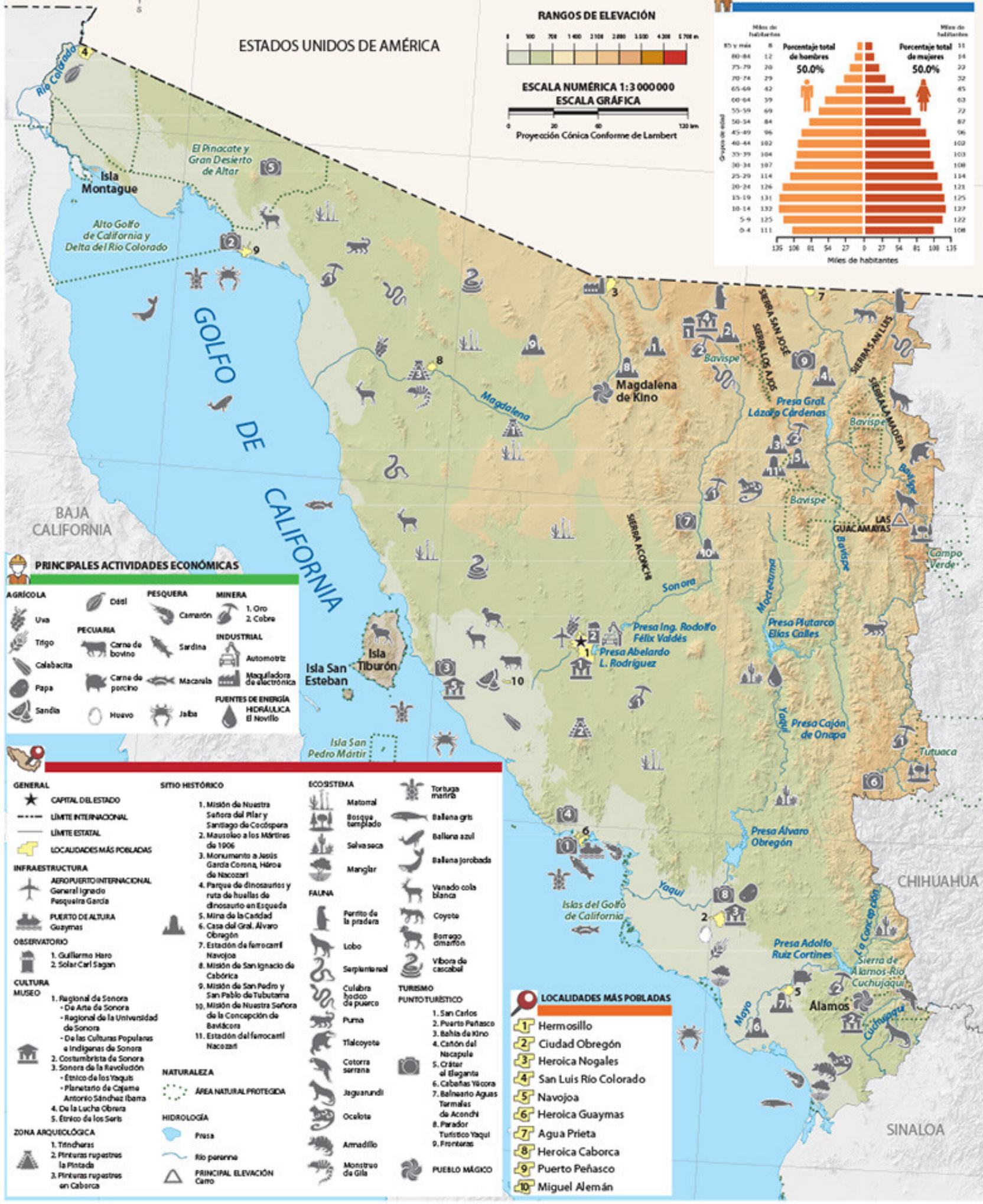
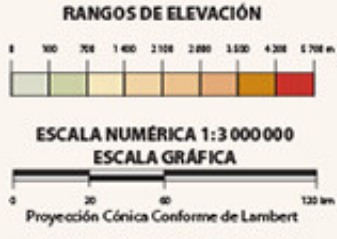
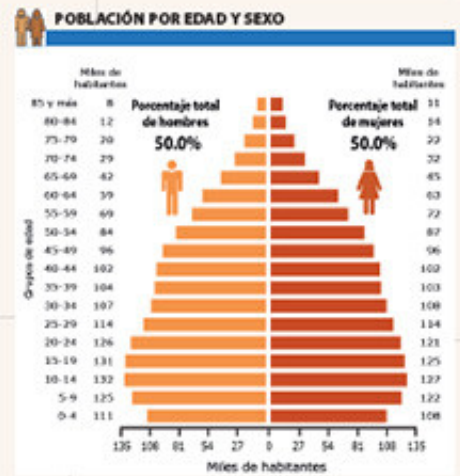
PRINCIPALES ACTIVIDADES ECONÓMICAS

AGRICOLA	PECUARIA	PESQUERA	MINERA
🍅 Tomate rojo	🐄 Carne de bovino	🐟 Camarón	🏔️ Oro
🌾 Maíz	🐔 Huevo	🐟 Atún	💧 FUENTES DE ENERGÍA HIDRÁULICA
🌿 Chila verde	🐔 Carne de ave	🐟 Sardina	1. Huilito
🌱 Frijol			2. Bacurto
			3. Humaya
			4. Comedero

Sonora



Capital: Hermosillo
 Extensión: 179 354.7 km², 9.1% del territorio nacional
 Municipios: 72
 Población: 2 944 840 habitantes, 2.3% del total del país



PRINCIPALES ACTIVIDADES ECONÓMICAS

AGRÍCOLA	PESQUERA	MINERA
Uva	Odón	1. Oro
Trigo	Camarón	2. Cobre
Calabacita	Carne de bovino	INDUSTRIAL
Papa	Carne de porcino	Automotriz
Sandía	Huevo	Maquiladora de electrónica
	Jalisco	FUENTES DE ENERGÍA
		HIDROLÉICA
		El Novillo

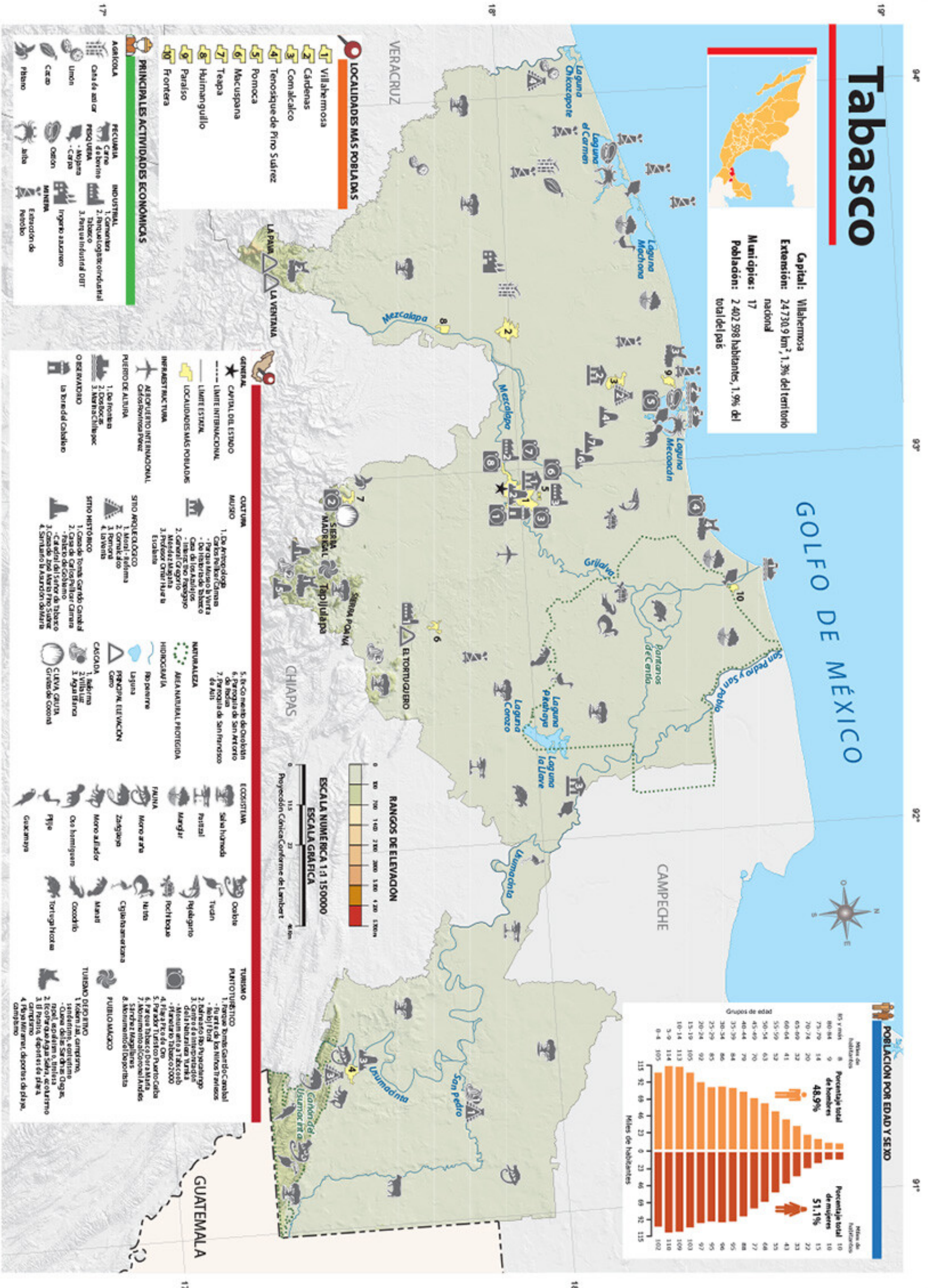
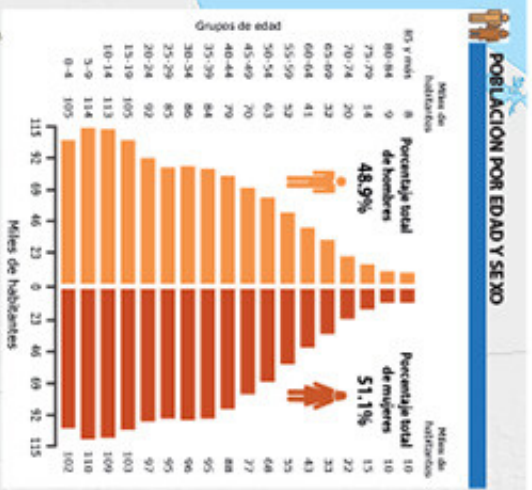
GENERAL	SITIO HISTÓRICO	ECOSISTEMA	FAUNA	TURISMO
★ CAPITAL DEL ESTADO	1. Misión de Nuestra Señora del Pilar y Santiago de Cocóspera	Matamal	Tortuga marítima	1. San Carlos
--- LÍMITE INTERNACIONAL	2. Mausoleo a los Mártires de 1906	Bosque templado	Balena gris	2. Puerto Peñasco
— LÍMITE ESTATAL	3. Monumento a Jesús García Corona, Héroe de Nacoazari	Selva seca	Balena azul	3. Bahía de Kino
📍 LOCALIDADES MÁS POBLADAS	4. Parque de dinosaurios y ruta de huellas de dinosaurio en Esqueda	Manglar	Balena jorobada	4. Cañón del Nacopile
✈️ AEROPUERTO INTERNACIONAL	5. Mina de la Ciudad	FAUNA	Venado cola blanca	5. Cráter el Elegante
🚢 PUERTO DE ALTURA	6. Casa del Gral. Alvaro Obregón	Porto de la pradera	Coyote	6. Bañadero Yicora
🏠 GOBYMAS	7. Estación de ferrocarril Navjoa	Lobo	Sombrero dimarón	7. Bañadero Aguas Tormales de Acandí
🏠 OBSERVATORIO	8. Misión de San Ignacio de Cabórica	Serpiente real	Vibora de cascabel	8. Parador Turístico Yacuri
🏠 CULTURA	9. Misión de San Pedro y San Pablo de Tubutama	Culebra bicolor de pueco	TURISMO	9. Frontanas
🏠 MUSEO	10. Misión de Nuestra Señora de la Concepción de Baviçora	Puma	PUNTO TURÍSTICO	
	11. Estación del ferrocarril Nacoazari	Tlacoyote	1. San Carlos	
		Cotorra serrana	2. Puerto Peñasco	
		Jaguarundi	3. Bahía de Kino	
		Ocelote	4. Cañón del Nacopile	
		Armadillo	5. Cráter el Elegante	
		Monstruo de Gila	6. Bañadero Yicora	
			7. Bañadero Aguas Tormales de Acandí	
			8. Parador Turístico Yacuri	
			9. Frontanas	

LOCALIDADES MÁS POBLADAS

- Hermosillo
- Ciudad Obregón
- Heroica Nogales
- San Luis Río Colorado
- Navjoa
- Heroica Guaymas
- Agua Prieta
- Heroica Caborca
- Puerto Peñasco
- Miguel Alemán

Tabasco

Capital: Villahermosa
Extensión: 24 730.9 km², 1.3% del territorio nacional
Municipios: 17
Población: 2 402 598 habitantes, 1.9% del total del país

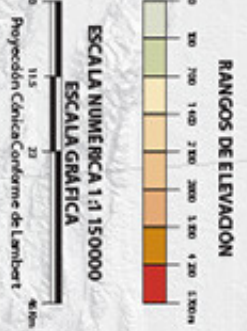


LOCALIDADES MAS POBLADAS

- 1 Villahermosa
- 2 Cárdenas
- 3 Comcalco
- 4 Tenosique de Pino Suárez
- 5 Pomoca
- 6 Macuspana
- 7 Teapa
- 8 Huimanguillo
- 9 Paraiso
- 10 Fortera

PRINCIPALES ACTIVIDADES ECONOMICAS

AGRICULTURA	PECUARIA	INDUSTRIAL
Caña de azúcar	Cerdo	1. Cementos
Uñón	Pollos	2. Riqueza Logística Industrial
Cacao	Carro	3. Zona Industrial OIT
Piñano	Arroz	Ingeniería azucarera
		Extracción de Petróleo



GENERAL

- Capital del Estado: Villahermosa
- Límite Internacional: Frontera con Chiapas y Guatemala
- Límite Estadal: Fronteras con Veracruz, Campeche, y Yucatán
- Localidades más pobladas: Villahermosa, Cárdenas, Comcalco, Tenosique de Pino Suárez, Pomoca, Macuspana, Teapa, Huimanguillo, Paraiso, Fortera
- Infraestructura: Carreteras, Ferrocarril, Aeropuertos
- Alcance Internacional: Fronteras con Chiapas y Guatemala
- Organización: Ayuntamiento, Comités Municipales

CULTURA

- Museo: Museo de Historia y Arte, Museo de Ciencias, Museo de Etnología y Folklore
- Sitio Arqueológico: Pirámide de San Andrés, Pirámide de San Marcos, Pirámide de San Mateo
- Sitio Histórico: Casa de la Cultura, Casa de la Historia, Casa de la Memoria

NATURALEZA

- Área Natural Protegida: Sierra Madre del Istmo, Sierra Madre de Chiapas
- Hidrografía: Río Usumacinta, Río Grijalva, Río Mezcalapa
- Cascada: Cascada de San Andrés, Cascada de San Marcos, Cascada de San Mateo

ECOSISTEMAS

- Sabana húmeda
- Forestal
- Manglar
- Morotepe
- Zanajón
- Moro alado
- Cao hemisférico
- Morotepe
- Coccolito
- Cyrtobalanocarpus
- Morotepe
- Coccolito
- Tortuguitas
- Coccolito

TURISMO

- Parque Zoológico: Parque Zoológico de Villahermosa
- Reserva Natural: Reserva Natural de la Biosfera de la Selva Lacandona
- Parque Nacional: Parque Nacional de la Biosfera de la Selva Lacandona
- Reserva de Biosfera: Reserva de Biosfera de la Selva Lacandona
- Parque Nacional: Parque Nacional de la Biosfera de la Selva Lacandona
- Reserva de Biosfera: Reserva de Biosfera de la Selva Lacandona
- Parque Nacional: Parque Nacional de la Biosfera de la Selva Lacandona
- Reserva de Biosfera: Reserva de Biosfera de la Selva Lacandona

PUERTO MEXICO

- 1. Villahermosa, Campeche
- 2. Huimanguillo, Tabasco
- 3. Fortera, Tabasco
- 4. Fortera, Tabasco

GUATEMALA

- 1. Villahermosa, Campeche
- 2. Huimanguillo, Tabasco
- 3. Fortera, Tabasco
- 4. Fortera, Tabasco

Tamaulipas

Capital: Ciudad Victoria
Extensión: 80 249.3 km², 4.1% del territorio nacional
Municipios: 43
Población: 3 527 735 habitantes, 2.8% del total del país

GENERAL

- ★ CAPITAL DEL ESTADO
- LÍMITE INTERNACIONAL
- LÍMITE ESTATAL
- 📍 LOCALIDADES MÁS POBLADAS

INFRAESTRUCTURA

- AEROPUERTO INTERNACIONAL**
1. Guetzacoatl
 2. General Lucio Blanco
 3. General Servando Canales
 4. General Pedro José Mández
 5. General Francisco Javier Mina

PUERTO DE AGUERA

1. De Altamira
2. Industrial Hemlock
3. Puerto de Tampico

CULTURA

- MUSEO**
1. De Historia Natural
 2. Trazos regionales
 3. Municipal de Carrango
 4. Histórico de Reynosa
 5. Del Agrarismo Mexicano
 6. Regional de Historia
 7. De Ciencia Centro Interpretativo Ecológico el Cielo
 8. Arqueológico Adela Pita
 9. Regional de Antropología e Historia de Álamo

SITIO ARQUEOLÓGICO

1. Wajo Padilla
2. Balcón de Montezuma
3. Los Jarambas
4. Cuztillo

SITIO HISTÓRICO

1. Parroquia de Nuestra Señora de Loreto
2. Escuela Primaria Apolonio Falcón y Guerra
3. Catedral del Sagrado Corazón de Jesús
4. Presidencia Municipal de Ciudad Victoria
5. Ex-Hacienda La Sautaña
6. Casa Cross

NATURALEZA

- 🌿 ÁREA NATURAL PROTEGIDA

HIDROGRAFÍA

- 🌊 Laguna o Presa
- 🌊 Río perenne

PRINCIPAL ELEVACIÓN

- 🏔 Cerro

CENOTE

1. Poza Aldama
2. El Zacatón
3. Poza Verde

CAÑÓN

- 🏞 Cañón el Novillo

ECOSISTEMA

- 🌿 Manglar
- 🌳 Bosque templado
- 🌳 Matorral
- 🌳 Selva seca

FAUNA

- 🐊 Vibora de cascabel
- 🐆 Jaguarundi
- 🦎 Cocodrillo
- 🦢 Zorillo espaldita blanca
- 🐇 Tuzo
- 🦉 Lagartija comida terana
- 🐇 Venado cola blanca

TURISMO

- PUNTO TURÍSTICO**
1. Centro Cultural Tamaulipas
 2. Parque Tamaulipas Siglo XIX
 3. Zoológico Tamatán
 4. Parque Paseo Mández
 5. Parque Laguna del Carpintero
 6. Laguna la Yaga Escondida
 7. Parque la Casa de la Naturaleza
 8. Playa Miramar
 9. Parque Laguna de Champayán
 10. Paraiso de la Pampa
 11. De Hacienda la Mesa
 12. Santuario Virgen del Contadero
 13. Santuario al Chorro
 14. Playa Barra del Tordo
 15. Playa Tazono
 16. Playa de Tepahuajes
 17. Playa la Pasca
 18. Playa Carbonera
 19. Playa Bayadita
 20. Playa el Mezquital

TURISMO DEPORTIVO

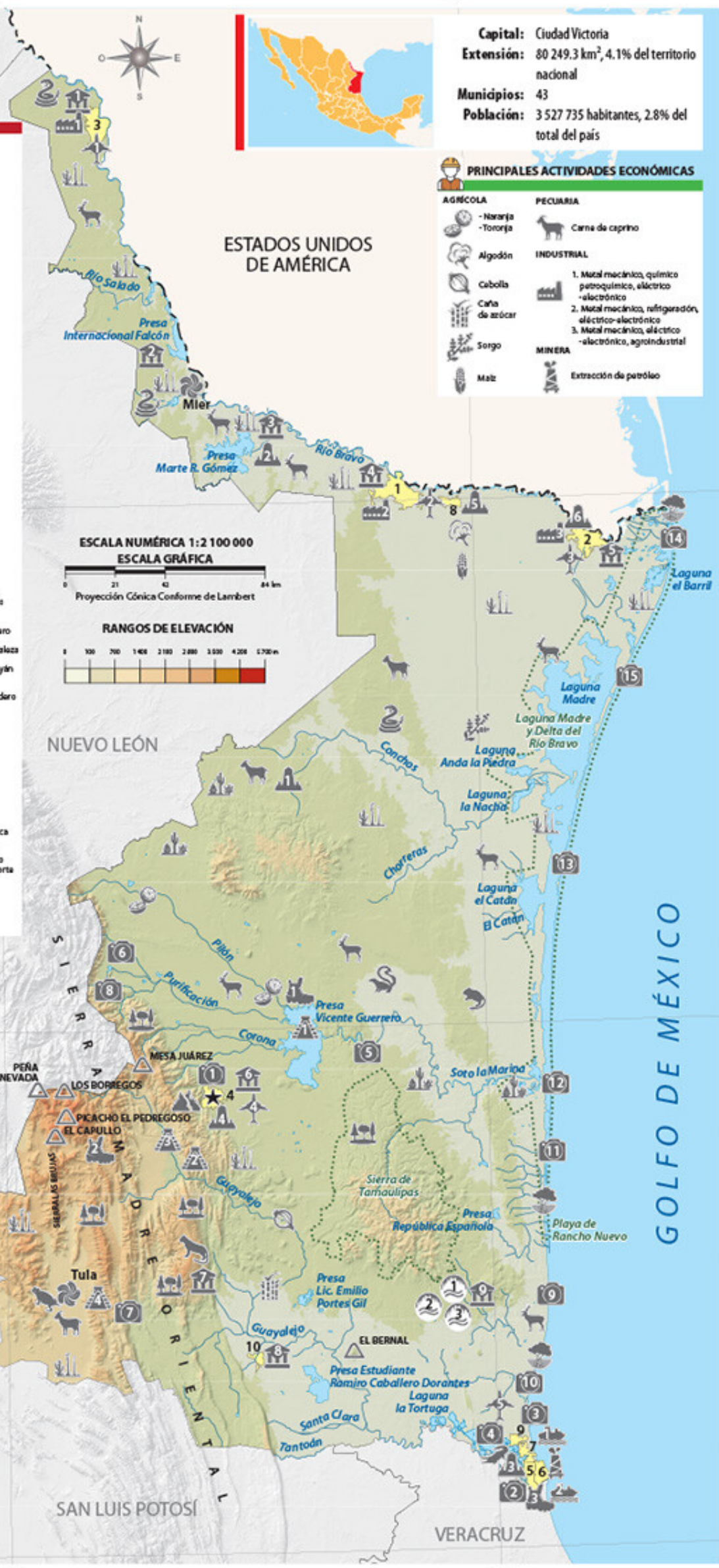
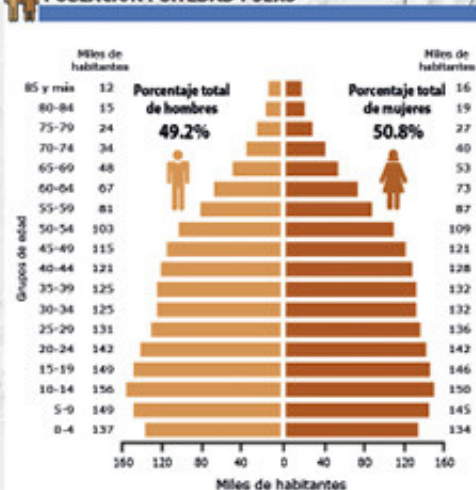
1. Presa Vicente Guerrero, pesca
2. Cabañas en Miquihuana, deporte terrestre
3. Parque Recreativo Ecológico Fray Andrés de Olmos, deportes terrestres

PUEBLO MÁGICO

LOCALIDADES MÁS POBLADAS

1. Reynosa
2. Heroica Matamoros
3. Nuevo Laredo
4. Ciudad Victoria
5. Tampico
6. Ciudad Madero
7. Miramar
8. Ciudad Río Bravo
9. Altamira
10. Ciudad Mante

POBLACIÓN POR EDAD Y SEXO



PRINCIPALES ACTIVIDADES ECONÓMICAS

- | AGRÍCOLA | PECUARIA | INDUSTRIAL | MINERA |
|----------------|------------------|---|------------------------|
| - Naranja | Carne de caprino | 1. Metal mecánico, químico petroquímico, eléctrico -electrónico | |
| - Toronja | | 2. Metal mecánico, refrigeración, eléctrico-electrónico | |
| Algodón | | 3. Metal mecánico, eléctrico -electrónico, agroindustrial | |
| Cebolla | | | Extracción de petróleo |
| Caña de azúcar | | | |
| Sorgo | | | |
| Maíz | | | |

Tlaxcala

ESTADO DE MEXICO


HIDALGO

PUEBLA



Capital: Tlaxcala de Xicotencatl
Extensión: 3 996.6 km², 0.2% del territorio nacional
Población: 1 342 977 habitantes, 1.1% del total del país

RANGOS DE ELECCIÓN

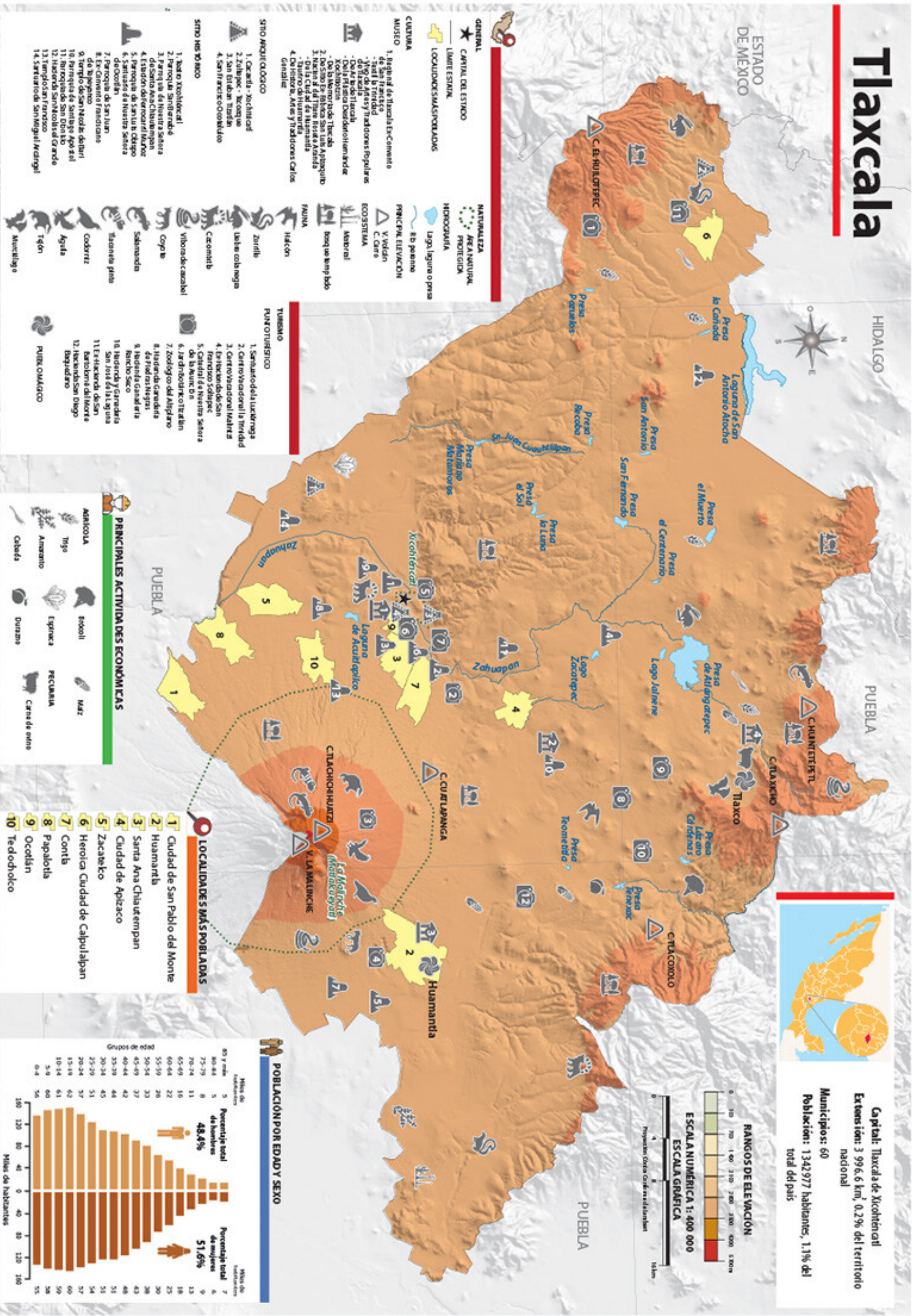


ESCALA NUMÉRICA 1: 400 000

ESCALA GRÁFICA

Proyección: Gauss Conformal Transversa

15 km



GENERAL
 CAPITAL DEL ESTADO

LÍMITE ESTADAL

LOCALIDADES MÁS PoblADAS

CULTURA

MUSEO

SITIO ARQUEOLÓGICO

SITIO HISTÓRICO

MATERIAL NATURAL
 RESERVA NATURAL
 PROTEGIDA

HIDROGRAFÍA

PRINCIPAL ELECCIÓN

ECOSISTEMA

FAUNA

FLORA

TUPELLO PUNTO HISTÓRICO

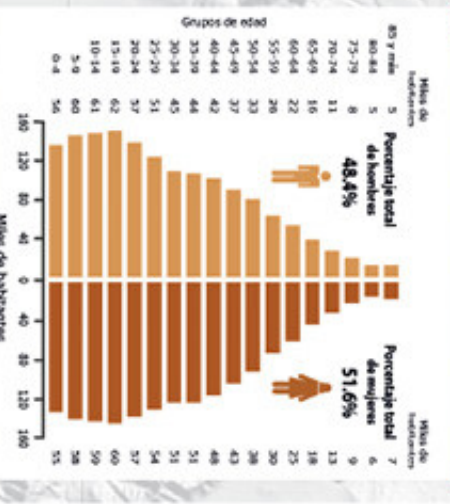
- 1. Ocaltla - Xochitlactli**
 2. Zahuapc - Xochitlactli
 3. San Esteban Tlaxcala
 4. San Francisco Coahuatli
- 1. Región de la Tlaxcala Escavamento**
 2. San Esteban Tlaxcala
 3. De la Trinidad
 4. Yng de Anay Tradiciones Populares de Tlaxcala
 5. De la Trinidad
 6. De la Trinidad
 7. De la Trinidad
 8. De la Trinidad
 9. De la Trinidad
 10. De la Trinidad
 11. De la Trinidad
 12. De la Trinidad
 13. De la Trinidad
 14. De la Trinidad

- 1. San Mateo de la Lucha**
 2. Centro de la Trinidad
 3. Centro de la Trinidad
 4. Centro de la Trinidad
 5. Centro de la Trinidad
 6. Centro de la Trinidad
 7. Centro de la Trinidad
 8. Centro de la Trinidad
 9. Centro de la Trinidad
 10. Centro de la Trinidad
 11. Centro de la Trinidad
 12. Centro de la Trinidad
 13. Centro de la Trinidad
 14. Centro de la Trinidad

- 1. Tlaxcala**
 2. Tlaxcala
 3. Tlaxcala
 4. Tlaxcala
 5. Tlaxcala
 6. Tlaxcala
 7. Tlaxcala
 8. Tlaxcala
 9. Tlaxcala
 10. Tlaxcala
 11. Tlaxcala
 12. Tlaxcala
 13. Tlaxcala
 14. Tlaxcala

- 1. Ciudad de San Pablo del Monte**
 2. Huamantla
 3. Santa Ana Chiautempan
 4. Ciudad de Apizaco
 5. Zacateco
 6. Heroica Ciudad de Calpulalpan
 7. Contla
 8. Papalotla
 9. Ocoatlán
 10. Tlaxiaco

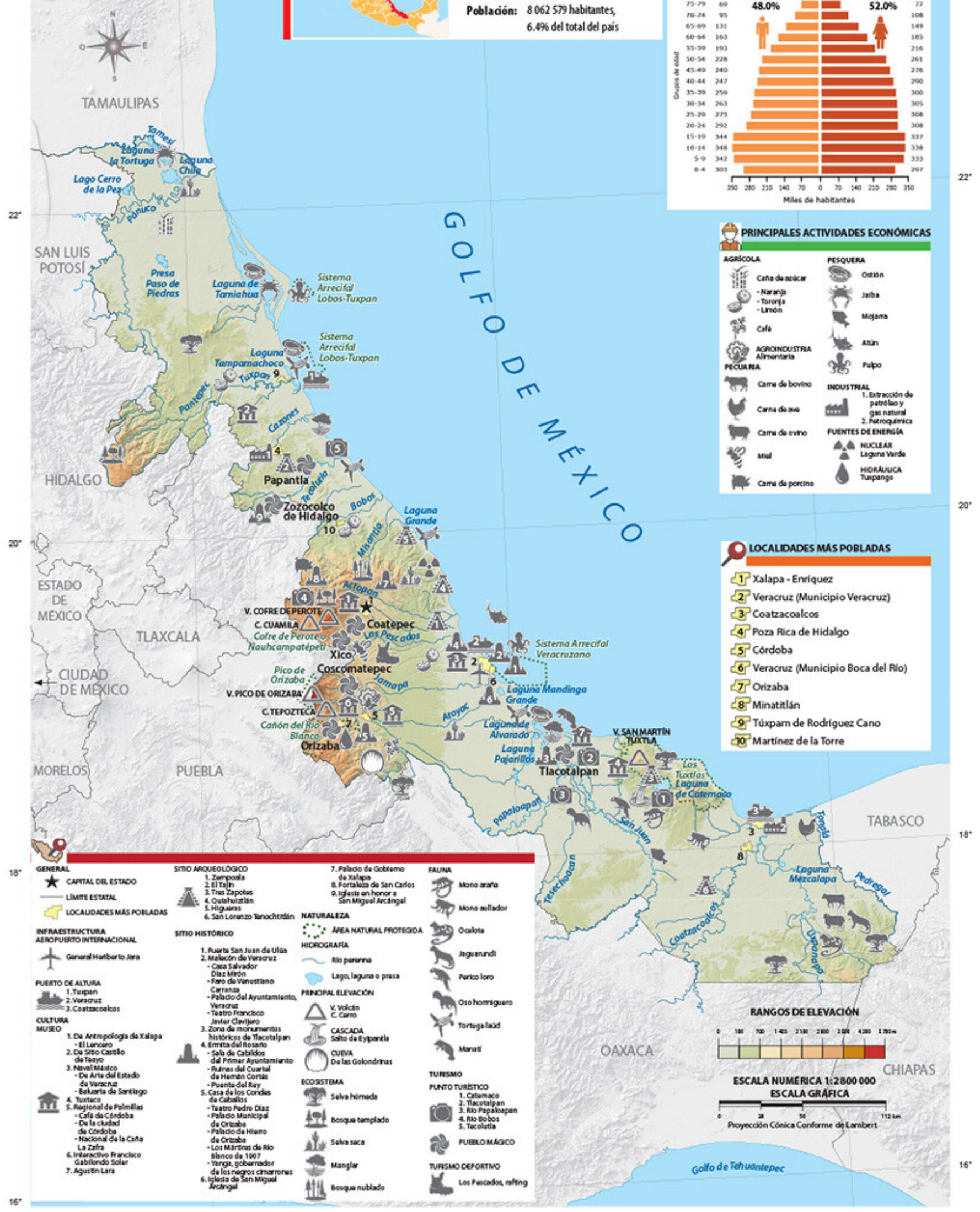
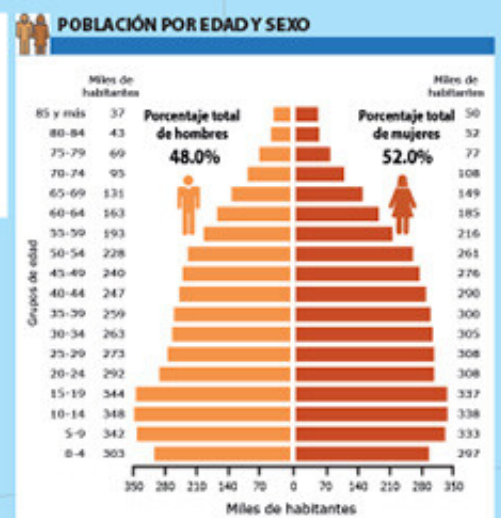
POBLACION POR EDAD Y SEXO



Veracruz



Capital: Xalapa - Enríquez
Extensión: 71 823.5 km²
 3.7% del territorio nacional
Municipios: 212
Población: 8 062 579 habitantes,
 6.4% del total del país



GENERAL	SITIO ARQUEOLÓGICO	7. Palacio de Gobierno de Xalapa	FAUNA
★ CAPITAL DEL ESTADO	1. Zempoala	8. Fortaleza de San Carlos	Mono araña
— LÍMITE ESTATAL	2. El Tajín	9. Iglesia en honor a San Miguel Arcángel	Mono aullador
📍 LOCALIDADES MÁS POBLADAS	3. Tres Zapotas		Ocelote
INFRAESTRUCTURA	4. Quilixtatlán		Jaguarundi
✈️ AEROPUERTO INTERNACIONAL	5. Higuastlán		Perico loro
General Heriberto Jara	6. San Lorenzo Tenochtitlán		Oso hormiguero
PUERTO DE ALTURA			Tortuga león
1. Tuxpam			Manatí
2. Veracruz			
3. Coatzacoalcos			
CULTURA			
MUSEO			
1. De Antropología de Xalapa			
- El Lencero			
2. De Sitio Castillo de Teayo			
3. Nivel Místico			
- De Arte del Estado de Veracruz			
- Balcón de Santiago			
4. Tuxtla			
5. Regional de Palmillas			
- Café de Córdoba			
- De la ciudad de Córdoba			
- Nacional de la Caña La Zafra			
6. Interactivo Francisco Gabilondo Solar			
7. Agustín Lara			

RANGOS DE ELEVACIÓN

ESCALA NUMÉRICA 1:2 800 000
 ESCALA GRÁFICA

Proyección Cónica Conforme de Lambert

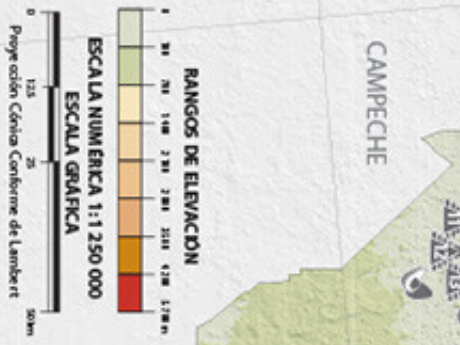
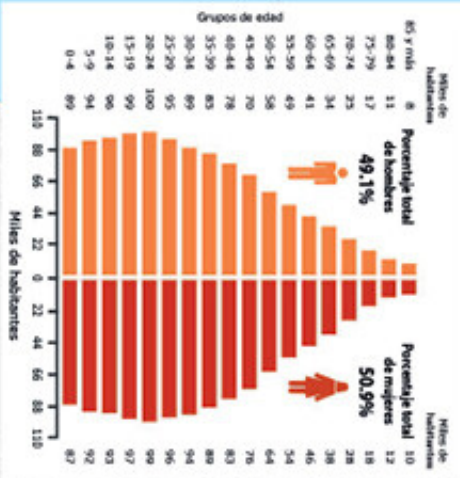
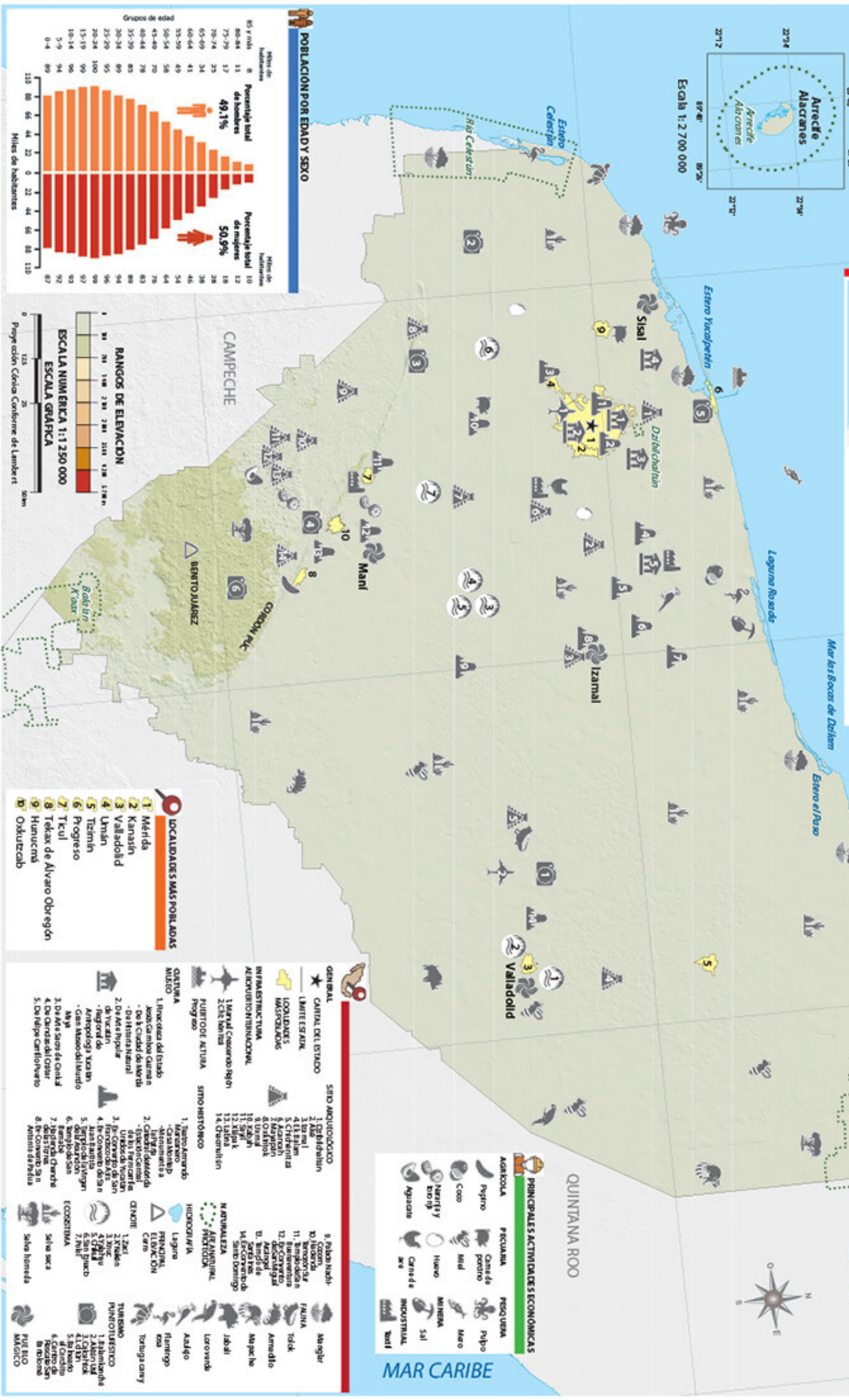
Yucatán



Capital: Mérida
 Extensión: 39 524,4 km², 2,0% del territorio nacional
 Municipios: 106
 Población: 2 320 898 habitantes, 1,8% del total del país

GOLFO DE MÉXICO

Playa aoyáccena a la boca del río
 denominado Río Lagartos
 Estero Flamangos



- ### LOCALIDADES MÁS POBLADAS
- Mérida
 - Kanashín
 - Valladolid
 - Uxmal
 - Progreso
 - Tizimin
 - Tekax de Alvaro Obregón
 - Hunucmá
 - Oxutzucab

- ### PRINCIPALES ACTIVIDADES ECONÓMICAS
- | AGRICULTURA | PECUARIO | PECUARIA | PECUARIA |
|-------------|-----------------|-----------------|-----------------|
| Maíz | Carne de puerco | Carne de puerco | Carne de puerco |
| Frutas | Leche | Leche | Leche |
| ... | ... | ... | ... |
- ### GENERAL
- CONTROL DEL ESTADO
 - FRONTERA
 - ...
- ### SERVO
- 1. Debidabilin
 - 2. Ape
 - ...
- ### INDUSTRIAL
- 1. Sal
 - 2. Cemento
 - ...

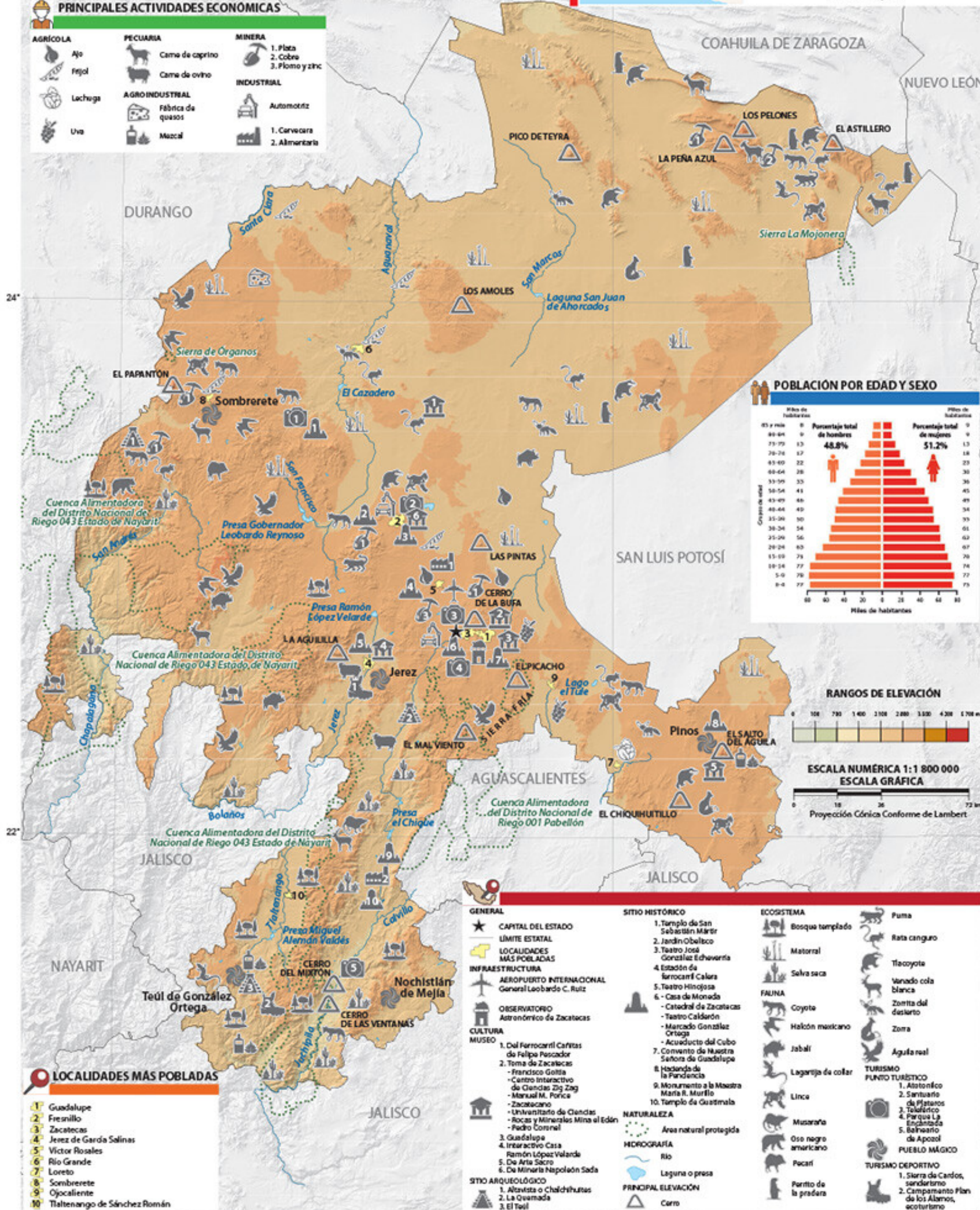
Zacatecas



Capital: Zacatecas
Extensión: 75 275.3 km², 3.8% del territorio nacional
Municipios: 58
Población: 1 622 138 habitantes, 1.3% del total del país

PRINCIPALES ACTIVIDADES ECONÓMICAS

AGRÍCOLA	PECUARIA	MINERA
Ajo	Carne de caprino	1. Plata
Fejol	Carne de ovino	2. Cobre
Lecuga		3. Plomo y zinc
Uva	AGROINDUSTRIAL	INDUSTRIAL
	Fábrica de quesos	Automotriz
	Mazcal	1. Carneera
		2. Alimentaria



LOCALIDADES MÁS POBLADAS

1. Guadalupe
2. Fresnillo
3. Zacatecas
4. Jerez de García Salinas
5. Víctor Rosales
6. Río Grande
7. Loreto
8. Sombrerete
9. Ojocaliente
10. Tlaltenango de Sánchez Román

GENERAL

- ★ CAPITAL DEL ESTADO
- LÍMITE ESTATAL
- LOCALIDADES MÁS POBLADAS
- ✈ INFRAESTRUCTURA
 - AEROPUERTO INTERNACIONAL General Leobardo C. Ruiz
- 🏠 OBSERVATORIO Astronómico de Zacatecas
- MUSEO
 - 1. Del Ferrocarril Caritas de Felipe Pescador
 - 2. Toma de Zacatecas - Francisco Goltz
 - 3. Centro interactivo de Ciudades Zig Zag - Manuel M. Porfirio
 - 4. Interactivo Casa Ramón López Velarde
 - 5. De Arte Sacro
 - 6. De Minería Napoleón Sada
- SITIO ARQUEOLÓGICO
 - 1. Altavista o Chalchihuitas
 - 2. La Quemada
 - 3. El Teúl

SITIO HISTÓRICO

1. Templo de San Sebastián Mártir
2. Jardín Obelisco
3. Teatro José González Echaverría
4. Estación de ferrocarril Calera
5. Teatro Hinojosa
6. Casa de Monada
7. Catedral de Zacatecas
8. Teatro Calderón
9. Mercado González Ortega
10. Acueducto del Cubo
11. Convento de Nuestra Señora de Guadalupe
12. Hacienda de la Purísima
13. Monumento a la Maestra María R. Murillo
14. Templo de Guadalupe
15. Templo de Guadalupe

ECOSISTEMA

- Bosque templado
- Matorral
- Selva seca
- FAUNA
 - Coyote
 - Halcón mexicano
 - Jabali
 - Lagartija de collar
 - Lince
 - Musaraña
 - Oso negro americano
 - Pecari
 - Perfido de la pradera

FAUNA

- Puma
- Rata canguro
- Tlacoyote
- Variado cola blanca
- Zorra del desierto
- Zorra
- Águila real
- TURISMO PUNTO TURÍSTICO
 - 1. Astrotónico
 - 2. Santuario de jesuitas de Píscaros
 - 3. Teolábico
 - 4. Parque La Encantada
 - 5. Balneario de Apozol
- PUEBLO MÁGICO
 - 1. Sierra de Cardón, senderismo
 - 2. Campamento Plan de los Álamos, ecoturismo

Créditos iconográficos

pp. 8-9: cascada, México, © CSP_kamchatka/Fotosearch LBRF/Photo Stock; p. 22: (de arr. a ab.) *Coleonyx variegatus ssp. Utahensis*, fotografía de John Sullivan, bajo licencia CC BY-NC 4.0; tigrillo, Quintana Roo, México, © Carlos Javier Navarro Serment/Banco de imágenes Conabio; palma de Todos Santos, Valle de México, fotografía de Jorge Escutia, bajo licencia CC BY 4.0; rana de árbol plegada, fotografía de Mario Castañeda Sánchez, bajo licencia CC BY-NC 4.0; carpintero bellotero, Nuevo León, México, © Carlos Javier Navarro Serment/Banco de imágenes Conabio; paisaje de montaña sostenido por una mano, © Orla/otosearch LBRF/Photo Stock; manglar, Tabasco, México, © Felipe Bonilla Aguilar/Banco de imágenes Conabio; barril de oro, fotografía de naturelover99, bajo licencia CC BY-NC 4.0; ajolote de Xochimilco, Ciudad de México, © Raúl Iván Martínez Becerri/Banco de imágenes Conabio; ballena jorobada, Pixabay 3702685; ocelote, Freepng.es; quetzal mesoamericano, fotografía de Sean Blaney, bajo licencia CC BY-NC 4.0; berrendo, Baja California, México, © Alejandro Boneta/Banco de imágenes Conabio; vaquita marina, © Marco Antonio Pineda Maldonado/Banco de imágenes Conabio; mono araña, fotografía de pfaucher, bajo licencia CC BY-NC 4.0; zorra gris, fotografía de Tom, bajo licencia CC BY-NC-ND 2.0; águila real, fotografía de ungerlord, bajo licencia CC BY-NC 4.0; mariposa monarca, Freepng.es; oso negro, Nuevo León, México, © Carlos Javier Navarro Serment/Banco de imágenes Conabio; leopardo, Freepng.es; lobo mexicano, Pixabay 62894; maíz, Pixabay 43312; pp. 24-25: Casa de los azulejos, © Toño Labra/agefotostock/Photo Stock; p. 33: (de arr. ab. de izq. a der.) niños choles, fotografía de Raúl Barajas/Archivo iconográfico DGME-SEB-SEP; capacitación, INEA, en <https://bit.ly/2kcv2c6> (Consultado el 2 de septiembre de 2019); familia triqui, fotografía de Raúl Barajas/Archivo iconográfico DGME-SEB-SEP; alfabetización, Archivo General de la Nación; p. 37: (de arr. ab. de izq. a der.) niño con rinitis, © AURENT/PASCAL/BSIP/Photo Stock; niño con dolor de estómago, © Wavebreak Media/WavebreakMedia/Photo Stock; mujer con dolor, © SPL/Science Photo Library RF/Photo Stock; úlcera péptica, © CSP_alila/Fotosearch LBRF/Photo Stock; cuidado dental, © TIROT/BSIP/Photo Stock; revisión médica, Freepik 21279; revisión de oídos, nariz y garganta, © LA/COULOM.YVON/BSIP/Photo Stock; mujer con epiescleritis, © SCIENCE PHOTO LIBRARY/Science Photo Library/Photo Stock; niño asmático con su inhalador, © SPL/Science Photo Library/Photo Stock; alacrán, fotografía de Jay Keller, bajo licencia CC BY 4.0; niña con dolor de estómago, © Alexandra89/Fotosearch LBRF/Photo Stock; p. 39: (de arr. ab. de izq. a der.) célula cancerosa, KATERYNA KON/SPL/Science Photo Library RF/Photo Stock; toma de glucosa, Pixabay 777002; infarto de miocardio, © MARIE SCHMITT/BSIP/Photo Stock; doctora tomando muestras de sangre, © Andriy Popov/Panther Media/Photo Stock; servicios de emergencia, © Martin Schutt/dpa-Zentralbild/dpa Picture-Alliance/Photo Stock; violencia, Pixabay 316605; p. 46-47: Terminal Especializada de Contenedores I, Puerto de Manzanillo, Colima, SSA México, S.A. de C.V.; p. 57: (de izq. a der.) presa Rodrigo Gómez La Boca, Coahuila; parque eólico, Pixabay 3704939; planta geotérmica Los Azufres, Michoacán, CFE; panel solar, Pixabay 2742302; vista aérea de la planta de energía nuclear Laguna Verde, Veracruz, © SCIENCE PHOTO LIBRARY/Science Photo Library/Photo Stock; motor de cogeneración del generador eléctrico, © Javier Larrea/agefotostock/Photo Stock; producción de biogas, frutos recolectados para generar bioenergía, fotografía de Juan Carlos Huayllapuma/CIFOR, bajo licencia CC BY-NC-ND 2.0; pp. 70-71: Banco Oriental Mexicano, exterior, © 81589, Secretaría de Cultura. INAH. Sinafo.FN.México; p. 74: *Mapa de los Estados Unidos de Méjico, según lo organizado y definido por las varias actas del congreso de dicha república y construido por las mejores autoridades*, 1828, White Gallaher y White, litografía, 79 × 110 cm, Colección Orozco y Berra, no. clasificador 1050-OyB-0-A, Mapoteca "Manuel Orozco y Berra" del Servicio de Información Agroalimentaria y Pesquera; p. 75: *Cartas histórico-geográficas mexicanas la invasión norteamericana*, 1846-1848, Lic. Victoriano Pimentel, litografía a color, 74 × 98 cm, Colección general, no. clasificador 7734 -CGE-7216-A, Mapoteca "Manuel Orozco y Berra" del Servicio de Información Agroalimentaria y Pesquera; p. 79: (de arr. ab. de izq. a der.) henequén, Secretaría de Fomento Turístico de Yucatán; encuestador, INEGI; *Codice Vergara*, p. 5, bajo licencias CC0; *Trajes mexicanos = trajes mexicanos = vestidos mexicanos*, 1869, C. Castro y J. Campillo, División de In-

vestigación General, Biblioteca Pública de Nueva York. Recuperado de <http://digitalcollections.nyu.org/items/510d47e2-16b7-a3d9-e040-e00a18064a99>; familia indígena, ca. 1910, Colima, México, © 465387, Secretaría de Cultura. INAH. Sinafo.FN.México; *México, vista a través del arco de la Catedral Metropolitana en la Ciudad de México*, ca. 1937-1969, Eugene V. Harris (1913-1978), Colección Edna Schaus Sorensen y Clarence W. Sorensen, Biblioteca de la American Geographical Society, Bibliotecas de la Universidad de Wisconsin-Milwaukee, ID digital sr013017; edificio, INEGI; encuestadora, INEGI; pp. 80-81: X. Carta Histórica y Arqueológica, en Antonio García Cubas (1832-1912). *Atlas Mexicano, Geográfico y Estadístico. Atlas Pintoresco é Histórico de los E. U. Mexicanos*, 31 cartas con sus correspondientes textos, publicado por Debray sucesores, México, 1885, Biblioteca del Congreso de Estados Unidos; p. 90: (de arr. ab. de izq. a der.) gallina, © Danylo Honchar/Dreamstime.com; mole poblano, © Carver Mostardi/agefotostock/Photo Stock; carne asada, © CSP_tacar/Fotosearch LBRF/Photo Stock; vaca y borrego, © Danylo Honchar/Dreamstime.com; chivo, Freepic.com; barbacoa, fotografía de Elton Rodriguez, bajo licencia CC BY-SA 3.0; machaca, © Zoonar/MYCHKO/ZOONAR GMBH LBRF/Photo Stock; cerdo, © Danylo Honchar/Dreamstime.com; lechón asado, © fanfo/Fotosearch LBRF/Photo Stock; pozole rojo, Michoacán, fotografía de Pablo Morales/Secretaría de Turismo de Michoacán; tacos de cochinita pibil, © Monteros, Hugo/FoodCollection; camarón, pescado y cangrejo, © Marina Vorontsova/Dreamstime.com; pescado con aceitunas y pimienta, © Brauner, Michael/ StockFood/Photo Stock; tacos de pescado, © Avalos Flores, Maricruz/ FoodCollection/Photo Stock; chapulín y gusano de maguey, © Artur Balytskyi/Dreamstime.com; tacos de chnicuiles, Hidalgo, México, © Iván Montes de Oca Cacheux/Banco de imágenes Conabio; tostadas de ceviche, © CSP_pklick360/Fotosearch LBRF/Photo Stock; taco de chapulines, © Shakzu/ Fotosearch LBRF/Photo Stock; maíz, Pixabay 3740970; chiles, Pixabay 2556873; frijol negro, Pixabay 799942; p. 91: (de arr. ab. de izq. a der.) alfarero modelando un jarrón, © valeniker/Fotosearch LBRF/Photo Stock; dispensador de cerámica, Guanajuato, cortesía Tekiti; plato de cerámica, Guanajuato, © William Perry/DanitaDelimont.com/Danita Delimont Agency/Photo Stock; calavera de barro negro, Oaxaca, Irene León Coxtinica, fotografía de Emmanuel Adamez Téllez/Archivo iconográfico DGME-SEB-SEP; tejedora de hamaca, Muyil, Quintana Roo, © Christian Dreckmann/Banco de imágenes Conabio; vestido de tela, Chiapas, © TONO BALAGUER/YAY Micro/Photo Stock; mono de lana, Chiapas; morral de telar, Santa María del Tule, Oaxaca, Irene León Coxtinica, fotografía de Emmanuel Adamez Téllez/Archivo iconográfico DGME-SEB-SEP; artesano, Tlaquepaque, Jalisco, PROMOTUR; máscara para Carnaval, San Pablo Tepetitla, Tlaxcala, © Adalberto Ríos Szalay/Banco de imágenes Conabio; lobo de madera, Felipe Carrillo Puerto, Quintana Roo; caja de Olinolá, Guerrero, Irene León Coxtinica, fotografía de Emmanuel Adamez Téllez/Archivo iconográfico DGME-SEB-SEP; artesano, © Guenter Fischer/imageBROKER/imageBROKER RF/Photo Stock; cartas de lotería en lámina, Oaxaca; corazones de lámina, Estado de México, Irene León Coxtinica, fotografía de Emmanuel Adamez Téllez/Archivo iconográfico DGME-SEB-SEP; farol de metal, Pixabay 3204675; artesano de joyería, © Ton Koene/agefotostock/Photo Stock; aretes de plata, caballero águila, chimalli, Taxco de Alarcón, Guerrero, Irene León Coxtinica, fotografía de Emmanuel Adamez Téllez/Archivo iconográfico DGME-SEB-SEP; artesano, Siltepec, Chiapas, © Alfredo Lara Espino/Banco de imágenes Conabio; bolsa de palma, Hidalgo; cestería, Creel, Chihuahua, Irene León Coxtinica, fotografía de Emmanuel Adamez Téllez/Archivo iconográfico DGME-SEB-SEP; artesana, Guerrero, © giovanni mereghetti/Marka/Photo Stock; piñata, © Memo Garcia VWPics/agefotostock/Photo Stock; amate y diablito, Guanajuato, Irene León Coxtinica, fotografía de Emmanuel Adamez Téllez/Archivo iconográfico DGME-SEB-SEP; peletero, Mazatlán, Sinaloa, © SuperStock/Super Stock/Photo Stock; silla de montar, © Ute Nast-Linke/Panther Media/Photo Stock; morralito, Coahuila, Irene León Coxtinica, fotografía de Emmanuel Adamez Téllez/Archivo iconográfico DGME-SEB-SEP; morral, Tamaulipas, fotografía de Emmanuel Adamez Téllez/Archivo iconográfico DGME-SEB-SEP; pp. 92-93: *Mapa de las artes populares de México*, 1929, Roberto Montenegro (1887-1968), biombo de seis paneles, óleo sobre lienzo, 200 × 50 × 2 cm, © 2019 Christie's Images Limited.

Atlas de México. Cuarto grado
se imprimió por encargo de la
Comisión Nacional de Libros de Texto Gratuitos,
en los talleres de
con domicilio en:

en el mes de de 2021
El tiraje fue de ejemplares.



Distribución gratuita
Prohibida su venta



El tractor, 1928
Diego Rivera (1886-1957)
Fresco, 4.34 × 1.89 m
Patio de las Fiestas, segundo nivel
Secretaría de Educación Pública



EDUCACIÓN
SECRETARÍA DE EDUCACIÓN PÚBLICA



9 786075 513140